

1º ANO – SEMANA DE 18/10/2021 A 22/10/2021

Escola: EMEB JOSIAS DA SILVA MACEDO

Professor (a): BRUNA, DAMARES E ALEXSANDRA

Ano/turma: 1º A, 1º B E 1º C

DIA DA SEMANA	ROTINA DIÁRIA: DESCRIÇÃO DAS ATIVIDADES
SEGUNDA-FEIRA 18/10/2021	LEITURA: AMIGOS DA NOITE – COLLELEM DISPONÍVEL EM: O LIVRO SERÁ ENVIADO VIA WHATSAPP EM PDF. CABEÇALHO: FAZER DIARIAMENTE LÍNGUA PORTUGUESA: LEITURA E INTERPRETAÇÃO DE TEXTO MATEMÁTICA: INTERPRETAÇÃO DE TABELA E GRÁFICO
TERÇA-FEIRA 19/10/2021	LEITURA: A ÁGUA NOSSA DE CADA DIA – LUIZ CARLOS BAETA DISPONÍVEL EM: O LIVRO SERÁ ENVIADO VIA WHATSAPP EM PDF. CABEÇALHO: FAZER DIARIAMENTE LÍNGUA PORTUGUESA: ESCRITA DE PALAVRAS MATEMÁTICA: SEQUÊNCIA NUMÉRICA E ADIÇÃO
QUARTA-FEIRA 20/10/2021	LEITURA: A BISA FALA CADA COISA- MARILIA BRUNO DISPONÍVEL EM: O LIVRO SERÁ ENVIADO VIA WHATSAPP EM PDF. CABEÇALHO: FAZER DIARIAMENTE LÍNGUA PORTUGUESA: SÍLABAS FORMANDO PALAVRAS MATEMÁTICA: CÁLCULOS DE SUBTRAÇÃO
QUINTA-FEIRA 21/10/2021	LEITURA: A DESCOBERTA DO ADRIEL- MEL DUARTE DISPONÍVEL EM: O LIVRO SERÁ ENVIADO VIA WHATSAPP EM PDF. CABEÇALHO: FAZER DIARIAMENTE LÍNGUA PORTUGUESA: LEITURA E INTERPRETAÇÃO DE TEXTO GEOGRAFIA: LEITURA E INTERPRETAÇÃO (NORMAS DE CONVIVÊNCIA) Artes: https://portaleducacao.hortolandia.sp.gov.br/index.php/artes
SEXTA-FEIRA 22/10/2021	LEITURA: HISTORIA ENCANTADA- SYLVIA ORTHOF DISPONÍVEL EM: O LIVRO SERÁ ENVIADO VIA WHATSAPP EM PDF. CABEÇALHO: FAZER DIARIAMENTE LÍNGUA PORTUGUESA: LEITURA E INTERPRETAÇÃO DE TEXTO CIÊNCIAS: DATAS COMEMORATIVAS EDUCAÇÃO FÍSICA: https://portaleducacao.hortolandia.sp.gov.br/index.php/ed-fisica INGLÊS: https://portaleducacao.hortolandia.sp.gov.br/index.php/ingles

ATIVIDADE DO DIA: 18 – SEGUNDA- FEIRA

EMEB JOSIAS DA SILVA MACEDO.
HORTOLÂNDIA, _____ DE OUTUBRO DE 2021.
HOJE É _____ (ex. segunda-feira)
NOME COMPLETO:
A-B-C-D-E-F-G-H-I-J-K-L-M-N-O-P-Q-R-S-T-U-V-W-X-Y-Z

PORTUGUÊS:

LEITURA DE TEXTO: RIMAS

O GULOSO

CARLINHOS OUVIU DIZER
QUE PARA FICAR FORÇUDO
DEVIA COMER
E SEMPRE COMER TUDO.

LOGO O MENINO, COITADO!
PARA A DESPENSA CORREU;
MUITA FARINHA E MELADO
NUM PRATO FUNDO COMEU...

E TAMBÉM UM QUEIJO INTEIRO!
ATÉ DAR FADIGA,
PULOU COM DOR DE BARRIGA.



Vicente Guimarães, Anel de vidro, Ed. Americana

ESTUDO DO TEXTO:

1. QUEM É O PRINCIPAL PERSONAGEM DO TEXTO?

2. SERÁ QUE É SAUDÁVEL COMER ATÉ FICAR COM DOR DE BARRIGA?

3. QUAIS PALAVRAS NO TEXTO RIMAM?



4. PINTE AS PALAVRAS QUE RIMAM NO TEXTO DE VICENTE GUIMARÃES.

5- ESCREVA NO CADERNO OS SIGNIFICADOS DAS PALAVRAS FORÇUDO, DESPENSA E FADIGA.

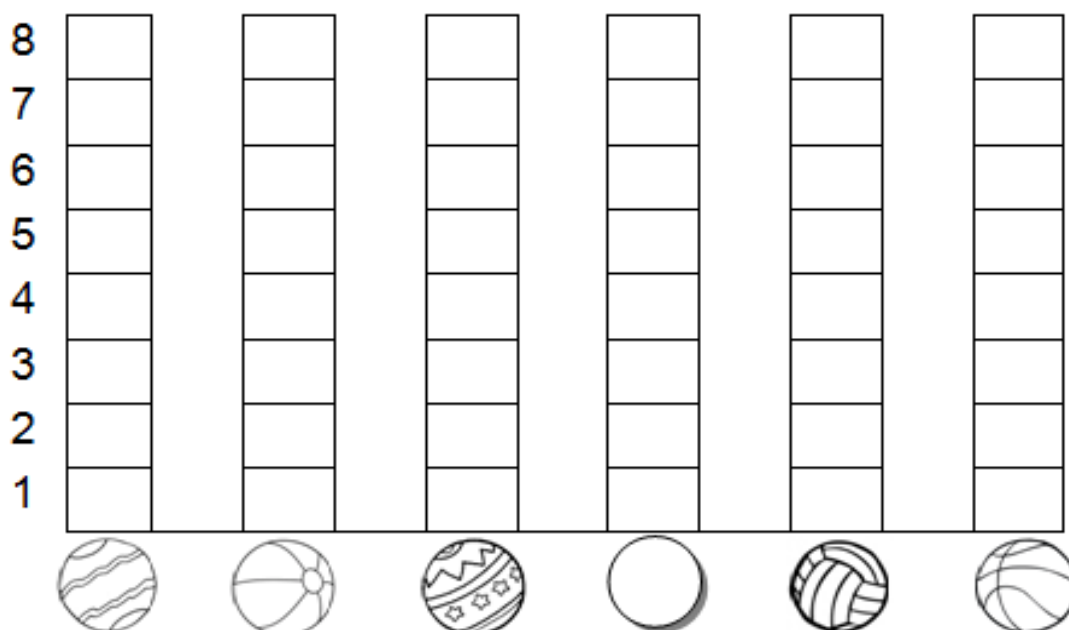
MATEMÁTICA:

BRINCADEIRA: ACERTE A BOLA NA CESTA

- DESCUBRA QUANTAS BOLAS, CADA CRIANÇA ACERTOU NA CESTA:

CRIANÇAS	QUANTIDADE DE BOLAS NA CESTA	NÚMERO
CARLOS		
FELIPE		
PEDRO		
GIOVANI		
VÍTOR		
FÁBIO		

- AGORA, VOCÊ DEVERÁ COLORIR O GRÁFICO COM AS INFORMAÇÕES DA TABELA QUE VOCÊ ACABOU DE COMPLETAR:



ATIVIDADE DO DIA: 19 TERÇA-FEIRA

EMEB JOSIAS DA SILVA MACEDO.
HORTOLÂNDIA, _____ DE OUTUBRO DE 2021.
HOJE É _____ (ex. terça-feira)
NOME COMPLETO:
A-B-C-D-E-F-G-H-I-J-K-L-M-N-O-P-Q-R-S-T-U-V-W-X-Y-Z

PORTUGUÊS:

SEQUÊNCIA ALFABÉTICA

A B C D E F G H I J K L M N O P Q R S T U V W X Y Z

1- OBSERVE OS DESENHOS E ESCREVA O NOME DE CADA UM, SEGUINDO A ORDEM ALFABÉTICA.



1- _____	6- _____	11- _____
2- _____	7- _____	12- _____
3- _____	8- _____	13- _____
4- _____	9- _____	14- _____
5- _____	10- _____	15- _____

MATEMÁTICA:

CONTINUE A SEQUÊNCIA NUMÉRICA DE 1 ATÉ 50.

<http://profvaldetecantu.blogspot.com.br/>

SOMANDO COM AS PEÇAS DO DOMINÓ

	$4 + 6 = 10$
	$\square + \square = \square$
	$\square + \square = \square$
	$\square + \square = \square$
	$\square + \square = \square$
	$\square + \square = \square$
	$\square + \square = \square$
	$\square + \square = \square$

ATIVIDADE DO DIA: 20- QUARTA- FEIRA

EMEB JOSIAS DA SILVA MACEDO.
HORTOLÂNDIA, _____ DE OUTUBRO DE 2021.
HOJE É _____ (ex. quarta-feira)
NOME COMPLETO:
A-B-C-D-E-F-G-H-I-J-K-L-M-N-O-P-Q-R-S-T-U-V-W-X-Y-Z

PORTUGUÊS:

PINTE AS SÍLABAS QUE FORMAM O NOME DAS FIGURAS.



DU	BO	RI	LO	JA	RE
----	----	----	----	----	----



A	NO	PON	TA	NE	DOR
---	----	-----	----	----	-----



RU	PA	DA	MI	FA	DO
----	----	----	----	----	----



FA	A	NO	RA	JU	RA
----	---	----	----	----	----



SOR	VE	DO	JA	TE	PI
-----	----	----	----	----	----



NU	CA	FO	BI	TA	DE
----	----	----	----	----	----



TU	BA	DO	CA	NO	PE
----	----	----	----	----	----



ME	DO	SA	GO	PO	LA
----	----	----	----	----	----



NU	CA	LE	VA	RA	LO
----	----	----	----	----	----



CE	FE	PA	MI	TO	NE
----	----	----	----	----	----



MU	LO	PA	TA	NE	LA
----	----	----	----	----	----



CO	RO	MA	LA	PO	BA
----	----	----	----	----	----

MATEMÁTICA:

RESOLVA COM ATENÇÃO:



$$\begin{array}{r} 4 \\ - 3 \\ \hline \end{array}$$

$$\begin{array}{r} 2 \\ - 2 \\ \hline \end{array}$$

$$\begin{array}{r} 5 \\ - 2 \\ \hline \end{array}$$

$$\begin{array}{r} 3 \\ - 3 \\ \hline \end{array}$$

$$\begin{array}{r} 5 \\ - 3 \\ \hline \end{array}$$

$$\begin{array}{r} 3 \\ - 2 \\ \hline \end{array}$$

$$\begin{array}{r} 4 \\ - 2 \\ \hline \end{array}$$

$$\begin{array}{r} 5 \\ - 1 \\ \hline \end{array}$$

$$\begin{array}{r} 4 \\ - 1 \\ \hline \end{array}$$

$$\begin{array}{r} 5 \\ - 5 \\ \hline \end{array}$$

$$\begin{array}{r} 5 \\ - 4 \\ \hline \end{array}$$



$$\begin{array}{r} 4 \\ - 4 \\ \hline \end{array}$$

ATIVIDADE DO DIA: 21- QUINTA- FEIRA

EMEB JOSIAS DA SILVA MACEDO.
HORTOLÂNDIA, _____ DE OUTUBRO DE 2021.
HOJE É _____ (ex. quinta-feira)
NOME COMPLETO:
A-B-C-D-E-F-G-H-I-J-K-L-M-N-O-P-Q-R-S-T-U-V-W-X-Y-Z

PORTUGUÊS:

1) LEIA O TEXTO E, DEPOIS, CIRCULE AS PALAVRAS QUE COMEÇAM COM A LETRA **B**.



ABÍLIO VIVE NO SÍTIO DAS BANANEIRAS.
ELE TEM UM BOI E UM CAVALO.
O BOI CHAMA-SE BONITO E O CAVALO, BACANA.
ABÍLIO MONTA SEU CAVALO BACANA, PEGA A RÉDEA E GALOPA:
— PACATÁ... PACATÁ... PACATÁ...
BONITO CORRE ATRÁS DOS DOIS, MAS NÃO OS PEGA.

Graça Boquet

2) ESCREVA, NO CADERNO, AS PALAVRAS QUE VOCÊ CIRCULOU NO TEXTO.

3) DÊ UM TÍTULO À HISTÓRIA.

4) FORME PALAVRAS COM AS SÍLABAS E ESCREVA-AS NO CADERNO.

BA	CA	BE	Ú
TA	TI	NE	BO
BI	NA	NI	LÃO
LA	DE	LO	DA



GEOGRAFIA:

SOMOS EDUCADOS PORQUE...

★ RESPEITAMOS AS PESSOAS EM QUALQUER LUGAR.

★ ESPERAMOS A NOSSA VEZ DE FALAR E BRINCAR.

★ SOMOS AMIGOS E COMPARTILHAMOS NOSSO SABER.

★ NOSSA SALA É LIMPA E ARRUMADA.

★ USAMOS AS PALAVRINHAS “OBRIGADA”, “COM LICENÇA” E “POR FAVOR.”

★ CUIDAMOS DO NOSSO MATERIAL ESCOLAR.

★ NO RECREIO BRINCAMOS SEM MAGOAR O COLEGA.

★ NA HORA LIVRE LEMOS UM LIVRO.

★ FAZEMOS NOSSAS TAREFINHAS.

★ FALAMOS BAIXINHO E PARTICIPAMOS NAS AULAS.

estudos-sociais-14.jpg (1307x1538) (atividadespedagogicas.net)

OBSERVE OS DESENHOS E PINTE SOMENTE AS BOAS AÇÕES



ATIVIDADE DO DIA: 22- SEXTA- FEIRA

EMEB JOSIAS DA SILVA MACEDO.
HORTOLÂNDIA, _____ DE OUTUBRO DE 2021.
HOJE É _____ (ex. sexta-feira)
NOME COMPLETO:

A-B-C-D-E-F-G-H-I-J-K-L-M-N-O-P-Q-R-S-T-U-V-W-X-Y-Z

PORTUGUÊS:

LEITURA E INTERPRETAÇÃO DE TEXTO:

A GIRAFINHA

OI GIRAFINHA
VOCÊ É TÃO BONITINHA
DE PESCOÇO COMPRIDO
E PELO DE MANCHINHAS.



KÁTIA TEIXEIRA

1. PINTE OS ESPAÇOS ENTRE AS PALAVRAS NO TEXTO.

2. QUANTAS PALAVRAS TEM NO TEXTO?

3. QUAL É O TÍTULO DO TEXTO?

4. COMO É O PESCOÇO DA GIRAFA?

5. RETIRE DO TEXTO AS PALAVRAS COM NH.

CIÊNCIAS:

DATAS COMEMORATIVAS



- 01 . Dia Internacional da Terceira Idade
- 04 · Dia Mundial dos Animais
- 04. Dia da Natureza
- 19. Dia do Atletismo
- 12 · Dia das Crianças
- 15. Dia do Professor
- 28 · Dia do Funcionário Público
- 29. Dia Nacional do Livro
- 31 · Halloween



[datas+comemorativas+Agosto+Ilustrada.jpg \(1131x1600\) \(bp.blogspot.com\)](https://www.bp.blogspot.com/p/datas-comemorativas+Agosto+Ilustrada.jpg)

1- QUANTAS DATAS COMEMORATIVAS TEMOS EM OUTUBRO?

2- QUAIS DATAS VOCÊ ACHA MAIS IMPORTANTE?

3- QUAL DATA COMEMORATIVA VOCÊ GOSTARIA DE CRIAR?

1º ANO – SEMANA DE 25/10/2021 A 29/10/2021

Escola: EMEB JOSIAS DA SILVA MACEDO

Professor (a): BRUNA, DAMARES E ALEXSANDRA

Ano/turma: 1º A, 1º B E 1º C

DIA DA SEMANA	ROTINA DIÁRIA: DESCRIÇÃO DAS ATIVIDADES
SEGUNDA-FEIRA 25/10/2021	LEITURA: A BRUXA BELEZA PURA – BEATRICE MUZO DISPONÍVEL EM: O LIVRO SERÁ ENVIADO VIA WHATSAPP EM PDF. CABEÇALHO: FAZER DIARIAMENTE LÍNGUA PORTUGUESA: LEITURA E INTERPRETAÇÃO DE TEXTO MATEMÁTICA: CÁLCULOS DE ADIÇÃO
TERÇA-FEIRA 26/10/2021	LEITURA: A BRUXA CARECA – MARIA PASCHOAL DISPONÍVEL EM: O LIVRO SERÁ ENVIADO VIA WHATSAPP EM PDF. CABEÇALHO: FAZER DIARIAMENTE LÍNGUA PORTUGUESA: LEITURA E INTERPRETAÇÃO E SEPARAÇÃO SILÁBICA MATEMÁTICA: CÁLCULOS DE ADIÇÃO
QUARTA-FEIRA 27/10/2021	LEITURA: A BRUXA E O CALDEIRÃO- JOSE LEON DISPONÍVEL EM: O LIVRO SERÁ ENVIADO VIA WHATSAPP EM PDF. CABEÇALHO: FAZER DIARIAMENTE LÍNGUA PORTUGUESA: SEGMENTAÇÃO DE FRASES MATEMÁTICA: SITUAÇÃO PROBLEMA
QUINTA-FEIRA 28/10/2021	LEITURA: A BRUXA QUE QUERIA SER FADA- ROBERTO KLOTZ DISPONÍVEL EM: O LIVRO SERÁ ENVIADO VIA WHATSAPP EM PDF. CABEÇALHO: FAZER DIARIAMENTE LÍNGUA PORTUGUESA: ESCRITA DE PALAVRAS EM ORDEM ALFABÉTICA MATEMÁTICA: SITUAÇÃO PROBLEMA HISTÓRIA: LEITURA E INTERPRETAÇÃO DE TEXTO (A FAMÍLIA) Artes: https://portaleducacao.hortolandia.sp.gov.br/index.php/artes
SEXTA-FEIRA 29/10/2021	FERIADO

ATIVIDADE DO DIA: 25- SEGUNDA- FEIRA

EMEB JOSIAS DA SILVA MACEDO.
HORTOLÂNDIA, _____ DE OUTUBRO DE 2021.
HOJE É _____ (ex. segunda-feira)
NOME COMPLETO:
A-B-C-D-E-F-G-H-I-J-K-L-M-N-O-P-Q-R-S-T-U-V-W-X-Y-Z

PORTUGUÊS

CIRCULE AS PALAVRAS CORRESPONDENTES AO DESENHO DO POEMA

O CALDEIRÃO DA BRUXA



GATO
SAPO
RATO



E O CORDÃO DO SAPATO



TUDO NA PANELA



PÓ DE CAFÉ

BOTÃO DE BONÉ

E UNHA DO DEDÃO DO PÉ

MEXE COM FÉ.



E JOGA TEMPERO NELA!



JOGA TEMPERO NELA!

JOGA TEMPERO NELA!



COMIDA DE BRUXA

É UM LUXO!

PARA O BRUXO...



[Slide1.PNG \(793x1122\) \(bp.blogspot.com\)](#)

AGORA ESCREVA EM ORDEM ALFABÉTICA NO CADERNO TODAS AS PALAVRAS CIRCULADAS NO POEMA

MATEMÁTICA:

RESOLVA AS ADIÇÕES:



$$\begin{array}{r} 4 \\ + 3 \\ \hline \end{array} \quad \begin{array}{r} 5 \\ + 1 \\ \hline \end{array}$$

$$\begin{array}{r} 6 \\ + 3 \\ \hline \end{array} \quad \begin{array}{r} 7 \\ + 2 \\ \hline \end{array} \quad \begin{array}{r} 3 \\ + 3 \\ \hline \end{array} \quad \begin{array}{r} 1 \\ + 9 \\ \hline \end{array} \quad \begin{array}{r} 8 \\ + 2 \\ \hline \end{array}$$

$$\begin{array}{r} 4 \\ + 5 \\ \hline \end{array} \quad \begin{array}{r} 2 \\ + 5 \\ \hline \end{array} \quad \begin{array}{r} 1 \\ + 7 \\ \hline \end{array}$$

$$\begin{array}{r} 5 \\ + 3 \\ \hline \end{array} \quad \begin{array}{r} 10 \\ + 0 \\ \hline \end{array} \quad \begin{array}{r} 4 \\ + 4 \\ \hline \end{array}$$



ATIVIDADE DO DIA: 26- TERÇA- FEIRA

EMEB JOSIAS DA SILVA MACEDO.
HORTOLÂNDIA, _____ DE OUTUBRO DE 2021.
HOJE É _____ (ex. terça-feira)
NOME COMPLETO:
A-B-C-D-E-F-G-H-I-J-K-L-M-N-O-P-Q-R-S-T-U-V-W-X-Y-Z

PORTUGUÊS:

O XALE DA CAXUXA



O XALE DA CAXUXA É ROXO.
CAXUXA COLOCOU O XALE NUMA CAIXA.
PIXOXO MEXEU NA CAIXA E PUXOU O XALE.
CAXUXA FALOU:

- DEIXA MEU XALE! ELE NÃO É LIXO.
PIXOXO DEIXOU O XALE DA CAXUXA TODO SUJO.

TRABALHANDO O TEXTO

1- QUAIS SÃO OS PERSONAGENS DO TEXTO?

2- NUMERE OS ACONTECIMENTOS NA MESMA ORDEM DA HISTÓRIA:

- () PIXOXO DEIXOU O XALE TODO SUJO.
- () CAXUXA COLOCOU O XALE NUMA CAIXA.
- () PIXOXO MEXEU NA CAIXA.
- () PIXOXO PUXOU O XALE.



3- QUAL A COR DO XALE DA CAXUXA?



4- AONDE CAXUXA COLOCOU O XALE?



5- COMO FICOU O XALE DA CAXUXA?



MATEMÁTICA:



REGISTRE A QUANTIDADE DE CADA DADO, DEPOIS
RESOLVA A ADIÇÃO:


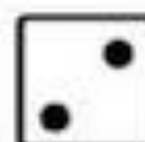
 
 + =



 
 + =



 
 + =

 
 + =

 
 + =

 
 + =

 
 + =

 
 + =

ATIVIDADE DO DIA: 27- QUARTA- FEIRA

EMEB JOSIAS DA SILVA MACEDO.
HORTOLÂNDIA, _____ DE OUTUBRO DE 2021.
HOJE É _____ (ex. quarta-feira)
NOME COMPLETO:
A-B-C-D-E-F-G-H-I-J-K-L-M-N-O-P-Q-R-S-T-U-V-W-X-Y-Z

REESCREVA CADA FRASE DO TEXTO « A BRUXA CAXUXA»,
SEPARANDO AS PALAVRAS.

ABRUXACAXUXA

--

CAXUXAÉUMABRUXA

--

BAIXINHAEFELIZ.

--

TEMUMAPINTAROXA

--

BEMNAPONTADONARIZ!

--

COMPARE E FAÇA CORREÇÕES QUANDO
NECESSÁRIO.

**A BRUXA CAXUXA
CAXUXA É UMA BRUXA
BAIXINHA E FELIZ.
TEM UMA PINTA ROXA
BEM NA PONTA DO NARIZ!**



CIRCULE NO TEXTO AS PALAVARS BRUXA, BAIXINHA, PINTA, NARIZ

MATEMÁTICA:

SITUAÇÃO PROBLEMA

MAGALI DESENHOU PARA SUA PROFESSORA 4 ABACAXIS E 3 MELANCIAS. QUANTAS FRUTAS ELA DESENHOU?



ROSINHA ENCONTROU UM NINHO COM 3 PASSARINHOS. CHEGARAM MAIS 6. QUANTOS PASSARINHOS TEM NO TOTAL?



NO SÍTIO DE CHICO BENTO TEM 5 GALINHAS E 3 VACAS. QUANTOS ANIMAIS ELE TEM AO TODO?



MAGALI PLANTOU PELA MANHÃ NO SEU JARDIM 6 FLORES E A TARDE MAIS 3. QUANTAS FLORES TEM NO JARDIM DELA?



ATIVIDADE DO DIA: 28- QUINTA- FEIRA

EMEB JOSIAS DA SILVA MACEDO.
HORTOLÂNDIA, _____ DE OUTUBRO DE 2021.
HOJE É _____ (ex. quinta-feira)
NOME COMPLETO:
A-B-C-D-E-F-G-H-I-J-K-L-M-N-O-P-Q-R-S-T-U-V-W-X-Y-Z

PORTUGUÊS:

-ESCREVA AS PALAVRAS NA ORDEM ALFABÉTICA:

DAMA	ÉGUA
HIENA	LÁPIS
MÃO	XALE
RUA	SALA
ABOBORA	ZEBRA
JIPE	ILHA
TESOURA	PÊRA
GIRAFÁ	FOGO
WILSON	YOPA
BONÉ	KIWI
NOME	OLHO
QUADRO	VÊU
UNHA	CABIDE




MATEMÁTICA

MATEMÁTICA



COMPARANDO QUANTIDADES



1) A ÁRVORE "A" TEM MAÇÃS.

2) A ÁRVORE "B" TEM MAÇÃS.

3) A ÁRVORE "C" TEM MAÇÃS.



4) A ÁRVORE COM MAIS MAÇÃS É (MARQUE UM X):

A B C



5) A ÁRVORE QUE TEM MENOS MAÇÃS É (MARQUE UM X):

A B C



6) SOME TODAS AS MAÇÃS QUE ESTÃO NO CHÃO E REGISTRE O RESULTADO NO RETÂNGULO ABAIXO.

HISTÓRIA:

FAMÍLIA É ...

UM GRUPO DE PESSOAS QUE VIVEM JUNTAS, UNIDAS POR LAÇOS FAMILIARES OU AFETIVOS. PODE SER FORMADO POR MÃE, PAI, FILHOS, PARENTES E BICHINHOS DE ESTIMAÇÃO TAMBÉM.

PEÇA ALGUÉM PARA COMPLETAR OS NOMES DAS PESSOAS QUE FAZEM PARTE DE SUA FAMÍLIA.

MINHA FAMÍLIA

EU: _____

PAIS: _____

IRMÃOS: _____

AVÓS: _____

PARENTES: _____



1 - FILHO

3 - MAMÃE

5 - LAR

7 - AVÓS

2 - PAPAI

4 - IRMÃOS

6 - TIOS