

### 3º ANO – SEMANA DE 03 A 07/05

Escola: EMEB JOSIAS DA SILVA MACEDO

Professor (a): MAGNA, DALIELLA E BRUNA

Ano/turma: 3º A, 3º B E 3º C

OLÁ QUERIDOS (AS), HOJE TENHO UM LEMBRETE IMPORTANTE: NÃO ESQUEÇA DE FAZER O CABEÇALHO TODOS OS DIAS ANTES DAS ATIVIDADES E ATIVIDADE NO LIVRO COLOQUE A DATA NA PRIMEIRA PÁGINA QUE VOCÊ INICIAR.

Dia da semana	Rotina diária: descrição das atividades
<b>Segunda – feira</b> Data: 03/05/21	<b>Leitura:</b> O Pequeno Príncipe – capítulo I <b>Disponível em:</b> <a href="https://drive.google.com/file/d/0B8YU1i_BYldZbFRrNFpsb0pvYWc/view">https://drive.google.com/file/d/0B8YU1i_BYldZbFRrNFpsb0pvYWc/view</a> <b>LÍNGUA PORTUGUESA:</b> LETRA DA CANÇÃO - ADIVINHAS <b>MATEMÁTICA:</b> VÍDEO E ATIVIDADES – COMPOSIÇÃO, DECOMPOSIÇÃO E LEITURA DE NÚMEROS.
<b>Terça-feira</b> Data: 04/05/21	<b>Leitura:</b> O Pequeno Príncipe – capítulo II <b>Disponível em:</b> <a href="https://drive.google.com/file/d/0B8YU1i_BYldZbFRrNFpsb0pvYWc/view">https://drive.google.com/file/d/0B8YU1i_BYldZbFRrNFpsb0pvYWc/view</a> <b>LÍNGUA PORTUGUESA/ GEOGRAFIA:</b> LEITURA E ATIVIDADE “PAISAGEM”. <b>MATEMÁTICA:</b> SITUAÇÕES PROBLEMAS “MAMÃE
<b>Quarta-feira</b> Data: 05/05/21	<b>Leitura:</b> O Pequeno Príncipe – capítulo III <b>Disponível em:</b> <a href="https://drive.google.com/file/d/0B8YU1i_BYldZbFRrNFpsb0pvYWc/view">https://drive.google.com/file/d/0B8YU1i_BYldZbFRrNFpsb0pvYWc/view</a> <b>LÍNGUA PORTUGUESA/ HISTÓRIA:</b> ENTREVISTA COM A MAMÃE: MORADIA.
<b>Quinta-feira</b> Data: 06/05/21	<b>Leitura:</b> O Pequeno Príncipe – capítulo IV <b>Disponível em:</b> <a href="https://drive.google.com/file/d/0B8YU1i_BYldZbFRrNFpsb0pvYWc/view">https://drive.google.com/file/d/0B8YU1i_BYldZbFRrNFpsb0pvYWc/view</a> <b>LÍNGUA PORTUGUESA/ CIÊNCIAS/ MATEMÁTICA:</b> EXPOSIÇÃO DE ANIMAIS LEITURA, VÍDEO E ATIVIDADES MATEMÁTICA. <b>EDUCAÇÃO FÍSICA:</b> acesse o link <a href="https://ensinofundamentalhortolandia.blogspot.com/search/label/EDUCA%C3%87%C3%83O%20F%C3%8DSICA">https://ensinofundamentalhortolandia.blogspot.com/search/label/EDUCA%C3%87%C3%83O%20F%C3%8DSICA</a> <b>ARTES:</b> acesse o link - <a href="https://drive.google.com/drive/folders/1co3l9T2pwFy-Wlm2W_KVojbTbs5qid_q">https://drive.google.com/drive/folders/1co3l9T2pwFy-Wlm2W_KVojbTbs5qid_q</a>
<b>Sexta-feira</b> Data: 07/05/21	<b>Leitura:</b> O Pequeno Príncipe – capítulo V <b>Disponível em:</b> <a href="https://drive.google.com/file/d/0B8YU1i_BYldZbFRrNFpsb0pvYWc/view">https://drive.google.com/file/d/0B8YU1i_BYldZbFRrNFpsb0pvYWc/view</a> <b>LÍNGUA PORTUGUESA:</b> POEMA – MINHA MÃE -LEITURA E ATIVIDADES <b>MATEMÁTICA:</b> SÓLIDOS GEOMÉTRICO <b>LÍNGUA INGLESA:</b> livro de inglês pág. 113 Mother’s Day (Dia das Mães)

03/05/2021

## LÍNGUA PORTUGUESA- LETRA DA CANÇÃO

\*\*\*\* ESSA SEMANA É MUITO ESPECIAL POIS É A SEMANA DELA, DA NOSSA MÃEZINHA QUERIDA E NAS NOSSAS ATIVIDADES ELA SERÁ INCLUÍDA. POR ISSO CRIANÇAS FAÇAM TODAS COM MUITO CAPRICO PARA A MAMÃE.



VOCÊ ACERTA ESSES ADIVINHAS?

ACOMPANHE TODA A LIÇÃO DESCRITA NO VÍDEO COM A EXPLICAÇÃO COMO SE ESTIVESSE NA SALA DE AULA.

AGORA VÁ RAPIDINHO PEGAR SEU LIVRO ÁPIS DE LINGUA PORTUGUESA, LÁPIS E BORRACHA E ACESSE A VÍDEO – AULA ABAIXO QUE A PROFESSORA JÁ VAI COMEÇAR!

<https://www.youtube.com/watch?v=MX6oRk1iqf0>

- DEPOIS TIRE AS FOTOS DAS ATIVIDADES E ENVIE PARA PROFESSORA CORRIGIR.

\*\*\*\*\*

1. FAÇA UM VÍDEO COM ESSE ADIVINHA DA MAMÃE ABAIXO (CAPRICHE NA LEITURA).
2. VOCÊ VAI LER A ADIVINHA E FALAR SEU NOME E O DA SUA MÃE NO FINAL.
3. MANDE O VÍDEO PARA SUA PROFESSORA.



---

## MATEMÁTICA: COMPOSIÇÃO, DECOMPOSIÇÃO E LEITURA DOS NÚMEROS.

ASSISTA O VÍDEO ABAIXO, FAÇA AS ATIVIDADES DO VÍDEO, TIRE FOTOS DA ATIVIDADE E ENVIE PARA SUA PROFESSORA CORRIGIR.

[https://www.youtube.com/watch?v=xIWRWldM1\\_k](https://www.youtube.com/watch?v=xIWRWldM1_k)

04/05/2021

## GEOGRAFIA/LÍNGUA PORTUGUESA

ASSISTA AO VÍDEO – AULA ABAIXO “A PAISAGEM”, FAÇA AS ATIVIDADES DO VÍDEO, TIRE FOTOS DA ATIVIDADE E ENVIE PARA SUA PROFESSORA CORRIGIR.


[https://www.youtube.com/watch?v=xIWRWldM1\\_k](https://www.youtube.com/watch?v=xIWRWldM1_k)

## MATEMÁTICA: SITUAÇÕES PROBLEMAS DA MAMÃE

**Matemática**

Zoe ficou encantada com o colar que mamãe ganhou! A menina contou e recontou as pérolas do colar.


Vamos contar quantas pérolas?



1 - Se mamãe tivesse dois colares iguais a este, quantas pérolas seriam ao todo?

---

2 - No meio de tantos sapatos, Zoe pegou 4 pares. Quantas unidades sobraram?



www.8top30.com.br - Todos os direitos reservados ©

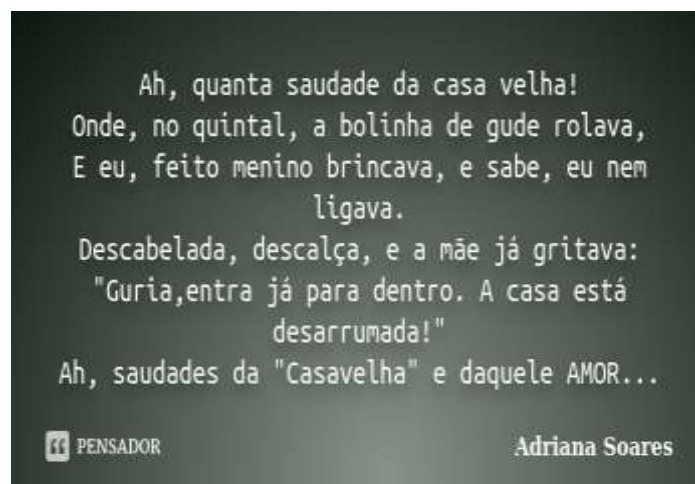
*“Mãe é pilar seguro, colo de amor incondicional, sorriso e palavra que acalmam, que orientam.”*

05/05/2021

## LÍNGUA PORTUGUESA/ HISTÓRIA

GRAVE UM VÍDEO FAZENDO UMA ENTREVISTA COM A MAMÃE COM AS PERGUNTAS ABAIXO SOBRE A CASA QUE ELA VIVIA, BASEADO NO ROTEIRO DO SEU LIVRO DE HISTÓRIA DA PÁG.19.

- COMECE A ENTREVISTA FALANDO O SEU NOME E O NOME DE QUEM VAI ENTREVISTAR.
- EM QUE ANO VOCÊ NASCEU?
- EM QUE CIDADE VOCÊ MORAVA?
- COMO ERA A CASA QUE VOCÊ MORAVA? DE QUE MATERIAL ERA FEITA?
- DE QUE PARTE DA CASA VOCÊ MAIS GOSTAVA?
- COM QUEM MORAVA?
- A CASA QUE VOCÊ PASSOU A INFÂNCIA PARECIA COM AS CASAS DE HOJE? EM QUE?
- CONTE UMA LEMBRANÇA VIVIDA NA SUA CASA.




## MATEMÁTICA: PROBLEMINHAS DA MAMÃE

## Matemática

Noah foi ao shopping comprar presentes para a mãe. Observe o que ele comprou e resolva de acordo.

1 - Dentro desta caixa tem 3 pares de sapatos. Quantas unidades são?

--



2 - Papai deu 90 reais para Noah comprar um vestido. O vestido custou 50 reais. Quanto sobrou?

D	U

3 - O vestido da mãe tem 35 botões na parte de trás. Mas ao abrir o embrulho, alguns caíram e ficaram apenas 24. Quantos botões caíram?

D	U

06/05/2021

CIÊNCIAS/ MATEMÁTICA/ PORTUGUÊS

Nome: \_\_\_\_\_


data: \_\_\_\_\_



# EXPOSIÇÃO



A família Lopez entrou em uma exposição dos animais no zoológico. Veja:



Ana ficou no número 50 e sua amiga tem 7 lugares antes. Em qual número sua amiga ficou?

Os animais na imagem foram apresentados de acordo com as medidas de altura, do menor ao maior. Escreva abaixo o nome de acordo com a ordem em que eles apareceram.

1	<input type="text"/>	2	<input type="text"/>
3	<input type="text"/>	4	<input type="text"/>

**ASSISTA O VÍDEO ABAIXO, FAÇA AS ATIVIDADES DO VÍDEO, TIRE FOTOS DA ATIVIDADE E ENVIE PARA SUA PROFESSORA CORRIGIR.**

<https://www.youtube.com/watch?v=5Gi5Uj4e0e8>

**07/05/2021**

**LÍNGUA PORTUGUESA**



# MINHA MÃE


Minha mãe é sensacional.  
É carinhosa, cheirosa e legal.  
Tem um jeitinho de me tratar  
Muito especial.

Ao acordar, me abraça apertado  
E me dá um beijinho estalado.  
Vive alegre a cantar.  
Sempre que pode, vamos passear.

A pracinha, o parque, a lagoa  
É aonde vamos brincar  
Pular, correr e nadar.  
Divertimo-nos sem parar.

Juliana Andrade



 1 Circule, no poema, as rimas encontradas.

 2 Escreva as palavras rimadas no quadro correspondente.

Dissílabas	Trissílaba	Polissílabas

Respostas: legal, cantar, brincar, nadar, pular, correr, parar; especial, beijinho; sensacional, apertado, estalado.



## MATEMÁTICA: SÓLIDOS GEOMÉTRICOS

ASSISTA O VÍDEO ABAIXO, FAÇA AS ATIVIDADES DO VÍDEO, TIRE FOTOS DA ATIVIDADE E ENVIE PARA SUA PROFESSORA CORRIGIR.

[https://www.youtube.com/watch?v=zhufc\\_anLTI](https://www.youtube.com/watch?v=zhufc_anLTI)

Para essa semana é só, agora divirta-se no fim de semana. ©

### 3º ANO – SEMANA DE 10 A 14/05

Escola: EMEB JOSIAS DA SILVA MACEDO

Professor (a): MAGNA, DALIELLA E BRUNA

Ano/turma: 3º A, 3º B E 3º C

OLÁ QUERIDOS (AS), HOJE TENHO UM LEMBRETE IMPORTANTE: NÃO ESQUEÇA DE FAZER O CABEÇALHO TODOS OS DIAS ANTES DAS ATIVIDADES E ATIVIDADE NO LIVRO COLOQUE A DATA NA PRIMEIRA PÁGINA QUE VOCÊ INICIAR.

Segunda-feira Data: 10/05/21	<b>Leitura:</b> Conto ou não conto - Abel Sidney <a href="http://www.dominiopublico.gov.br/pesquisa/DetalheObraForm.do?select_action=&amp;co_obra=">http://www.dominiopublico.gov.br/pesquisa/DetalheObraForm.do?select_action=&amp;co_obra=</a> <b>PORTUGUÊS:</b> Leitura diária e reescrita de trecho. <b>MATEMÁTICA:</b> situações problemas
Terça-feira Data: 11/05/21	<b>Leitura:</b> No Reino das letras felizes – Lenita Almeida <a href="http://www.dominiopublico.gov.br/pesquisa/DetalheObraForm.do?select_action=&amp;co_obra=53489">http://www.dominiopublico.gov.br/pesquisa/DetalheObraForm.do?select_action=&amp;co_obra=53489</a> <b>PORTUGUÊS:</b> Gênero textual: Poemas <b>MATEMÁTICA:</b> Treino de adições e subtrações com centenas <b>ED. FÍSICA:</b> <b>acesse o link:</b> <a href="https://ensinofundamentalhortolandia.blogspot.com/search/label/EDUCA%C3%87%C3%83O%20F%C3%8DSICA">https://ensinofundamentalhortolandia.blogspot.com/search/label/EDUCA%C3%87%C3%83O%20F%C3%8DSICA</a> <b>ARTES:</b> <b>acesse o link:</b> <a href="https://drive.google.com/drive/folders/1co3I9T2pwFy-WIm2W_KVojbTbs5qid_q">https://drive.google.com/drive/folders/1co3I9T2pwFy-WIm2W_KVojbTbs5qid_q</a>
Quarta-feira Data: 12/05/21	<b>Leitura:</b> Poesia: Meiguice – Adelina Lopes Vieira <a href="http://www.dominiopublico.gov.br/pesquisa/DetalheObraForm.do?select_action=&amp;co_obra=81627">http://www.dominiopublico.gov.br/pesquisa/DetalheObraForm.do?select_action=&amp;co_obra=81627</a> <b>PORTUGUÊS:</b> Leitura e interpretação do texto <b>HISTÓRIA:</b> Dia do trabalho <b>INGLÊS:</b> livro de inglês pág. 19 Colors and Numbers (cores e números)
Quinta-feira Data: 13/05/21	<b>Leitura:</b> O peixinho e o galo – Lenita Almeida <a href="http://www.dominiopublico.gov.br/pesquisa/DetalheObraForm.do?select_action=&amp;co_obra=14763">http://www.dominiopublico.gov.br/pesquisa/DetalheObraForm.do?select_action=&amp;co_obra=14763</a> <b>PORTUGUÊS:</b> Produção de texto no caderno. <b>CIÊNCIAS:</b> diferentes tipos de animais de estimação.
Sexta-feira Data: 14/05/21	<b>Leitura:</b> O galo Tião e a vaca malvada- Lenita Almeida <a href="http://www.dominiopublico.gov.br/pesquisa/DetalheObraForm.do?select_action=&amp;co_obra=19437">http://www.dominiopublico.gov.br/pesquisa/DetalheObraForm.do?select_action=&amp;co_obra=19437</a> <b>PORTUGUÊS:</b> Treino para separação de sílabas. <b>MATEMÁTICA:</b> Interpretação e resolução de problemas.



**10/05/2021**

## **PORTUGUÊS**

Você já leu a leitura diária do link na descrição?

[http://www.dominiopublico.gov.br/pesquisa/DetalheObraForm.do?select action=&co obra=](http://www.dominiopublico.gov.br/pesquisa/DetalheObraForm.do?select_action=&co_obra=)

Parabéns!

Agora você vai escolher um trecho que mais gostou e vai escrevê-lo em seu caderno com suas próprias palavras.

## **MATEMÁTICA**

- 1) Nelson coleciona figurinhas. Em seu álbum cabem 87 e ele já colou 45. Quantas figurinhas faltam para completar esse álbum?
- 2) Amélia comprou uma TV que custava R\$ 980,00. Ela pagou 320,00. Quanto falta para ela pagar o valor total dessa TV?
- 3) Pedro saiu em viagem, porém há pedágios nesse caminho. Se cada pedágio custa R\$12,00, quanto ele pagará juntando os 3 pedágios?

**11/05/2021**

## **PORTUGUÊS**

Você sabe o que é poesia? Vamos assistir um vídeo contando como ela é formada?

Bem, agora com a ajuda de um adulto, pesquise uma poesia (Não muito grande) que gostou e a escreva no caderno, combinado?

<https://youtu.be/rFjUV29KW4E>

## **MATEMÁTICA**

Vamos treinar adição e subtração direto, sem as situações problemas, combinado? Arme as contas no caderno e as resolva:

- $147+121 =$
- $659 +320 =$
- $998 +102 =$
- $765 - 342 =$
- $218 - 105 =$
- $899 - 578 =$

Não esqueça que hoje também é dia de aulas de educação física e de artes.

12/05/2021

## PORTUGUÊS

- Leia a história abaixo e responda as questões:



### GOL DESCALÇO

VOCÊ CONSEGUE IMAGINAR QUE, EM UMA PARTIDA DE FUTEBOL DE UM CAMPEONATO TÃO IMPORTANTE COMO A COPA DO MUNDO, UM JOGADOR FEZ UM GOL DESCALÇO? NÃO? POIS ACREDITE: ISSO ACONTECEU DE VERDADE!

NA COPA DE 1938, O BRASIL JOGAVA CONTRA A POLÔNIA DEBAIXO DE FORTE TEMPORAL, QUANDO DE REPENTE O JOGADOR BRASILEIRO LEÔNIDAS SILVA, PERDEU UMA DE SUAS CHUTEIRAS E, COM O PÉ DESCALÇO, FEZ UM GOLAÇO!

ATUALMENTE, ESSE GOL CERTAMENTE SERIA ANULADO, MAS NA ÉPOCA FOI ACEITO.

1- O QUE ACONTECEU DE DIFERENTE EM UMA COPA DO MUNDO, SEGUNDO O TEXTO?

---

---

2 - QUAL O ANO QUE ESSA COPA ACONTECEU?

---

3 - CONTRA QUEM O BRASIL JOGAVA, QUANDO O FATO DIFERENTE ACONTECEU?

---

4 - POR QUE O JOGADOR FEZ UM GOL DESCALÇO?

---

---

5 - QUAL O NOME DO CALÇADO QUE OS JOGADORES USAM PARA JOGAR FUTEBOL DE CAMPO?

---

## HISTÓRIA

Você sabia que no dia 1º de Maio comemoramos o dia do trabalho?

Assista ao vídeo que conta essa história e depois com a ajuda de um adulto, conversem sobre as profissões que vocês conhecem e façam uma lista dessas profissões no caderno. Leia atentamente cada profissão e escolha uma que mais gostou e nos conte porque.

E aí? Já sabe o que quer ser quando crescer????

**13/05/2021**

## **PORTUGUÊS**

Imagine que você está viajando com sua família. Crie uma história contando as aventuras que tiveram. Lembre-se que é imaginação e tudo pode acontecer... Então, use bem sua criatividade. O texto não pode ser muito grande, ok?

**BOM TRABALHO!!!!**

## **CIÊNCIAS**

Animais. Quem não gosta? A maioria das pessoas gostam demais de animais.

Nós conhecemos alguns animais de estimação não é? Faça uma lista de animais de estimação que você conhece.

Você sabia que existem pessoas que possuem animais de estimação que são bem diferentes?

Assista o vídeo abaixo e descubra quais são esses animais. Em seguida me conte qual você achou mais legal e até gostaria de ter, mas também me conte qual deles você nunca teria!

Divirta-se com o vídeo!

<https://youtu.be/Mf4Dd9CEfyc>

**14/05/2021**

## **PORTUGUÊS**

Vamos treinar agora a separação de sílabas. Só que as palavras você mesmo irá escolher de acordo com tudo que você aprendeu nessa quinzena e achou muito legal!

Escolha 10 palavras para separar essas sílabas!!!!!!

## **MATEMÁTICA**

- Bebel estava viajando com seus pais e descobriu que essa viagem é percorrida em 257 quilômetros. Se eles percorreram 125 quilômetros, quantos quilômetros ainda faltam para chegarem ao destino?
- Luiza saiu de bicicleta e andou por 20 minutos. Sabendo que ela levará o mesmo tempo para voltar, responda quantos minutos ela pedalou.
- Suelen possui 129 papéis de cartas. Algumas delas eram repetidas, por isso ela presenteou sua prima com 87 papéis. Depois disso, Suelen ficou com quantos papéis?

*Acabou! Aproveite seu fim de semana com a família e divirta-se! 😊*