

3º ANO – SEMANA DE 08 A 12/03

Escola: EMEB JOSIAS DA SILVA MACEDO

Professor (a): MAGNA, DANIELLA E BRUNA

Ano/turma: 3º A, 3º B E 3º C.

OLÁ QUERIDOS ALUNOS. INICIAMOS HOJE UMA NOVA SEMANA DE APRENDIZADOS. **É IMPORTANTE QUE ASSISTAM AOS VÍDEOS DE LÍNGUA PORTUGUESA**, QUALQUER DÚVIDA PODEM ENTRAR EM CONTATO COM A PROFESSORA. NÃO SE ESQUEÇA DO CABEÇALHO INICIAL, QUE É AQUELA QUE FAZEMOS TODOS OS DIAS NA LOUSA NA SALA DE AULA.

Dia da semana	Rotina diária: descrição das atividades
Segunda – feira Data: 08/03 /2021	LEITURA DIÁRIA: Enquanto Fico Em Casa https://www.youtube.com/watch?v=Pg_R_dzkCnl LÍNGUA PORTUGUESA: VÍDEO, JOGOS E ATIVIDADES NO CADERNO SOBRE SÍLABA TÔNICA. MATEMÁTICA: ATIVIDADE ORAL E ESCRITA – NUMERAIS DE 300 A 400
Terça-feira Data: 09/03/2021	LEITURA DIÁRIA: O menino azul https://www.youtube.com/watch?v=9dm0h0O46g8 LÍNGUA PORTUGUESA/ MATEMÁTICA/ CIÊNCIAS: POEMA-PROBLEMAS, CARACTERÍSTICAS DOS ANIMAIS.
Quarta-feira Data: 10/03/2021	LEITURA DIÁRIA: O livro dos sorrisos https://www.youtube.com/watch?v=scTjwTXbCbg LÍNGUA PORTUGUESA/ MATEMÁTICA/ HISTÓRIA: MEDIDAS DE TEMPO, MÚSICA E POEMA DO RELÓGIO.
Quinta-feira Data: 11/03/2021	LEITURA DIÁRIA: O homem que amava caixas https://www.youtube.com/watch?v=DDP_EZRO_CM LÍNGUA PORTUGUESA/ MATEMÁTICA/ GEOGRAFIA: INTERPRETAÇÃO E LOCALIZAÇÃO. EDUCAÇÃO FÍSICA: VISITE A ABA ESPECÍFICA NO BLOG. ARTES: VISITE A ABA ESPECÍFICA NO BLOG
Sexta-feira Data: 12/03/2021	LEITURA DIÁRIA: A menina que gostava de saber https://www.youtube.com/watch?v=K7vMXMslmC LÍNGUA PORTUGUESA/ MATEMÁTICA: APRENDENDO A ESTUDAR TABUADA; ASSISTIR AO VÍDEO: BRINCANDO DE APRENDER TABUADA COM A FAMÍLIA. LÍNGUA INGLESA: VISITE A ABA ESPECÍFICA NO BLOG

08.03.2021

LÍNGUA PORTUGUESA/ HISTÓRIA

VAMOS INICIAR MAIS UMA SEMANA DE APRENDIZADO.
VAMOS APRENDER BRINCANDO?



QUANTAS VEZES VOCÊ ABRE A BOCA PARA FALAR A PALAVRA SORVETE. VAMOS VER?

SOR-VE-TE = 3 VEZES

ESSES PEDAÇOS MENORES EM QUE A PALAVRA FOI DIVIDIDA QUANDO VOCÊ ABRIU A BOCA PARA PRONUNCIÁ-LOS SÃO CHAMADOS DE **SÍLABA**.

CADA PEDACINHO É UMA SÍLABA. NESSE CASO, VOCÊ ABRIU A BOCA TRÊS VEZES, POR TANTO, **VOCÊ PRONUNCIOU TRÊS SÍLABAS**.

VOCÊ SABIA QUE NA PALAVRA **SOR-VE-TE** A SÍLABA QUE VOCÊ PRONUNCIOU MAIS FORTE FOI A SÍLABA **VE**?

ESSA **SÍLABA FORTE** É CHAMADA **SÍLABA TÔNICA**.

ASSISTA O VÍDEO ABAIXO E APRENDA COMO IDENTIFICAR A SÍLABA TÔNICA OU SEJA A SÍLABA DA PALAVRA QUE VOCÊ PRONUNCIA MAIS FORTE.

<https://www.youtube.com/watch?v=j05cu-O6dZo>

E SÓ DEPOIS QUE ASSISTIR...

Jogue na internet, acessando:

. <http://www.escolagames.com.br/jogos/separeSilabas/>

ESCOLHA TRÊS PALAVRAS DO JOGO E ESCREVA EM FORMA DE LISTA EM SEU CADERNO E SEPRE AS SÍLABAS DE CADA UMA. CIRCULE A SÍLABA MAIS FORTE.

TIRE UMA FOTO DA SUA ATIVIDADE E MANDE PARA SUA PROFESSORA CONFERIR SE VOCÊ ACERTOU. ELA MANDARÁ UM ÁUDIO DANDO-LHE A RESPOSTA.

DIA 8 DE MARÇO DIA INTERNACIONAL DA MULHER

HOJE É O DIA INTERNACIONAL DA MULHER.

FAÇA BILHETE(S) HOMENAGEANDO A(S) MULHER (ES) DE SUA CASA E ENTREGUE PARA ELA(S).

MATEMÁTICA


VAMOS CONTAR?


09.03.2021


MATEMÁTICA / LÍNGUA PORTUGUESA/ CIÊNCIAS

COPIE ESSES PROBLEMINHAS-POEMAS EM SEU CADERNO E FAÇA OS CÁLCULOS:

POEMAS – PROBLEMAS

 VAI CHOVER, SIM SENHOR
DEU O AVISO NO JORNAL
DOS 9 PARES DE BÓTAS
COMPROU 2, O JUVENAL!
QUANTAS RESTARAM AFINAL?

 1 SAPO PULOU NO VASO
2 SAPOS NO GUARDA-CHUVA
3 SAPOS SAÍRAM DO LAGO
E 4 NO FINAL DA CURVA!
QUANTOS SAPOS, ENTÃO CONTADOS?

 NO INÍCIO DO DIA
HAVIAM 20 MARGARIDAS
NO CARRINHO, AO FINAL
APENAS 6 JÁ SOFRIDAS!
QUANTAS FORAM ADQUIRIDAS?

COMIDA DE GATO

O Teo tem um gato que se chama Cissaninho,
O menino colocou em seu prato 8 cenouras e 1 peixinho,
Cissano comeu metade das cenouras e o peixe inteirinho,
Você sabe quanto sobrou em seu pratinho?

Costurou 346 blusas
A costureira Mariza
No dia seguinte
265 camisas!
Quantas peças então
Ao todo totaliza?



NO SEU CADERNO, DÊ O NOME DOS ANIMAIS E QUE APARECEM NOS POEMAS-PROBLEMAS. ESCREVA TAMBÉM QUAIS AS SUAS CARACTERÍSTICAS: EXEMPLO: PRESENÇA DE PENAS, PÊLOS, GARRAS, ANTENAS, PATAS ETC.

10.03.2021

LÍNGUA PORTUGUESA/ MATEMÁTICA

MEDIDAS DE TEMPO

OUÇA O LINK ABAIXO. NELE VAMOS CONHECER O POEMA O RELÓGIO.



<https://www.youtube.com/watch?v=ltdiYRwH3Oo>

A SEGUIR HÁ OUTRO LINK, ESCUTE A MESMA POESIA EM FORMA DE MÚSICA:



<https://www.youtube.com/watch?v=4szJqFbLEnE>

QUAL DAS DUAS VERSÕES APRESENTADAS VOCÊ GOSTOU MAIS?

() 1ª VERSÃO () 2ª VERSÃO

LEIA A TABELA ABAIXO QUE EXPLICA AS MEDIDAS DE TEMPO E EM SEGUIDA RESPONDA ÀS QUESTÕES (PODE COPIAR E RESPONDER NO CADERNO).

MEDIDAS DE TEMPO

A UNIDADE DE MEDIDA DO TEMPO É O SEGUNDO.

TABELA DO TEMPO

1 DIA	24 HORAS
1 HORA	60 MINUTOS
1 MINUTO	60 SEGUNDOS
1 SEMANA	7 DIAS
1 QUINZENA	15 DIAS
1 BIMESTRE	2 MESES
1 TRIMESTRE	3 MESES
1 SEMESTRE	6 MESES
1 BIÊNIO	2 ANOS
1 TRIÊNIO	3 ANOS
1 DÉCADA	10 ANOS
1 SÉCULO	100 ANOS
1 MILÊNIO	1000 ANOS

LIGUE-SE NESTA!

- f) Quantas horas existem em:
- a) 2 dias:
() 46 () 47 () 48
- b) 1 dia e meio:
() 24 () 30 () 36
- c) Meio dia e 2 horas:
() 12 () 13 () 14
- d) 2 dias e 3 horas:
() 50 () 51 () 52
- e) 1 dia e 5 horas:
() 27 () 28 () 29




11.03.2021

LÍNGUA PORTUGUESA/ GEOGRAFIA/ MATEMÁTICA

VAMOS VER SE VOCÊ É UM BOM OBSERVADOR?

OBSERVE A IMAGEM A SEGUIR E DEPOIS COPIE E RESPONDA AS QUESTÕES NO SEU CADERNO:



A) DE ACORDO COM A REPRESENTAÇÃO, O QUE FICA NO CENTRO DA IMAGEM?

B) O QUE ESTÁ À DIREITA DA IGREJA?

C) O QUE FICA EM FRENTE A IGREJA?

D) O QUE SE LOCALIZA A ESQUERDA DA IGREJA?

E) O QUE FICA A ESQUERDA DA PRAÇA?

12.03.2021

LÍNGUA PORTUGUESA/ MATEMÁTICA

TABUADA

VAMOS ESTUDAR A TABUADA?

VAMOS COMEÇAR PELA TABUADA DO “2”. NAS PRÓXIMAS AULAS PARTIREMOS PARA OUTRAS TABUADAS.

$$\begin{array}{l} 2 \times 1 = 2 \\ 2 \times 2 = 4 \\ 2 \times 3 = 6 \\ 2 \times 4 = 8 \\ 2 \times 5 = 10 \\ 2 \times 6 = 12 \\ 2 \times 7 = 14 \\ 2 \times 8 = 16 \\ 2 \times 9 = 18 \\ 2 \times 10 = 20 \end{array}$$

DICAS PARA “DECORAR” E ENTENDER A TABUADA.

- LER EM VOZ ALTA E REPETIR. PARA SE FAMILIARIZAR COM A TABUADA.
- LER EM VOZ ALTA E REPETIR ATÉ ASSIMILAR CADA ÍTEM DA TABUADA. SOMENTE QUANDO ASSIMILAR PASSA PARA O PRÓXIMO. EX: $2 \times 1 = 2$ (LEIA E REPETE ATÉ ASSIMILAR NA MEMÓRIA) DEPOIS DE ASSIMILAR VAI PARA O PRÓXIMO ÍTEM: $2 \times 2 = 4$ (LER E REPETIR ATÉ ASSIMILAR NA MEMÓRIA) DEPOIS DE ASSIMILAR VAI PARA O PRÓXIMO ÍTEM...E ASSIM ATÉ TERMINAR A TABUADA QUE FOI SOLICITADA PELA PROFESSORA.
- ESCREVA A TABUADA SEM PREENCHER AS RESPOSTAS. QUANDO TERMINAR PREENCHA AS SUAS RESPOSTAS DA TABUADA EM SEQUÊNCIA E VERIFIQUE SE AS ACERTOU.

- EXERCITE TODOS OS DIAS POR 15 MINUTOS PARA ALCANÇAR OS MELHORES RESULTADOS.

DEPOIS QUE VOCÊ ESTIVER “CRAQUE” NA TABUADA DO “2” QUE TAL BRINCAR COM UM FAMILIAR PARA TESTAR SEU CONHECIMENTO

- ASSISTA AO VÍDEO ABAIXO DO PAI E DA FILHA BRINCANDO DE UM JOGO DE TABUADA.
- BRINQUE DA MESMA BRINCADEIRA DO VÍDEO COM UM FAMILIAR SEU.

GRAVE A BRINCADEIRA, POSTE NO GRUPO E MOSTRE PARA A SUA PROFESSORA.

<https://www.youtube.com/watch?v=n4TFGBL2IIA>

BOM FINAL DE SEMANA!

Olá meus amores e minhas amoras!!! Vamos começar nossa nova semana de atividades???

Só não podemos esquecer o cabeçalho, com nome, data... Sabemos como é, não é mesmo???

Então, vamos começar e mãos a obra!!!!!! ☺

3º ANO – SEMANA DE 15 A 19/03

Dia da semana	Rotina diária: descrição das atividades
Segunda-feira Data: 15/03 2021	LEITURA DIÁRIA: O CABELO DA MENINA https://www.euleioparaumacrianca.com.br/historias/o-cabelo-da-menina/ LÍNGUA PORTUGUESA: LEITURA E INTERPRETAÇÃO DE TEXTO
Terça-feira Data: 16/03/2021	LEITURA DIÁRIA: A BORBOLETA AZUL http://www.dominiopublico.gov.br/download/texto/eu000004.pdf . MATEMÁTICA: ATIVIDADE ORAL E ESCRITA – NUMERAIS DE 400 A 450
Quarta-feira Data: 17/03/2021	LEITURA DIÁRIA: CONTO OU NÃO CONTO? http://www.dominiopublico.gov.br/download/texto/ea000337.pdf HISTÓRIA: DIFERENÇAS ENTRE NOSSO POVO – PESQUISA
Quinta-feira Data: 18/03/2021	LEITURA DIÁRIA: O REINO DAS LETRAS FELIZES http://www.dominiopublico.gov.br/download/texto/eu00005a.pdf MATEMÁTICA: PERSEVERANDO NO EXERCÍCIO DE ADIÇÃO EDUCAÇÃO FÍSICA: VISITE A ABA ESPECÍFICA NO BLOG. ARTES: VISITE A ABA ESPECÍFICA NO BLOG
Sexta-feira Data: 19/03/2021	LEITURA DIÁRIA: O PEIXINHO E O GATO http://www.dominiopublico.gov.br/download/texto/eu00005a.pdf LÍNGUA PORTUGUESA: Treinamento de leitura LÍNGUA INGLESA: VISITE A ABA ESPECÍFICA NO BLOG

Fonte das leituras: www.escolakidscom.br e www.dominiopublico.com.br

Emília, a boneca do Sítio do Pica Pau Amarelo



"Emília é uma boneca de pano feita por tia Nastácia, os olhos de linha preta.

Narizinho gosta muito dela, tanto que não desgruda da boneca.

Almoça e janta com ela ao seu lado, e ao se deitar tem o cuidado de acomodá-la em uma rede perto dos pés da cadeira.

Emília era muda, mas doutor Caramujo deu a ela uma pílula falante.

Ao engolir a pílula Emília desandou a falar, falar, falar muito.

A primeira coisa que disse foi: 'Estou com um horrível gosto de sapo na boca!'

Mas Emília falava tanto, tanto, tanto, "que Narizinho meio atordoado disse ao doutor que era melhor fazê-la vomitar aquela pílula e engolir outra mais fraca".

- Vamos ler o texto acima agora? Preste bem atenção na história e depois responda em seu caderno, combinado?

1) Qual o nome do texto?

2) Quem é Emília? E quem a construiu?

3) Quem amou Emília de paixão e ficava sempre com ela?

4) O que aconteceu para que Emília começasse a falar tanto?

- OK, nós já aprendemos que as palavras são formadas por sílabas não é mesmo? Por exemplo, se eu usar a palavra CAVALO. Falem essa palavra bem devagar... Agora conte quantas vezes você abriu a boca para falar cavalo?

CA-VA-LO

- Isso mesmo!!!! Trabalhamos na última semana, porém precisamos treinar, sabe, igual atleta para as olimpíadas? Sim, você é capaz de treinar e se você tiver dúvidas é só perguntar, combinado?
- Leia o texto novamente e escolha 5 palavras de sua preferência, pronuncie essa palavra devagar e depois separe as sílabas.
Vamos fazer isso com cavalo, ok! E como já aprendemos, vamos achar a sílaba tônica dessa palavra? – Lembrando que a sílaba tônica é a mais forte das sílabas!

CA-**VA**-LO - A sílaba VA é a mais forte!!!

Vamos lá, agora é com vocês!!!

- Vamos ler atentamente aos problemas e fazer o nosso melhor para Aprendermos com mais facilidade?

Não se esqueça que precisamos “malhar” nosso cérebro também!

Resolva as situações-problema:

- 1) Luiz Gustavo tinha 656 figurinhas. Márcio tinha 149 figurinhas a mais que Luiz Gustavo. Quantas figurinhas Márcio tinha?

CENTENAS	DEZENAS	UNIDADES

- 2) Guilherme tinha 389 figurinhas. Durante um jogo perdeu 98 figurinhas. Quantas figurinhas restaram para ele?

CENTENAS	DEZENAS	UNIDADES

- 3) Pedro está economizando para comprar um tablet que custa 669 reais. Ele já economizou 381. Hoje, com o pagamento de seu salário, ele pode guardar mais 158 reais. Quantos reais Pedro conseguiu juntar até agora?

CENTENAS	DEZENAS	UNIDADES

- 4) Tia Maíza comprou 2 brinquedos, que custaram 218 reais cada um, para presentear sua filha. Quantos reais ela gastou?

CENTENAS	DEZENAS	UNIDADES

- Vamos também lembrar como é que se faz a composição dos números?

Vamos lá: Eu tenho os números:

- 1000

- 800

- 50

- 9

- POR ISSO POSSO JUNTAR TUDO E FORMAR UM “NÚMEROZÃO” OLHA ISSO:

$$1000 + 800 + 50 + 9 = 1859$$

- Vamos tentar????

? $300 + 80 + 6 =$ _____

? $600 + 60 + 4 =$ _____

? $900 + 70 + 6 =$ _____

?

$1000 + 900 + 70 + 7 +$ _____

- ? Agora escreva em seu caderno o nome dos números que você formou por extenso:



Quarta-feira, 17 de Março de 2021

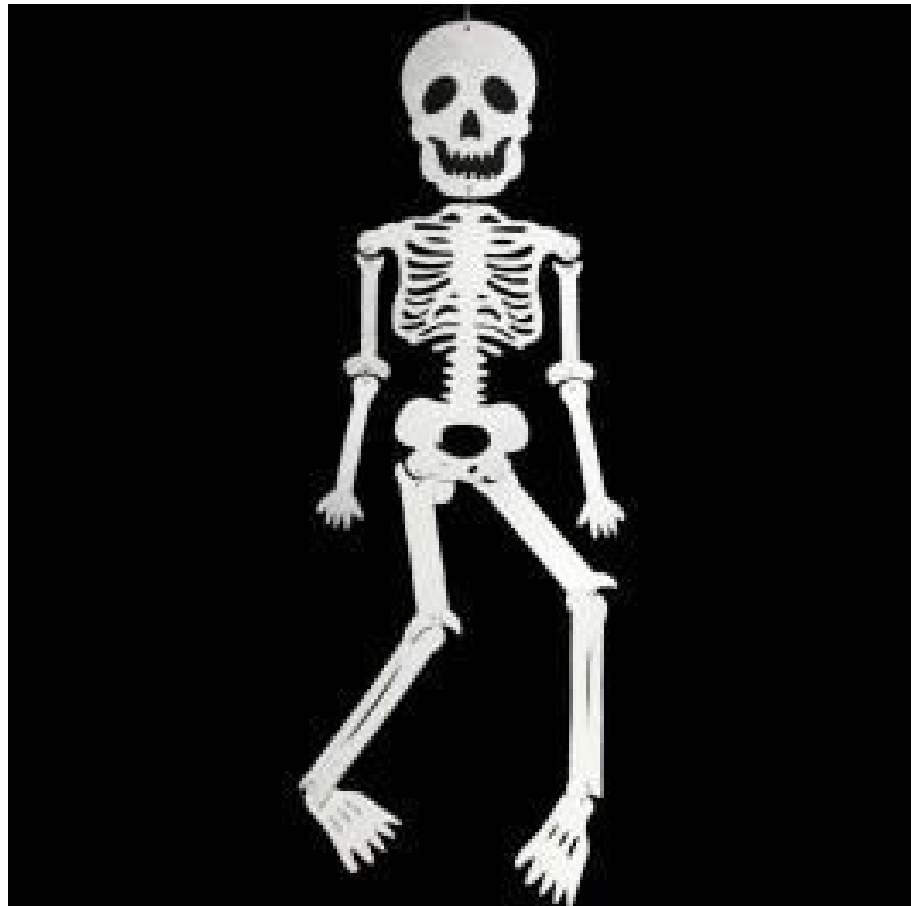
HISTÓRIA

Nossa história começou há muito tempo atrás quando os portugueses encontraram nosso país e depois de alguns nomes, finalmente recebeu o nome de Brasil.

Mas não foram apenas os portugueses que por aqui chegaram. Também vieram pessoas de vários outros lugares e essa mistura de povos foi o que ajudou o nosso país a ser o que é hoje...

- Peça a um adulto para te ajudar na próxima tarefa que é pesquisar sobre quais povos de outros países vieram para o Brasil – coloque as respostas no caderno...
- Procure fotos de pessoas que você percebeu que são diferentes no seu jeito físico, por tom de pele, formas de cabelos... Devemos aprender a respeitar as diferenças entre as pessoas, porque nós apenas somos diferentes pelo lado de fora, porque pelo lado de dentro **SOMOS TODOS IGUAIS!**

OI!!!



MATEMÁTICA

Some os números abaixo para treinar bem....

ARME E RESOLVA

$286 + 73$

C	D	U

$238 + 56$

C	D	U

$331 + 89$

C	D	U

$271 + 67$

C	D	U

$315 + 62$

C	D	U

$389 + 30$

C	D	U

$295 + 20$

C	D	U

$281 + 70$

C	D	U



Leia a pequena história abaixo por várias e várias vezes até ficar craque! Grave um vídeo mostrando como está sua leitura, combinado????



A BONEQUINHA LILI

Adiléa M. I. Generoso

ANINHA GANHOU UMA LINDA BONEQUINHA.

FOI PRESENTE DO SEU ANIVERSÁRIO.

ANINHA DEU-LHE O NOME DE LILI.

LILI É UMA BONEQUINHA DE PANO.

ANINHA GOSTAR DE PASSEAR COM ELA NO

JARDIM DA SUA CASA.

ANINHA FICA TÃO FELZ!