

3º ANO – SEMANA DE 28/06 A 02/07

Escola: EMEB JOSIAS DA SILVA MACEDO
Professor (a): MAGNA, DANIELLA E BRUNA
Ano/turma: 3º A, 3º B E 3º C

OLÁ QUERIDOS (AS), HOJE TENHO UM LEMBRETE IMPORTANTE: NÃO ESQUEÇA DE FAZER O CABEÇALHO TODOS OS DIAS ANTES DAS ATIVIDADES. EM ATIVIDADE NO LIVRO COLOQUE A DATA NA PÁGINA QUE VOCÊ INICIAR.

Dia da semana	Rotina diária: descrição das atividades
Segunda-feira Data: 28/06/2021	Leitura: O Dia Que O Sol Tirou Férias – Barbara Samel. Disponível em: https://www.baixelivros.com.br/infantil/o-dia-que-o-sol-tirou-ferias LÍNGUA PORTUGUESA: SINAIS DE PONTUAÇÃO- LIVRO ÁPIS, PÁG.43 MATEMÁTICA: RELAÇÃO DE IGUALDADE – LEITURA E ATIVIDADE NO CADERNO.
Terça-feira Data: 29/06/2021	LEITURA DIÁRIA: MINHA ESCOLA VAI ABRIR AMANHÃ – MAYNARA ABREU. DISPONÍVEL EM: https://www.baixelivros.com.br/infantil/minha-escola-vai-abrir-amanha LÍNGUA PORTUGUESA/ MATEMÁTICA/GEOGRAFIA: REPRESENTANDO AS PAISAGENS DOS LUGARES- LIVRO BURITI MAIS GEOGRAFIA PÁG. 23 A 25 (LEITURA E ATIVIDADES).
Quarta-feira Data: 30/06/2021	LEITURA DIÁRIA: O Ratinho o Gato e o Galo – Monteiro Lobato. DISPONÍVEL EM: https://www.baixelivros.com.br/infantil/o-ratinho-o-gato-e-o-galo LÍNGUA PORTUGUESA/Ciências: ANIMAIS VERTEBRADOS- LIVRO BURITI MAIS CIÊNCIAS PÁG.32 A 34- LEITURA E COMPREENSÃO. MATEMÁTICA: RELAÇÃO DE IGUALDADE – LEITURA E ATIVIDADE NO CADERNO.
Quinta-feira Data:01/07/2021	LEITURA DIÁRIA Um Menino Pé de Quê? – Sérgio Neo DISPONÍVEL EM: https://www.baixelivros.com.br/infantil/um-menino-pe-de-que LÍNGUA PORTUGUESA: Separação de sílabas- livro Ápis, pág.45 a 47 – Atividades MATEMÁTICA: RELAÇÃO DE IGUALDADE NA SUBTRAÇÃO– LEITURA E ATIVIDADE NO CADERNO. ARTES: https://portaleducacao.hortolandia.sp.gov.br/index.php/artes
Sexta-feira Data: 02/07/2021	LEITURA DIÁRIA : No Reino das Letras Felizes – Lenira Almeida DISPONÍVEL EM: https://www.baixelivros.com.br/infantil/o-reino-das-letras-felizes LÍNGUA PORTUGUESA: Trava-língua – livro Ápis, pág.48 e 261- desafio da memória. EDUCAÇÃO FÍSICA: https://portaleducacao.hortolandia.sp.gov.br/index.php/ed-fisica LÍNGUA INGLESA: https://portaleducacao.hortolandia.sp.gov.br/index.php/ingles

SINAIS DE PONTUAÇÃO

SINAIS DE PONTUAÇÃO

O emprego adequado dos sinais de pontuação é de fundamental importância para o sentido de uma frase.

- PONTUE ADEQUADAMENTE A TIRINHA NA PÁGINA 43 DO SEU LIVRO.
- REESCREVA, NO SEU CADERNO, A PIADA NA MESMA PÁGINA DO LIVRO, MAS, COLOQUE OS SINAIS DE PONTUAÇÃO QUE ESTÃO FALTANDO, SENÃO NÃO TERÁ GRAÇA.

MATEMÁTICA: RELAÇÃO DE IGUALDADE

MARCOS FOI A UMA MERCEARIA E COMPROU 5 PACOTES PEQUENOS DE BOMBONS. CADA PACOTE PEQUENO CONTÉM 5 BOMBONS.

PEDRO COMPROU APENAS UM PACOTE GRANDE, CONTENDO 25 BOMBONS.

AMBOS FICARAM CURIOSOS PARA SABER QUEM HAVIA COMPRADO MAIS BOMBONS.

VAMOS AJUDÁ-LOS A DESCOBRIR?

Atividade Principal



EU ACHO QUE MARCOS COMPROU MAIS, PORQUE ELE COMPROU MAIS PACOTES.

EU ACHO QUE DEVEMOS CONTAR QUANTOS BOMBONS CADA UM TEM, INDEPENDENTE DA QUANTIDADE DE PACOTES.




MARCOS POSSUI 5 PACOTINHOS DE 5 BOMBONS, LOGO ELE TEM **25 BOMBONS**.

PEDRO COMPROU APENAS UM PACOTE COM **25 BOMBONS!** LOGO ELES TÊM A MESMA QUANTIDADE!
 $5 + 5 + 5 + 5 + 5 = 25$



UMA **IGUALDADE** CARACTERIZA-SE QUANDO DUAS OPERAÇÕES OU QUANTIDADES SÃO IGUAIS ENTRE SI, OU SEJA, QUANDO UMA E OUTRA TÊM O MESMO NÚMERO DE UNIDADES. ESTA CARACTERÍSTICA É VÁLIDA PARA TODAS AS OPERAÇÕES ARITMÉTICAS.



<https://planosdeaula.novaescola.org.br/fundamental/3ano/matematica/sentido-da-igualdade-em-operacoes-de-adicao/1259>

COPIE EM SEU CADERNO, RESOLVA E PINTE APENAS AS OPERAÇÕES QUE TEM RESULTADO IGUAL A 25:

13+12	17+5	15+10	16+9	11+7	19+6
22+5	20+5	21+3	21+4	17+8	12+12

29/06/2021

LÍNGUA PORTUGUESA/ MATEMÁTICA/GEOGRAFIA

REPRESENTANDO A PAISAGEM DOS LUGARES

PARA CONHECER DIFERENTES PONTOS DE VISTA DE UMA MESMA PAISAGEM, ASSISTA AO VÍDEO: https://www.youtube.com/watch?v=_lw7tPgaOQ

- RESPONDA EM SEU LIVRO DE GEOGRAFIA AS QUESTÕES DA PÁGINA 23.

PLANTA É UMA MANEIRA DE REPRESENTAR A PAISAGEM DE UM LUGAR

- LEIA SOBRE ISSO NA PÁGINA 24 DO SEU LIVRO DE GEOGRAFIA.
- PARA APRENDER UM POUCO MAIS ASSISTA AO VÍDEO:
https://www.youtube.com/watch?v=c2gM4Fu42r0&list=PL3yoRJzscZUA5O1k_9t2O-PpfzmySzhOD&index=5
- RESPONDA EM SEU LIVRO DE GEOGRAFIA AS QUESTÕES DA PÁGINA 25.

30/06/2021

LÍNGUA PORTUGUESA/ CIÊNCIAS – ANIMAIS VERTEBRADOS

Nas aulas anteriores, aprendemos que uma das maneiras que podemos classificar os animais é pela presença ou ausência da coluna vertebral.

- Animais vertebrados têm coluna vertebral.
- Animais invertebrados não têm coluna vertebral.


Para conhecer um pouco mais dos animais vertebrados, faça a leitura no seu livro de ciências das páginas descritas no quadro de rotina.

Você vai aprender algumas características dos animais de cada grupo de vertebrados. São eles: peixes, anfíbios, répteis, aves e mamíferos.

Para ajudar ainda mais sua compreensão, assista ao vídeo:
<https://www.youtube.com/watch?v=l2O7qdCPQrE>




MATEMÁTICA: RELAÇÃO DE IGUALDADE



PEDRO TINHA 30 BOLINHAS DE GUDE E ESTAVA JOGANDO COM OS COLEGAS NA RUA. NO PRIMEIRO DIA ELE PERDEU TREZE BOLINHAS DE GUDE, NO SEGUNDO DIA PERDEU MAIS QUATRO BOLINHAS E NO TERCEIRO DIA PERDEU APENAS UMA, LOGO PODEMOS EXPRESSAR $30 - 13 - 4 - 1$

JOÃO TAMBÉM TINHA 30 BOLINHAS. NO PRIMEIRO DIA PERDEU DEZ BOLINHAS, NO SEGUNDO DIA PERDEU MAIS SEIS E DEPOIS PERDEU MAIS DUAS. LOGO, PODEMOS EXPRESSAR COMO $30 - 10 - 6 - 2$




COM A SENTENÇA QUE REPRESENTA AS PERDAS DE PEDRO $30 - 13 - 4 - 1$, PODEMOS CALCULAR AS SUBTRAÇÕES E CHEGAR AO RESULTADO 12.



COM A SENTENÇA QUE REPRESENTA AS PERDAS DE JOÃO $30 - 10 - 6 - 2$, CHEGAMOS AO RESULTADO 12.

LOGO, $12 = 12$, ENTÃO $30 - 13 - 4 - 1 = 30 - 10 - 6 - 2$, REPRESENTANDO UMA RELAÇÃO DE IGUALDADE.

NESTA AULA IDENTIFICAMOS O SENTIDO DE **IGUALDADE** NUMA SENTENÇA DE SUBTRAÇÕES, QUE CARACTERIZA-SE QUANDO DUAS OPERAÇÕES OU QUANTIDADES SÃO IGUAIS ENTRE SI.



GUILHERME TINHA 100 REAIS E COMPROU DUAS CAMISETAS. CADA CAMISETA CUSTOU 25 REAIS. JÁ LUCIANA, SUA IRMÃ, COMPROU 4 BLUSAS, CADA UMA CUSTANDO 15 REAIS. ESCREVA AS SENTENÇAS QUE REPRESENTEM MATEMATICAMENTE ESSAS ADIÇÕES/SUBTRAÇÕES, E VERIFIQUE A RELAÇÃO DE IGUALDADE OU DIFERENÇA.



<https://planosdeaula.novaescola.org.br/fundamental/3ano/matematica/sentido-da-igualdade-em-operacoes-de-subtracao/793>

FAÇA ASSIM NO CADERNO:

GUILHERME:	LUCIANA:	RELAÇÃO: IGUALDADE () DIFERENÇA ()
-------------------	-----------------	-----------------------------------------------------------------------

01/07/2021

LÍNGUA PORTUGUESA – SEPARAÇÃO DE SÍLABAS

Por que aprendemos a separar as palavras em sílabas? Uma das razões é que, quando estamos escrevendo no caderno as vezes as palavras não cabem na mesma linha. Então precisamos separar a sílaba da última palavra da linha e continuar a escrever na linha seguinte.

Por isso, você vai praticar a separação de sílabas no seu livro, fazendo as atividades das páginas 45 a 47.

MATEMÁTICA- RELAÇÃO DE IGUALDADE NA SUBTRAÇÃO

COPIE NO CADERNO, RESOLVA E COLOQUE SE HÁ IGUALDADE = OU DIFERENÇA ≠

ESTAS SENTENÇAS POSSUEM RELAÇÃO DE IGUALDADE OU DIFERENÇA?
OBSERVE AS FICHAS E CALCULE:

$10 - 7$

$20 - 17$

$11 - 7$

$19 - 8$

$30 - 15$

$45 - 30$

$31 - 16$

$44 - 31$

02/07/2021

LÍNGUA PORTUGUESA – Trava-língua



MEMÓRIA EM JOGO

REALIZE O DESAFIO PROPOSTO NA PÁGINA 48/261 DO LIVRO DE LÍNGUA PORTUGUESA.

3º ANO – SEMANA DE 05 A 08/07

Escola: EMEB JOSIAS DA SILVA MACEDO
Professor (a): MAGNA, DALIELLA E BRUNA
Ano/turma: 3º A, 3º B E 3º C

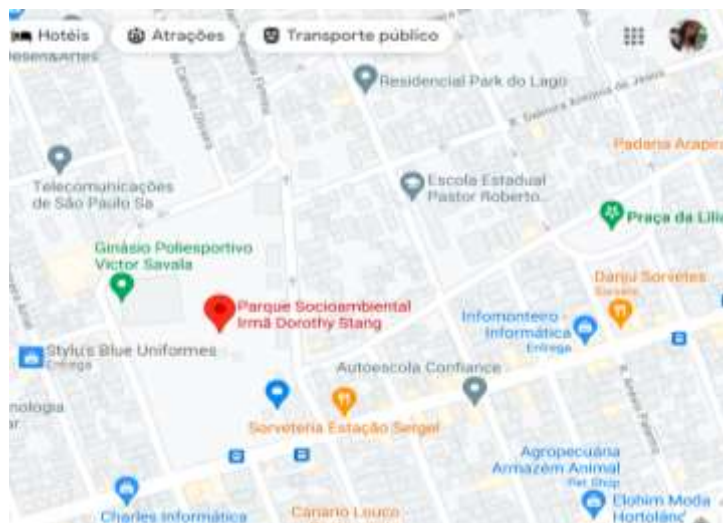
OLÁ QUERIDOS (AS), HOJE TENHO UM LEMBRETE IMPORTANTE: NÃO ESQUEÇA DE FAZER O CABEÇALHO TODOS OS DIAS ANTES DAS ATIVIDADES. EM ATIVIDADE NO LIVRO COLOQUE A DATA NA PÁGINA QUE VOCÊ INICIAR.

Dia da semana	Rotina diária: descrição das atividades
Segunda-feira Data: 05/07/21	LEITURA DIÁRIA: O mosquito e o leão. DISPONÍVEL EM: Livro Ápis- Língua Portuguesa 3ºano, pág.52 LÍNGUA PORTUGUESA/MATEMÁTICA/GEOGRAFIA: Deslocamento e localização- Livro Ápis Matemática, pág.59
Terça-feira Data: 06/07/21	LEITURA DIÁRIA: O URSO E DOIS AMIGOS- ESOPO DISPONÍVEL EM: https://www.baixelivros.com.br/infantil/o-urso-e-dois-amigos ATIVIDADE DIAGNÓSTICA DE LÍNGUA PORTUGUESA
Quarta-feira Data: 07/07/21	LEITURA DIÁRIA: Quanto Menos Lixo, Melhor! – Vários Autores https://www.baixelivros.com.br/quadrinhos/quanto-menos-lixo-melhor ATIVIDADE DIAGNÓSTICA DE MATEMÁTICA E CIÊNCIAS EDUCAÇÃO FÍSICA: https://portaleducacao.hortolandia.sp.gov.br/index.php/ed-fisica LÍNGUA INGLESA: https://portaleducacao.hortolandia.sp.gov.br/index.php/ingles
Quinta-feira Data: 08/07/21	LEITURA DIÁRIA: O Bem que a Gente Faz – 2ª Edição – Carolina Rodrigues. DISPONÍVEL EM: https://www.baixelivros.com.br/infantil/o-bem-que-a-gente-faz-2 ATIVIDADE DIAGNÓSTICA DE HISTÓRIA E GEOGRAFIA Artes: - https://portaleducacao.hortolandia.sp.gov.br/index.php/artes
Sexta-feira Data: 09/07/21	FERIADO

05/07/2021

LÍNGUA PORTUGUESA/MATEMÁTICA/ GEOGRAFIA - DESLOCAMENTO E LOCALIZAÇÃO

Você já viu um mapa de localização parecido com esse?



Ele mostra a localização do parque onde fica também nossa escola. Você pode ver melhor em seu celular ou computador nesse link:

<https://www.google.com/maps/place/Parque+Socioambiental+Irm%C3%A3+Dorothy+Stang/@-22.8964397,-47.1716455,17z/data=!3m1!4b1!4m5!3m4!1s0x94c8b8519137efed:0xfc85d7338682e8fc!8m2!3d-22.8964397!4d-47.1694568?hl=pt-BR>

Os aplicativos de G.P.S. (como Waze e Maps), que ajudam motoristas a se deslocarem, usam esse tipo de mapa. Você já viu um aplicativo desse? Acha fácil de entender e seguir as orientações que ele dá (como vire à direita, siga em frente, etc.)?

Então, vamos ver se você é bom (a) em seguir orientações de deslocamento. Faça as atividades 9 e 10 no seu livro de matemática, pág.59.

06/07/2021 - Hoje você pode dedicar-se à atividade diagnóstica de Língua Portuguesa.

07/07/2021 - Hoje você pode dedicar-se à atividade diagnóstica de Matemática e Ciências 😊.

08/07/2021 - Hoje você pode dedicar-se às atividade diagnóstica de História e Geografia.

09/07/2021 - Feriado

BOM FINAL DE SEMANA!