

## 2º ANO A, B E C

**PROFESSORAS: IVANI, EMILY E NILSE HELENA**

**ROTEIRO DE ATIVIDADES PARA OS DIAS DE: 23/08 a 03/09/2021.**

DIA DA SEMANA	ROTINA DIÁRIA: DESCRIÇÃO DAS ATIVIDADES
<b>SEGUNDA-FEIRA</b> <b>DATA: 23/08/2021</b>	<b>LEITURA DIÁRIA: NOITE DE HISTÓRIAS COM O PAPAÍ – JANE PRADO PÁGINAS 2 A 3.</b> DISPONÍVEL EM: <a href="https://www.baixelivros.com.br/infantil/noite-de-historias-com-o-papai">https://www.baixelivros.com.br/infantil/noite-de-historias-com-o-papai</a> <b>LÍNGUA PORTUGUESA:</b> - GÊNERO TEXTUAL HISTÓRIA EM QUADRINHO (HQ) ATIVIDADE COMPLEMENTAR LIVRO ÁPIS - PÁGINA: 92 A 95. <b>ATIVIDADE DE EDUCAÇÃO FÍSICA NO PORTAL.</b> <a href="https://portaleducacao.hortolandia.sp.gov.br/index.php/ed-fisica">https://portaleducacao.hortolandia.sp.gov.br/index.php/ed-fisica</a>
<b>TERÇA-FEIRA</b> <b>DATA: 24/08/2021</b>	<b>LEITURA DIÁRIA: NOITE DE HISTÓRIAS COM O PAPAÍ – JANE PRADO PÁGINAS 4 A 5.</b> DISPONÍVEL EM: <a href="https://www.baixelivros.com.br/infantil/noite-de-historias-com-o-papai">https://www.baixelivros.com.br/infantil/noite-de-historias-com-o-papai</a> <b>MATEMÁTICA:</b> - SITUAÇÕES PROBLEMAS. -ATIVIDADE COMPLEMENTAR LIVRO DE MATEMÁTICA PÁGINA 92
<b>QUARTA-FEIRA</b> <b>DATA: 25/08/2021</b>	<b>LEITURA DIÁRIA: NOITE DE HISTÓRIAS COM O PAPAÍ – JANE PRADO PÁGINAS 5 A 6.</b> DISPONÍVEL EM: <a href="https://www.baixelivros.com.br/infantil/noite-de-historias-com-o-papai">https://www.baixelivros.com.br/infantil/noite-de-historias-com-o-papai</a> <b>LÍNGUA PORTUGUESA:</b> - CRUZADINHA COM OS TIPOS DE RECURSOS NATURAIS. <b>ATIVIDADE DE INGLÊS NO PORTAL.</b> <a href="https://portaleducacao.hortolandia.sp.gov.br/index.php/ingles">https://portaleducacao.hortolandia.sp.gov.br/index.php/ingles</a>
<b>QUINTA-FEIRA</b> <b>DATA: 26/08/2021</b>	<b>LEITURA DIÁRIA: NOITE DE HISTÓRIAS COM O PAPAÍ – JANE PRADO PÁGINAS 7 A 8.</b> DISPONÍVEL EM: <a href="https://www.baixelivros.com.br/infantil/noite-de-historias-com-o-papai">https://www.baixelivros.com.br/infantil/noite-de-historias-com-o-papai</a> <b>MATEMÁTICA:</b> - ADIÇÃO. - PROBLEMAS DE ADIÇÃO ATIVIDADE COMPLEMENTAR LIVRO ÁPIS DE MATEMÁTICA PÁGINA 93.
<b>SEXTA-FEIRA</b> <b>DATA: 27/08/2021</b>	<b>LEITURA DIÁRIA: NOITE DE HISTÓRIAS COM O PAPAÍ – JANE PRADO PÁGINA 9</b> DISPONÍVEL EM: <a href="https://www.baixelivros.com.br/infantil/noite-de-historias-com-o-papai">https://www.baixelivros.com.br/infantil/noite-de-historias-com-o-papai</a> <b>ATIVIDADE INTERDISCIPLINAR:</b> - MEIO AMBIENTE. - ATIVIDADE COMPLEMENTAR LIVRO DE CIÊNCIAS BURITI PÁGINA 46 E 47 <b>ATIVIDADE DE ARTE NO PORTAL:</b> <a href="https://portaleducacao.hortolandia.sp.gov.br/index.php/artes">https://portaleducacao.hortolandia.sp.gov.br/index.php/artes</a>

- INTERAÇÃO DIÁRIA PARA TIRAR DÚVIDAS SOBRE AS ATIVIDADES VIA WATHSAPP.
- AULA ONLINE SEMANAL PELO GOOGLEMEET.

	EMEB JOSIAS DA SILVA MACEDO.
	HORTOLÂNDIA, 23 DE AGOSTO DE 2021.
	DIA DA SEMANA: SEGUNDA - FEIRA.
	NOME COMPLETO:

**1) ATIVIDADE DE LÍNGUA PORTUGUESA.**

# HISTÓRIA EM QUADRINHOS


A história em quadrinhos, como o próprio nome diz, é contada em quadros com desenhos e textos.  
As falas dos personagens são apresentadas em balões, que variam de formato conforme a mensagem.  
Vejam alguns tipos de balão.



A fala do personagem



O pensamento do personagem



O grito do personagem

**1) RESPONDA NO CADERNO AS PERGUNTAS ABAIXO.**

A) O que é uma História em Quadrinho (HQ)?

\_\_\_\_\_

B) Onde são escritas as falas das personagens?

\_\_\_\_\_




ATIVIDADE COMPLEMENTAR ÁPIS LÍNGUA PORTUGUESA PÁGINA 92 A 95.

24/08/2021 – TERÇA – FEIRA.

	EMEB JOSIAS DA SILVA MACEDO.
	HORTOLÂNDIA, 24 DE AGOSTO DE 2021.
	DIA DA SEMANA: TERÇA - FEIRA.
	NOME COMPLETO:

1) ATIVIDADE DE MATEMÁTICA.

APRENDER E BRINCAR



aprenderebrincar.com

JANAÍNA COMPROU 7 LÁPIS AZUIS, 5 LÁPIS VERMELHOS E 3 LÁPIS AMARELOS. QUANTOS LÁPIS ELA COMPROU AO TODO?

RESPOSTA: \_\_\_\_\_



aprenderebrincar.com

SOFIA TEM 11 CADERNOS, LAILA TEM 13 E CAMILA TEM 10. QUANTOS CADERNOS ELAS TEM JUNTAS?

RESPOSTA: \_\_\_\_\_



aprenderebrincar.com

ISABELA COMPROU UM BICHO DE PELÚCIA POR R\$25,00. PAGOU COM UMA NOTA DE R\$50,00. QUANTO ELA RECEBEU DE TROCO?

RESPOSTA: \_\_\_\_\_



aprenderebrincar.com

ANDRÉ TINHA 12 BONÉS. DEU ALGUNS PARA SEU PRIMO E FICOU COM 7. QUANTOS BONÉS ANDRÉ DEU PARA SEU PRIMO?

RESPOSTA: \_\_\_\_\_

2) **ATIVIDADE DE MATEMÁTICA.**

VAMOS RACIOCINAR?



UM LINDO PASSARINHO ESTAVA VOANDO LIVREMENTE, QUANDO DE REPENTE TROPEÇOU E CAIU.

✎ VOCÊ ACHA QUE ISTO PODE ACONTECER OU NÃO? EXPLIQUE.



✎ ANITA TEM UMA PATA PRETA, QUE BOTOU OVOS PRETOS. ISTO É POSSÍVEL OU NÃO?



✎ FERNANDO TINHA 8 BALÕES. ESTOURARAM 9. ISTO PODE ACONTECER? SIM OU NÃO?



**ATIVIDADE COMPLEMENTAR LIVRO MATEMÁTICA ÁPIS PÁGINA 92**

**25/08/2021 – QUARTA – FEIRA**

	EMEB JOSIAS DA SILVA MACEDO.
	HORTOLÂNDIA, 25 DE AGOSTO DE 2021.
	DIA DA SEMANA: QUARTA - FEIRA.
	NOME COMPLETO:

1) CRUZADINHA COM RECURSOS NATURAIS.

# Recursos Naturais



Água para beber.  
Água para limpar.

Água para plantar.  
Água para viver.

Que beleza!  
É a água na natureza.



Complete a cruzadinha.



(C)



(B)

(A)

(E)



(D)



(C)



(A)

26/08/2021 – QUINTA – FEIRA.

	EMEB JOSIAS DA SILVA MACEDO.
	HORTOLÂNDIA, 26 DE AGOSTO DE 2021.
	DIA DA SEMANA: QUINTA - FEIRA.
	NOME COMPLETO:

1) **ATIVIDADE DE MATEMÁTICA.**

$$\begin{array}{r} + 432 \\ + 530 \\ \hline \end{array} \quad \begin{array}{r} + 612 \\ + 234 \\ \hline \end{array} \quad \begin{array}{r} + 152 \\ + 440 \\ \hline \end{array}$$
$$\begin{array}{r} + 151 \\ + 236 \\ \hline \end{array} \quad \begin{array}{r} + 513 \\ + 382 \\ \hline \end{array} \quad \begin{array}{r} + 127 \\ + 150 \\ \hline \end{array}$$
$$\begin{array}{r} + 144 \\ + 442 \\ \hline \end{array} \quad \begin{array}{r} + 225 \\ + 214 \\ \hline \end{array} \quad \begin{array}{r} + 211 \\ + 352 \\ \hline \end{array}$$
$$\begin{array}{r} + 570 \\ + 316 \\ \hline \end{array} \quad \begin{array}{r} + 442 \\ + 270 \\ \hline \end{array} \quad \begin{array}{r} + 800 \\ + 103 \\ \hline \end{array}$$


**- ATIVIDADE COMPLEMENTAR DE MATEMATICA PÁGINA 93**

**27/08/2021 – SEXTA – FEIRA**

	EMEB JOSIAS DA SILVA MACEDO.
	HORTOLÂNDIA, 27 DE AGOSTO DE 2021.
	DIA DA SEMANA: SEXTA - FEIRA.
	NOME COMPLETO:

**ATIVIDADE INTERDISCIPLINAR**

PROFESSOR(A): \_\_\_\_\_



**MEIO AMBIENTE**

TUDO QUE EXISTE NA NATUREZA É MUITO IMPORTANTE PARA NÓS; O AR QUE RESPIRAMOS; A ÁGUA QUE MATA A NOSSA SEDE; QUE USAMOS PARA COZINHAR OS ALIMENTOS; O SOLO QUE VIVEMOS, PLANTAMOS, CONSTRUÍMOS NOSSAS CASAS; AS PLANTAS E OS ANIMAIS QUE NOS SERVEM DE ALIMENTOS. POR ISSO, É NECESSÁRIO QUE TODOS PENSEM NA IMPORTÂNCIA DA NATUREZA PARA A SOBREVIVÊNCIA DA HUMANIDADE E EVITEM DESTRUÍ-LA. CONSERVAR A NATUREZA É RESPONSABILIDADE DE CADA UM DE NÓS.

1) RESPONDA:

A) QUAL É A IMPORTÂNCIA DA NATUREZA PARA NÓS?

\_\_\_\_\_

\_\_\_\_\_

B) COMO VOCÊ PODE AJUDAR A PRESERVAR A NATUREZA?

\_\_\_\_\_

\_\_\_\_\_

2) DESENHE OU COLE FIGURAS (NO CADERNO), QUE MOSTREM AS PRINCIPAIS CAUSAS DA DESTRUIÇÃO DO MEIO AMBIENTE.

**ATIVIDADE COMPLEMENTAR LIVRO ÁPIS DE CIÊNCIAS PÁGINAS 46 E 47.**

**ROTEIRO DE ATIVIDADES PARA OS DIAS DE: 30/08/2021 a 03/09/2021**

<b>SEGUNDA-FEIRA</b> <b>DATA: 30/08/2021</b>	<b>LEITURA DIÁRIA:</b> A GARRAFA DE ÁGUA – JOHN GILBERT – PÁGINA 1. DISPONÍVEL EM: <a href="https://www.baixelivros.com.br/infantil/a-garrafa-de-agua">https://www.baixelivros.com.br/infantil/a-garrafa-de-agua</a> <b>LÍNGUA PORTUGUESA:</b> - DIMINUTIVO E AUMENTATIVO.  <b>ATIVIDADE DE EDUCAÇÃO FÍSICA NO PORTAL.</b> <a href="https://portaleducacao.hortolandia.sp.gov.br/index.php/ed-fisica">https://portaleducacao.hortolandia.sp.gov.br/index.php/ed-fisica</a>
<b>TERÇA-FEIRA</b> <b>DATA: 31/08/2021</b>	<b>LEITURA DIÁRIA:</b> A GARRAFA DE ÁGUA – JOHN GILBERT – PÁGINA 2. DISPONÍVEL EM: <a href="https://www.baixelivros.com.br/infantil/a-garrafa-de-agua">https://www.baixelivros.com.br/infantil/a-garrafa-de-agua</a> <b>MATEMÁTICA:</b> -TRABALHAR ADIÇÃO.  ATIVIDADE COMPLEMENTAR LIVRO ÁPIS DE MATEMÁTICA PÁGINA 95.
<b>QUARTA-FEIRA</b> <b>DATA: 01/09/2021</b>	<b>LEITURA DIÁRIA:</b> A GARRAFA DE ÁGUA – JOHN GILBERT – PÁGINA 3. DISPONÍVEL EM: <a href="https://www.baixelivros.com.br/infantil/a-garrafa-de-agua">https://www.baixelivros.com.br/infantil/a-garrafa-de-agua</a>  <b>ATIVIDADE INTERDISCIPLINAR:</b> - O QUE É O AMBIENTE. - <b>ATIVIDADE COMPLEMENTAR LIVRO BURITI DE CIÊNCIAS PÁGINAS 48 E 49.</b>  <b>ATIVIDADE DE INGLÊS NO PORTAL.</b> <a href="https://portaleducacao.hortolandia.sp.gov.br/index.php/ingles">https://portaleducacao.hortolandia.sp.gov.br/index.php/ingles</a>
<b>QUINTA-FEIRA</b> <b>DATA: 02/09/2021</b>	<b>LEITURA DIÁRIA:</b> A GARRAFA DE ÁGUA – JOHN GILBERT – PÁGINA 4. DISPONÍVEL EM: <a href="https://www.baixelivros.com.br/infantil/a-garrafa-de-agua">https://www.baixelivros.com.br/infantil/a-garrafa-de-agua</a> <b>ATIVIDADE INTERDISCIPLINAR:</b> -CICLO DA ÁGUA <b>DISPONÍVEL EM:</b> <a href="https://wordwall.net/pt/resource/6798359/higiene">https://wordwall.net/pt/resource/6798359/higiene</a> <b>ATIVIDADE DE ARTE NO PORTAL.</b> <a href="https://portaleducacao.hortolandia.sp.gov.br/index.php/artes">https://portaleducacao.hortolandia.sp.gov.br/index.php/artes</a>
<b>SEXTA-FEIRA</b> <b>DATA: 03/09/2021</b>	<b>LEITURA DIÁRIA:</b> A GARRAFA DE ÁGUA – JOHN GILBERT – PÁGINAS 5 A 7 DISPONÍVEL EM: <a href="https://www.baixelivros.com.br/infantil/a-garrafa-de-agua">https://www.baixelivros.com.br/infantil/a-garrafa-de-agua</a> <b>MATEMÁTICA</b> - SUBTRAÇÃO - <b>ATIVIDADE COMPLEMENTAR LIVRO DE MATEMÁTICA PÁGINAS 108 E 109.</b>

- INTERAÇÃO DIÁRIA PARA TIRAR DÚVIDAS SOBRE AS ATIVIDADES VIA WATHSAPP.
- AULA ONLINE SEMANAL PELO GOOGLE MEET.



	EMEB JOSIAS DA SILVA MACEDO.
	HORTOLÂNDIA, 30 DE AGOSTO DE 2021.
	DIA DA SEMANA: SEGUNDA - FEIRA.
	NOME COMPLETO:

**DIMINUTIVO E AUMENTATIVO (ÃO INHO E ZINHO).**

**01** Complete as palavras corretamente:



Serginho deu o leite ao **gato**, ao **gatinho** e ao **gatão**.

A palavra **gato** está na **forma normal**. Ela indica um gato de tamanho normal. **Gatinho** é um gato **pequeno**. A palavra **gatinho** está no .

**Gatão** é um gato **grande**. A palavra **gatão** está no .

**02** Veja no quadro alguns diminutivos e aumentativos:

normal	diminutivo	aumentativo
		borrachão
filha	filhinha	
	barquinha	barcaça
casa		casarão
garrafa	garrafinha	
	foguinho	fogaréu
	murinho	muralha

**03** Escolha, no quadro, palavras que devem pertencer ao grupo do diminutivo e ao grupo do aumentativo, e escreva-as na coluna certa:

patinho – ratão – leitão – galinho – cavalinho – gatão

cãozinho



canzarrão

4)ATIVIDADE DE LÍNGUA PORTUGUESA.

# Coisas Pequenas e Coisas Grandes

Veja as palavras abaixo e escreva-as nos quadros, classificando-as quanto ao grau:

BOCA, NARIGÃO, SALINHA, MURO, FOGARÉU, BOCARRA, NARIZ, SALA, CASA, RAPAZ, MURALHA, MURINHO, RAPAGÃO, CASARÃO, FOGUINHO, BOQUINHA, RAPAZINHO, FOGO, CASINHA, CHAPELÃO.

**Diminutivo**

\_\_\_\_\_

\_\_\_\_\_

\_\_\_\_\_

\_\_\_\_\_

\_\_\_\_\_

\_\_\_\_\_

\_\_\_\_\_

**Normal**

\_\_\_\_\_

\_\_\_\_\_

\_\_\_\_\_

\_\_\_\_\_

\_\_\_\_\_

\_\_\_\_\_

\_\_\_\_\_

**Aumentativo**

\_\_\_\_\_

\_\_\_\_\_

\_\_\_\_\_

\_\_\_\_\_

\_\_\_\_\_

\_\_\_\_\_

\_\_\_\_\_

31/08/2021 – TERÇA-FEIRA.

	EMEB JOSIAS DA SILVA MACEDO.
	HORTOLÂNDIA, 31 DE AGOSTO DE 2021.
	DIA DA SEMANA: TERÇA - FEIRA.
	NOME COMPLETO:

1) **ADIÇÃO.**

$\begin{array}{r} 123 \\ + 456 \\ \hline \end{array}$	$\begin{array}{r} 522 \\ + 154 \\ \hline \end{array}$	$\begin{array}{r} 323 \\ + 426 \\ \hline \end{array}$	$\begin{array}{r} 327 \\ + 651 \\ \hline \end{array}$	$\begin{array}{r} 152 \\ + 414 \\ \hline \end{array}$
$\begin{array}{r} 255 \\ + 123 \\ \hline \end{array}$	$\begin{array}{r} 121 \\ + 578 \\ \hline \end{array}$	$\begin{array}{r} 787 \\ + 111 \\ \hline \end{array}$	$\begin{array}{r} 321 \\ + 578 \\ \hline \end{array}$	$\begin{array}{r} 546 \\ + 252 \\ \hline \end{array}$
$\begin{array}{r} 151 \\ + 715 \\ \hline \end{array}$	$\begin{array}{r} 152 \\ + 625 \\ \hline \end{array}$	$\begin{array}{r} 524 \\ + 354 \\ \hline \end{array}$	$\begin{array}{r} 155 \\ + 624 \\ \hline \end{array}$	$\begin{array}{r} 623 \\ + 156 \\ \hline \end{array}$
$\begin{array}{r} 223 \\ + 456 \\ \hline \end{array}$	$\begin{array}{r} 247 \\ + 651 \\ \hline \end{array}$	$\begin{array}{r} 624 \\ + 241 \\ \hline \end{array}$	$\begin{array}{r} 307 \\ + 651 \\ \hline \end{array}$	$\begin{array}{r} 681 \\ + 317 \\ \hline \end{array}$
$\begin{array}{r} 243 \\ + 346 \\ \hline \end{array}$	$\begin{array}{r} 321 \\ + 278 \\ \hline \end{array}$	$\begin{array}{r} 462 \\ + 314 \\ \hline \end{array}$	$\begin{array}{r} 321 \\ + 278 \\ \hline \end{array}$	$\begin{array}{r} 357 \\ + 222 \\ \hline \end{array}$
$\begin{array}{r} 600 \\ + 258 \\ \hline \end{array}$	$\begin{array}{r} 155 \\ + 624 \\ \hline \end{array}$	$\begin{array}{r} 521 \\ + 274 \\ \hline \end{array}$	$\begin{array}{r} 151 \\ + 624 \\ \hline \end{array}$	$\begin{array}{r} 551 \\ + 247 \\ \hline \end{array}$

**(A)**

C	D	U
1	2	4
+2	5	1

**(B)**

C	D	U
2	3	5
+4	1	3

**(C)**

C	D	U
5	2	6
+4	0	2

AGORA VAMOS FAZER AS ATIVIDADES COMPLEMENTARES NO LIVRO ÁPIS DE MATEMÁTICA PÁGINA 95.

01/09/2021 – QUARTA-FEIRA.

	EMEB JOSIAS DA SILVA MACEDO.
	HORTOLÂNDIA, 01 DE SETEMBRO DE 2021.
	DIA DA SEMANA: QUARTA - FEIRA.
	NOME COMPLETO:

## **Como está o ambiente em que vivemos?**

Os seres humanos, os outros animais e os vegetais dependem do ambiente para viver. Todos necessitam da água, do solo e do ar limpos, sem poluição.

Mesmo sabendo disso, o ser humano tem destruído grande parte do planeta, e a consequência desses atos é que ele próprio e os demais seres vivos acabam sofrendo com essa agressão.

Sabemos que é preciso modificar os ambientes para produzir alimentos e para construir casas, escolas, hospitais e tantas outras coisas importantes para nossa vida. Mas, embora tudo isso seja necessário e importante, é preciso que essa transformação aconteça de maneira planejada para que se preserve o ambiente.

Se observarmos a qualidade do ar, da água e a ocupação do solo nas grandes cidades, vamos perceber que eles estão muito poluídos.

A poluição também pode ser levada pelo vento e pelas águas para regiões mais afastadas. Portanto, a poluição não afeta apenas os locais onde é produzida.

### **O que é ambiente?**

O ambiente é formado pelos seres vivos e elementos não vivos que são os seres brutos.

No ambiente, os seres vivos podem encontrar os elementos de que necessitam, como ar, água, luz, calor, abrigo e alimento. As plantas, por exemplo, retiram água e sais minerais do solo.

Existem ambientes aquáticos e ambientes terrestres.


### **Ambiente aquático**

É todo ambiente onde existe água no nosso planeta.

Os rios, os lagos e os mares são exemplos de ambientes aquáticos.

### **Seres do ambiente aquático**

Camarões, peixes, golfinhos, estrela-do-mar e alguns tipos de plantas são alguns exemplos de seres que vivem em ambiente aquático.



## Ambientes terrestres

As fotografias a seguir mostram exemplos de ambientes terrestres. Neles, encontramos diferentes seres vivos, que podem ser encontrados sobre o solo, no interior do solo e em rochas, por exemplo.

Os **desertos** são ambientes terrestres que se caracterizam, principalmente, pela pouca quantidade de chuvas.

O dromedário é um animal que vive no deserto.



As **florestas** são ambientes terrestres que se caracterizam, principalmente, pela grande quantidade de árvores.

O macaco-prego é um animal que pode ser encontrado na Floresta Amazônica.



As **regiões polares** são ambientes terrestres que, em geral, se caracterizam pelas baixas temperaturas e por apresentar superfícies cobertas de gelo.

O urso-polar é um animal que vive no Polo Norte.



### ATIVIDADE COMPLEMENTAR LIVRO ÁPIS DE CIÊNCIAS PÁGINA 48 E 49.

02/09/2021 – QUINTA-FEIRA.

	EMEB JOSIAS DA SILVA MACEDO.
	HORTOLÂNDIA, 02 DE SETEMBRO DE 2021.
	DIA DA SEMANA: QUINTA - FEIRA.

NOME COMPLETO:

## DESPERDÍCIO DE ÁGUA

O desperdício de água causa um grande dano ambiental, pois além de contribuir para a escassez desse importante componente essencial para nossa existência, também faz com que a conta de água seja aumentada, portanto, prevenir ainda é o melhor a se fazer.

Podemos evitar o desperdício de água e contribuir para sua preservação seguindo algumas instruções, como as citadas abaixo:

- feche a torneira enquanto escova os dentes.
- tome banhos rápidos.
- regule as válvulas de descarga
- use baldes em vez de mangueiras ao limpar as áreas externas.
- Todas essas medidas contribuem para a preservação da água.

**Leia o texto com muita atenção e responda as perguntas no seu caderno.**

1) O que causa o desperdício de água?

---

---

---

2) Escreva três maneiras de preservar a água citadas no texto.

---

---

---

3) Escreva três formas que você utiliza para economizar água em sua casa.

---

---

---

**03/09/2021 – SEXTA – FEIRA.**

	EMEB JOSIAS DA SILVA MACEDO.
	HORTOLÂNDIA, 03 DE SETEMBRO DE 2021.
	DIA DA SEMANA: SEXTA - FEIRA.
	NOME COMPLETO:

1) **SUBTRAÇÃO.**

$$\begin{array}{r} 822 \\ - 101 \\ \hline \end{array}$$

$$\begin{array}{r} 435 \\ - 223 \\ \hline \end{array}$$

$$\begin{array}{r} 603 \\ - 401 \\ \hline \end{array}$$

$$\begin{array}{r} 874 \\ - 621 \\ \hline \end{array}$$

$$\begin{array}{r} 756 \\ - 246 \\ \hline \end{array}$$

$$\begin{array}{r} 711 \\ - 201 \\ \hline \end{array}$$

$$\begin{array}{r} 822 \\ - 410 \\ \hline \end{array}$$

$$\begin{array}{r} 764 \\ - 564 \\ \hline \end{array}$$

$$\begin{array}{r} 799 \\ - 487 \\ \hline \end{array}$$

$$\begin{array}{r} 371 \\ - 250 \\ \hline \end{array}$$

$$\begin{array}{r} 766 \\ - 402 \\ \hline \end{array}$$

$$\begin{array}{r} 867 \\ - 425 \\ \hline \end{array}$$

$$\begin{array}{r} 999 \\ - 199 \\ \hline \end{array}$$

$$\begin{array}{r} 799 \\ - 457 \\ \hline \end{array}$$

$$\begin{array}{r} 796 \\ - 214 \\ \hline \end{array}$$

$$\begin{array}{r} 372 \\ - 102 \\ \hline \end{array}$$

**-ATIVIDADE COMPLEMENTAR LIVRO ÁPIS DE MATEMATICA PÁGINA 108 E 109.**

**CONSEGUIU REALIZAR AS ATIVIDADES DA SEMANA? PARABÉNS E BOM FINAL DE SEMANA!**

REFERÊNCIAS:

Aplicativo Pinterest.

Blog Educação e transformação: <https://educacaoetransformacaooficial.blogspot.com/2018/06/>

Atividades escolares; <http://atividades-escolares1.blogspot.com/2018/10/desafios-matematicos.html>