

1º ANO – SEMANA DE 23/08/2021 A 27/08/2021

Escola: EMEB JOSIAS DA SILVA MACEDO

Professor (a): BRUNA, DAMARES E ALEXSANDRA


Ano/turma: 1º A, 1º B E 1º C

| DIA DA SEMANA | ROTINA DIÁRIA: DESCRIÇÃO DAS ATIVIDADES |
|------------------------------------|--|
| SEGUNDA-FEIRA 23/08/2021 | LEITURA: O TESOURO DE BAT- CONTO ASIÁTICO DISPONÍVEL EM : https://www.baixelivros.com.br/infantil/o-tesouro-de-bat-conto-asiatico CABEÇALHO: LÍNGUA PORTUGUESA: ATIVIDADE ESCRITA- FORMAÇÃO DE PALAVRAS MATEMÁTICA: ADIÇÃO |
| TERÇA-FEIRA 24/08/2021 | LEITURA: O DUELO DAS FADAS- PATRICIA ENGEL DISPONÍVEL EM : : https://www.baixelivros.com.br/infantil/o-duelo-das-fadas CABEÇALHO: LÍNGUA PORTUGUESA: CANTIGA -SAPO CURURU; ATIVIDADE. MATEMÁTICA: SUBTRAÇÃO |
| QUARTA-FEIRA 25/08/2021 | LEITURA: A GARRAFA DE ÁGUA-JOHN GILBERT DISPONÍVEL EM : https://www.baixelivros.com.br/infantil/a-garrafa-de-agua CABEÇALHO: LÍNGUA PORTUGUESA: ATIVIDADES- CANTIGA MATEMÁTICA: MATERIAL DOURADO – 30 A 39 |
| QUINTA-FEIRA 26/08/2021 | LEITURA: A CASA DO SOL E DA LUA-SILVIA MORAL DISPONÍVEL EM : : https://www.baixelivros.com.br/infantil/a-casa-do-sol-e-da-lua CABEÇALHO: HISTÓRIA/GEOG./CIÊNCIAS: BRINQUEDOS DO BRASIL- LEITURA E DESAFIO Artes: : https://portaleducacao.hortolandia.sp.gov.br/index.php/artes |
| SEXTA-FEIRA 27/08/2021 | LEITURA: A MERCEARIA DA DONA MARIA-SEDUC/CE DISPONÍVEL EM : https://www.baixelivros.com.br/infantil/a-mercearia-da-dona-maria CABEÇALHO: LÍNGUA PORTUGUESA: CANTIGA- ATIVIDADE MATEMÁTICA: DECOMPOSIÇÃO DE DEZENAS E UNIDADES EDUCAÇÃO FÍSICA: <u>ED. FÍSICA (hortolandia.sp.gov.br)</u> INGLÊS: <u>INGLÊS (hortolandia.sp.gov.br)</u> |

ATIVIDADE DO DIA: 23- SEGUNDA- FEIRA

| |
|---|
| EMEB JOSIAS DA SILVA MACEDO. |
| HORTOLÂNDIA, _____ DE AGOSTO DE 2021. |
| HOJE É _____ (ex. segunda-feira) |
| NOME COMPLETO: |
| A-B-C-D-E-F-G-H-I-J-K-L-M-N-O-P-Q-R-S-T-U-V-W-X-Y-Z |

FORMANDO PALAVRAS



NE TA CA
BA RA SA PI
PO MA BA CO
TU MA PA TO
TE LA BO NA PE

1- FORME PALAVRAS, JUNTANDO AS SILABAS ESPALHADAS ACIMA :

| | |
|--------------------------|--------------------------|
| 1. <input type="text"/> | 2. <input type="text"/> |
| 3. <input type="text"/> | 4. <input type="text"/> |
| 5. <input type="text"/> | 6. <input type="text"/> |
| 7. <input type="text"/> | 8. <input type="text"/> |
| 9. <input type="text"/> | 10. <input type="text"/> |
| 11. <input type="text"/> | 12. <input type="text"/> |
| 13. <input type="text"/> | 14. <input type="text"/> |

MATEMÁTICA

| Adição | | | | |
|---|---|---|---|---|
| $\begin{array}{r} 9 \\ + 2 \\ \hline \end{array}$ | $\begin{array}{r} 6 \\ + 3 \\ \hline \end{array}$ | $\begin{array}{r} 8 \\ + 4 \\ \hline \end{array}$ | $\begin{array}{r} 5 \\ + 5 \\ \hline \end{array}$ | $\begin{array}{r} 7 \\ + 6 \\ \hline \end{array}$ |
| $\begin{array}{r} 4 \\ + 7 \\ \hline \end{array}$ | $\begin{array}{r} 2 \\ + 8 \\ \hline \end{array}$ | $\begin{array}{r} 3 \\ + 9 \\ \hline \end{array}$ | $\begin{array}{r} 1 \\ + 8 \\ \hline \end{array}$ | $\begin{array}{r} 9 \\ + 8 \\ \hline \end{array}$ |
| $\begin{array}{r} 8 \\ + 8 \\ \hline \end{array}$ | $\begin{array}{r} 7 \\ + 8 \\ \hline \end{array}$ | $\begin{array}{r} 6 \\ + 8 \\ \hline \end{array}$ | $\begin{array}{r} 5 \\ + 6 \\ \hline \end{array}$ | $\begin{array}{r} 4 \\ + 5 \\ \hline \end{array}$ |
| $\begin{array}{r} 3 \\ + 4 \\ \hline \end{array}$ | $\begin{array}{r} 2 \\ + 3 \\ \hline \end{array}$ | $\begin{array}{r} 1 \\ + 2 \\ \hline \end{array}$ | $\begin{array}{r} 7 \\ + 5 \\ \hline \end{array}$ | $\begin{array}{r} 7 \\ + 4 \\ \hline \end{array}$ |
| $\begin{array}{r} 7 \\ + 3 \\ \hline \end{array}$ | $\begin{array}{r} 7 \\ + 2 \\ \hline \end{array}$ | $\begin{array}{r} 6 \\ + 5 \\ \hline \end{array}$ | $\begin{array}{r} 6 \\ + 4 \\ \hline \end{array}$ | $\begin{array}{r} 6 \\ + 3 \\ \hline \end{array}$ |
| $\begin{array}{r} 6 \\ + 2 \\ \hline \end{array}$ | $\begin{array}{r} 5 \\ + 4 \\ \hline \end{array}$ | $\begin{array}{r} 5 \\ + 3 \\ \hline \end{array}$ | $\begin{array}{r} 4 \\ + 3 \\ \hline \end{array}$ | $\begin{array}{r} 4 \\ + 2 \\ \hline \end{array}$ |

ATIVIDADE DO DIA: 24- TERÇA- FEIRA

| |
|---|
| EMEB JOSIAS DA SILVA MACEDO. |
| HORTOLÂNDIA, _____ DE AGOSTO DE 2021. |
| HOJE É _____ (ex. segunda-feira) |
| NOME COMPLETO: |
| A-B-C-D-E-F-G-H-I-J-K-L-M-N-O-P-Q-R-S-T-U-V-W-X-Y-Z |

CANTIGA: SAPO CURURU



SAPO CURURU



NA BEIRA DO RIO

QUANDO O SAPO CANTA

Ó MANINHA



É PORQUE TEM FRIO.



A MULHER DO SAPO

DEVE ESTAR LÁ DENTRO

FAZENDO RENDINHA

Ó MANINHA



PARA O CASAMENTO.



PROJETO "CANTIGAS DE RODA"



Pinte o número de letras de cada palavra:

CURURU

BEIRA

QUANDO

MANINHA

PORQUE

MULHER

DEVE

RENDINHA

CASAMENTO

| | | | |
|---|---|---|---|
| 2 | 4 | 5 | 6 |
| 4 | 2 | 5 | 6 |
| 5 | 4 | 6 | 7 |
| 7 | 8 | 6 | 5 |
| 6 | 4 | 5 | 7 |
| 6 | 7 | 8 | 5 |
| 5 | 6 | 7 | 4 |
| 6 | 7 | 8 | 5 |
| 8 | 7 | 6 | 9 |

MATEMÁTICA

| | | | | |
|--|--|--|--|---|
| $\begin{array}{r} 7 \\ - 5 \\ \hline \end{array}$ | $\begin{array}{r} 8 \\ - 7 \\ \hline \end{array}$ | $\begin{array}{r} 9 \\ - 5 \\ \hline \end{array}$ | $\begin{array}{r} 6 \\ - 2 \\ \hline \end{array}$ | $\begin{array}{r} 5 \\ - 3 \\ \hline \end{array}$ |
| $\begin{array}{r} 9 \\ - 3 \\ \hline \end{array}$ | $\begin{array}{r} 10 \\ - 0 \\ \hline \end{array}$ | $\begin{array}{r} 10 \\ - 3 \\ \hline \end{array}$ | $\begin{array}{r} 2 \\ - 1 \\ \hline \end{array}$ | $\begin{array}{r} 9 \\ - 2 \\ \hline \end{array}$ |
| $\begin{array}{r} 7 \\ - 2 \\ \hline \end{array}$ | $\begin{array}{r} 8 \\ - 5 \\ \hline \end{array}$ | $\begin{array}{r} 7 \\ - 4 \\ \hline \end{array}$ | $\begin{array}{r} 9 \\ - 8 \\ \hline \end{array}$ | $\begin{array}{r} 8 \\ - 2 \\ \hline \end{array}$ |
| $\begin{array}{r} 9 \\ - 7 \\ \hline \end{array}$ | $\begin{array}{r} 6 \\ - 4 \\ \hline \end{array}$ | $\begin{array}{r} 5 \\ - 2 \\ \hline \end{array}$ | $\begin{array}{r} 10 \\ - 9 \\ \hline \end{array}$ | $\begin{array}{r} 6 \\ - 3 \\ \hline \end{array}$ |
| $\begin{array}{r} 3 \\ - 1 \\ \hline \end{array}$ | $\begin{array}{r} 4 \\ - 3 \\ \hline \end{array}$ | $\begin{array}{r} 8 \\ - 3 \\ \hline \end{array}$ | $\begin{array}{r} 9 \\ - 2 \\ \hline \end{array}$ | $\begin{array}{r} 7 \\ - 6 \\ \hline \end{array}$ |
| $\begin{array}{r} 10 \\ - 8 \\ \hline \end{array}$ | $\begin{array}{r} 8 \\ - 6 \\ \hline \end{array}$ | $\begin{array}{r} 7 \\ - 3 \\ \hline \end{array}$ | $\begin{array}{r} 5 \\ - 4 \\ \hline \end{array}$ | $\begin{array}{r} 6 \\ - 5 \\ \hline \end{array}$ |

ATIVIDADE DO DIA: 25- QUARTA- FEIRA

EMEB JOSIAS DA SILVA MACEDO.

HORTOLÂNDIA, _____ DE AGOSTO DE 2021.

HOJE É _____ (ex. segunda-feira)

NOME COMPLETO:

A-B-C-D-E-F-G-H-I-J-K-L-M-N-O-P-Q-R-S-T-U-V-W-X-Y-Z

PROJETO "CANTIGAS DE RODA"

RELEIA A CANTIGA.

**SAPO CURURU
NA BEIRA DO RIO
QUANDO O SAPO CANTA
Ó MANINHA
É PORQUE TEM FRIO.**



**A MULHER DO SAPO
DEVE ESTAR LÁ DENTRO
FAZENDO RENDINHA
Ó MANINHA
PARA O CASAMENTO.**

1) Circule na cantiga acima as palavras que rimam e copie-as abaixo as separando em sílabas:

2) Escreva uma palavra que rima com as palavras abaixo:

sapo - _____

mulher - _____

beira - _____

cururu - _____

A MULHER DO SAPO ESTÁ FAZENDO

| | | | | | | | |
|--|--|--|--|--|--|--|--|
| | | | | | | | |
|--|--|--|--|--|--|--|--|

PARA O

| | | | | | | | |
|--|--|--|--|--|--|--|--|
| | | | | | | | |
|--|--|--|--|--|--|--|--|

- ESCREVA PALAVRAS INICIADAS COM AS LETRAS DE SAPO.

S →

A →

P →

O →

ESCREVA A SÍLABA INICIAL DE CADA FIGURA E
DESCUBRA A PALAVRA.

| | | |
|---|---|--|
|  |  |  |
| | | |

| | |
|---|---|
|  |  |
| | |

| | | |
|--|---|---|
|  |  |  |
| | | |

MATEMÁTICA

Números de 30 até 39

1 – PINTE O NÚMERO CORRESPONDENTE AO MATERIAL DOURADO.

| | | |
|----|----|----|
| 30 | | |
| 31 | 32 | 33 |
| 34 | 35 | 36 |
| 37 | 38 | 39 |

| | | |
|----|----|----|
| 30 | | |
| 31 | 32 | 33 |
| 34 | 35 | 36 |
| 37 | 38 | 39 |

| | | |
|----|----|----|
| 30 | | |
| 31 | 32 | 33 |
| 34 | 35 | 36 |
| 37 | 38 | 39 |

| | | |
|----|----|----|
| 30 | | |
| 31 | 32 | 33 |
| 34 | 35 | 36 |
| 37 | 38 | 39 |

| | | |
|----|----|----|
| 30 | | |
| 31 | 32 | 33 |
| 34 | 35 | 36 |
| 37 | 38 | 39 |

| | | |
|----|----|----|
| 30 | | |
| 31 | 32 | 33 |
| 34 | 35 | 36 |
| 37 | 38 | 39 |

| | | |
|----|----|----|
| 30 | | |
| 31 | 32 | 33 |
| 34 | 35 | 36 |
| 37 | 38 | 39 |

| | | |
|----|----|----|
| 30 | | |
| 31 | 32 | 33 |
| 34 | 35 | 36 |
| 37 | 38 | 39 |

ATIVIDADE DO DIA: 26- QUINTA- FEIRA

| |
|---|
| EMEB JOSIAS DA SILVA MACEDO. |
| HORTOLÂNDIA, _____ DE AGOSTO DE 2021. |
| HOJE É _____ (ex. segunda-feira) |
| NOME COMPLETO: |
| A-B-C-D-E-F-G-H-I-J-K-L-M-N-O-P-Q-R-S-T-U-V-W-X-Y-Z |

HISTÓRIA E GEOGRAFIA/ CIÊNCIAS: BRINQUEDOS DO BRASIL

(Um adulto deve fazer a leitura para a criança)

ALGUMAS CRIANÇAS BRASILEIRAS FAZEM SEUS BRINQUEDOS APROVEITANDO MATERIAIS ENCONTRADOS NA NATUREZA, COMO GALHOS FOLHAS E SEMENTES.

PARA ELAS CONSTRUIR O SEU PRÓPRIO BRINQUEDO FAZ PARTE DA BRINCADEIRA:



NAS ALDEIAS INDÍGENAS DO POVO PANARÁ, NO ESTADO DO PARÁ, AS CRIANÇAS BRINCAM COM O PIÃO FEITO COM SEMENTE DA FRUTA DO TUCUMÃ PRESA EM UMA VARETA.

PARA BRINCAR, É PRECISO ENROLAR UM PEDAÇO DE BARBANTE EM VOLTA DA VARETA, AO PUXAR O BARBANTE COM FORÇA, O PIÃO GIRA E PRODUZ UM SOM PARECIDO COM UM ASSOVIO.

A PETECA É UM BRINQUEDO DE ORIGEM INDÍGENA NAS LÍNGUAS TUPI PETECA SIGNIFICA DAR UM TAPA COM AS MÃOS. A PETECA É FEITA DE PALHA DE MILHO AMARRADA COMO UMA TROUXINHA.

MUITAS CRIANÇAS INDÍGENAS APRENDEM A PRODUZIR ARCOS E FLECHAS USANDO VARAS DE BAMBU E FIBRAS. ELAS USAM AS FLECHAS SEM PONTEIRAS E TREINAM A PONTARIA BRINCANDO DE ACERTAR UM ALVO.

SERÁ QUE VOCÊ (COM A AJUDA DE UM ADULTO) TAMBÉM É CAPAZ DE FAZER UM BRINQUEDO ?

DESAFIO: FAÇA UM BRINQUEDO UTILIZANDO MATERIAIS RECICLÁVEIS OU REUTILIZANDO COISAS QUE VOCÊ JÁ TEM EM CASA. TIRE UMA FOTO BRINCANDO COM SEU BRINQUEDO E MANDE PARA SUA PROFESSORA.

ATIVIDADE DO DIA: 27- SEXTA- FEIRA

EMEB JOSIAS DA SILVA MACEDO.

HORTOLÂNDIA, _____ DE AGOSTO DE 2021.

HOJE É _____ (ex. segunda-feira)

NOME COMPLETO:

A-B-C-D-E-F-G-H-I-J-K-L-M-N-O-P-Q-R-S-T-U-V-W-X-Y-Z

CANTIGA DE RODA:

RECORTE E COLE A CANTIGA NA ORDEM CORRETA.

| |
|----------------------|
| SAPO CURURU |
| QUANDO O SAPO CANTA |
| PARA O CASAMENTO. |
| Ó MANINHA |
| FAZENDO RENDINHA |
| NA BEIRA DO RIO |
| A MULHER DO SAPO |
| É PORQUE TEM FRIO. |
| Ó MANINHA |
| DEVE ESTAR LÁ DENTRO |

MATEMÁTICA:

FIQUE LIGADO

Decomponha os numerais em dezenas e unidades.

| | | | |
|-----------|-----------|-----------|-----------|
| 15 D U | 27 D U | 30 D U | 11 D U |
| 44 D U | 72 D U | 59 D U | 7 D U |
| 26 D U | 62 D U | 83 D U | 94 D U |

1º ANO – SEMANA DE 30/08/2021 A 03/09/2021

Escola: EMEB JOSIAS DA SILVA MACEDO

Professor (a): BRUNA, DAMARES E ALEXSANDRA

Ano/turma: 1º A, 1º B E 1º C

| DIA DA SEMANA | ROTINA DIÁRIA: DESCRIÇÃO DAS ATIVIDADES |
|------------------------------------|--|
| SEGUNDA-FEIRA 30/08/2021 | LEITURA: JOANINHA SEM BOLINHA- CAROLINA RODRIGUES DISPONÍVEL EM : https://www.baixelivros.com.br/infantil/joaninha-sem-bolinha CABEÇALHO: LÍNGUA PORTUGUESA: FOLCLORE/ ATIVIDADES MATEMÁTICA: DEZENAS E UNIDADES |
| TERÇA-FEIRA 31/08/2021 | LEITURA: A OVELHA TIGRE- SILVIA MORAL DISPONÍVEL EM : https://www.baixelivros.com.br/infantil/a-ovelha-tigre CABEÇALHO: LÍNGUA PORTUGUESA: FOLCLORE- ATIVIDADES COMPLETE O TEXTO MATEMÁTICA: NÚMEROS DE 30 A 39 |
| QUARTA-FEIRA 01/09/2021 | LEITURA: LAGARTA BANGUELA, BORBOLETA BELA- SILVIA MORAL DISPONÍVEL EM : https://www.baixelivros.com.br/infantil/lagarta-banguela-borboleta-bela CABEÇALHO: LÍNGUA PORTUGUESA: FOLCLORE- PALAVRAS MATEMÁTICA: NÚMEROS DE 40 A 49 |
| QUINTA-FEIRA 02/09/2021 | LEITURA: A MENINA DO LEITE- JEAN DE LA FONTAINE DISPONÍVEL EM : https://www.baixelivros.com.br/infantil/a-menina-do-leite CABEÇALHO: LÍNGUA PORTUGUESA: ESCRITA DE PALAVRAS- BRINQUEDOS MATEMÁTICA: PROBLEMINHAS MATEMÁTICOS Artes : https://portaleducacao.hortolandia.sp.gov.br/index.php/artes |
| SEXTA-FEIRA 03/09/2021 | LEITURA: O SUSTO- VÁRIOS AUTORES DISPONÍVEL EM : https://www.baixelivros.com.br/infantil/o-susto-conta-para-mim CABEÇALHO: LÍNGUA PORTUGUESA/ CIÊNCIAS: RECURSOS NATURAIS- USAR E REUSAR VÍDEOS E ATIVIDADES MATEMÁTICA: AGRUPAMENTOS ATÉ 49 EDUCAÇÃO FÍSICA: ED. FÍSICA (hortolandia.sp.gov.br) INGLÊS: INGLÊS (hortolandia.sp.gov.br) |

TIVIDADE DO DIA: 30- SEGUNDA- FEIRA

| |
|---|
| EMEB JOSIAS DA SILVA MACEDO. |
| HORTOLÂNDIA, _____ DE AGOSTO DE 2021. |
| HOJE É _____ (ex. segunda-feira) |
| NOME COMPLETO: |
| A-B-C-D-E-F-G-H-I-J-K-L-M-N-O-P-Q-R-S-T-U-V-W-X-Y-Z |

ATIVIDADES FOLCLÓRICAS

FOLCLORE

EM AGOSTO COMEMORAMOS O **FOLCLORE**, QUE QUER DIZER COSTUMES DE UM POVO:

- FESTAS
- DANÇAS
- MÚSICAS
- COMIDAS
- VESTIMENTAS
- BRINCADEIRAS
- LENDAS E OUTRAS COISAS.

ALGUNS PERSONAGENS FOLCLÓRICOS



VAMOS COMPLETAR O NOME DOS PERSONAGENS DO FOLCLORE USANDO SOMENTE AS VOGAIS!



L B S M M



C R P R



C C



B T



M L



S C





LIMITANDO E REGISTRANDO

1) Limite uma dezena em cada quadro. Conte os elementos que sobraram. Depois, escreva os numerais no quadro posicional e no pontilhado. Veja o modelo:

| | | | | | | | | | | | | | | | |
|-------|---|---|---|---|---|-------|--|--|---|---|---|--|--|-------|--|
| | <table border="1"><tr><td>D</td><td>U</td></tr><tr><td>1</td><td>1</td></tr><tr><td colspan="2">.....</td></tr></table> | D | U | 1 | 1 | | | | <table border="1"><tr><td>D</td><td>U</td></tr><tr><td> </td><td> </td></tr><tr><td colspan="2">.....</td></tr></table> | D | U | | | | |
| D | U | | | | | | | | | | | | | | |
| 1 | 1 | | | | | | | | | | | | | | |
| | | | | | | | | | | | | | | | |
| D | U | | | | | | | | | | | | | | |
| | | | | | | | | | | | | | | | |
| | | | | | | | | | | | | | | | |
| | <table border="1"><tr><td>D</td><td>U</td></tr><tr><td> </td><td> </td></tr><tr><td colspan="2">.....</td></tr></table> | D | U | | | | | | <table border="1"><tr><td>D</td><td>U</td></tr><tr><td> </td><td> </td></tr><tr><td colspan="2">.....</td></tr></table> | D | U | | | | |
| D | U | | | | | | | | | | | | | | |
| | | | | | | | | | | | | | | | |
| | | | | | | | | | | | | | | | |
| D | U | | | | | | | | | | | | | | |
| | | | | | | | | | | | | | | | |
| | | | | | | | | | | | | | | | |
| | <table border="1"><tr><td>D</td><td>U</td></tr><tr><td> </td><td> </td></tr><tr><td colspan="2">.....</td></tr></table> | D | U | | | | | | <table border="1"><tr><td>D</td><td>U</td></tr><tr><td> </td><td> </td></tr><tr><td colspan="2">.....</td></tr></table> | D | U | | | | |
| D | U | | | | | | | | | | | | | | |
| | | | | | | | | | | | | | | | |
| | | | | | | | | | | | | | | | |
| D | U | | | | | | | | | | | | | | |
| | | | | | | | | | | | | | | | |
| | | | | | | | | | | | | | | | |
| | <table border="1"><tr><td>D</td><td>U</td></tr><tr><td> </td><td> </td></tr><tr><td colspan="2">.....</td></tr></table> | D | U | | | | | | <table border="1"><tr><td>D</td><td>U</td></tr><tr><td> </td><td> </td></tr><tr><td colspan="2">.....</td></tr></table> | D | U | | | | |
| D | U | | | | | | | | | | | | | | |
| | | | | | | | | | | | | | | | |
| | | | | | | | | | | | | | | | |
| D | U | | | | | | | | | | | | | | |
| | | | | | | | | | | | | | | | |
| | | | | | | | | | | | | | | | |
| | <table border="1"><tr><td>D</td><td>U</td></tr><tr><td> </td><td> </td></tr><tr><td colspan="2">.....</td></tr></table> | D | U | | | | | | <table border="1"><tr><td>D</td><td>U</td></tr><tr><td> </td><td> </td></tr><tr><td colspan="2">.....</td></tr></table> | D | U | | | | |
| D | U | | | | | | | | | | | | | | |
| | | | | | | | | | | | | | | | |
| | | | | | | | | | | | | | | | |
| D | U | | | | | | | | | | | | | | |
| | | | | | | | | | | | | | | | |
| | | | | | | | | | | | | | | | |

Represente cada conjunto em um Quadro Posicional e escreva abaixo a quantidade encontrada:

| Dezenas | Unidades |
|---------|----------|
| | |
| | |



São ____ caracóis.
 ____ caracóis é igual a:
 ____ Dezenas e ____ Unidades; ou ____ Unidades.

| Dezenas | Unidades |
|---------|----------|
| | |
| | |



São ____ abelhinhas.
 ____ abelhinhas é igual a:
 ____ Dezenas e ____ Unidades; ou ____ Unidades.

ATIVIDADE DO DIA: 31- TERÇA- FEIRA

EMEB JOSIAS DA SILVA MACEDO.

HORTOLÂNDIA, _____ DE AGOSTO DE 2021.

HOJE É _____ (ex. segunda-feira)

NOME COMPLETO:

A-B-C-D-E-F-G-H-I-J-K-L-M-N-O-P-Q-R-S-T-U-V-W-X-Y-Z

FOLCLORE:

COMPLETE OS TEXTOS COM APOIO DAS PALAVRAS.



ESTE É O _____.
ELE É UM NEGRINHO MUITO _____, QUE ADORA
FAZER _____ COM AS PESSOAS.
SACI USA SEMPRE UM _____ VERMELHO NA CABEÇA
E VIVE COM UM _____ NA BOCA.
ALÉM DISSO, ELE TEM UMA _____ SÓ.



O _____ É UM MENINO QUE VIVE NAS _____.
ELE É AMIGO DOS _____ E PROTEGE TODA A FLORESTA
DE _____.
O CURUPIRA TEM CABELOS _____ E OS _____
VIRADOS PARA TRÁS.



O HOMEM VIRA _____ TODA VEZ QUE NASCE
UM MENINO DEPOIS DE SETE FILHAS.
ELE APARECE EM SEXTA-FEIRA DE _____ CHEIA.
O LOBISOMEM É _____ E TEM _____
NO LUGAR DE UNHAS.

PÉS PERNA CURUPIRA LUA MATAS TRAVESSURA
LOBISOMEM CACHIMBO ANIMAIS GORRO PELUDO
CAÇADORES SACI LEVADO GARRAS VERMELHOS

MATEMÁTICA:

Números de 30 até 39

1 – COMPLETE AS SEQUÊNCIAS NUMÉRICAS DE ACORDO COM CADA INSTRUÇÃO:

A) DE 1 EM 1:

| | | | | | | | | | |
|----|--|--|--|--|--|--|--|--|--|
| 30 | | | | | | | | | |
|----|--|--|--|--|--|--|--|--|--|

B) DE 2 EM 2:

| | | | | |
|----|--|--|--|--|
| 30 | | | | |
|----|--|--|--|--|

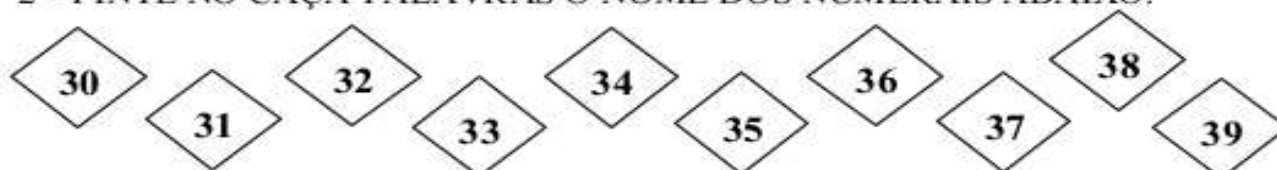
C) DE 3 EM 3:

| | | | |
|----|--|--|--|
| 30 | | | |
|----|--|--|--|

D) DE 4 EM 4:

| | | |
|----|--|--|
| 30 | | |
|----|--|--|

2 – PINTE NO CAÇA-PALAVRAS O NOME DOS NUMERAIS ABAIXO:



| | | | | | | | | | | | | | | | | | | |
|---|---|---|---|---|---|---|---|---|---|---|---|---|---|---|---|---|---|---|
| T | I | Z | E | N | H | G | P | I | Q | A | S | F | B | W | M | T | R | I |
| R | I | T | R | I | N | T | A | * | E | * | D | O | I | S | G | R | U | B |
| I | G | K | * | H | R | Ç | F | M | K | P | U | P | T | Z | H | I | F | T |
| N | H | L | T | J | * | S | W | F | D | F | * | D | B | G | E | N | D | R |
| T | R | I | N | T | A | * | E | * | N | O | V | E | U | D | L | T | V | I |
| A | I | Ç | K | O | Y | H | T | S | E | G | A | W | * | S | Ç | A | C | N |
| * | T | R | I | N | T | A | * | E | * | T | R | È | S | A | M | * | L | T |
| E | R | * | L | P | W | K | J | H | W | T | G | H | E | P | T | E | K | A |
| * | I | G | P | Ç | D | R | L | Ç | T | R | L | C | J | O | R | * | U | * |
| Q | M | T | Q | T | R | I | N | T | A | * | E | * | S | E | I | S | A | E |
| U | T | * | V | A | F | Y | M | A | L | S | A | X | U | Y | N | E | W | * |
| A | T | R | I | N | T | A | * | E | * | U | M | F | D | I | T | T | B | O |
| T | B | S | D | U | S | E | O | Z | Ç | B | Ç | N | K | R | A | E | V | I |
| R | N | F | X | B | I | J | R | G | A | N | S | A | Z | T | N | * | Ç | T |
| O | X | E | R | M | T | R | I | N | T | A | * | E | * | C | I | N | C | O |
| K | S | R | T | J | A | Q | U | B | D | R | X | Y | V | E | U | H | A | W |

ATIVIDADE DO DIA: 01- QUARTA- FEIRA

EMEB JOSIAS DA SILVA MACEDO.

HORTOLÂNDIA, _____ DE SETEMBRO DE 2021.

HOJE É _____ (ex. segunda-feira)

NOME COMPLETO:

A-B-C-D-E-F-G-H-I-J-K-L-M-N-O-P-Q-R-S-T-U-V-W-X-Y-Z

FOLCLORE:

ATIVIDADE

COMPLETE O PEDACINHO QUE FALTA, PENSE NO SOM QUE SAI DE SUA BOQUINHA E NAS LETRAS QUE IRÁ USAR:



SERE



CU



SA



CURUPI

PINTE AS SÍLABAS QUE FORMAM OS NOMES:



BO DE NA TO CA DA RO



BOI MA SA LE FA CI GA



BOI MA TA LE TÁ CI GA

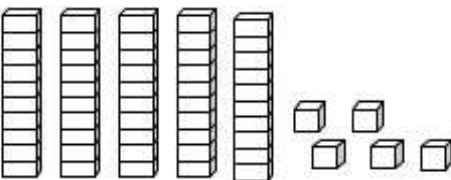
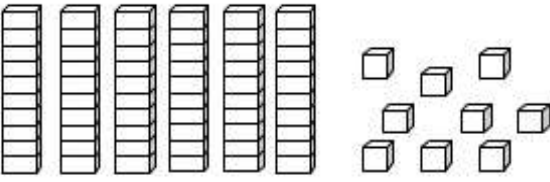
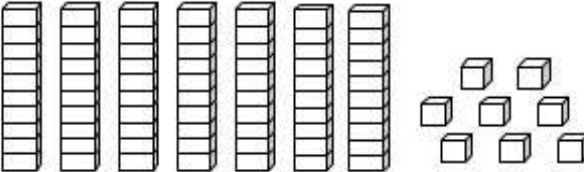


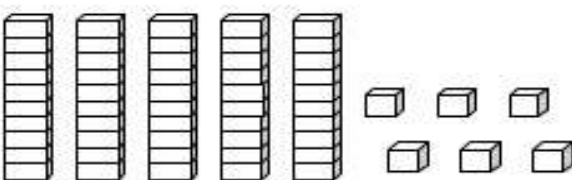
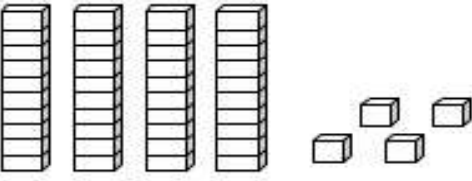
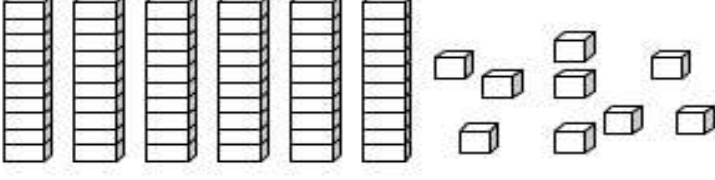

ZE LO CA BI XA SO MEM

www.mestredosaber.com.br

Números de 40 até 49

1 - PINTE AS PEÇAS DO MATERIAL DOURADO DE ACORDO COM O NÚMERO INDICADO.

| | |
|-----------|--|
| 43 |  |
| 49 |  |
| 46 |  |

| | |
|-----------|--|
| 44 |  |
| 41 |  |
| 48 |  |
| 42 |  |

Números de 40 até 49

1 – LIGUE A ESCRITA NUMÉRICA DE ACORDO COM O NÚMERO CORRESPONDENTE:

| | | | |
|----------------------|----|---------------------|----|
| QUARENTA E OITO | 44 | QUARENTA E CINCO | 43 |
| QUARENTA E UM | 48 | QUARENTA | 46 |
| QUARENTA E NOVE | 41 | QUARENTA E TRÊS | 42 |
| QUARENTA E SETE | 47 | QUARENTA E SEIS | 40 |
| QUARENTA E QUATRO | 49 | QUARENTA E DOIS | 45 |

2 – ESCREVA OS NÚMEROS ABAIXO EM **ORDEM DECRESCENTE** (DO MAIOR PARA O MENOR)

| | | | | | |
|----|----|----|----|----|----|
| 46 | 42 | 49 | 47 | 44 | 40 |
|----|----|----|----|----|----|

ATIVIDADE DO DIA: 02- QUINTA- FEIRA

| |
|---|
| EMEB JOSIAS DA SILVA MACEDO. |
| HORTOLÂNDIA, _____ DE SETEMBRO DE 2021. |
| HOJE É _____ (ex. segunda-feira) |
| NOME COMPLETO: |
| A-B-C-D-E-F-G-H-I-J-K-L-M-N-O-P-Q-R-S-T-U-V-W-X-Y-Z |

PALAVRAS :

ESCREVA OS NOMES

BRINQUEDOS

TI

NE

PA

TE

NE

CA

BO

CA

TE

PE

BO

BAM

LÊ

BO

QUÊ

BIL

RI

NHO

CAR

NÓ

DO

MI

RE

TAS

VA

TE

BOL

FU

VI

ÃO

A

MATEMÁTICA



EM UM GALINHEIRO HAVIAM 10 PINTINHOS.
NASCERAM MAIS 6. QUANTOS PINTINHOS HÁ
AGORA NO GALINHEIRO?

aprenderebrincar.com

RESPOSTA: _____



ANA TEM 5 LÁPIS DE COR. QUANTO ELA
PRECISARÁ GANHAR PARA FICAR COM 12
LÁPIS?

aprenderebrincar.com

RESPOSTA: _____



OS AMIGOS ESTÃO JOGANDO FUTEBOL.
LUCAS FEZ 9 GOLS E SEU AMIGO FELIPE FEZ 3.
QUANTOS GOLS ELES FIZERAM NO TOTAL?

aprenderebrincar.com

RESPOSTA: _____



NO JOGO DE XADREZ PEDRO FEZ 7 PONTOS E
MARIANA FEZ 4. QUANTOS PONTOS ELES
FIZERAM JUNTOS?

aprenderebrincar.com

RESPOSTA: _____

ATIVIDADE DO DIA: 03- SEXTA- FEIRA

| |
|---|
| EMEB JOSIAS DA SILVA MACEDO. |
| HORTOLÂNDIA, _____ DE SETEMBRO DE 2021. |
| HOJE É _____ (ex. segunda-feira) |
| NOME COMPLETO: |
| A-B-C-D-E-F-G-H-I-J-K-L-M-N-O-P-Q-R-S-T-U-V-W-X-Y-Z |

LINGUA PORTUGUESA E CIÊNCIAS- RECURSOS NATURAIS: USAR/ REUSAR E RECICLAR

ASSISTA AOS VÍDEOS: <https://www.youtube.com/watch?v=LOnOWtSj7hY>

<https://www.youtube.com/watch?v=4FgQuzVV8UA>



Meio ambiente

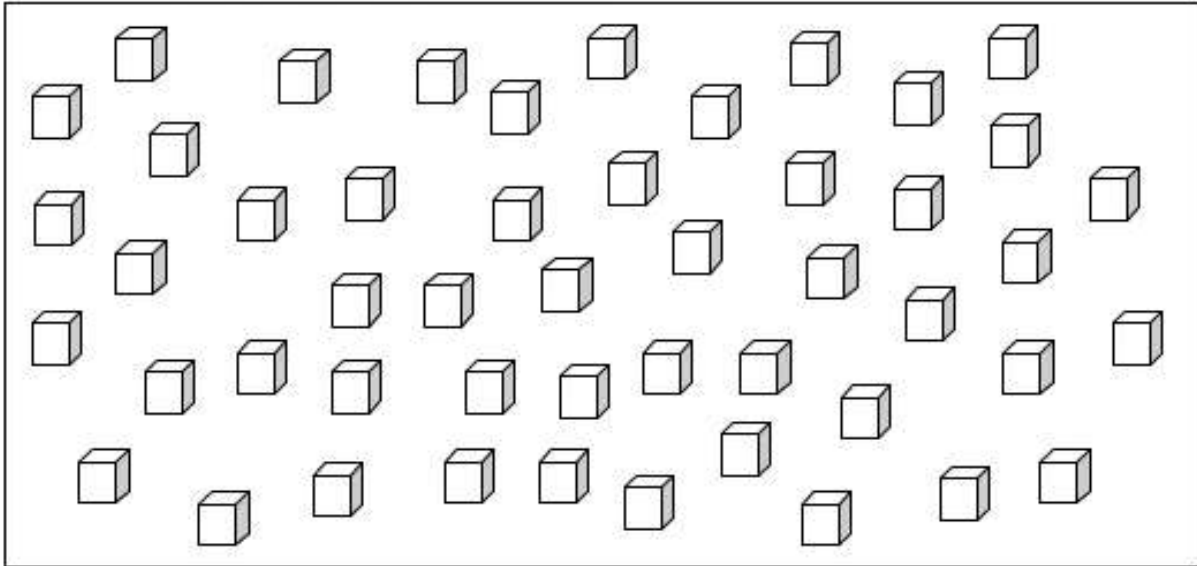
1. Pinte de azul os quadrinhos com as atitudes corretas para o meio ambiente e de amarelo os com as atitudes incorretas.

- Jogar lixo nas ruas.
- Separar o lixo para que possa ser reciclado.
- Jogar garrafas e latas nas águas dos rios.
- Economizar energia elétrica, apagando luzes e tomando banhos rápidos.
- Caçar animais.
- Economizar água fechando bem as torneiras.

2. Desenhe o meio ambiente preservado.

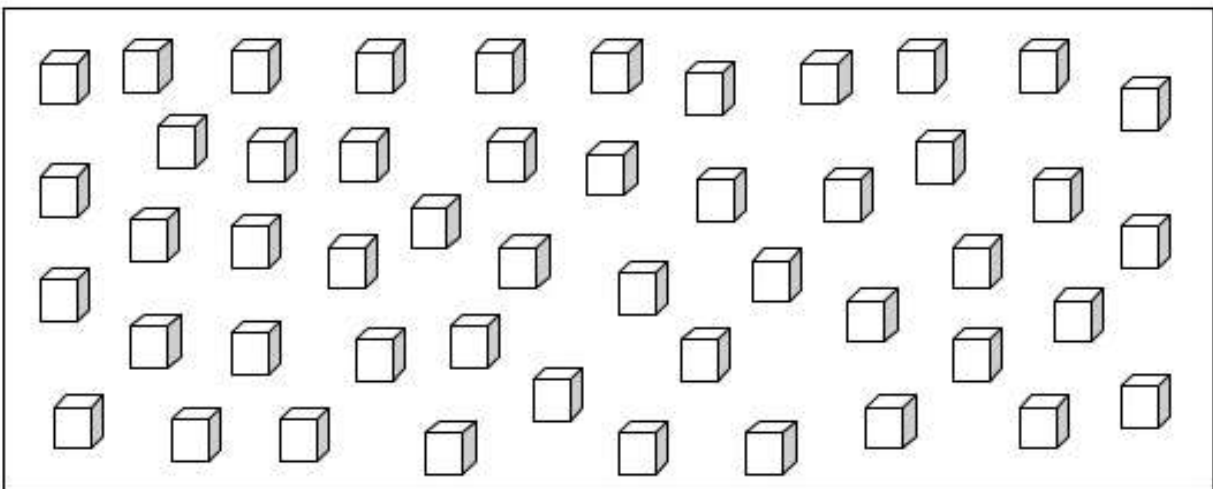
Agrupamentos até 49

1 – AGRUPE OS CUBINHOS DE 2 EM 2.



- a) Quantos grupos você formou? _____
- b) Quantas unidades sobraram? _____
- c) Total de cubinhos que foram agrupados? _____

2 – AGRUPE OS CUBINHOS DE 5 EM 5.



- a) Quantos grupos você formou? _____
- b) Quantas unidades sobraram? _____
- c) Total de cubinhos que foram agrupados? _____