



ANEXO II

QUADRO DE ROTINAS DIÁRIAS

(Ensino Fundamental I e II, Educação Integral, EJA I e II, CIER)

Escola: **EMEB RICHARD CHIBIM NAUMANN**

Professoras: **ELAINE, GILMAR, MARIA EMÍLIA, VANESSA**

Ano/turma: **3ºanos A, B, C, D**

Semana de: **22 a 26/11/2021**

Registro quinzenal da rotina de estudos dos alunos.

Obs: As atividades, utilizando-se dos livros didáticos, serão desenvolvidas com interação do profº, através do Google Meet, o Power Point, Inshot, Kinemaster, Zoom, PlayGames ou chamada de vídeo pelo WhatsApp.

Dia da semana	Rotina diária: descrição das atividades
Segunda – feira Data: 22/11/2021	Leitura: O coelho sem orelhas. Autor: Klaus Baumgart – Til Schweiger – Editora Panda Books. (Arquivo em PDF encaminhado aos pais via WhatsApp). Geografia: Leitura do texto introdutório. No livro didático: leitura e atividades das páginas 117, 118 e 119.
Terça-feira Data: 23/11/2021	Leitura: O coelho sem orelhas. Autor: Klaus Baumgart – Til Schweiger – Editora Panda Books. (Arquivo em PDF encaminhado aos pais via WhatsApp). Português: Leia o texto e depois pontue corretamente. Educação Física: Hoje é dia de aula de Educação Física, acesse a atividade no Portal Educação.
Quarta-feira Data: 24/11/2021	Leitura: O coelho sem orelhas. Autor: Klaus Baumgart – Til Schweiger – Editora Panda Books. (Arquivo em PDF encaminhado aos pais via WhatsApp). Matemática: Efetue as subtrações no caderno. Arte: Hoje é dia de aula de Arte, acesse a atividade no Portal Educação.



ANEXO II

QUADRO DE ROTINAS DIÁRIAS

(Ensino Fundamental I e II, Educação Integral, EJA I e II, CIER)

Quinta-feira Data: 25/11/2021	<p>Leitura: O coelho sem orelhas. Autor: Klaus Baumgart – Til Schweiger – Editora Panda Books. (Arquivo em PDF encaminhado aos pais via WhatsApp).</p> <p>Leitura do texto introdutório.</p> <p>Ciências: No livro didático: leitura e atividades das páginas 128 e 129 – Exercícios 1 e 2.</p> <p>Inglês: Hoje é dia de aula de Inglês. Acesse a atividade Portal Educação. ACT 15 – MEANS OF TRANSPORT - PAGE 43.</p>
Sexta-feira Data: 26/11/2021	<p>Leitura: O coelho sem orelhas. Autor: Klaus Baumgart – Til Schweiger – Editora Panda Books. (Arquivo em PDF encaminhado aos pais via WhatsApp).</p> <p>Leitura do texto introdutório.</p> <p>História: No livro didático: leitura e atividades das páginas 88 e 89.</p>

OBS: Esclarecimentos quanto a dúvidas e as orientações referentes ao conteúdo acontecem através de áudios, vídeos chamadas pelo WhatsApp, Zoom, Google Meet, bem como através de atendimento individual por meio de PLANTÃO DE DÚVIDAS através do WhatsApp de cada responsável.

Unidade Escolar: EMEB RICHARD CHIBIM NAUMANN
Professor(a): Vanessa, Elaine, Gilmar e Maria Emília
Especialidade: Língua Portuguesa, Matemática, Ciências, História e Geografia
Faixa etária ou ano: 3º anos A, B, C e D
Data: 22 a 26/11/2021

OLÁ QUERIDAS CRIANÇAS! ESPERAMOS QUE TODOS ESTEJAM BEM!
PRONTOS PARA INICIARMOS MAIS UMA SEMANA?

SEGUNDA-FEIRA
GEOGRAFIA



NAS CIDADES, A CONCENTRAÇÃO DE PESSOAS, DE VEÍCULOS, DE ATIVIDADES INDUSTRIAIS, DE COMÉRCIO E DE SERVIÇO PODE GERAR VÁRIOS PROBLEMAS AMBIENTAIS.

QUER SABER UM POUCO MAIS SOBRE OS PROBLEMAS AMBIENTAIS NA CIDADE? OBSERVE A ROTINA, PARA APRIMORAR SEU CONHECIMENTO NO **LIVRO DE GEOGRAFIA** PÁGINAS 117, 118 E 119.

TERÇA-FEIRA
PORTUGUÊS

■ Leia o texto e reescreva-o pontuando com **,** **?** ou **!**.

Num dia chuvoso, um objeto de muito valor foi roubado o detetive pergunta aos moradores da casa:

— Cozinheiro, onde você estava na hora do crime

— Eu estava na cozinha

— E você, mordomo

— Estava levando água para a madame

— E você, jardineiro

— Estava regando as flores

Quem é o criminoso

O jardineiro ele disse que estava regando as flores, mas estava chovendo naquele dia.

QUARTA-FEIRA

MATEMÁTICA

COPIE E RESOLVA EM SEU CADERNO:

1. Efetue as subtrações.

$$\begin{array}{r} \text{D} \quad \text{U} \\ 9 \quad 7 \\ - 2 \quad 4 \\ \hline \end{array}$$

$$\begin{array}{r} \text{D} \quad \text{U} \\ 5 \quad 3 \\ - 2 \quad 1 \\ \hline \end{array}$$

$$\begin{array}{r} \text{D} \quad \text{U} \\ 7 \quad 6 \\ - 3 \quad 6 \\ \hline \end{array}$$

$$\begin{array}{r} \text{D} \quad \text{U} \\ 8 \quad 9 \\ - 8 \quad 2 \\ \hline \end{array}$$

$$\begin{array}{r} \text{C} \quad \text{D} \quad \text{U} \\ 3 \quad 7 \quad 5 \\ - \quad 5 \quad 1 \\ \hline \end{array}$$

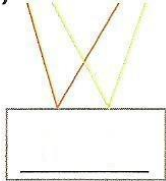
$$\begin{array}{r} \text{C} \quad \text{D} \quad \text{U} \\ 5 \quad 6 \quad 8 \\ - 1 \quad 0 \quad 6 \\ \hline \end{array}$$

$$\begin{array}{r} \text{C} \quad \text{D} \quad \text{U} \\ 8 \quad 3 \quad 3 \\ - 2 \quad 3 \quad 1 \\ \hline \end{array}$$


$$\begin{array}{r} \text{C} \quad \text{D} \quad \text{U} \\ 5 \quad 8 \quad 2 \\ - 3 \quad 2 \quad 1 \\ \hline \end{array}$$

2. Calcule.


a) $78 - 14$



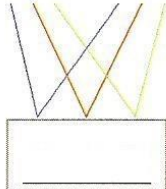
b) $94 - 51$




c) $89 - 54$



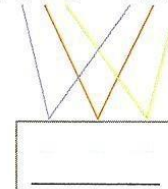
d) $297 - 154$



e) $769 - 429$



f) $875 - 232$



3. Calcule e complete.

a) $695 - 303 =$ _____ centenas + dezenas + unidades

b) $458 - 150 =$ _____ centenas + dezena + unidades

c) $287 - 73 =$ _____ centenas + dezena + unidades

d) $529 - 515 =$ _____ centena + dezena + unidades

e) $178 - 54 =$ _____ centena + dezenas + unidades

f) $972 - 372 =$ _____ centenas + dezena + unidade

QUINTA-FEIRA

CIÊNCIAS



OLHANDO PARA O CÉU DURANTE O DIA, PODEMOS VER:

- DIVERSOS SERES VIVOS, COMO AVES, INSETOS;
- OBJETOS CONSTRUÍDOS PELOS SERES HUMANOS, COMO AVIÕES E BALÕES DE AR QUENTE;
- FENÔMENOS NATURAIS, COMO NUVENS, RAIOS CHUVA E ARCO-ÍRIS.
- ASTROS, COMO O SOL, A LUA E OS PLANETAS, QUE SÃO ELEMENTOS QUE ESTÃO FORA DA TERRA.

QUER SABER UM POUCO MAIS SOBRE O CÉU? OBSERVE A ROTINA, PARA APRIMORAR SEU CONHECIMENTO NO **LIVRO DE CIÊNCIAS** PÁGINAS 128 E 129, EXERCÍCIOS 1 E 2.

SEXTA-FEIRA

HISTÓRIA

A HISTÓRIA SEMPRE NARROU DIVERSOS CICLOS DE IMIGRAÇÕES PARA O BRASIL, SEJA DURANTE O PERÍODO DE COLONIZAÇÃO, SEJA DURANTE OS TEMPOS POSTERIORES. AO LONGO DOS SÉCULOS, VÁRIOS POVOS OCUPARAM O NOSSO PAÍS, A MAIORIA FORMADA POR EUROPEUS, MAS TAMBÉM CHINESES, JAPONESES, LATINO-AMERICANOS, ENTRE OUTROS.

QUER SABER UM POUCO MAIS SOBRE AS CONDIÇÕES DE VIDA E TRABALHO DOS IMIGRANTES? OBSERVE A ROTINA, PARA APRIMORAR SEU CONHECIMENTO NO **LIVRO DE HISTÓRIA** PÁGINAS 88 E 89.

PRONTO!

SEMANA FINALIZADA!

ATÉ A PRÓXIMA!

FIQUEM BEM!



Referências Bibliográficas:

Orientações curriculares do 3ºano/2020. Secretaria de Educação, Ciência e Tecnologia.

Trinconi, Ana; Ápis Língua Portuguesa, 3ºano: ensino fundamental anos iniciais; Ana Trinconi, Terezinha Bertin, Vera Marchesi. 3ª edição – São Paulo: Ática, 2017.

Dante, Luiz Roberto; Ápis Matemática, 3ºano: ensino fundamental anos iniciais; Luiz Roberto Dante, 3ª edição - SP: Ática, 2017.

Buriti Mais: História, organizadora Editora Moderna; obra coletiva concebida, desenvolvida e produzida pela Editora Moderna; Editora responsável Lucimara Regina de Souza Vasconcelos - 1ª edição - São Paulo: Moderna, 3ºano, 2017.

Buriti Mais: Ciências, organizadora Editora Moderna; obra coletiva concebida, desenvolvida e produzida pela Editora Moderna; Editora responsável Ana Carolina de Almeida Yamamoto - 1ª edição - São Paulo: Moderna, 3ºano, 2017.

Buriti Mais: Geografia, organizadora Editora Moderna; obra coletiva concebida, desenvolvida e produzida pela Editora Moderna; Editora responsável Ana Carolina de Almeida Yamamoto - 1ª edição - São Paulo: Moderna, 3ºano, 2017.

Arquivos da internet:

<https://www.todamateria.com.br/tipos-de-poluicao/>

<https://pt.dreamstime.com/fotografia-de-stock-royalty-free-fundo-do-dia-dos-desenhos-animados-image4432347>

<https://brasilecola.uol.com.br/geografia/imigracoes-atuais-no-brasil.htm>

https://br.freepik.com/vetores-premium/criancas-usando-mascaras-protetoras-e-criancas-estao-na-fila-para-lavar-as-maos-relacionado-ao-coronavirus_7847628.htm