



ANEXO II

QUADRO DE ROTINAS DIÁRIAS

(Ensino Fundamental I e II, Educação Integral, EJA I e II, CIER)

Escola: **EMEB INTERLAGOS**

Professoras: **JULIANA, CLAUDIA BESEN, ANA CLAUDIA, SARA, LIDIANE**

Ano/turma: **2ºanos A, B, C, D, E**

Semana de: **16 A 20/08/2021**

Registro quinzenal da rotina de estudos dos alunos.

Obs: As atividades, utilizando-se dos livros didáticos, serão desenvolvidas com interação do profº, através do Google Meet, o Power Point, Inshot, Kinemaster, Zoom, PlayGames ou chamada de vídeo pelo WhatsApp.

Dia da semana	Rotina diária: descrição das atividades
Segunda – feira Data: 16/08	Leitura: O Dono da Bola! Ruth Rocha. Páginas: 1 a 4. (Arquivo em PDF encaminhado aos pais via WhatsApp). Português e História: Texto e interpretação atividades 1.
Terça-feira Data: 17/08	Leitura: O Dono da Bola! Ruth Rocha! Ruth Rocha. Páginas: 5 a 8. (Arquivo em PDF encaminhado aos pais via WhatsApp). Geografia: Atividades 2. Educação Física: Hoje é dia de aula de Educação Física, acesse a atividade no Portal Educação.
Quarta-feira Data: 18/08	Leitura O Dono da Bola! Ruth Rocha. Páginas: 9 a 11(Arquivo em PDF encaminhado aos pais via WhatsApp). Geografia: Atividade 3. Arte: Hoje é dia de aula de Arte, acesse a atividade no Portal Educação.



ANEXO II

QUADRO DE ROTINAS DIÁRIAS

(Ensino Fundamental I e II, Educação Integral, EJA I e II, CIER)

Quinta-feira Data: 19/08	Leitura O Dono da Bola! Ruth Rocha Ruth Rocha. Páginas: 12 a 15. (Arquivo em PDF encaminhado aos pais via WhatsApp). Matemática: Atividade 4. Inglês: Hoje é dia de aula de Inglês. Acesse a atividade Portal Educação. TEMA: OCCUPATIONS (Profissões) página 47.
Sexta-feira Data: 20/08	Leitura O Dono da Bola! Ruth Rocha. Páginas: 16 a 18. (Arquivo em PDF encaminhado aos pais via WhatsApp). Português e Ciências: Atividades 5.

OBS: esclarecimentos quanto a dúvidas e as orientações referentes ao conteúdo acontecem através de áudios, vídeos chamados pelo WhatsApp, Zoom, Google Meet, bem como através de atendimento individual por meio de PLANTÃO DE DÚVIDAS através do WhatsApp de cada responsável.

Unidade Escolar: EMEB Interlagos
Professor(a): Juliana, Claudia, Ana Claudia, Sara, Lidiane
Especialidade: Português, Matemática, Ciências, História e Geografia
Faixa etária ou ano: 2ºs anos A, B, C, D, E
Data: 16 a 20/08/2021

OLÁ! COMO VOCÊS ESTÃO? ESPERAMOS QUE TODOS ESTEJAM BEM...

SEGUNDA – FEIRA

ESSA SEMANA VAMOS ESTUDAR SOBRE AS OLÍMPIADAS E GARANTO QUE VOCÊ JÁ OUVIU ALGUÉM FALAR ESSA PALAVRA. VOCÊ CONHECE A HISTÓRIA DAS OLÍMPIADAS? NÃO?

VAMOS CONHECER?



AS OLIMPÍADAS SURGIRAM NA GRÉCIA ANTIGA, EM MEADOS DE 776 A.C ERAM REALIZADAS DE QUATRO EM QUATRO ANOS. OS JOGOS LEVAM ESSE NOME PELO FATO DE, NA GRÉCIA ANTIGA, TEREM SIDOS REALIZADOS EM UMA CIDADE CHAMADA OLÍMPIA. NA ÉPOCA OS JOGOS OLÍMPICOS ERAM TÃO IMPORTANTE QUE DURANTE AS COMPETIÇÕES TODAS AS GUERRAS ERAM PROIBIDAS... SE TORNANDO UM MOMENTO DE PAZ ENTRE OS POVOS.

NA ANTIGUIDADE, OS CAMPEÕES DOS JOGOS OLÍMPICOS ERAM CONSIDERADOS HERÓIS E RECEBIAM, COMO PRÉMIO PELA VITÓRIA, UMA COROA DE LOURO. APENAS OS HOMENS PODIAM PARTICIPAR DAS COMPETIÇÕES OLÍMPICAS.

OS ESPORTES PRATICADOS NOS JOGOS OLÍMPICOS NA GRÉCIA ERAM CINCO MODALIDADES: CORRIDA, PROVAS ATLÉTICAS, LUTAS, PENTATLO E PROVAS HÍPICAS.



1) AGORA QUE VOCÊ CONHECE A HISTÓRIA DA OLÍMPIADA RESPONDA EM SEU CADERNO:

A. ONDE SURGIRAM AS OLÍMPIADAS?

B. QUAL ERA O PRÊMIO DOS VENCEDORES DOS JOGOS OLÍMPICOS NA GRÉCIA ANTIGA?


C. QUEM PODIA PARTICIPAR DOS JOGOS OLÍMPICOS NA GRÉCIA ANTIGA? E HOJE QUEM PARTICIPA?

D. .ATUALMENTE OS VENCEDORES DAS OLÍMPIADAS GANHAM UMA MEDALHA OU UMA COROA DE LOURO ?

E. VOCÊ LEU NO TEXTO QUE OS ESPORTES SÃO PRATICADOS HÁ MUITO TEMPO. AGORA QUEREMOS SABER SE VOCÊ PRÁTICA ALGUM ESPORTE. DESENHE AQUI O ESPORTE QUE VOCÊ PRÁTICA.

TERÇA-FEIRA

VOCÊ JÁ VIU ESSA IMAGEM EM ALGUM LUGAR?



É O SÍMBOLO DOS JOGOS OLÍMPICOS E REPRESENTA A PAZ ENTRE OS CINCO CONTINENTES: **AZUL**, A EUROPA; **AMARELO**, A ÁSIA; **PRETO**, A ÁFRICA; **VERDE**, A OCEANIA; E **VERMELHO**, AS AMÉRICAS.

2) ESCREVA EM SEU CADERNO A COR QUE REPRESENTA CADA CONTINENTE.

AMÉRICA

ÁSIA

EUROPA

ÁFRICA

OCEÂNIA

QUARTA-FEIRA

3) PRATICAR ESPORTES É MUITO BOM! VAMOS LOCALIZAR ALGUNS ESPORTISTAS NA IMAGEM ABAIXO? ESCREVA OS NOMES EM SEU CADERNO:



A. QUAL O ESPORTISTA ESTÁ A ESQUERDA DO CORREDOR?

B. QUAL O ESPORTISTA ESTÁ DO LADO DIREITO DO JOGADOR DE BOLA?

C. QUAL O ESPORTISTA ESTÁ EM CIMA DO BOXEADOR?


D. QUAL O ESPORTISTA ESTÁ EMBAIXO DO CORREDOR?





TIRE UMA FOTO E ENVIE PARA A SUA PROFESSORA.

QUINTA-FEIRA

4) ESSE ANO OS JOGOS OLÍMPICOS FOI EM **TÓQUIO** NO **JAPÃO** E OS CAMPEÕES GANHARAM, COMO PRÊMIO, MEDALHAS. EM 2016 AS OLÍMPIADAS FORAM NO **BRASIL**. VAMOS VER QUANTAS MEDALHAS ALGUNS PAÍSES GANHARAM? OBSERVE O QUADRO ABAIXO E RESPONDA EM SEU CADERNO:



Logo: CANAIS ESPORTE INTERATIVO

					TOTAL
1°	 ESTADOS UNIDOS	46	37	38	121
2°	 GRÃ-BRETANHA	27	23	17	67
3°	 CHINA	26	18	26	70
4°	 RÚSSIA	19	18	19	56
5°	 ALEMANHA	17	10	15	42
6°	 JAPÃO	12	8	21	41
7°	 FRANÇA	10	18	14	42
8°	 COREIA DO SUL	9	3	9	21
9°	 ITÁLIA	8	12	8	28
10°	 AUSTRÁLIA	8	11	10	29
13°	 BRASIL	7	6	6	19

A. QUAL É A SOMA DE MEDALHAS QUE O JAPÃO E A ITÁLIA GANHARAM JUNTAS?

B. QUAL É A SOMA DE MEDALHAS QUE O BRASIL E CHINA GANHARAM JUNTAS?

C. A ALEMANHA GANHOU QUANTAS MEDALHAS A MENOS QUE A RÚSSIA?

D. A CORÉIA DO SUL GANHOU QUANTAS MEDALHA A MENOS QUE JAPÃO?

E.QUAIS OS PAÍSES GANHARAM MAIS DE 60 MEDALHAS?

F.QUAL O PAÍS GANHOU MAIS MEDALHAS?

G.QUAL O PAÍS GANHOU MENOS MEDALHAS?



TIRE UMA FOTO E ENVIE PARA A SUA PROFESSORA.

SEXTA-FEIRA

BAOBÁ ... ESSA ÁRVORE JÁ É UMA CAMPEÃ!

VOCÊ SABIA QUE A MAIOR ÁRVORE DO MUNDO É DO CONTINENTE AFRICANO?



A ÁRVORE DO BAOBÁ SE ORIGINOU NA ÁFRICA . É ÁRVORE SAGRADA E REPRESENTA TAMBÉM PRESERVAÇÃO. O BAOBÁ QUANDO ADULTO, É CONSIDERADA A ARVORÉ QUE TEM O TRONCO MAIS GROSSO DO MUNDO. CHEGANDO A MEDIR 20 METROS DE DIÂMETRO. É UMA DAS ÁRVORES MAIS ANTIGAS DA TERRA.

O BAOBÁ PODE VIVER ATÉ 6 MIL ANOS E SUA SEMENTE DEMORA 10 ANOS PARA GERMINAR.

UMA DAS CARACTERÍSTICAS DESSA ÁRVORE É O TRONCO OCO, NO QUAL A PLANTA ACUMULA ÁGUA, PODENDO RESERVAR ATÉ 120.000 LITROS. ISSO É DE EXTREMA IMPORTÂNCIA PARA AS TRIBOS AFRICANAS NOS PERÍODOS DE ESTIAGEM, E TAMBÉM PARA OS VIAJANTES QUE ABREM UM BURACO NO CAULE E BEBEM A ÁGUA.

SUAS FLORES CHEGAM A MEDIR 20 CENTÍMETROS E FLORESCEM UMA ÚNICA NOITE.

QUANDO A ÁGUA SECA, O CAULE FICA OCO E PASSA A SERVIR COMO CASA PARA OS BICHOS E ATÉ PESSOAS.

5) VAMOS VER SE VOCÊ APRENDEU TUDO SOBRE O BAOBÁ. RESPONDA EM SEU CADERNO. RELACIONE CORRETAMENTE AS INFORMAÇÕES DE ACORDO COM O TEXTO.

A. QUAL O TAMANHO DA FLOR DO BAOBÁ?

20 METROS

B. A SEMENTE DEMORA QUANTOS ANOS PARA GERMINAR?

120.000 LITROS

C. O TRONCO RESERVA ATÉ QUANTOS LITROS DE ÁGUA?

1 NOITE

D. A FLORE DO BAOBÁ FLORESCE POR QUANTAS NOITES?

6 MIL ANOS

E. QUAL O DIÂMETRO DO TRONCO DO BAOBÁ ?

10 ANOS

F. O BAOBÁ PODE VIVER ATÉ QUANTOS ANOS ?

20 CENTÍMETROS

SÓ MAIS UM RECADINHO IMPORTANTE:

AQUELES ALUNOS QUE FREQUENTAM **O PERÍODO INTEGRAL**, NÃO SE ESQUEÇAM DE ACESSAR AS ATIVIDADES NO PORTAL OU NO GRUPO DE WHATSAPP!

ORIENTAÇÕES AOS PAIS:

TODAS AS ATIVIDADES POSTADAS E ENVIADAS NO GRUPO DE WHATSAPP SERÃO CONSIDERADAS COMO ATIVIDADES REALIZADAS. SENDO ASSIM PEDIMOS QUE TODOS ENVIEM SEM FALTA DURANTE A SEMANA QUE DEVEM SER REALIZADAS PARA QUE NÃO ACUMULEM COM AS ATIVIDADES DA SEMANA SEGUINTE.

PRONTO ! TERMINAMOS NOSSAS ATIVIDADES ... BOM FIM DE SEMANA!!



USEM MÁSCARA!

Referências Bibliográficas:

BNCC/CURRICULO PAULISTA, ORIENTAÇÕES CURRICULARES SME

Trinconi, Ana; Ápis Língua Portuguesa, 2ºano: ensino fundamental anos iniciais; Ana Trinconi, Terezinha Bertin, Vera Marchesi. 3ª edição – São Paulo: Ática, 2017.

Dante, Luiz Roberto; Ápis Matemática, 2ºano: ensino fundamental anos iniciais; Luiz Roberto Dante, 3ª edição - SP: Ática, 2017.

Buriti Mais: História, organizadora Editora Moderna; obra coletiva concebida, desenvolvida e produzida pela Editora Moderna; Editora responsável Lucimara Regina de Souza Vasconcelos - 1ª edição - São Paulo: Moderna, 2ºano, 2017.

Buriti Mais: Ciências, organizadora Editora Moderna; obra coletiva concebida, desenvolvida e produzida pela Editora Moderna; Editora responsável Ana Carolina de Almeida Yamamoto - 1ª edição- São Paulo: Moderna, 2ºano, 2017.

Buriti Mais: Geografia, organizadora Editora Moderna; obra coletiva concebida, desenvolvida e produzida pela Editora Moderna; Editora responsável Ana Carolina de Almeida Yamamoto - 1ª edição- São Paulo: Moderna, 2ºano, 2017.

Arquivos da internet

<https://www.educacaoetransformacao.com.br/atividades-sobre-as-olimpiadas-2021/>

<https://escolakids.uol.com.br/historia/historia-dos-jogos-olimpicos.htm>

<https://plenarinho.leg.br/index.php/2016/11/dia-do-atleta-olimpico/>

<https://www.olimpiadatododia.com.br/curiosidades-olimpicas/238490-coroa-de-louros-ao-inves-de-medalhas-e-so-para-o-campeao/>

<https://plenarinho.leg.br/index.php/2017/01/historia-das-olimpiadas/>

<https://www.olimpiadatododia.com.br/curiosidades-olimpicas/238015-esportes-jogos-olimpicos-da-grecia-antiga/>

<https://www.surtoolimpico.com.br/2012/01/simbolos-olimpicos-os-aneis-olimpicos.html>

<http://ler-com-prazer.blogspot.com/2016/09/baobas-simbolo-da-igualdade-fartura-e.html>

<https://twitter.com/tntsportsbr/status/767513005257007104>

<https://www.istockphoto.com/br/vetor/rapazes-exercitar-e-praticar-esportes-diferentes-crian%C3%A7as-fazendo-esportes-desenhos-gm902856070-249025272>