

Escola: E.M.E.F. "Armelinda Espúrio da Silva."

Professora: Abadia, Lidiane, Sabrina e Sônia

Ano/turma: 4º ANOS A, B, C e D

| Dia da semana | Rotina diária: descrição das atividades |
|-----------------------------|---|
| Segunda – feira 28/06 | <p>Leitura diária : O carteiro chegou: https://youtu.be/OqCGf3BI2tU</p> <p>PORTUGUÊS: Leitura do livro “O carteiro Chegou”. Assista o vídeo da história e depois responda as perguntas.</p> |
| Terça- feira 29/06 | <p>Leitura diária: https://www.youtube.com/watch?v=zFVxrghrwuE</p> <p>MATEMÁTICA. ASSISTA AO VÍDEO COM BASTANTE ATENÇÃO. VOCÊ VAI RELEMBRAR O QUE VOCÊ JÁ ESTUDOU. MAS, PODE SER QUE NÃO ESTÁ CONSOLIDADO. ENTÃO VAMOS LÁ. É UM CONTEÚDO QUE VOCÊ USA NO DIA A DIA.</p> <p><u>Atividade de inglês – Confira REVIEW (Revisão) página 39.</u></p> |
| Quarta- feira 30/06 | <p>Leitura diária: https://www.youtube.com/watch?v=UstwM9RgAz4</p> <p>História: Hoje você vai aprender um pouco mais sobre fontes históricas. Assista o vídeo, depois faça a leitura e realize as atividades páginas 12 e 13 do livro “Buriti mais História.”</p> |
| Quinta- feira 01/07 | <p>Leitura Diária: Gênero Textual- carta: https://youtu.be/ebIMO13K994</p> <p>PORTUGUÊS: Assistir ao vídeo-aula e descrever os elementos que compõem a carta</p> <p>Hoje temos aula de EDUCAÇÃO FÍSICA</p> |
| Sexta- feira 02/07 | <p>Leitura diária: https://youtu.be/hneQe0s8m1k</p> <p>Na aula de CIÊNCIAS de hoje, você vai identificar o papel desempenhado pelos seres vivos na cadeia alimentar.</p> |

*As interações são realizadas pelas professoras diariamente nos grupos de whatsapp da sala.

** As interações também ocorrem de forma online.

Escola: E.M.E.F. "Armelinda Espúrio da Silva."

Professora: Abadia, Lidiane, Sabrina e Sônia

Ano/turma: 4 ANOS A, B, C e D

| Dia da semana | Rotina diária: descrição das atividades |
|--------------------------|--|
| Segunda – feira 05/07 | <p>Leitura diária: Carta pessoal: https://youtu.be/mTJFxEad9s</p> <p>PORTUGUÊS: Assista ao vídeo e realize as atividades propostas.</p> |
| Terça-feira 06/07 | <p>Leitura diária: https://www.youtube.com/watch?v=zFVxrghrwuE</p> <p>Vamos assistir ao vídeo, ele sempre tira alguma dúvida sobre o assunto, que estamos estudando. A aula de MATEMÁTICA hoje você também já viu! Mas sempre temos que fixar.</p> <p>Atividade de inglês – Confira em Independence Day (Dia da Independência) página 79 o que a professora preparou.</p> |
| Quarta-feira 07/07 | <p>Leitura diária: https://www.youtube.com/watch?v=l8BHhOR2ljs</p> <p>Geografia: Você sabia que o Brasil é um país sul-americano? Hoje nós vamos aprender um pouco mais sobre isso. Após assistir o vídeo, abra seu livro "Buriti mais Geografia", leia tudo com muita atenção e depois realize as atividades das páginas 14 e 15.</p> |
| Quinta-feira 08/07 | <p>Leitura diária: https://www.youtube.com/watch?v=zFVxrghrwuE</p> <p>Muito bom ouvir uma história para distrair. Com ela faço viagens INCRÍVEIS. Acesse o link e boa história.</p> <p>A nossa aula de MATEMÁTICA hoje é de revisão. Combinado? Mostre para a professora que você aprendeu tudo.</p> |
| Sexta-feira 09/07 | <p style="text-align: center;"><u>FERIADO</u></p> |

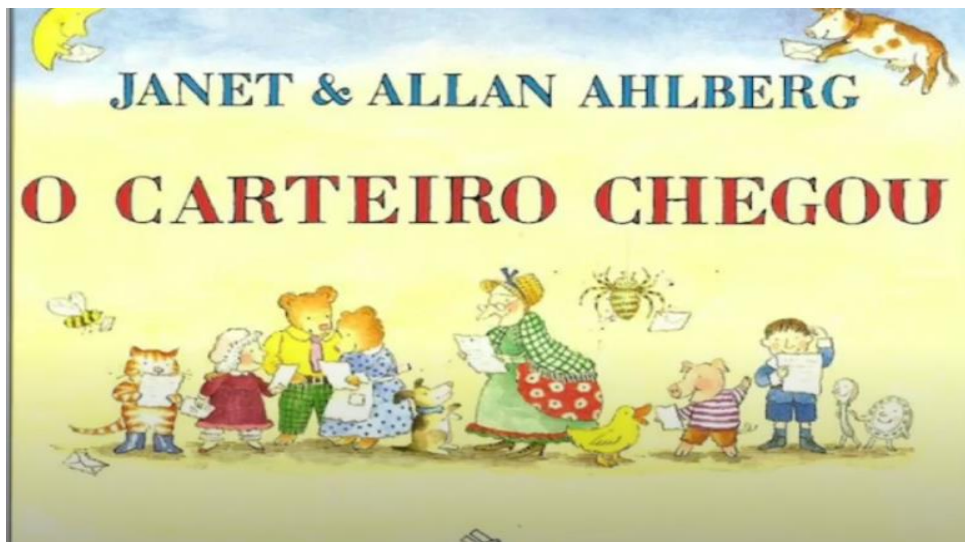
*As interações são realizadas pelas professoras diariamente nos grupos de whatsapp da sala.

** As interações também ocorrem de forma online.

SEGUNDA-FEIRA 28-06-2021

PORTUGUÊS

Na aula de hoje, acompanhe com atenção a leitura do livro “O carteiro chegou” Assista ao vídeo: <https://youtu.be/OqCGf3BI2tU> e depois responda as perguntas.



Copie as perguntas e responda em seu caderno:

A- Quem aparece lendo as cartas na capa do livro?

R: _____

B- Como se chama os autores do livro?

R: _____

C- Na história: “O carteiro chegou” que família serviu o chá para o carteiro?

R: _____

D- A bruxa convidou o carteiro para entrar e descansar, ler o jornal da noite e tomar um chá. Porém o carteiro leu o jornal e não tomou o chá, por que ele não quis tomar o chá da bruxa?

R: _____

E- Na casa muito alta, o carteiro precisou trepar na escada e tocar a campainha. Quem era o dono da casa?

R: _____

F- Leia as palavras abaixo e escreva – as em ordem alfabética.

**Canápolis - querido - Júlio - gostaria - saudades - vejo - estarmos - bem - somente
incomoda - preparando - viagem até casa – vários - planos - aproveitarmos – férias -
forte- abraço.**

G- Para terminar escolha uma parte da história: O Carteiro chegou, que você gostou leia e envie o áudio para sua professora capriche na leitura.

TERÇA-FEIRA 29-06-2021

MATEMÁTICA

Na semana passada nós estudamos sobre medidas de massa, lembra? Hoje iremos mostrar que ficou tudo registrado na cabecinha. Bora lá. Pegue o livro de matemática ÁPIS , Na página 72 e 73;.. leia com muita atenção. Depois faça as atividades das páginas 74 e 75.

QUARTA-FEIRA 30-06-2021

HISTÓRIA

Você sabe o que são Fontes históricas?

As **fontes históricas** são os itens materiais e imateriais (ou seus vestígios) que são produzidos pela ação humana. As fontes históricas são fundamentais para que o historiador possa realizar o seu trabalho de investigação do passado humano.



* "Hoje, empregam-se indistintamente as expressões 'fonte histórica' ou 'documento histórico'" (BARROS, 2012, P. 132). Extraído de: Fontes Históricas: revisitando alguns aspectos primordiais para a Pesquisa Histórica. José D'Assunção Barros. Mouseion, n. 12, mai-ago/2012, pp. 129--159.

<http://historiapublica.blogspot.com/2020/07/fontes-historicas-mapa-mental.html>

Assista videoaula: <https://www.youtube.com/watch?v=UstwM9RgAz4>

1- Após assistir o vídeo, leia as páginas 12 e 13 do livro "Buriti mais História" e realize as atividades 3 e 4 da página 13.



QUINTA-FEIRA 01-07-2021

PORTUGUÊS

Na aula de hoje, vamos aprender sobre os elementos que compõem uma carta. Assista ao vídeo com muita atenção: <https://youtu.be/ebIMO13K994>.

*Agora leia a carta abaixo e faça as atividades propostas:

Canápolis, 05 de março de 2019

Querido amigo Júnior,

Gostaria de dizer-lhe que estou com muitas saudades, e não vejo a hora de estarmos juntos outra vez!

Por aqui estamos todos bem, somente a saudade que nos incomoda. Mas estamos nos preparando para a grande viagem até sua casa. Já fiz vários planos para aproveitarmos muito estas férias.

Um forte abraço.

Lara Júlia

1 - Circule cada parte da carta com lápis de cor nas cores:

- Data em que a carta foi escrita de vermelho;
- Saudação inicial de azul;
- Assunto da carta de verde;
- Despedida de amarelo;
- Assinatura de quem enviou a carta de laranja.

2 – Descreva os elementos que compõe a carta:

Cabeçalho: _____

Saudação: _____

Despedida: _____

Assinatura: _____

3 - Responda:

a) Quem escreveu a carta?

b) Para quem a carta foi escrita?

c) Quando ela foi escrita? _____

d) Em que cidade brasileira Lara Júlia está morando?

e) Como o remetente se despediu na carta?

f) O que o remetente expressa na carta?

SEXTA-FEIRA 02-07-2021

CIÊNCIAS

==> Assista o vídeo explicativo e em seguida realize as atividades propostas, copiando e respondendo em seu caderno.

CADEIA ALIMENTAR

1. Sublinhe a definição de cadeia alimentar.

- a) Produção do próprio alimento pelos seres vivos.
- b) Transferência de energia de um ser vivo para o outro, por meio do alimento.

2. Em uma cadeia alimentar, os produtores são os:

vegetais

animais herbívoros

animais carnívoros

animais onívoros

3. Como são chamados os seres vivos que dependem de outro ser vivo para se alimentar?

produtores

consumidores

decompositores


4. Os seres que se alimentam de vegetais e animais mortos são os:

produtores

consumidores

decompositores

5. Observe este esquema de cadeia alimentar. Do que cada ser se alimentou? Anote.



SEGUNDA-FEIRA 05-07-2021

PORTUGUÊS

Hoje na aula de **Português** vamos continuar aprendendo sobre as características de uma carta. Assista ao vídeo: <https://youtu.be/mTJFxVEad9s> e realize as atividades propostas no caderno.

Carbonita, 5 de setembro de 2010.

Amiga Dani,

Tudo bem com você? Aqui está tudo bem, graças a Deus!

Como andam as coisas aí no Rio de Janeiro? Gostaria muito que você viesse me visitar, assim poderíamos passear, conversar e eu ainda te apresentaria todas as pessoas incríveis que existem por aqui.

Eu estou trabalhando em uma escola muito boa, com alunos maravilhosos! Precisamos conversar também a respeito do nosso projeto de escrita envolvendo os meus alunos e os seus. Vamos colocar essa galerinha pra escrever!

Estou morrendo de saudades das nossas conversas de madrugada na casa da Lú. Aguardo retorno.

Beijos, te amo pra sempre!

Evelyn

***Evelyn escreveu uma carta para sua amiga. Leia-a atentamente:**

1- A cidade onde encontra-se o remetente da carta é:

() Carbonita () São Paulo () Rio de Janeiro () Minas Gerais

2 - A frase que expressa opinião é:

() Aqui está tudo bem, graças a Deus!

() Eu estou trabalhando em uma escola muito boa, com alunos maravilhosos!

() Vamos colocar essa galerinha pra escrever!

() Precisamos conversar também a respeito do nosso projeto de escrita.

3 - “Estou morrendo de saudades”. O antônimo da palavra “morrendo” é:

() falecendo

() morte

() vivendo

() vida

4 - Responda as perguntas a seguir:

a) Quantos parágrafos há na carta de Evelyn? _____

b) Qual parágrafo fala onde a amiga de Evelyn mora? _____

c) Qual parágrafo é sua despedida? _____

d) Qual parágrafo informa que Evelyn está trabalhando? _____

5 - Identifique na carta de Evelyn:

a) O local e data: _____

b) A saudação ao destinatário: _____

c) O destinatário: _____

d) A despedida: _____

e) O remetente: _____

6- Agora é a sua vez! Escreva no caderno uma carta para seu amigo (a).Capriche!

TERÇA-FEIRA 06-07-2021

MATEMÁTICA

Por que preciso aprender hora professora? Para você não perder o trem.

Vamos lá, aprender para não perder a hora. Continuaremos no livro ÁPIS páginas 77,79 e 80 Leia com muita atenção e faça as atividades. Lembrando que você deve pedir ajuda para sua professora sempre que tiver dúvidas.

QUARTA-FEIRA 07-07-2021

GEOGRAFIA

Você sabia que o Brasil é um país sul-americano?

Hoje você vai aprender um pouco mais sobre o nosso país e suas fronteiras.




Assista a videoaula: <https://www.youtube.com/watch?v=K7CIzLB2iY8>

1-Após assistir o vídeo, leia com atenção e realize as atividades do livro “Buriti mais Geografia.”

a)Atividades 6, 7 e 8 da página 14.

b)Atividade 9 da página 15.



QUINTA-FEIRA 08-07-2021

MATEMÁTICA

OLÁ ALUNOS HOJE A AULA É MOLEZA, VOCÊ VAI APENAS MOSTRAR PARA A PROFESSORA QUE VOCÊ APRENDEU TUDO QUE ELA ENSINOU.

1-Escreva por extenso os números abaixo.

a-13.600- _____

b-17.694- _____

c-157.706- _____

2-Observe o número **12.437** e complete:

a- Ele é formado por ----- ordens e -----classes.

b- O algarismo 2 está na ordem das----- e o valor relativo do algarismo 1 é -----.

c- O algarismo que está na ordem das centenas simples é----- e o valor absoluto do algarismo 3 é -----.

d- Esse número é ímpar ou par? -----

f- Escreva o sucessor e o antecessor dele-----


g- Qual o algarismo da quinta ordem-----

H- Decomponha esse número-----

3- Que horas cada relógio está marcando:










4- Marque nos relógios abaixo os horários:

A- Início da sua aula (13:00)

B- Recreio (15:30)

C- Saída (18:00)



5- Leia com atenção e faça o que se pede. Realizar os cálculos no caderno:

Olá! Eu me chamo João.
Esta é uma balança que serve para medir o peso de pessoas.
Eu peso 24 quilos.
Este é meu cachorro. Ele pesa 31 quilos. Ele é muito grande!

1 - João pesa 24 quilos. E você, quanto pesa?

2 - Quem pesa mais, João ou seu cachorro?

3 - Quanto o cachorro pesa a mais que João?

4 - O peso da mãe de João é a soma do peso dele com o peso do cachorro. Quanto pesa a mãe de João?

6-Responda.

A-Quantos dias tem o ano? R-----

B-Quantos meses tem o ano? R-----

C-O ano tem-----bimestre-----trimestre-----semestre

D- Qual o décimo mês do ano?----- e o sétimo?-----

7- Crie uma situação problema para cada uma das expressões numéricas abaixo.

a- $147 \times 4 =$

b- $1240 - 374 =$

c- $125 + 49 =$

8- Arme e efetue as operações abaixo.

a- $137 \times 9 =$

b- $945 - 587 =$

c- $1248 + 750 =$

SAUDADES DE VOCÊS! UM MONTE DE BEIJOS PARA CADA UM!!!

SEXTA-FEIRA 09-07-2021

FERIADO