


Copiar os textos e as atividades no caderno de português e responder:

ATIVIDADE 1



**GENERO TEXTUAL
BILHETE**


É UM TEXTO CURTO QUE TRANSMITE UMA MENSAGEM DE AVISO, PEDIDOS OU PERGUNTAS BREVES E SERVE PARA HAVER COMUNICAÇÃO ENTRE AS PESSOAS. O BILHETE É COMPOSTO POR:

- DATA
- NOME DE QUEM VAI RECEBER O BILHETE
- MENSAGEM
- DESPEDIDA
- NOME DE QUEM ENVIOU

QUERIDA VOVÓ

FUI COLHER ALGUMAS FLORES NA FLORESTA E JÁ VOLTO.

O CAÇADOR ESTÁ COMIGO. NÃO SE PREOCUPE, POIS ESTOU SEGURA COM ELE.




BEIJOS
CHAPEUZINHO VERMELHO

LEIA E MARQUE A RESPOSTA CERTA:

1. QUAL É O TIPO DE TEXTO?
 CONVITE
 CANTIGA
 BILHETE
2. QUAL PERSONAGEM DE CONTOS DE FADA APARECE NO TEXTO?
 CINDERELA
 BRANCA DE NEVE
 CHAPEUZINHO VERMELHO
3. PARA QUEM É ESCRITO O TEXTO?
 LOBO MAU
 VOVÓ
 CAÇADOR
4. QUAL É A INTENÇÃO DO TEXTO?
 AVISAR QUE O CAÇADOR ESTÁ POR PERTO.
 EVITAR QUE A VOVÓ FIQUE PREOCUPADA.
 PEDIR QUE O CAÇADOR COLHA FLORES.
5. QUEM ASSINA O TEXTO?
 CHAPEUZINHO VERMELHO
 VOVÓ
 CHAPEUZINHO VERDE
6. DE ACORDO COM O TEXTO, ONDE FOI A MENINA?
 NA FLORICULTURA
 NA CASA
 NA FLORESTA
7. QUEM ESTAVA COM ELA?
 O LOBO
 O CAÇADOR
 A MAMÃE

ATIVIDADE 2




Quem assinou o bilhete?

Por que foi deixado o bilhete?

Para que escrevemos bilhetes?

Por que é importante colocar a data em um bilhete?

Escreva a seguir um bilhete a uma pessoa de sua família. Você poderá escolher o assunto.



ATIVIDADE 3

Fábio,
Fui ao mercado comprar
feijão, fubá, farinha, figo e
fósforos. Volto logo.
Um beijo.
Mamãe
//_

- 1- Quem escreveu o bilhete foi a _____
- 2 – O bilhete era para o _____
- 3- Em que data foi escrito o bilhete ? _____
- 4- A mamãe se despediu com _____
- 5 – A mamãe foi ao _____
- 6 – A mamãe foi comprar _____

Copiar e responder as atividades no caderno de matemática:

ATIVIDADE 1

Matemática

Fração de um número

1. Calcule as frações referentes aos números.

a) $\frac{2}{4}$ de 16

b) $\frac{2}{5}$ de 20

c) $\frac{1}{3}$ de 24

d) $\frac{3}{6}$ de 36

e) $\frac{4}{7}$ de 28

f) $\frac{3}{7}$ de 63

g) $\frac{2}{3}$ de 30

h) $\frac{5}{9}$ de 81

2. Resolva os problemas no caderno com operação e resposta.

a) Dênis tem 63 figurinhas. Colou $\frac{4}{9}$ no seu álbum. Quantas figurinhas ele colou?

b) Uma salgadeira fez 72 salgados. Já vendeu $\frac{4}{8}$. Quantos salgados foram vendidos?

c) César tem de correr 280 metros. Já correu $\frac{3}{7}$. Quantos metros ele já correu?

ATIVIDADE 2

- Livro Ápis de matemática páginas 134

ATIVIDADE 3

a) 4410 : 42

d) 3852 : 12

g) 8424 : 36

b) 10375 : 25

e) 1236 : 12

h) 6529 : 32

e) 4605 : 15

f) 62500 : 25

i) 1091 : 23

HISTÓRIA

Páginas 120 a 123 - livro de história

GEO

Páginas 138 e 139 - livro de geografia

CIÊNCIAS

Páginas 102 e 103 - livro de ciências