




EMEF Dona Ana José Bodini Januário

Professoras: Liliam, Roselene, Elaine e Valéria

2º anos A, B, C e D

10/05/2021 a 14/05/2021

*As atividades serão orientadas pelas professoras durante a semana.

Dia da semana	Rotina diária: descrição das atividades
<p>Segunda – feira Data: 10/05/2021</p>	<p>LEITURA: A lagartinha comilona - Eric Carle - Canal Bisnagas Kids. https://youtu.be/ExY8FWke8E</p> <p>ATIVIDADE: 1. OBSERVE A PALAVRA ABAIXO E RESPONDA AS QUESTÕES:</p> <p style="text-align: center;">LAGARTA</p> <p>A) A PRIMEIRA LETRA É: _____</p> <p>B) A ÚLTIMA LETRA É: _____</p> <p>C) A PRIMEIRA SÍLABA É: _____</p> <p>D) A ÚLTIMA SÍLABA É: _____</p> 



2. A LAGARTINHA COMEU DURANTE VÁRIOS DIAS, ESCREVA EM ORDEM QUAIS SÃO OS DIAS DA SEMANA.

DESAFIO!

3. QUANTAS PALAVRAS VOCÊ CONSEGUE FORMAR USANDO AS LETRAS DA PALAVRA? NÃO É OBRIGATÓRIO USAR TODAS AS LETRAS EM TODAS AS PALAVRAS.

L A G A R T I N H A

REGISTRE ABAIXO AS PALAVRAS QUE CONSEGUIU FORMAR:

Terça-feira

Data: 11/05/2021

LEITURA:





A origem dos dias da semana- Canal Caminhos da Linguagem.

https://youtu.be/7IWJ_3J42-M

ATIVIDADE:



1. PAULO É UM GAROTO QUE GOSTA DE COMER FRUTAS. ELE RESOLVEU COMER UMA FRUTA DIFERENTE EM CADA DIA DA SEMANA. OBSERVE AS FRUTAS QUE ELE ESCOLHEU E RESPONDA AS QUESTÕES ABAIXO:

1º DIA	2º DIA	3º DIA	4º DIA	5º DIA	6º DIA	7º DIA
DOMINGO	SEGUNDA-FEIRA	TERÇA-FEIRA	QUARTA-FEIRA	QUINTA-FEIRA	SEXTA-FEIRA	SÁBADO
						

EM QUE DIA DA SEMANA ELE COMEU:

- A) A PÊRA _____
- B) A BANANA _____
- C) A UVA _____
- D) O MORANGO _____
- E) A MAÇÃ _____
- F) A MELANCIA _____
- G) O ABACAXI _____

Quarta-feira
Data: 12/05/2021

LEITURA:
Leilão de Jardim, Cecília Meirelesm - Canal Quintal da Cultura.
<https://www.youtube.com/watch?v=f4z1b9ol3Og>

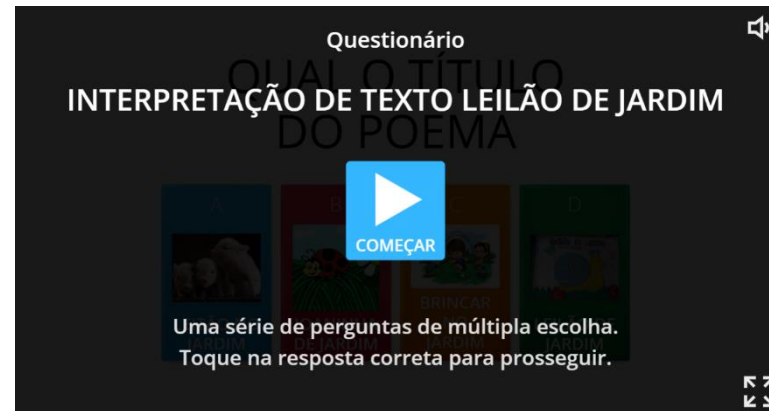


ATIVIDADE:

AGORA FAÇA A INTERPRETAÇÃO DO TEXTO NO LINK: _

⇒ <https://wordwall.net/pt/resource/4231320/interpreta%C3%A7%C3%A3o-de-texto-leil%C3%A3o-de-jardim>

EXPLICAÇÃO: CLIQUE NO LINK ACIMA, AGUARDE O CARREGAMENTO COMPLETO DO JOGO. CLIQUE EM COMEÇAR. DEPOIS LEIA AS PERGUNTAS SOBRE O POEMA, CLIQUE NA RESPOSTA CORRETA E AGUARDE O CARREGAMENTO DA PRÓXIMA PERGUNTA.





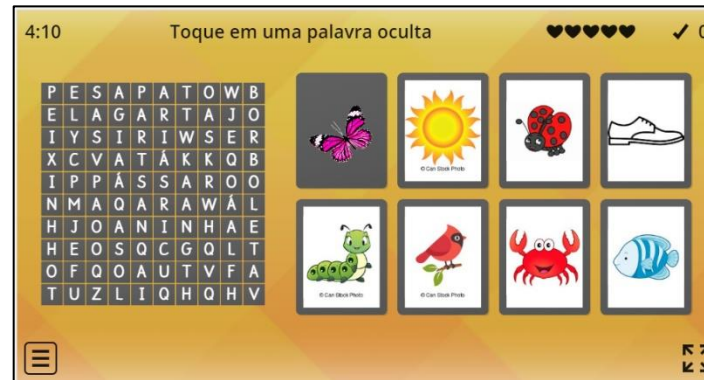
Quinta-feira
Data: 13/05/2021

LEITURA:

A joaninha que perdeu as pintinhas, Ducarmo Paes - Canal Bisnagas Kids
https://www.youtube.com/watch?v=l0vVq4hd_tE

ATIVIDADE:

1. **JOGO:** ENCONTRE A PALAVRA DE ACORDO COM A FIGURA INDICADA.



DICA: ENCONTRE OS NOMES DAS FIGURAS NO CAÇA- PALAVRAS E FAÇA A CORRESPONDÊNCIA ENTRE ELES. QUANDO ENCONTRAR UMA PALAVRA E ELA FICAR EM DESTAQUE, CLIQUE NA FIGURA CORRESPONDENTE PARA PONTUAR.




Sexta-feira
Data: 14/05/2021

LEITURA:

Girassol quer Sol, Jane Prado - Canal da Professora Maurineth.
<https://www.youtube.com/watch?v=77FCML7z0-A>

ATIVIDADE:

1. COMPLETE AS FLORES ORGANIZANDO OS NUMERAIS DO MENOR PARA O MAIOR (COMECE EMBAIXO).





2. CALCULE:

$$\begin{array}{r} 67 \\ -45 \\ \hline \end{array} \quad \begin{array}{r} 45 \\ -23 \\ \hline \end{array} \quad \begin{array}{r} 89 \\ -17 \\ \hline \end{array} \quad \begin{array}{r} 53 \\ -23 \\ \hline \end{array} \quad \begin{array}{r} 24 \\ +65 \\ \hline \end{array} \quad \begin{array}{r} 35 \\ +43 \\ \hline \end{array} \quad \begin{array}{r} 42 \\ +17 \\ \hline \end{array} \quad \begin{array}{r} 53 \\ +23 \\ \hline \end{array}$$

$$\begin{array}{r} 64 \\ -23 \\ \hline \end{array} \quad \begin{array}{r} 75 \\ -31 \\ \hline \end{array} \quad \begin{array}{r} 86 \\ -12 \\ \hline \end{array} \quad \begin{array}{r} 27 \\ -10 \\ \hline \end{array} \quad \begin{array}{r} 64 \\ +23 \\ \hline \end{array} \quad \begin{array}{r} 75 \\ +31 \\ \hline \end{array} \quad \begin{array}{r} 86 \\ +12 \\ \hline \end{array} \quad \begin{array}{r} 27 \\ +10 \\ \hline \end{array}$$

$$\begin{array}{r} 38 \\ -25 \\ \hline \end{array} \quad \begin{array}{r} 49 \\ -32 \\ \hline \end{array}$$



$$\begin{array}{r} 38 \\ +20 \\ \hline \end{array} \quad \begin{array}{r} 49 \\ +30 \\ \hline \end{array}$$



$$\begin{array}{r} 12 \\ -11 \\ \hline \end{array} \quad \begin{array}{r} 64 \\ -23 \\ \hline \end{array}$$

$$\begin{array}{r} 12 \\ +10 \\ \hline \end{array} \quad \begin{array}{r} 34 \\ +23 \\ \hline \end{array}$$

****Por favor, tire uma foto de todas as tarefas e envie para a sua professora.***

Fontes:

http://www.colegiosantamonica.com.br/wp-content/uploads/2015/03/tarefa.domiciliar.pb_mat_6.doc1.pdf

Materiais diversos compartilhados entre professores em grupos pedagógicos.