

**Escola:** EMEF Dona Ana José Bodini Januário

**Professora:** Cida, Fernanda, Rafael, Rose e Silvana.

**Ano/Turma:** 4º anos (A, B, C, D - E)

**Data:** 02/08/2021 a 06/08/2021

|  |  |
|--|--|
| <b>Dia da<br/>Semana</b>                 | <ul style="list-style-type: none"><li>• Antes de iniciar as atividades no caderno, não se esqueça de fazer o cabeçalho.</li><li>• Não é necessário copiar o texto, somente os exercícios.</li><li>• Haverá interação entre professor e aluno nas aulas remotas.</li></ul>  |
| <b>Segunda-<br/>feira<br/>02/08/2021</b> | <p><u>Leitura diária: “História das Olimpíadas”</u></p> <p>Leia e responda no seu caderno:</p> <div data-bbox="619 869 1193 1196" data-label="Image">A imagem mostra o símbolo olímpico clássico, composto por cinco anéis entrelaçados em azul, amarelo, preto, verde e vermelho. Cada anel contém um ícone branco que representa um esporte: um corredor no azul, um nadador no amarelo, um arqueiro no preto, um jogador de tênis no verde e um jogador de basquete no vermelho.</div> <p><b>Um pouco da história das Olimpíadas</b></p> <p>Quando a cidade de Olímpia, na Grécia, foi restaurada por um arqueólogo alemão, em 1852, ninguém imaginou que aquelas ruínas serviriam de inspiração para um educador francês criar um evento esportivo mundial.</p> <p>Esse educador foi escolhido para fazer uma reforma no ensino de seu país. Ele viajava pelo mundo em busca de experiências, quando imaginou o globo terrestre como um grande pátio de colégio, com as “classes-países” se reunindo regularmente para medir forças e habilidades.</p> <p>Com essa ideia na cabeça, ele conheceu um educador inglês, que defendia a prática sistemática de esportes como forma de melhorar o rendimento escolar e estimular o espírito esportivo de equipe entre as crianças e os adolescentes.</p> <p>Em 1896 foram criados os primeiros jogos olímpicos da Era Moderna, que acontecem de 4 em 4 anos e que em 2012 tiveram sua 30ª edição. No século XX deixaram de acontecer três edições dos jogos olímpicos – 1916 – 1940 e 1944 – por causa das guerras mundiais, mas para efeito de contagem foram mantidas como 6ª – 12ª – 13ª edições dos jogos olímpicos.</p> <p style="text-align: right;"><b>Adaptado da Revista Nova Escola</b></p> |

**Segunda-  
feira**  
**02/08/2021**

Responda:

- 1) Em que ano aconteceu a sétima Olimpíada? E a décima?
- 2) Em que século aconteceu a primeira Olimpíada? Em que ano aconteceram as duas últimas Olimpíadas?
- 3) Onde está acontecendo a Olimpíada 2020/2021?
- 4) Por qual motivo as Olimpíadas 2020 estão acontecendo em 2021?
- 5) Dos esportes olímpicos, qual você mais gosta?
- 6) Em quais anos não aconteceram os Jogos Olímpicos no século 20?

**Não se esqueça de realizar as atividades enviadas pela teacher Fabiana (Father's Day – Dia dos Pais) – página 101.**

Leitura diária: “O Livro da Paz” - <https://m.youtube.com/watch?v=pYePuXXVySE>

### Atividades Matemáticas

Leia e resolva em seu caderno:

- 1) Escreva por extenso todas as datas que aparecem no texto “Um pouco da História das Olimpíadas”.

A primeira Olimpíada da Era Moderna foi disputada em 1896


- a) Sabendo que os Jogos Olímpicos acontecem de 4 em 4 anos, em que ano a 10ª Olimpíada?
- b) Há quantos anos aconteceram os primeiros Jogos Olímpicos na Era Moderna?

**Terça-feira**  
**03/08/2021**

**PARA PRATICAR ALGUNS ESPORTES, É UTILIZADO  
ALGUMAS UNIDADES DE MEDIDA PARA SABER  
QUEM É O VENCEDOR.**



PINTE O QUE USAMOS PARA MEDIR A DISTÂNCIA;



Terça-feira  
03/08/2021

OS ESPORTES ABAIXO, PARA SABER A COLOCAÇÃO DOS PARTICIPANTES, USAM O METRO PARA MEDIR OS RESULTADOS. VEJA QUANTOS METROS CADA ESPORTISTA FEZ:

**LANÇAMENTO DE DARDO**



**50 METROS**



**SALTO EM DISTÂNCIA**

**5 METROS**

**SALTO EM ALTURA**



**6 METROS**

QUAL ESPORTE QUE TEM UMA MAIOR MEDIDA EM METROS?

E QUAL TEM MENOS?

QUANTOS METROS O ATLETA DO SALTO EM DISTÂNCIA PULOU?




Leitura diária: "Anéis Olímpicos"

Leia o texto e responda em seu caderno:

Quarta-  
feira  
04.08.2021

**ANÉIS OLÍMPICOS**



Quarta-  
feira  
04.08.2021

O símbolo dos Jogos Olímpicos é composto por cinco anéis entrelaçados, com as cores azul, amarelo, preto, verde e vermelho sobre um fundo branco. Esses cinco anéis representam as cinco partes do mundo, que agora são conquistadas para Olimpismo e dispostas a aceitar uma concorrência saudável, dessa forma, além de simbolizar a união dos cinco continentes, integra todos os países, fornecendo um sentido universal para as Olimpíadas. Cada anel representa um continente, sendo o anel azul correspondente a Europa, o anel amarelo a Ásia, o preto a África, o verde a Oceania e o vermelho a América.

Responda:

- 1) Quais são as cores dos anéis Olímpicos?
- 2) O que eles representam?
- 3) O que cada anel representa?
- 4) Escreva o nome dos continentes representados pelo anel.
- 5) Em que continente aconteceram as Olimpíadas de 2016?
- 6) Em qual país aconteceram as Olimpíadas de 2016?

Não se esqueça de realizar as atividades enviadas pela professora de Artes.

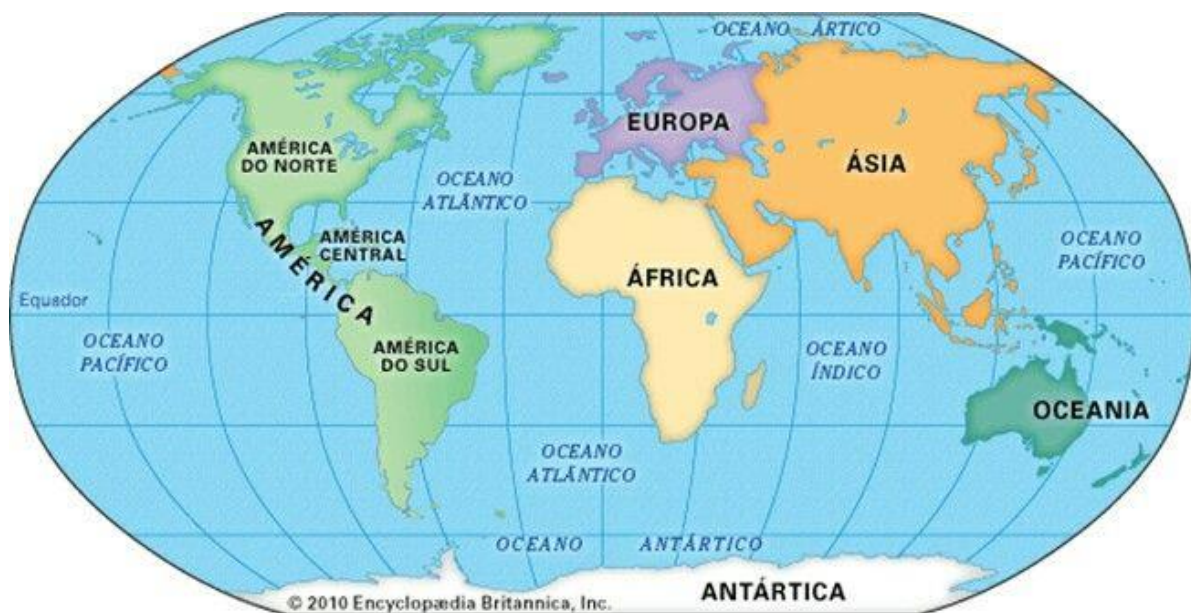
Quinta-  
feira  
05/08/2021

Leitura diária: "As Viagens de Guliver" -  
<https://m.youtube.com/watch?v=PAGipxN5LV4>

As Olimpíadas Antigas foram uma série de competições atléticas disputadas por atletas das cidades-estados que formavam a Grécia Antiga. De acordo com registros analisados por historiadores, os Jogos Olímpicos surgiram no ano de 776 a.c na cidade de Olímpia (região sudoeste da Grécia). Estes Jogos foram celebrados até o ano de 393.

Observe o mapa-múndi e responda:

**Quinta-  
feira**  
**05/08/2021**



- 1) Em que continente a Grécia está situada?
- 2) Em que continente as Olimpíadas 2020|2021 está sendo realizada?
- 3) Escreva o nome de dois países localizados no continente Europeu.
- 4) Escreva o nome de três países localizados na América do Sul.
- 5) Escreva o nome dos oceanos que banham o planeta Terra.

**Sexta-feira**  
**06/08/2021**

Leitura diária: "O Direito das Crianças" – Ruth Rocha  
<https://m.youtube.com/watch?v=1ju8RocmfsY>

**Produção Textual**

**ALGUMAS COMPETIÇÕES DE VÁRIOS ESPORTES ACONTECEM EM DIVERSAS PARTES DO MUNDO.**



QUANDO UM ESPORTISTA VAI PARTICIPAR DE UMA COMPETIÇÃO QUE NÃO É NO SEU PAÍS, MUITAS VEZES PRECISA DE UM DOCUMENTO CHAMADO PASSAPORTE.

FAÇA O SEU PASSAPORTE:

|  |   |
|--|---|
| <p><b>REPÚBLICA FEDERATIVA DO BRASIL.</b></p>  <p>15 de Novembro de 1889</p> | <div data-bbox="1037 604 1284 817" style="border: 1px solid black; border-radius: 15px; width: 150px; height: 95px; margin: 0 auto;"></div> <p style="text-align: center;">SOU EU</p> <p>NOME COMPLETO: _____</p> <p>DATA DE NASCIMENTO: _____</p> <p>NACIONALIDADE: _____</p> <p>DATA DE EXPEDIÇÃO: _____</p> <p style="text-align: center;">ÓRGÃO EXPEDITOR: POLÍCIA FEDERAL.<br/>RESPONSÁVEL PELA EXPEDIÇÃO: _____</p> |
|--|---|

AGORA ESCOLHA UM PAÍS QUE DESEJA IR E PREENCHA O TICKET DE VIAGEM ABAIXO:

|  |                      |   |   |   |   |
|--|----------------------|---|---|---|---|
| <p><b>VIAGENS PELO MUNDO</b><br/><b>TICKET DE VIAGEM</b></p> |                      |   |  <p>WORLD-04583-FLIGHT</p> |  |   |
| NÚMERO DO TICKET   | <input type="text"/> | DATA  | <input type="text"/>  |  |   |
| NÚMERO DO VOO  | <input type="text"/> | HORA DE PARTIDA   | <input type="text"/>  |   |  |
| NÚMERO DA POLTRONA   | <input type="text"/> | TEMPO DE VIAGEM   | <input type="text"/>  |   |   |
| DESTINO  | <input type="text"/> |  |   |   |   |

