

Unidade Escolar: EMEF Dona Ana José Bodini Januário.

Professoras: JANAINA E CIDA

5º ANO – A, B e C

Data: 23/08/21 a 27/08/21

**2ª feira 23/08**

- **Leitura: Adivinha - óculos**
- Português: Copie e responda no caderno de português, depois de feito tire uma foto das lições e envie para a professora.guardo sua lição.

GENIVALDO TEM UM SÍTIO PERTO DA FLORESTA E NOTOU QUE ACONTECERAM ALGUMAS COISAS ESTRANHAS NOS ÚLTIMOS DIAS. ELE MANDOU UM BILHETE, ENTÃO, PARA SEU COMPADRE, JOVELINO; ELE NÃO ESPERAVA, PORÉM, QUE O SACI IA CONSEGUIR PEGAR SEU BILHETE E FAZER UMA TRAVESSURA COM ELE.

SACI-PERERÊ TROCOU AS LETRAS DE CINCO PALAVRAS DO BILHETE. CIRCULE AS PALAVRAS NAS QUAIS ELE MEXEU E REESCREVA O BILHETE PARA QUE COMPADRE JOVELINO POSSA LÊ-LO:

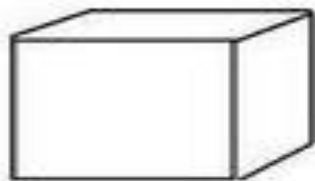
JOVELINO:

MEU **VOACLA** JÁ FUGIU TRÊS VEZES DO CURRAL NOS ÚLTIMOS DIAS. ALÉM DISSO, MINHA COMIDA ANDA MUITO **CODE** E NUNCA CONSIGO ENCONTRAR MEUS **COLUSÓ**.

ACHO QUE TEM UM **CISA** ANDANDO AQUI PARA OS LADOS DO MEU SÍTIO. VENHA ME AJUDAR A DESVENDAR ESSE **TÉMOSIRI**.

GENIVALDO

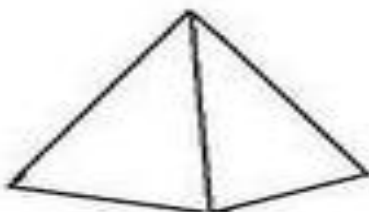
Matemática: Copie e responda as atividades no caderno de matemática, envie uma foto



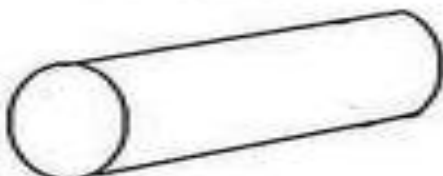
A face azul desse cubo é uma figura plana chamada **QUADRADO**



A face verde desse paralelepípedo é uma figura plana chamada **RETÂNGULO**



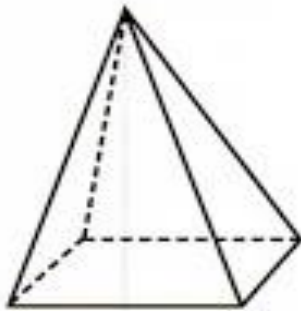
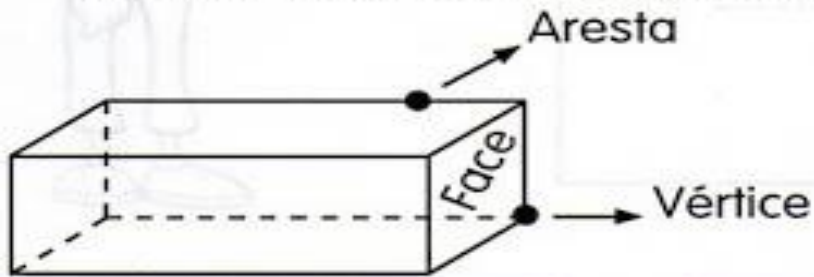
A face amarela dessa pirâmide é uma figura plana chamada de **TRIÂNGULO**



A face rosa desse cilindro é uma figura plana chamada **CÍRCULO**

2. Desenhe em seu caderno os polígonos abaixo reserva as questões respondendo-as em seu caderno.

 Observe os poliedros e complete.

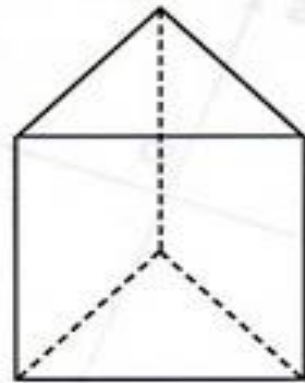


Nome: \_\_\_\_\_

Quantas faces? \_\_\_\_\_

Quantas arestas? \_\_\_\_\_

Quantos vértices? \_\_\_\_\_

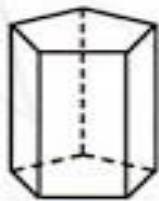


Nome: \_\_\_\_\_

Quantas faces? \_\_\_\_\_

Quantas arestas? \_\_\_\_\_

Quantos vértices? \_\_\_\_\_




Nome: \_\_\_\_\_

Quantas faces? \_\_\_\_\_

Quantas arestas? \_\_\_\_\_

Quantos vértices? \_\_\_\_\_



Nome: \_\_\_\_\_

Quantas faces? \_\_\_\_\_

Quantas arestas? \_\_\_\_\_

Quantos vértices? \_\_\_\_\_

**3ª feira 24/08**

- **Leitura: Adivinha - pipoca**
- Português: Faça a leitura das adivinhas, copie e responda as atividades no caderno de português, depois de feito tire uma foto das lições e envie para a professora.

## ADIVINHAS

**Nasci na água, na água me criei, se na água me botarem na água morrerei?**

**R:** \_\_\_\_\_

**O que é o que é voa sem ter asas e chora sem ter olhos?**

**R:** \_\_\_\_\_

**Uma coisa que tanto anda e nunca chega aonde quer.**

**R:** \_\_\_\_\_

**Pelo muito bem que faço não posso ser dispensada, se persisto aborreço, se falta sou desejada.**

**R:** \_\_\_\_\_

**O que é o que é: é cheia de furinhos, mas consegue reter água?**

**R:** \_\_\_\_\_

MATEMÁTICA: Copie e resolva as atividades no seu caderno de matemática

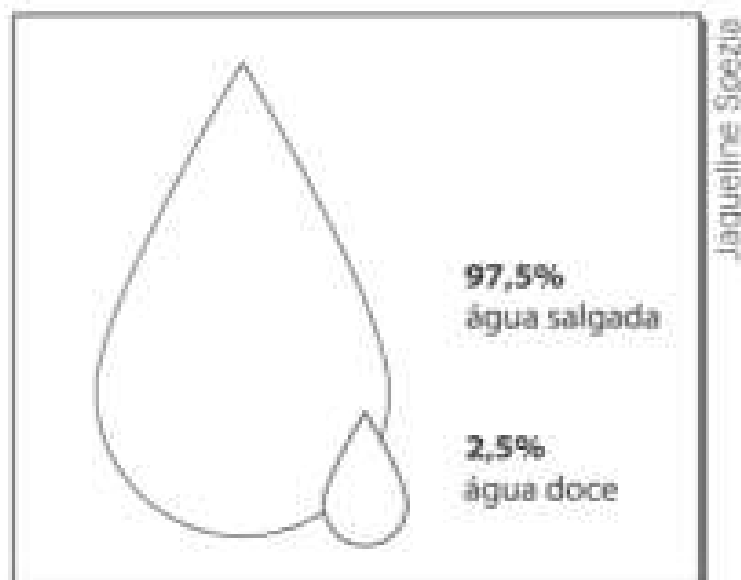
1- Observe este gráfico sobre cobertura da superfície terrestre.



- Pinte de azul o quadrinho da legenda referente à água.
- Pinte de azul a parte do gráfico referente à água.
- Pinte de marrom o quadrinho da legenda referente à terra.
- Pinte de marrom a parte do gráfico referente à terra.
- A maior parte da superfície do planeta é recoberta de água ou de terras emersas?

2- A figura ao lado representa toda a água existente no planeta.

- Pinte de azul a parte maior da figura e de verde a parte menor.
- Em nosso planeta há mais água salgada ou doce?




- **Leitura:** <https://youtu.be/sZHSZgqGGk0>
- Português: Copie e responda no caderno de português, depois de feito tire uma foto das lições e envie para a professora. Aguardo sua lição.


## Dicas de Economia!

- ♦ Leia as trovinhas e complete-as fazendo rimas:

Papai do meu coração,  
a torneira está pingando.  
Depois não vá nos dizer  
que estamos \_\_\_\_\_




Se a descarga está vazando,  
amiguinho, por favor.  
Vá até ao telefone  
e chame o \_\_\_\_\_



Enquanto escova os dentes  
Muita atenção, meu \_\_\_\_\_

Deixe a torneira fechada,  
Ouça bem o que lhe digo.



Maninha, sai do banho!  
Você demora, \_\_\_\_\_  
Depois, você já sabe,  
a conta é dos nossos pais.



Para limpar o passeio  
deixe de lado a \_\_\_\_\_  
Use só uma vassoura,  
gastar água é bobeira.



*Extraído do Folheto da COPASA.*

- O que você faz para economizar água em sua casa?

\_\_\_\_\_

\_\_\_\_\_

# • CIÊNCIAS: O ciclo da água e o clima.

**5ª feira 25/08**

- **Leitura: Planeta água**
- Português: Copie o texto e responda as atividades no caderno de português, depois de feito tire uma foto das lições e envie para a professora. Aguardo sua lição!

**Música: Planeta Água**

Água que nasce na fonte  
Serena do mundo  
E que abre um  
Profundo grotão  
Água que faz inocente  
Riacho e deságua  
Na corrente do ribeirão...  
Águas escuras dos rios  
Que levam  
A fertilidade ao sertão  
Águas que banham aldeias  
E matam a sede da população...  
Águas que caem das pedras  
No véu das cascatas  
Ronco de trovão  
E depois dormem tranqüilas  
No leito dos lagos  
No leito dos lagos...  
Água dos igarapés  
Onde Iara, a mãe d'água  
É misteriosa canção  
Água que o sol evapora  
Pro céu vai embora  
Virar nuvens de algodão...  
Gotas de água da chuva  
Alegre arco-íris  
Sobre a plantação  
Gotas de água da chuva  
Tão tristes, são lágrimas  
Na inundação...  
Águas que movem moinhos  
São as mesmas águas  
Que encharcam o chão  
E sempre voltam humildes  
Pro fundo da terra  
Pro fundo da terra...  
Terra! Planeta Água  
Terra! Planeta Água  
Terra! Planeta Água...  
Água que nasce na fonte  
Serena do mundo  
E que abre um  
Profundo grotão  
Água que faz inocente  
Riacho e deságua  
Na corrente do ribeirão...

Águas escuras dos rios  
Que levam a fertilidade ao sertão  
Águas que banham aldeias  
E matam a sede da população...  
Águas que movem moinhos  
São as mesmas águas  
Que encharcam o chão  
E sempre voltam humildes  
Pro fundo da terra  
Pro fundo da terra...  
Terra! Planeta Água  
Terra! Planeta Água  
Terra! Planeta Água...(2x)

### Interpretação de texto

- 1) No texto acima, são citadas algumas utilidades da água. Quais são elas?
- 2) Que outras utilidades existem para o uso da água?
- 3) Copie abaixo e ilustre o 6º parágrafo da música.
- 4) Você sabia que entre todos os países do mundo, o Brasil é o que possui mais rios? Esse fato pode ser considerado uma vantagem? Justifique sua resposta.
- 5) A palavra fonte é uma palavra dissílaba, porque possui duas sílabas. Retire do texto outras palavras dissílabas.
- 6) Classifique as palavras abaixo de acordo com o número de sílabas, identificando com o número adequado:

( 1 ) monossílaba

( 2 ) dissílaba

( 3 ) trissílaba

( 4 ) polissílaba

(\_\_\_) água

(\_\_\_) nasce

(\_\_\_) serena

(\_\_\_) mãe

(\_\_\_) inocente

(\_\_\_) tranquilas

(\_\_\_) evapora

(\_\_\_) fundo

(\_\_\_) encharcam

(\_\_\_) plantação

(\_\_\_) algodão

(\_\_\_) céu

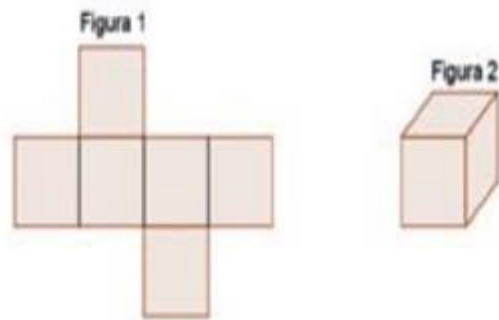
(\_\_\_) moinho

(\_\_\_) terra

(\_\_\_) sol

- **Matemática: Copie as atividades e responda no caderno de matemática, aguardo foto da atividade.**

A figura 1 a seguir representa a planificação da figura 2, o cubo.



1- Com base na planificação da figura 2, podemos dizer que um cubo possui:

- a) 4 faces
- b) 3 faces
- c) 8 faces
- d) 6 faces

2- Esta pilha de lanterna tem, aproximadamente, a forma:

- a) da pirâmide
- b) do cubo
- c) do cilindro
- d) da esfera



3- Em uma das aulas de matemática, aprendi sobre os poliedros e os corpos redondos. Em seguida, fui ao supermercado. Lá comprei uma **caixa de sabão em pó**, uma **lata de óleo** e uma **bola**. No caixa percebi que os três produtos tinham, respectivamente, a forma de:

- a) cubo, cone e circunferência.
- b) paralelepípedo, cone e esfera.
- c) cubo, cilindro e circunferência.
- d) paralelepípedo, cilindro e esfera.





6ª feira 26/08

- **Leitura:** <https://youtu.be/WroWFHfMEAA>

- **História: Mumificar os mortos.**
- **Geografia: A evolução tecnológica dos meios de transportes.**
- **Observação: As aulas de ciências, história e geografia serão explicadas pelos Zoom ou WhatsApp.**



**Qualquer dúvida ou  
dificuldade entrar em contato  
pelo WhatsApp da professora.**