

ROTINA SEMANAL semana 04 a 08 de outubro-5º ANO

Copiar os textos e as atividades no caderno de português e responder:

ATIVIDADE 1

MÚSICA : CRIANÇA



Que coisa linda a gente ser criança
Brincar de pular e correr
Ir para a escola aprender tantas coisas
Para amanhã na vida vencer.



Soltar pipa, jogar pião
Chutar bola, soltar balão
Cabelos soltos pés no chão
A vida é sempre uma canção.

Criança, você enche a vida de alegria
Cantar criança
Anunciar um novo dia.



ATIVIDADES

- 1- Segundo a poesia o que “coisa mais linda”?
- 2- Quais brincadeiras aparecem no texto?
- 3- Do que a criança enche a vida?
- 4- O que você mais gostou no texto?

ATIVIDADE 2

<https://youtu.be/h3J-iuY-4YM> - Proclamação dos Direitos da Criança.

OS DIREITOS DA CRIANÇA

EM 1989 AS NAÇÕES UNIDAS ADOTARAM A CONVENÇÃO DOS DIREITOS DA CRIANÇA. OS PAÍSES QUE A RATIFICARAM, DEVEM ASSEGURAR A TODAS AS CRIANÇAS - SEM DISTINÇÃO DE RAÇA, COR, SEXO, LÍNGUA, RELIGIÃO, ORIGEM ÉTNICA - O ACESSO A DETERMINADOS DIREITOS BÁSICOS.

OS DIREITOS DAS CRIANÇAS



1- DIREITO À IGUALDADE, SEM DISTINÇÃO DE RAÇA, COR RELIGIÃO OU NACIONALIDADE.



2- DIREITO A PROTEÇÃO PARA O SEU DESENVOLVIMENTO FÍSICO, SOCIAL E MENTAL.




3- DIREITO A UM NOME E UMA NACIONALIDADE.



4- DIREITO A ALIMENTAÇÃO, MORADIA E ASSISTÊNCIA.



5- DIREITO A UMA VAGA NA ESCOLA E A CUIDADOS ESPECIAIS PARA A CRIANÇA FÍSICA OU MENTALMENTE DEFICIENTE.



6- DIREITO AO AMOR E À ACEITAÇÃO POR PARTE DOS PAIS E DA SOCIEDADE.



7- DIREITO AO LAZER E À EDUCAÇÃO.



8- DIREITO A SER SOCORRIDA EM PRIMEIRO LUGAR.



9- DIREITO À PROTEÇÃO CONTRA O ABANDONO E A EXPLORAÇÃO NO TRABALHO.

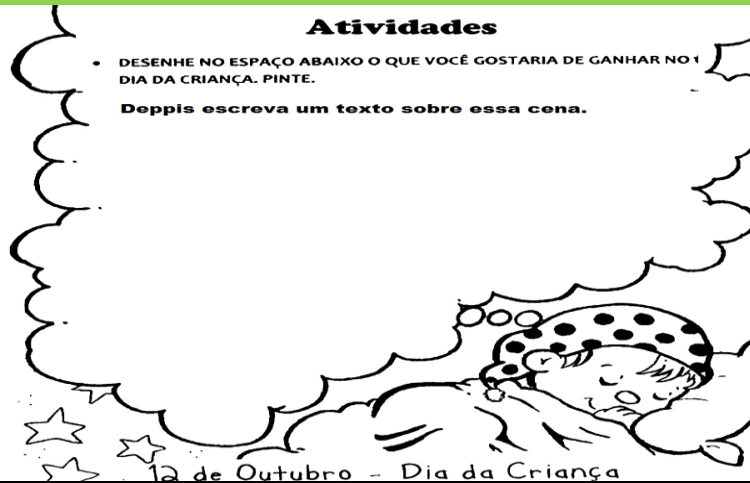


10- DIREITO A CRESCER DENTRO DE UM ESPÍRITO DE SOLIDARIEDADE, COMPRENSÃO, E JUSTIÇA ENTRE OS POVOS.

ATIVIDADES

- 1- O que é direito para você?
- 2- O que é dever para você?
- 3- Você conhecia os direitos das crianças?
- 4- Escreva um direito da criança:
- 5- Você acredita que os direitos da crianças são sempre respeitados? Explique:

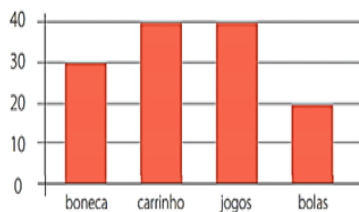
ATIVIDADE 3



Copiar e responder as atividades no caderno de matemática:

ATIVIDADE 1

1- Sr. Luís é dono de uma loja de brinquedos. No final de julho, ele resolveu fazer um gráfico apresentando a quantidade de brinquedos que vendeu durante o mês. Veja o gráfico a seguir:



Quais são os dois brinquedos mais comprados?

- a) boneca e bolas. b) carrinho e boneca. c) carrinho e bolas. d) carrinho e jogos.

2- Veja o gráfico abaixo.

De acordo com esse gráfico, qual a modalidade esportiva preferida?




- A) vôlei
 B) basquete
 C) futebol
 D) natação

ATIVIDADE 2

- Livro Ápis de matemática páginas 16, 17, 18 e 19

ATIVIDADE 3

ARME E RESOLVA: (faça as contas ARMADAS no caderno)			
A) 504 + 727 =	G) 826 - 875 =	M) 693 x 5 =	S) 986 ÷ 3 =
B) 818 + 141 =	H) 3152 - 775 =	N) 63 x 8 =	T) 410 ÷ 2 =
C) 2605 + 567 =	I) 1644 - 403 =	O) 52 x 6 =	U) 503 ÷ 4 =
D) 3632 + 354 =	J) 961 - 379 =	P) 428 x 9 =	V) 459 ÷ 7 =
E) 3330 + 528 =	K) 4255 - 848 =	Q) 534 x 8 =	W) 470 ÷ 6 =
F) 935 + 913 =	L) 1558 - 657 =	R) 362 x 2 =	X) 127 ÷ 7 =



Matemática

HISTORIA

Páginas 112 e 113 - livro de história

GEO

Páginas 124, 125 e 126 - livro de geografia

CIÊNCIAS

Páginas 90 e 91 - livro de ciências