



**ANEXO II**  
**QUADRO DE ROTINAS DIÁRIAS**  
(Ensino Fundamental I e II, Educação Integral, EJA I e II, CIER)

Escola: EMEF Jardim Primavera

Professor (a): Agatha, Joaquim e Patricia.

Ano/turma: 1ºA, 1ºB, 1ºC

Registro semanal da rotina de estudos dos alunos.

Dia da semana	Rotina diária: descrição das atividades
<b>Segunda – feira</b> Data: 01/11/2021	<b>DIA PONTE</b>
<b>Terça-feira</b> Data: 02/11/2021	<b>FERIADO - DIA DE FINADOS</b>
<b>Quarta-feira</b> Data: 03/11/2021	<b>Leitura Diária:</b> HISTÓRIA A MENTIRA DA BARATA conto infantil. <b>DISPONÍVEL EM:</b> <a href="https://www.youtube.com/watch?v=tLYAlx-PzaA">https://www.youtube.com/watch?v=tLYAlx-PzaA</a>  <b>Artes:</b> É só acessar o Link abaixo. <a href="https://portaleducacao.hortolandia.sp.gov.br/index.php/artes">https://portaleducacao.hortolandia.sp.gov.br/index.php/artes</a>
<b>Quinta-feira</b> Data: 04/11/2021	<b>Leitura Diária:</b> Palavra cantada   A Barata. <b>DISPONÍVEL EM:</b> <a href="https://www.youtube.com/watch?v=ymAYWAbWDhk">https://www.youtube.com/watch?v=ymAYWAbWDhk</a>  <b>Educação física:</b> Segue o link para acesso. <a href="https://portaleducacao.hortolandia.sp.gov.br/index.php/ed-fisica">https://portaleducacao.hortolandia.sp.gov.br/index.php/ed-fisica</a>
<b>Sexta-feira</b> Data: 05/11/2021	<b>Leitura Diária:</b> A cidade das FORMAS GEOMÉTRICAS. <b>DISPONÍVEL EM:</b> <a href="https://www.youtube.com/watch?v=vrMbowzuEoQ">https://www.youtube.com/watch?v=vrMbowzuEoQ</a>  <b>Inglês:</b> Acesse a disciplina através do Link abaixo: <a href="https://portaleducacao.hortolandia.sp.gov.br/index.php/ingles">https://portaleducacao.hortolandia.sp.gov.br/index.php/ingles</a>



Prefeitura Municipal de Hortolândia  
Secretaria de Educação, Ciência e Tecnologia

**EMEF JARDIM PRIMAVERA**

**1º ANOS: A – B – C**

**SEMANA DE 01 A 05/11/2021**

**01/11/2021**

**DIA PONTE**

**02/11/2021**

**FERIADO - DIA DE FINADOS**



Prefeitura Municipal de Hortolândia  
Secretaria de Educação, Ciência e Tecnologia

**EMEF JARDIM PRIMAVERA**

**1º ANOS: A – B – C**






**PORTUGUÊS DIA 03/11/2021**






1- FAÇA O CABEÇALHO EM SEU CADERNO, CONFORME O MODELO ABAIXO:






HORTOLÂNDIA, 03 DE NOVEMBRO DE 2021.
ESCOLA: E.M.E.F JARDIM PRIMAVERA.
HOJE È: QUARTA FEIRA.
NOME COMPLETO: _____
1º ANO _____ PROFESSOR: _____





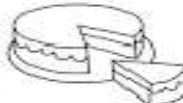
2. REALIZE A ATIVIDADE ABAIXO:






1-PINTE OS DESENHOS INICIADOS PELA SÍLABA EM DESTAQUE

**BA**     

**BE**     

**BI**     

**BO**     

**BU**     

www.aart.educisinaesprender.com



# FAMÍLIA SILÁBICA

BA BE BI BO BU

1- COMPLETE AS PALAVRAS COM O SOM INICIAL:



LA



BE



CO



LO



LE













1. ESCREVA O CABEÇALHO NO TEU CADERNO.






HORTOLÂNDIA, 04 DE NOVEMBRO DE 2021.
ESCOLA: E.M.E.F JARDIM PRIMAVERA.
HOJE È: QUINTA FEIRA.
NOME COMPLETO: _____
1º ANO _____ PROFESSOR: _____

2. LIGUE CORRETAMENTE A SÍLABA QUE CORRESPONDE AO INÍCIO DO NOME DE CADA FIGURA.

**LINGUAGEM**  
FAMÍLIA SILÁBICA  
B

LIGUE:

				
---	---	---	---	---

[notebookdaprof.blogspot.com](http://notebookdaprof.blogspot.com)





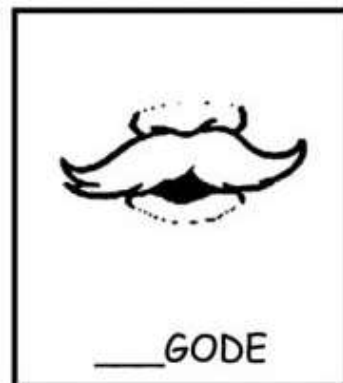






**EMEF JARDIM PRIMAVERA**



3 - VAMOS COMPLETAR AS PALAVRAS:

**BA - BE - BI - BO - BU**





**EMEF JARDIM PRIMAVERA**

**MATEMÁTICA DIA 05/11/2021**

**1. ESCREVA O CABEÇALHO NO TEU CADERNO.**

HORTOLÂNDIA, 05 DE NOVEMBRO DE 2021.

ESCOLA: E.M.E.F JARDIM PRIMAVERA.

HOJE È: SEXTA FEIRA.

NOME COMPLETO: \_\_\_\_\_

1º ANO \_\_\_\_\_ PROFESSOR: \_\_\_\_\_

**2 – É HORA DE CONTAR E ESCREVER OS NÚMEROS COMPLETANDO A SEQUÊNCIA.**

**COMPLETE A SEQUÊNCIA NUMÉRICA:**

0	1	2							
10									
20									
30									
40									



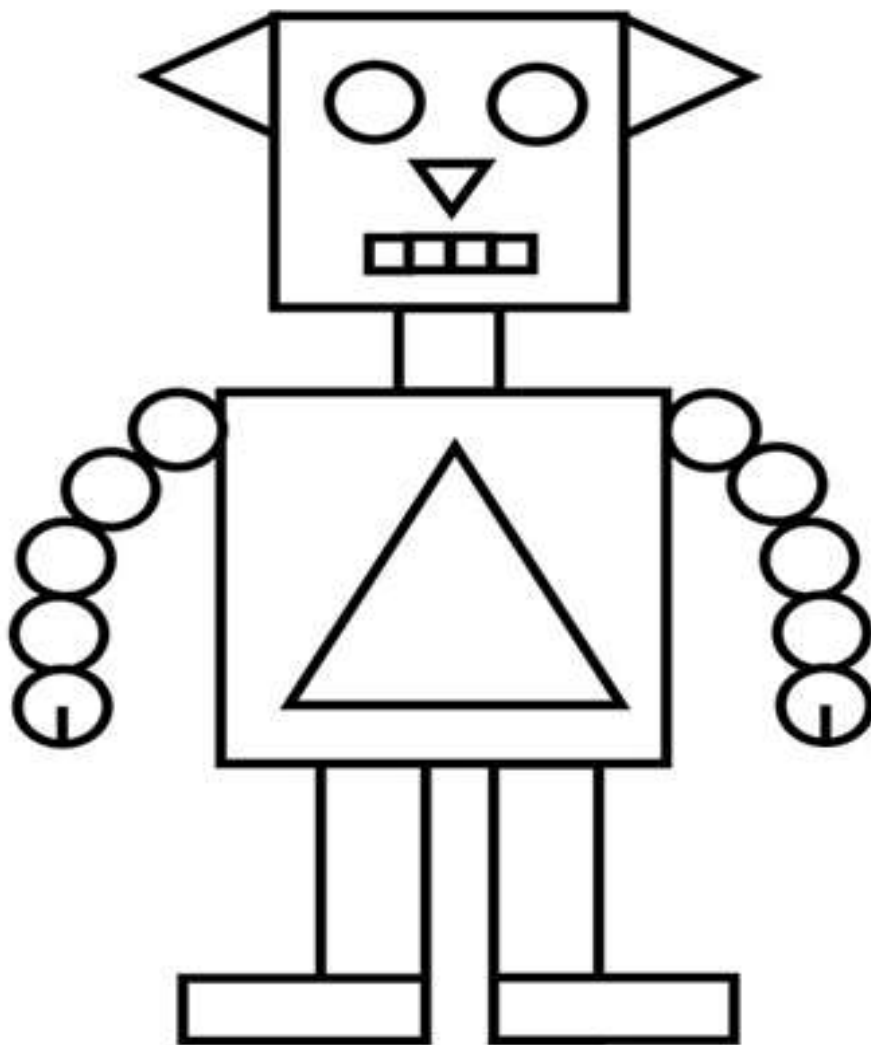


Prefeitura Municipal de Hortolândia  
Secretaria de Educação, Ciência e Tecnologia

**EMEF JARDIM PRIMAVERA**

3 – OBSERVE A FIGURA E FAÇA O QUE É PEDIDO.

PINTE CADA FORMA GEOMÉTRICA DE UMA COR DIFERENTE  
E REGISTRE A QUANTIDADE DE CADA UMA



TRIÂNGULOS

RETÂNGULOS

QUADRADOS

CÍRCULOS