



Prefeitura Municipal de Hortolândia

Secretaria de Educação, Ciência e Tecnologia

EMEF JARDIM PRIMAVERA

SEMANA DE 24/05/2021 A 28/05/2021.

PROFESSORES: ELISANGELA, LEANDRA, VIVIANE E EVANDRO.

ANO/TURMA: 5ºANOS A, B, C e D

SENHORES PAIS, OU RESPONSÁVEIS:

- PROMOVAM UMA ROTINA DE ESTUDO DIÁRIA;
- AS ATIVIDADES PROPOSTAS DEVEM SER REALIZADAS NO CADERNO DE SALA;
- DISPONIBILIZAR UM ADULTO PARA ORIENTAR A REALIZAÇÃO DAS ATIVIDADES;
- SOLICITEM AUXÍLIO DOS PROFESSORES SEMPRE QUE NECESSÁRIO;

Dia da semana	Rotina diária: descrição da atividade
Segunda-feira 24/05	LEITURA DIÁRIA: - ACESSE O LINK A SEGUIR https://youtu.be/Az47ZYXDaNk E OUÇA A HISTÓRIA DO TATU. PORTUGUÊS: LEIA O POEMA E RESPONDA AS ATIVIDADES SUGERIDAS.
Terça-feira 25/05	LEITURA DIÁRIA: ACESSE O LINK A SEGUIR https://youtu.be/nyCnoctzvBY E CONHEÇA UM POUCO MAIS SOBRE A BRINCADEIRA DE BOLINHA DE GUDE MATEMÁTICA: VAMOS RESOLVER UMA SITUAÇÃO-PROBLEMA? PROJETO BEM ME QUER, PAZ SE QUER: REALIZE AS ATIVIDADES SUGERIDAS NO BLOG. ACESSE O LINK A SEGUIR: https://ensinofundamentalhortolandia.blogspot.com/search/label/Quer%20saber%20mais%3F
Quarta-feira 26/05	LEITURA DIÁRIA: ACESSE O LINK A SEGUIR https://youtu.be/BUU2nl-QZ_U E VAMOS APRENDER SOBRE PATRIMÔNIO CULTURAL. ACESSO EM 06/05/2021 HISTÓRIA: LEIA O TEXTO SUGERIDO SOBRE OBJETOS DA CULTURA MATERIAL. INGLÊS: REALIZE AS ATIVIDADES SUGERIDAS NO BLOG. ACESSE O LINK A SEGUIR: https://ensinofundamentalhortolandia.blogspot.com/search/label/L%C3%ADngua%20Inglesa
Quinta-feira 27/05	LEITURA DIÁRIA: ACESSE O LINK A SEGUIR https://youtu.be/sqax6Q-1gbk E CONHEÇA UM RECONTO AFRICANO. GEOGRAFIA: AS DESIGUALDADES AFETAM A POPULAÇÃO BRASILEIRA.VAMOS COMPREENDER MELHOR ESSE ASSUNTO.

	<p>ARTE: REALIZE AS ATIVIDADES SUGERIDAS NO BLOG. ACESSE O LINK A SEGUIR: https://ensinofundamentalthortolandia.blogspot.com/search/label/Arte</p>
<p>Sexta-feira 28/05</p>	<p>LEITURA DIÁRIA: https://youtu.be/1XW_pKhm3gA E CONHEÇA UM POUCO MAIS SOBRE O CORPO HUMANO. ACESSO EM 06/05/2021</p> <p>CIÊNCIAS: ESTÁ PRECISANDO DE UMA ENERGIA? LEIA O TEXTO E ENTENDA MELHOR. VAMOS CONVERSAR UM POUCO SOBRE NOSSOS SENTIMENTOS EMOÇÕES.</p> <p>EDUCAÇÃO FÍSICA: REALIZE AS ATIVIDADES SUGERIDAS NO BLOG.ACESSE O LINK A SEGUIR: https://ensinofundamentalthortolandia.blogspot.com/search/label/EDUCA%C3%87%C3%83O%20F%C3%8DSICA</p>



Prefeitura Municipal de Hortolândia
Secretaria de Educação, Ciência e Tecnologia

EMEF JARDIM PRIMAVERA

5º ANOS: A – B – C- D

SEMANA DE 24/05/2021 A 28/05/2021

SEGUNDA-FEIRA -24/05/2021

1- ACESSE O LINK A SEGUIR. <https://youtu.be/Az47ZYXDaNk> E OUÇA A HISTÓRIA DO TATU. ACESSO EM 05/05/2021

PORTUGUÊS



LEIA COM ATENÇÃO O POEMA ABAIXO:

O BURACO DO TATU

O TATU CAVA UM
BURACO
A PROCURA DE UMA LEBRE,
QUANDO SAI PRA SE COÇAR,
JÁ ESTÁ EM PORTO ALEGRE.

O TATU CAVA UM BURACO,
E FURA A TERRA COM GANA,
QUANDO SAI PRA RESPIRAR,
JÁ ESTÁ EM COPACABANA,

O TATU CAVA UM BURACO
E RETIRA A TERRA AOS MONTES,
QUANDO SAI PRA BEBER ÁGUA,
JÁ ESTÁ EM BELO HORIZONTE.

O TATU CAVA UM BURACO
TIRA A TERRA, MUITA TERRA,
QUANDO SAI POR FALTA DE AR,
JÁ ESTÁ NA INGLATERRA.

O TATU CAVA UM BURACO
E SOME DENTRO DO CHÃO,
QUANDO SAI PRA RESPIRAR,
JÁ ESTÁ LÁ NO JAPÃO.

O TATU CAVA UM BURACO
COM AS GARRAS MUITO FORTES,
QUANDO QUER SE REFRESCAR,
JÁ ESTÁ NO POLO NORTE.

O TATU CAVA UM BURACO,
UM BURACO MUITO FUNDO,
QUANDO SAI PRA DESCANSAR,
JÁ ESTÁ NO FIM DO MUNDO,

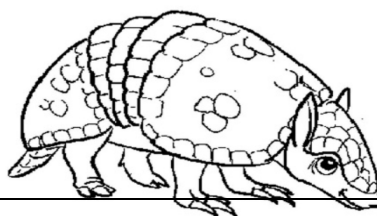
O TATU CAVA UM BURACO,
PERDE O FÔLEGO, GEME, SUA,
QUANDO QUER VOLTAR A TRÁS,
LEVA UM SUSTO, ESTÁ NA LUA.

ATIVIDADES

1- O POEMA “ O
BURACO DO
TATU” É DE SERGIO CAPPARELLI
COMPOSTO DE QUANTAS

ESTROFES? E QUANTOS VERSOS?

2- DE ACORDO COM O POEMA, PERCEBE-SE QUE O TATU É UM ANIMAL:



A) () ESPERTO B) () PREGUIÇOSO C) () TRABALHADOR

3- DE ACORDO COM O TEXTO, QUAIS PALAVRAS RIMAM COM:

LEBRE	
MONTES	
TERRA	
SUA	

4 – FAÇA A LEITURA EM VOZ ALTA DO POEMA “ O BURACO DO TATU”.



ADAPTAÇÃO CURRICULAR

COM AUXÍLIO, FAÇA A LEITURA DO POEMA ACIMA “O BURACO DO TATU”.

COMPLETE UMA ESTROFE DO POEMA, UTILIZANDO AS PALAVRAS DO QUADRO A SEGUIR:

BURACO	GARRAS	REFRESCAR	NORTE
---------------	---------------	------------------	--------------

O TATU CAVA UM BURACO COM AS GARRAS MUITO FORTES, QUANDO QUER SE REFRESCAR JÁ ESTÁ NO POLO NORTE.	O TATU CAVA UM _____ COM AS _____ MUITO FORTES, QUANDO QUER SE _____ JÁ ESTÁ NO POLO _____.
--	--

TERÇA-FEIRA -25/05/2021

1- ACESSE O LINK A SEGUIR <https://youtu.be/nyCnoctzvBY> E CONHEÇA UM POUCO MAIS SOBRE A BRINCADEIRA DE BOLINHA DE GUDE. ACESSO EM 06/05/2021.

MATEMÁTICA

1- RESOLVA A SITUAÇÃO-PROBLEMA ABAIXO:

CARLOS TEM 30 BOLINHAS DE GUDE E RUAN TEM 35 BOLINHAS DE GUDE. NO FINAL DO DIA OS DOIS FORAM BRINCAR. CARLOS GANHOU 15 BOLINHAS DE GUDE DE RUAN E RUAN GANHOU 5 BOLINHAS DE GUDE DE CARLOS.



Fonte: <https://www.obrasileirinho.com.br>

A) COM QUANTAS BOLINHAS DE GUDE CADA MENINO FICOU?

B) E SE CONTINUAREM JOGANDO E OS DOIS PERDEREM 10 BOLINHAS CADA UM? COM QUANTAS BOLINHAS CADA UM FICARÁ?

CÁLCULO

ADAPTADO DE https://matematicanaescola.com/habilidade-de-matematica_-5o-ano-ef/ ACESSO EM 06/05/2021

ADAPTAÇÃO CURRICULAR

COM AUXÍLIO, RESOLVA A SITUAÇÃO- PROBLEMA ABAIXO:

EM OUTRO DIA DE BRINCADEIRAS, CARLOS TEM 5 BOLINHAS DE GUDE E RUAN TEM 3 BOLINHAS DE GUDE, CARLOS GANHOU 1 BOLINHA E RUAN GANHOU 3.

A) COM QUANTAS BOLINHAS DE GUDE CADA MENINO FICOU?

CÁLCULO

QUARTA-FEIRA -26/05/2021

1- ACESSE O LINK A SEGUIR. https://youtu.be/BUU2nl-QZ_U

E VAMOS APRENDER SOBRE PATRIMÔNIO CULTURAL. ACESSO EM 06/05/202

HISTÓRIA

HÁBITOS E CULTURAS: OBJETOS DA CULTURA MATERIAL

AS AÇÕES NECESSÁRIAS NA VIDA COTIDIANA GERAM MÉTODOS PRÓPRIOS E NOVAS TÉCNICAS QUE SÃO CRIADAS PARA LIDAR COM OS DESAFIOS ENFRENTADOS PELAS PESSOAS AO LONGO DO TEMPO. ASSIM, AS FORMAS DAS CONSTRUÇÕES ARQUITETÔNICAS OU DOS UTENSÍLIOS EMPREGADOS EM USOS DIVERSOS, COMO CULTIVAR ALIMENTOS, COZINHAR OU SE LOCOMOVER, GUARDAM AS MARCAS DE NECESSIDADES COMUNS E DOS HÁBITOS MAIS CORRIQUEIROS DAS POPULAÇÕES.

ADAPTADO PARA FINS DIDÁTICOS DE VASCONCELOS, Lucimara Regina de Souza. Buriti Mais História. 5º ano, 1ª edição. p.32, São Paulo: Editora Moderna, 2017

ATIVIDADES

1- OBSERVE AS IMAGENS E RESPONDA ÀS QUESTÕES:



Utensílios de cozinha feitos de ossos, de cerca de 8 mil anos atrás, encontrados em Çatal Hüyük, sítio arqueológico na atual Turquia.



Miniatura de casa feita de argila, de cerca de 3 mil anos atrás, construída na Mesopotâmia, na região da atual Síria.



Recipiente feito de cerâmica, de cerca de 2800 anos atrás, encontrado na Mesopotâmia, na região do atual Irã.

A) DE QUE MATERIAIS SÃO FEITOS OS OBJETOS RETRATADOS NAS FOTOGRAFIAS?

B) ESSES OBJETOS TÊM SEMELHANÇAS COM OS OBJETOS QUE USAMOS ATUALMENTE?

ADAPTAÇÃO CURRICULAR

COM AUXÍLIO FAÇA A LEITURA DO TEXTO **HÁBITOS E CULTURAS: OBJETOS DA CULTURA MATERIAL.**

OBSERVE A IMAGEM ABAIXO QUE MOSTRA UTENSÍLIOS DE COZINHA DE CERCA DE 8 MIL ANOS ATRÁS E DESENHE AO LADO UM EXEMPLO DE COMO SÃO ESSES MESMOS UTENSÍLIOS ATUALMENTE:



Utensílios de cozinha feitos de ossos, de cerca de 8 mil anos atrás, encontrados em Çatal Hüyük, sítio arqueológico na atual Turquia.

QUINTA-FEIRA -27/05/2021

1- ACESSE O LINK A GUIR. <https://youtu.be/sqax6Q-> E CONHEÇA UM RECONTO CANO, ACESSO EM /2021

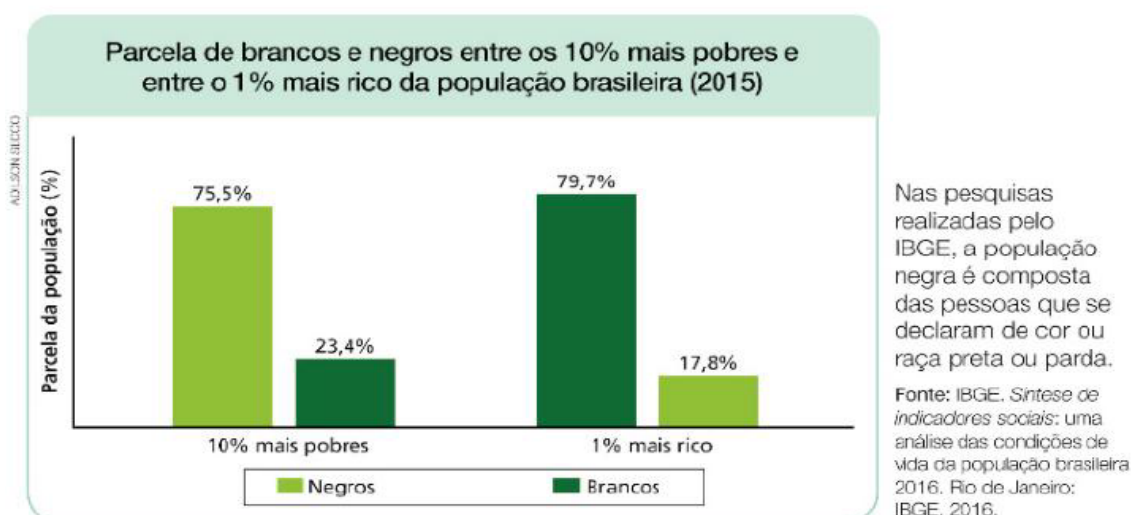


SE-
1gbk
AFRI-
06/05

GEOGRAFIA

AS DESIGUALDADES ENTRE NEGROS E BRANCOS NO BRASIL

A DESIGUALDADE DE RENDA GERA DESIGUALDADE SOCIAL E ESSAS DESIGUALDADES SÃO MAIS PROFUNDAS ENTRE A PARCELA DA POPULAÇÃO QUE SE AUTODECLARA PARDO OU NEGRO, DEMONSTRANDO UMA SOCIEDADE MARCADA, AINDA, POR DESIGUALDADES RACIAIS. A ORIGEM DISSO TEM RELAÇÃO COM A PRÓPRIA FORMAÇÃO DA SOCIEDADE BRASILEIRA.



ATIVIDADES

1- COM BASE NO GRÁFICO, RESPONDA ÀS QUESTÕES:

A) EM 2015, HAVIA MAIS BRANCOS OU MAIS NEGROS ENTRE OS 10% MAIS POBRES DA POPULAÇÃO BRASILEIRA?

B) EM 2015, HAVIA MAIS BRANCOS OU MAIS NEGROS ENTRE O 1% MAIS RICOS DA POPULAÇÃO BRASILEIRA?

ADAPTADO PARA FINS DIDÁTICOS DE JOMAA, Lina Youssef. *Buriti Mais Geografia*. 5º ano, 1ª edição. p.33, São Paulo: Editora Moderna, 2017

ADAPTAÇÃO CURRICULAR

COM AUXÍLIO, DE ACORDO COM AS INFORMAÇÕES DO GRÁFICO ACIMA, MARQUE UM (x) NA RESPOSTA CORRETA:

10% DA POPULAÇÃO MAIS POBRE PERTENCE A POPULAÇÃO:

() BRANCA

() NEGRA

SEXTA-FEIRA -28/05/2021

1- ACESSE O LINK A SEGUIR. https://youtu.be/1XW_pKhm3gA E CONHEÇA UM POUCO MAIS SOBRE O CORPO HUMANO. ACESSO EM 06/05/2021

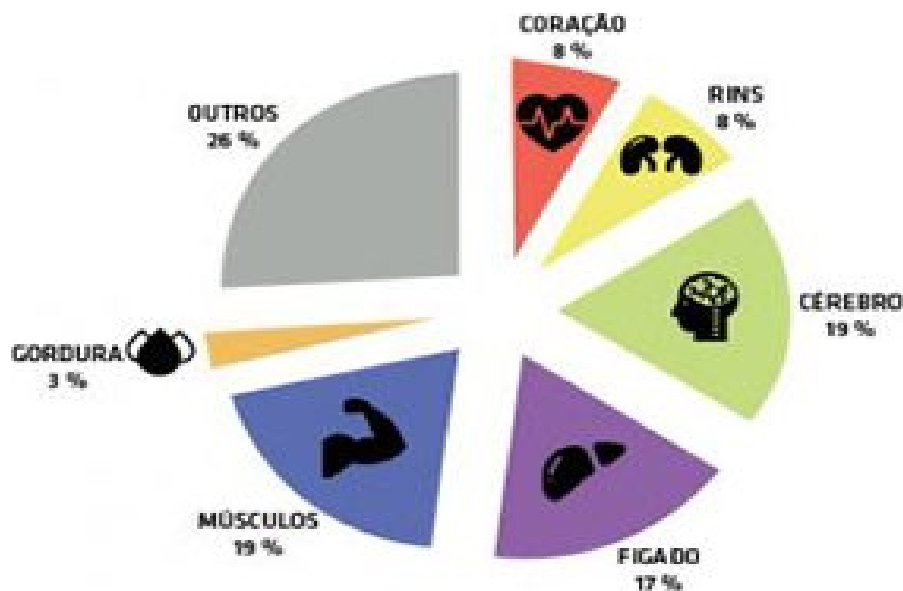
CIÊNCIAS

O CORPO PRECISA DE ENERGIA

OS ALIMENTOS SÃO A ÚNICA FONTE DE ENERGIA PARA O CORPO HUMANO. POR MEIO DA DIGESTÃO, OS NUTRIENTES PRESENTES NOS ALIMENTOS PODEM FORNECER ENERGIA PARA MANTER AS FUNÇÕES VITAIS.

A NUTRIÇÃO DEPENDE DO FUNCIONAMENTO INTEGRADO DE DIVERSOS ÓRGÃOS DO CORPO HUMANO. NA REALIDADE, TODOS OS ÓRGÃOS PRECISAM FUNCIONAR EM CONJUNTO PARA MANTER O CORPO VIVO E SAUDÁVEL. O **ENCÉFALO**, LOCALIZADO NA CABEÇA CONTROLA O FUNCIONAMENTO DOS ÓRGÃOS DO CORPO E TAMBÉM É RESPONSÁVEL PELOS MOVIMENTOS, PELA PERCEPÇÃO DO AMBIENTE, PELA CAPACIDADE DE APRECIAR E DE CRIAR.

OBSERVE NO GRÁFICO A SEGUIR A QUANTIDADE APROXIMADA DE ENERGIA GASTA POR CADA ÓRGÃO EM PERÍODO DE REPOUSO.



<https://souesportista.decathlon.com.br/o-que-e-gasto-energetico> ACESSO EM 29/04/2021

ADAPTADO PARA FINS DIDÁTICOS DE YAMAMOTO, Ana Carolina de Almeida. Buriti Mais Ciências. 5º ano, 1ª edição. p.96, São Paulo: Editora Moderna, 2017

ATIVIDADES

1- DE ACORDO COM A LEITURA DO TEXTO ACIMA, QUAL A FUNÇÃO DO ENCÉFALO PARA O BOM FUNCIONAMENTO DO CORPO HUMANO?

ADAPTAÇÃO CURRICULAR

COM AUXÍLIO, RESPONDA A ATIVIDADE ABAIXO:

DE ACORDO COM O TEXTO, QUAL É O NOME DO ÓRGÃO QUE CONTROLA O FUNCIONAMENTO DOS ÓRGÃOS DO CORPO?

PINTE A RESPOSTA CORRETA:

INTESTINO DELGADO	ENCÉFALO	FARINGE
--------------------------	-----------------	----------------

VAMOS CONVERSAR UM POUCO SOBRE AS NOSSAS EMOÇÕES E SENTIMENTOS?

OBSERVE A IMAGEM ABAIXO E FAÇA UM DESENHO DA EMOÇÃO QUE VOCE SENTIRIA SE VIVENCIASSE A SITUAÇÃO SUGERIDA.

VOCÊ PODE SE EXPRESSAR ATRAVÉS DA ESCRITA, SE PREFERIR.



 você é sincero com seus amigos?	sim <input type="checkbox"/>	às vezes <input type="checkbox"/>
	não <input type="checkbox"/>	sempre <input type="checkbox"/>

ADAPTADO DE www.opoderdasemocoes.com.br/atividade/ativ_imp.asp?id_grp=2&ord=56 ACESSO EM 06/05/2021.