



**PREFEITURA DE HORTOLÂNDIA**  
Secretaria de Educação, Ciência e Tecnologia  
**EMEF JARDIM PRIMAVERA**  
**PROFESSORES: ANDRÉA, VIVIANE, THALES E MÁRCIA.**  
**Semana de 31/05/2021 A 04/06/2021**

ANO/TURMA: 2ºANOS A, B, C e D

SENHORES PAIS, OU RESPONSÁVEIS:

- PROMOVAM UMA ROTINA DE ESTUDO DIÁRIA;
- AS ATIVIDADES PROPOSTAS DEVEM SER REALIZADAS NO CADERNO DE SALA;
- DISPONIBILIZAR UM ADULTO PARA ORIENTAR A REALIZAÇÃO DAS ATIVIDADES;
- SOLICITEM AUXÍLIO DOS PROFESSORES SEMPRE QUE NECESSÁRIO;
- REALIZEM AS ATIVIDADES PROPOSTAS E ENVIEM PARA CORREÇÃO E REGISTRO.

Dia da semana	Rotina diária: Descrição da atividade
<b>Segunda-feira</b> <b>31/05</b>	<b>LEITURA DIÁRIA:</b> ASSISTA AO VÍDEO: POEMA “ A CASA E SEU DONO” NO LINK: <a href="https://youtu.be/p-w5TwbmsY">https://youtu.be/p-w5TwbmsY</a> ACESSO EM 15/05/2021. <b>PORTUGUÊS:</b> ATIVIDADES DE LEITURA E INTERPRETAÇÃO POEMA “A CASA E SEU DONO” (VEJA AS ATIVIDADES POSTADAS NO BLOG). <b>ARTE:</b> REALIZE AS ATIVIDADES SUGERIDAS NO BLOG.ACESSE LINK A SEGUIR: <a href="https://ensinofundamentalhortolandia.blogspot.com/search/label/Arte">https://ensinofundamentalhortolandia.blogspot.com/search/label/Arte</a>
<b>Terça-feira</b> <b>01/06</b>	<b>LEITURA DIÁRIA:</b> SOLZINHO SOZINHO –VARAL DE HISTÓRIA DISPONIVEL EM <a href="https://youtu.be/Eupx-HpGekU">https://youtu.be/Eupx-HpGekU</a> ACESSO EM 23/05/2021 <b>MATEMÁTICA:</b> ATIVIDADES DE ESCRITA NUMERICA E ADIÇÃO.FAÇA AS ATIVIDADES SUGERIDAS. <b>INGLÊS:</b> REALIZE AS ATIVIDADES SUGERIDAS NO BLOG. ACESSE O LINK A SEGUIR: <a href="https://ensinofundamentalhortolandia.blogspot.com/search/label/L%C3%ADngua%20Ingl%C3%AAs">https://ensinofundamentalhortolandia.blogspot.com/search/label/L%C3%ADngua%20Ingl%C3%AAs</a>
<b>Quarta-feira</b> <b>02/06</b>	<b>LEITURA DIÁRIA:</b> ACESSE O LINK A SEGUIR <a href="https://youtu.be/JEZ8uethbvw">https://youtu.be/JEZ8uethbvw</a> E CONHEÇA UM POEMA SOBRE AS PLANTAS. <b>CIÊNCIAS:</b> VAMOS APRENDER SOBRE OS ELEMENTOS QUE AS PLANTAS PRECISAM PARA SOBREVIVER. FAÇA AS ATIVIDADES SUGERIDAS. <b>EDUCAÇÃO FÍSICA:</b> REALIZE AS ATIVIDADES SUGERIDAS NO BLOG, ACESSANDO O LINK: <a href="https://ensinofundamentalhortolandia.blogspot.com/search/label/EDUCA%C3%87%C3%83O%20F%C3%8DSICA">https://ensinofundamentalhortolandia.blogspot.com/search/label/EDUCA%C3%87%C3%83O%20F%C3%8DSICA</a> .
<b>Quinta-feira</b> <b>03/06</b>	<b>- FERIADO (CORPUS CHRISTI).</b>
<b>Sexta-feira</b> <b>04/06</b>	<b>- DIA PONTE</b>



PREFEITURA DE HORTOLÂNDIA  
Secretaria de Educação, Ciência e Tecnologia  
**EMEF JARDIM PRIMAVERA**  
**PROFESSORES: ANDRÉA, VIVIANE, THALES E MÁRCIA.**  
**Semana de 31/05/2021 a 04/06/2021**

ANO/TURMA: 2ºANOS A, B, C e D

**SEGUNDA- FEIRA: 31/05**

**PORTUGUÊS**

- ASSISTA AO VÍDEO DO POEMA: "A CASA E SEU DONO" [https://youtu.be/p\\_w5TwbmsY](https://youtu.be/p_w5TwbmsY) ACESSO EM 15/05/2021.
- **COPIE O POEMA EM SEU CADERNO E FAÇA A LEITURA.**

**A CASA E SEU DONO**  
(ELIAS JOSÉ)



ESSA CASA É DE CACO  
QUEM MORA NELA É O MACACO.



ESSA CASA TÃO BONITA  
QUEM MORA NELA É A CABRITA.

ESSA CASA É DE CIMENTO  
QUEM MORA NELA É O JUMENTO.



ESSA CASA É DE TELHA  
QUEM MORA NELA É A ABELHA.



ESSA CASA É DE LATA  
QUEM MORA NELA É A BARATA.



ESSA CASA É ELEGANTE  
QUEM MORA NELA É O ELEFANTE.



E DESCOBRI DE REPENTE  
QUE NÃO FALEI EM CASA DE  
GENTE.

DISPONÍVEL EM <https://educacaoetransformacaooficial.blogspot.com/2021/03/atividades-casa-e-seu-dono-elias-jose.html> ACESSO EM 15/05/2021.

**INTERPRETAÇÃO DE TEXTO:**

- 1- CIRCULE NO POEMA O NOME DOS ANIMAIS.
- 2- COPIE O TÍTULO DO POEMA:

---

3- QUEM ESCREVEU O POEMA?

\_\_\_\_\_

4- ESCREVA O NOME DO DONO DA CASA DE ACORDO COMO É CADA UMA:

CIMENTO	
LATA	
CACO	
ELEGANTE	
TELHA	
BONITA	

5- OBSERVE O TÍTULO ABAIXO:

**A CASA E SEU DONO**




- QUANTAS PALAVRAS TEM O TÍTULO?
- ASSINALE COM UM (X)




( ) 4 PALAVRAS            ( ) 5 PALAVRAS            ( ) 7 PALAVRAS

6- COMPLETE AS FRASES CRIANDO UM NOVO VERSO (COMBINANDO E RIMANDO AS PALAVRAS). DEPOIS FAÇA A ILUSTRAÇÃO NO ESPAÇO ABAIXO.

ESSA CASA É DE \_\_\_\_\_  
QUEM MORA NELA É \_\_\_\_\_







7- COMPLETE COM AS SÍLABAS FALTOSAS PARA COMPLETAR O NOME DOS ANIMAIS DO POEMA:

 ____LE____TE	 ____BE____	 CA____TA
---	---	---

 _____ MEN _____	 MA _____	 BA _____ TA
---	---	--

• **ADAPTAÇÃO CURRICULAR:**

1- ESCREVA O NOME DOS ANIMAIS:

 _____	 _____	 _____
 _____	 _____	 _____

**TERÇA- FEIRA 01/06**

**MATEMÁTICA**

- ASSISTA O VÍDEO DA HISTÓRIA: "SOLZINHO SOZINHO" <https://youtu.be/Eupx-HpGekU>

1- OBSERVE O QUADRO ABAIXO COM OS NÚMEROS ESCRITOS POR EXTENSO:

<b>NÚMEROS</b>		
		
		
0 – ZERO	16 – DEZESSEIS	50 – CINQUENTA
1 – UM	17 – DEZESSETE	60 – SESSENTA
2 – DOIS	18 – DEZOITO	70 – SETENTA
3 – TRÊS	19 – DEZENOVE	80 – OITENTA
4 – QUATRO	20 – VINTE	90 – NOVENTA
5 – CINCO	21 – VINTE E UM	100 – CEM
6 – SEIS	22 – VINTE E DOIS	200 – DUZENTOS
7 – SETE	23 – VINTE E TRÊS	300 – TREZENTOS
8 – OITO	24 – VINTE E QUATRO	400 – QUATROCENTOS
9 – NOVE	25 – VINTE E CINCO	500 – QUINHENTOS
10 – DEZ	26 – VINTE E SEIS	600 – SEISCENTOS
11 – ONZE	27 – VINTE E SETE	700 – SETECENTOS
12 – DOZE	28 – VINTE E OITO	800 – OITOCENTOS
13 – TREZE	29 – VINTE E NOVE	900 – NOVECENTOS
14 – QUATORZE	30 – TRINTA	1.000 – MIL
15 – QUINZE	40 – QUARENTA	2.000 – DOIS MIL

2- AGORA ESCREVA EM SEU CADERNO OS NUMERAIS ABAIXO POR EXTENSO. SE NECESSÁRIO UTILIZE O QUADRO ANTERIOR COM OS NÚMEROS ESCRITOS POR EXTENSO:

- 11 \_\_\_\_\_
- 12 \_\_\_\_\_
- 13 \_\_\_\_\_
- 14 \_\_\_\_\_
- 15 \_\_\_\_\_
- 16 \_\_\_\_\_
- 17 \_\_\_\_\_
- 18 \_\_\_\_\_
- 19 \_\_\_\_\_
- 20 \_\_\_\_\_



ATIVIDADE ADAPTADA PELA PROFESSORA PARA FINS PEDAGÓGICOS DISPONÍVEL EM <https://i.pinimg.com/originals/37/91/eb/3791eb1991e5ad0868c42eebce4efb1e.jpg> ACESSO EM 23/05/2021

3- RESOLVA AS ADIÇÕES A SEGUIR EM SEU CADERNO. OBSERVE A QUANTIDADE DE FRUTAS E FAÇA A SOMA CORRETAMENTE:

Q U A N T O S ?				
ABACAXI	MAMÃO	PÊRA	CAJU	MELÃO
				
_____	_____	_____	_____	_____

**ABACAXI + CAJU = \_\_\_\_\_**  
**MELÃO + MAMÃO = \_\_\_\_\_**  
**PÊRA + ABACAXI = \_\_\_\_\_**  
**MAMÃO + PÊRA = \_\_\_\_\_**  
**CAJU + MELÃO = \_\_\_\_\_**  
**ABACAXI + MELÃO = \_\_\_\_\_**

DISPONÍVEL EM [https://sites.google.com/site/projetoeducativo10/\\_/rsrc/1416260384578/home/segundo-ano/realizacao-de-contagem-oral-1/atividades-adicao-e-subtracao/Atividade%20de%20Adi%C3%A7%C3%A3o%201.png](https://sites.google.com/site/projetoeducativo10/_/rsrc/1416260384578/home/segundo-ano/realizacao-de-contagem-oral-1/atividades-adicao-e-subtracao/Atividade%20de%20Adi%C3%A7%C3%A3o%201.png) ACESSO EM 23/05/2021

• **ADAPTAÇÃO CURRICULAR:**

1-EM SEU CADERNO RECORTE IMAGENS OU DESENHE FIGURAS DE ACORDO COM A QUANTIDADE CORRESPONDENTE:

1	
2	
3	
4	
5	

QUARTA- FEIRA 02/06

**CIÊNCIAS**

- ACESSE O LINK A SEGUIR: <https://youtu.be/JEZ8uethbvw> E CONHEÇA UM POEMA SOBRE AS PLANTAS. ACESSO EM 20/05/2021

LAURA ESTAVA OBSERVANDO O JARDIM DE SUA MÃE E FICOU EM DÚVIDA SOBRE O QUE AS LINDAS PLANTINHAS PRECISAVAM PARA SOBREVIVER.



[https://www.smartkids.com.br/content/coloring\\_pages/images/2122/original/primavera-jardim.png](https://www.smartkids.com.br/content/coloring_pages/images/2122/original/primavera-jardim.png) ACESSO EM 20/05/2021

MARQUE UM (x) NOS ELEMENTOS QUE AS PLANTAS PRECISAM PARA CRESCEREM FORTES E BONITAS:

- ( ) ÁGUA                      ( ) MUITA ÁGUA      ( ) NENHUMA LUZ  
( ) LUZ                        ( ) TERRA DE BOA QUALIDADE

- **ADAPTAÇÃO CURRICULAR:**

COM AUXÍLIO, OBSERVE O DESENHO DO JARDIM ACIMA E FAÇA UM ( X ) OU DESENHE NO SEU CADERNO A PLANTA QUE VOCÊ ACHOU MAIS BONITA.

**QUINTA-FEIRA 03/06**

**FERIADO**

- FERIADO “ CORPUS CHRISTI.

**SEXTA-FEIRA 04/06**

**DIA PONTE**

- DIA PONTE

## **BIBLIOGRAFIA**

### **PORTUGUÊS**

Atividades “A Casa e seu dono” disponível em: <https://educacaoetransformacaooficial.blogspot.com/2021/03/atividades-casa-e-seu-dono-elias-jose.html> ACESSO EM 15/05/2021.

