



Prefeitura Municipal de Hortolândia
Secretaria de Educação, Ciência e Tecnologia

EMEF JARDIM PRIMAVERA

SEMANA DE 04/10/2021 A 08/10/2021

PROFESSOR(A): ANDRÉIA, IZA, MICHELE E VALÉRIA

ANO/TURMA: 3º ANOS: A - B - C - D

Atividades quinzenal da semana do dia 04 a 08 de outubro

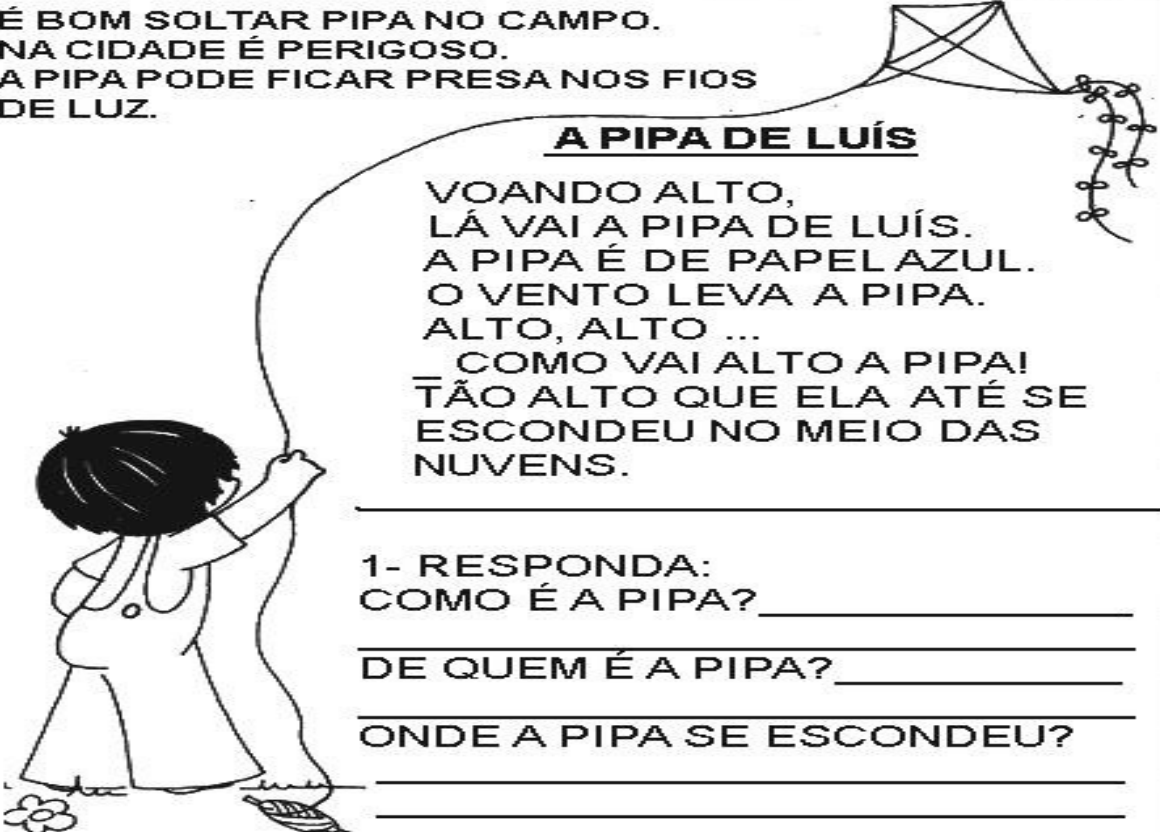
Link para acessar as atividades no Portal Educação na Rede:

<https://portaleducacao.hortolandia.sp.gov.br/index.php/emef-jardim-primavera>

Dia da semana	Rotina diária: Descrição da atividade
segunda-feira 04/10/2021	LEITURA DIÁRIA: A PIPA DE LUÍS LÍNGUA PORTUGUESA -TEXTO (LEITURA E INTERPRETAÇÃO) ATIVIDADE DE ADAPTAÇÃO: LISTA DE BRINCADEIRAS HOJE É DIA DE EDUCAÇÃO FÍSICA ACESSE A ATIVIDADE NO LINK HTTPS://PORTALEDUCACAO.HORTOLANDIA.SP.GOV.BR/INDEX.PHP/ED-FISICA
Terça-feira 05/10/2021	LEITURA DIÁRIA: AULA DE MATEMATICA - SÓLIDOS GEOMÉTRICOS https://youtu.be/QgSY0Xrj_o MATEMÁTICA – OBSERVE AS IMAGENS E ESCREVA OS NOMES DOS SÓLIDOS GEOMÉTRICOS HOJE É DIA DE EDUCAÇÃO FÍSICA E ARTE EDUCAÇÃO FÍSICA HTTPS://PORTALEDUCACAO.HORTOLANDIA.SP.GOV.BR/INDEX.PHP/ED-FISICA ARTE HTTPS://PORTALEDUCACAO.HORTOLANDIA.SP.GOV.BR/INDEX.PHP/ARTES
Quarta-feira 06/10/2021	LEITURA DIÁRIA: https://youtu.be/jVrQVumczRo Vídeo aula 8º Ano Poluição Sonora CIÊNCIAS :POLUIÇÃO SONORA HOJE É DIA DE INGLÊS HTTPS://PORTALEDUCACAO.HORTOLANDIA.SP.GOV.BR/INDEX.PHP/INGLES
Quinta-feira 07/10/2021	LEITURA DIÁRIA: <u>CARTILHA PLANETA ÁGUA - O MAU USO DA ÁGUA</u> https://youtu.be/ekShrARxGjk PROJETO GOTA D'ÁGUA: VANTAGEM QUE A ÁGUA TRÁZ PARA NOSSA VIDA. ATIVIDADE ADAPTADA: ARME E EFETUE AS OPERAÇÕES DE ADIÇÃO E SUBTRAÇÃO
Sexta-feira 08/10/2021	LEITURA DIÁRIA= CUIDADO COM O MEIO AMBIENTE https://youtu.be/xqQwPUrBRY8 PROJETO VALORES, SENTIMENTOS E SUSTENTABILIDADE – PROJETO AKATU: DESMATAMENTO

LÍNGUA PORTUGUESA

É BOM SOLTAR PIPA NO CAMPO.
NA CIDADE É PERIGOSO.
A PIPA PODE FICAR PRESA NOS FIOS
DE LUZ.



A PIPA DE LUÍS

VOANDO ALTO,
LÁ VAI A PIPA DE LUÍS.
A PIPA É DE PAPEL AZUL.
O VENTO LEVA A PIPA.
ALTO, ALTO ...
_ COMO VAI ALTO A PIPA!
TÃO ALTO QUE ELA ATÉ SE
ESCONDEU NO MEIO DAS
NUVENS.

1- RESPONDA:
COMO É A PIPA? _____

DE QUEM É A PIPA? _____

ONDE A PIPA SE ESCONDEU? _____

https://www.google.com/url?sa=i&url=https%3A%2F%2Fmisturadealegria.blogspot.com%2F2020%2F09%2Fleitura-e-interpretacao-de-texto-dia.html&psig=AOvVaw0M8L0R5K2WTKY_XGatQv6c&ust=1632302577818000&source=images&cd=vfe&ved=0CAsQjRxqGAoTCNCRnfnfj_MCFQAAAAAdAAAAABDrAg

ADAPTAÇÃO CURRICULAR

FAÇA UMA LISTA DAS BRINCADEIRAS QUE VOCÊ MAIS GOSTA:

MATEMÁTICA

COMPLETE USANDO OS NOMENS DO SÓLIDOS GEOMÉTRICOS:



se parece a _____



se parece a _____



se parece a _____



se parece a _____





se parece a _____



se parece a _____

https://www.google.com/url?sa=i&url=http%3A%2F%2Fgeonodiaadia.blogspot.com%2F2014%2F12%2Fsolidos-geometricos-no-dia-dia.html&psig=AOvVaw0LO_RT1Bz04X1hhQjL5sZC&ust=1632303145738000&source=images&cd=vfe&ved=0CAsQjRxqFwoTCOC2_r3hj_MCFQAAAAAdAAAAABAN

ADAPTAÇÃO CURRICULAR RELACIONE AS FIGURAS AOS SÓLIDOS GEOMÉTRICOS:



https://www.google.com/url?sa=i&url=http%3A%2F%2Fwww.piraquara.pr.gov.br%2Faprefeitura%2Fsecretariaseorgaos%2Feducao%2FuploadAddress%2FPTD_2_ANO_BOLICHE_DAS_FORMAS%5B552%5D.pdf&psig=AOvVaw0LO_RT1Bz04X1hhQjL5sZC&ust=1632303145738000&source=images&cd=vfe&ved=0CAsQjRxqFwoTCOC2_r3hj_MCFQAAAAAdAAAAABk

POLUIÇÃO SONORA

1- Marque com X , na lista abaixo, as situações que provocam mais poluição sonora:

- | | |
|--|--|
| <input type="radio"/> Trânsito de automóveis em horário de pico. | <input type="radio"/> Passar o dia na praia. |
| <input type="radio"/> Apresentação de uma orquestra. | <input type="radio"/> Fogos de artifício na virada do ano. |
| <input type="radio"/> Hora do intervalo na escola. | <input type="radio"/> Visitar um museu. |
| <input type="radio"/> Construção de um edifício. | <input type="radio"/> Trabalhar como telefonista. |
| <input type="radio"/> Pintura de um edifício. | <input type="radio"/> Um show musical. |
| <input type="radio"/> Utilizar o aspirador de pó. | <input type="radio"/> Cavalgar em um sítio. |
| <input type="radio"/> Falar ao telefone com um amigo. | <input type="radio"/> Ir ao salão de cabeleireiro. |



Qual situação, para você, provoca mais poluição sonora? E qual provoca menos? Explique suas escolhas.

https://www.google.com/url?sa=i&url=https%3A%2F%2Fwww.liveworksheets.com%2Fkv1768735ao&psig=AOvVaw3TKLKEBnb7IjyFNi4R_Fik&ust=1632304474358000&source=images&cd=vfe&ved=0CAsQjRxqFwoTCJi9_qLmj_MCFQAAAAAdAAAAABA2

ADAPTAÇÃO CURRICULAR

ESCREVA ALGUMAS AÇÕES QUE PODEM CAUSAR A POLUIÇÃO SONORA:

PROJETO GOTA D' ÁGUA

1. LEITURA :

A ÁGUA QUANDO ESTÁ NO CÉU É NUVEM
SE VOCÊ OUVI UM TROVÃO, LOGO A CHUVA VAI
A CHUVA SERVE PRA MOLHAR A TERRA
A CHUVA SERVE PRA ENCHER OS RIOS
A CHUVA NOS DÁ ÁGUA PRA BEBER
A CHUVA FAZ A PLANTA FLORESCER
CHUVA É ÁGUA PARA TOMAR BANHO
A CHUVA É ÁGUA PRA ESCOVAR OS DENTES
É ÁGUA PRA MAMÃE COZINHAR
É ÁGUA PRO PAPAÍ SE BARBEAR



Cristina Mel

2. DE ACORDO COM A LETRA DA MÚSICA, QUAIS AS VANTAGENS QUE A
ÁGUA TRAZ PARA A NOSSA VIDA?

https://www.google.com/url?sa=i&url=https%3A%2F%2Fdanieducar.com.br%2Fatividades-de-alfabetizacao-para-3o-ano-dia-mundial-da-agua%2F&psig=AOvVaw0lxkbEesfqrzqcQ9CPoL-x&ust=1632305086560000&source=images&cd=vfe&ved=0CAsQjRxqFwoTCKiv4Mzoi_MCFQAAAAAdAAAAABab

ATIVIDADE ADAPTADA

ARME E EFETUE

- A) $123 + 136 =$
- B) $189 = 122 =$
- C) $136 + 174 =$
- D) $216 + 55 =$
- E) $321 + 99 =$
- F) $290 + 120 =$
- G) $390 - 190 =$
- H) $109 - 90 =$
- I) $266 - 177 =$
- J) $145 - 96 =$
- K) $274 - 185 =$

PROJETO AKATU: VALORES, SENTIMENTOS E SUSTENTABILIDADE



1. Por que o homem ia derrubar a árvore?

R: _____

2. Você acha correto o que ele ia fazer? Por quê?

R: _____

3. Por que o amigo dele ficou verde?

R: _____

4. Você é um protetor da natureza?

R: _____

5. O que você faz para proteger o meio ambiente?

R: _____

6. Escreva uma frase sobre a imagem abaixo:





[Atividades sobre meio ambiente para o 3º ano - Avaliação de ciências da sociedade - Escola Educação \(escolaeducacao.com.br\)](http://www.escolaeducacao.com.br)

BOM FINAL DE SEMANA!!!



Prefeitura Municipal de Hortolândia
Secretaria de Educação, Ciência e Tecnologia

EMEF JARDIM PRIMAVERA

SEMANA DE 11/10/2021 A 15/10/2021

PROFESSOR(A): ANDRÉIA, IZA, MICHELE E VALÉRIA

ANO/TURMA: 3º ANOS: A - B - C- D

Atividades quinzenal da semana do dia 11 a 15 De outubro

Link para acessar as atividades no Portal Educação na Rede:

<https://portaleducacao.hortolandia.sp.gov.br/index.php/emef-jardim-primavera>

Dia da semana	Rotina diária: Descrição da atividade
Segunda-feira 11/10/2021	PONTE
Terça-feira 12/10/2021	FERIADO NACIONAL
Quarta-feira 13/10/2021	LEITURA DIÁRIA: VERBO IMPERATIVO: HTTPS://YOUTU.BE/HREJK_IRQCG VERBO INFINITIVO: HTTPS://YOUTU.BE/DMWWESOCZVS LÍNGUA PORTUGUESA= COMPLETE A RECEITA COM OS VERBOS NO MODO IMPERATIVO ATIVIDADE ADAPTADA: DESAFIO - ENCONTRE O PAR HOJE É DIA DE INGLÊS HTTPS://PORTALEDUCACAO.HORTOLANDIA.SP.GOV.BR/INDEX.PHP/INGLES
Quinta-feira 14/10/2021	LEITURA DIÁRIA: A GEOGRAFIA NA MINHA VIDA OU ACESSE O LINK: HTTPS://YOUTU.BE/4_PJVQS63YU MATEMÁTICA – CROQUIS E MAQUETES
Sexta-feira 15/10/2021	FERIADO ESCOLAR DIA DO PROFESSOR

LÍNGUA PORTUGUESA

Complete a receita abaixo conjugando os verbos indicados entre parênteses no Modo Imperativo.

Pão de queijo

Ingredientes

- 800 g de polvilho azedo
- 1 xícara de água
- 1 xícara de leite
- 1/2 xícara de óleo
- 2 ovos
- 100 g de queijo parmesão ralado
- sal a gosto



Modo de preparo

1. Em uma panela, _____ a água e _____ o leite, o óleo e o sal. (ferver - acrescentar)
2. _____ o polvilho aos poucos até dar liga. Pode ser que você não precise usar os 800g, então _____ devagar e _____ a massa até ela soltar da sua mão: esse é o ponto. (adicionar – colocar – sovar)
3. Quando a massa estiver morna, _____ o queijo parmesão e os ovos, e _____ bem. (acrescentar – misturar)
4. _____ as mãos e _____ bolinhas de 2 cm de diâmetro. (untar – enrolar)
5. _____ as bolinhas em uma assadeira untada com óleo, deixando um espaço entre elas. (dispor)
6. _____ em forno médio (180º C), preaquecido, por cerca de 40 minutos. (assar)

https://www.google.com/url?sa=i&url=https%3A%2F%2Fwww.todamateria.com.br%2Fatividades-sobre-verbos%2F&psig=AOvVaw145EEem5LzFFggYrJ0RSgCS&ust=1632305666504000&source=images&cd=vfe&ved=0CAsQjRxqFwoTCLDHptvqj_MCFQAAAAAdAAAAABAK

ADAPTAÇÃO CURRICULAR DESAFIO: ENCONTRE O PAR!

FRITAR	MEXA	SIRVA	SALPIQUE	FRITE
SALPICAR	DESCASCAR	RALAR	SERVIR	RALE
	MEXER	DESCASQUE		

GEOGRAFIA

Observe esta maquete e responda as questões de 11 a 19 (espaço e forma/localização em mapas):



11 - Quantas ruas os alunos precisam atravessar para ir da escola à biblioteca a pé e pelo caminho mais curto?

() A -Uma. () B -Duas. () C -Três. () D -Quatro.

12 - O ônibus vermelho virou à esquerda e, depois, à direita. Passou pelo shopping, seguiu em frente e parou. Onde ele pode estar?

- () A -Em frente ao hotel.
() B -Na frente da escola.
() C -Ao lado do cinema.
() D -Em frente ao zoológico.
() E -Na frente do banco.

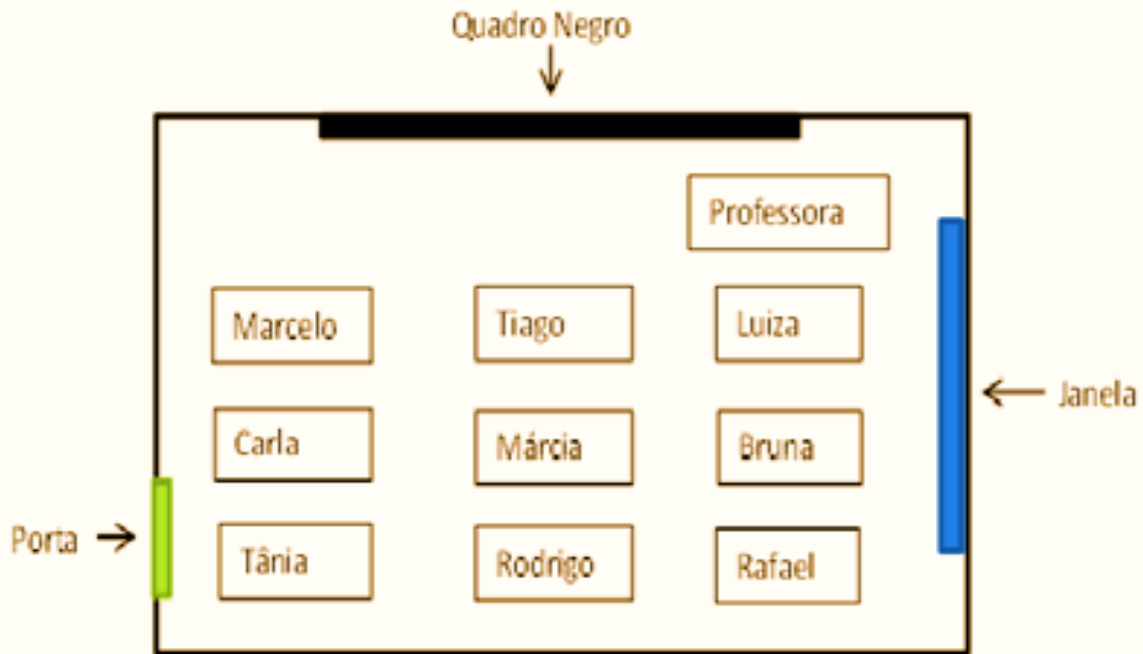
13 - O ônibus verde passou pelo supermercado, virou à esquerda e parou na frente de um edifício. Qual?

- () A - Banco.
() B -Biblioteca.
() C -Restaurante.
() D -Hotel.
() E -Shopping.

ADAPTAÇÃO CURRICULAR

https://www.google.com/url?sa=i&url=https%3A%2F%2Fwww.professoracarol.org%2FHOTPOTATOES%2FDESCRITORES%2FMAT%2FD01.htm&psig=AOvVaw32AiC3YpBG2C2-PIHBi9av&ust=1632306534547000&source=images&cd=vfe&ved=0CAsQjRxqFwoTCIDtg_ftj_MCF

12- Marcelo fez a seguinte planta da sua sala de aula:




Das crianças que se sentam perto da janela, a que senta mais longe da professora é

- (A) o Marcelo.
- (B) a Luiza.
- (C) o Rafael.
- (D) a Tânia.

https://www.google.com/url?sa=i&url=https%3A%2F%2Fwww.professoracarol.org%2FHOTPOTATOES%2FDESCRITORES%2FMAT%2FD01.htm&psig=AOvVaw32Aic3YpBG2C2-PIHbi9av&ust=1632306534547000&source=images&cd=vfe&ved=0CAsQjRxqFwoTCIDtg_ftj_MCFQAAAAAdAAAAABAK

DIA DAS CRIANÇAS - 12 DE OUTUBRO



VAMOS COLORIR?

BOM FERIADO!!!!