



## ESCOLA: EMEF JOÃO CALIXTO DA SILVA

PROFESSORA: ANGELA

ANO/TURMA: 2º ANO A

SEMANA DE 14 A 18 DE JUNHO

DIA DA SEMANA	ROTINA DIÁRIA: DESCRIÇÃO DAS ATIVIDADES
<b>SEGUNDA – FEIRA</b> DATA: 14/06/2021	<b>LEITURA DIÁRIA: <u>OS MAMBOUS E O SÃO JOÃO</u></b> HOJE TRABALHAREMOS INTERPRETAÇÃO DE TEXTO E INICIAREMOS OS TRABALHOS COM SUBSTANTIVOS ATRAVÉS DO SUBSTANTIVO COMUM. HOJE TAMBÉM VAMOS REALIZAR AS ATIVIDADES DE <b>ARTE</b> .
<b>TERÇA-FEIRA</b> DATA: 15/06/2021	<b>LEITURA DIÁRIA: <u>O PAPELZINHO MÁGICO</u></b> NESTA ATIVIDADE VAMOS TRABALHAR SITUAÇÕES PROBLEMAS COM ADIÇÃO.
<b>QUARTA-FEIRA</b> DATA: 16/06/2021	<b>LEITURA DIÁRIA: <u>MÊS DE JUNHO TEM SÃO JOÃO</u></b> HOJE TRABALHAREMOS PRODUÇÃO DE TEXTO E VAMOS CONTINUAR OS TRABALHOS COM SUBSTANTIVOS ATRAVÉS DO SUBSTANTIVO COMUM. HOJE TAMBÉM É DIA DE AULA DE <b>INGLÊS</b> .
<b>QUINTA-FEIRA</b> DATA: 17/06/2021	<b>LEITURA DIÁRIA: <u>A FESTA JUNINA NO CAMPO</u></b> HOJE TRABALHAREMOS SITUAÇÕES PROBLEMAS ENVOLVENDO SUBTRAÇÃO. HOJE VOCÊ TAMBÉM VAI REALIZAR AS ATIVIDADES DE <b>EDUCAÇÃO FÍSICA</b> .
<b>SEXTA-FEIRA</b> DATA: 18/06/2021	<b>LEITURA DIÁRIA: <u>A FESTA JUNINA</u></b> HOJE TRABALHAREMOS ATIVIDADES INTEGRADAS ENVOLVENDO A ORIGEM DAS FESTAS JUNINAS NO BRASIL.

- ❖ TODAS AS ATIVIDADES TERÃO INTERAÇÃO COM A PROFESSORA ATRAVÉS DO GRUPO DE WHATSAPP.

LEITURA DIÁRIA: [OS MAMBOUS E O SÃO JOÃO](#)

ATIVIDADE DE PORTUGUÊS

A FORMIGA VIRIATA

VIRIATA É UMA FORMIGA FELIZ.

ELA MORA NUM BURACO, ATRÁS DO CANTEIRO DE ALFACE.

ELA ANDA SEMPRE AFOBADA PORQUE FAZ ENTREGAS NA FEIRA.

HOJE ELA LEVOU: COUVE, FEIJÃO, FARINHA E FUBÁ.


VIRIATA É UMA ÓTIMA VENDEDORA!



Fonte: [acesseadosaber.com.br](http://acesseadosaber.com.br)

ATIVIDADE 01 – INTEPRETAÇÃO DE TEXTO.

- A) QUAL O TÍTULO DE TEXTO?
- B) QUAL O NOME DA FORMIGA?
- C) ONDE ELA MORA?
- D) QUAL A PROFISSÃO DA FORMIGA?

 **SUBSTANTIVOS SÃO PALAVRAS QUE DÃO NOMES AS COISAS E LUGARES E OS SUBSTANTIVOS SIMPLES, SÃO AQUELES QUE SÃO FORMADOS POR UM ÚNICO ELEMENTO, OU SEJA, PALAVRA**

**EXEMPLO:** BURRINHO = SUBSTANTIVO SIMPLES  
SEGUNDA-FEIRA = **NÃO** É UM SUBSTANTIVO SIMPLES

**ATIVIDADE 02 - AGORA QUE VOCÊ SABE O QUE É UM SUBSTANTIVO SIMPLES, RETIRE DO TEXTO AS PALAVRAS QUE SÃO SUBSTANTIVOS SIMPLES.**



DÊ UMA OLHADINHA NA ATIVIDADE PREPARADA PELO PROFESSOR DE ARTE!

LEITURA DIÁRIA: [O PAPELZINHO MÁGICO](#)

ATIVIDADE DE MATEMÁTICA

**ATIVIDADE 01 – RESOLVA OS PROBLEMAS DE ADIÇÃO. RESPONDA NO SEU CADERNO.**

- A) A BARBYE SAIU COM O KENT PARA COMPRAR ROUPAS, ELA COMPROU UM VESTIDO QUE CUSTOU R\$ 28,00 E ELE COMPROU UMA BERMUDA DE R\$ 25,00. QUANTOS REAIS ELES GASTARAM?
- B) A PROFESSORA ÂNGELA FOI AO SUPERMERCADO E COMPROU 12 MAÇÃS, 14 BANANAS E 10 PERAS. QUANTAS FRUTAS A PROFESSORA ÂNGELA COMPROU?

- C) A SELEÇÃO MASCULINA DE VÔLEI DO BRASIL JOGOU CONTRA A SELEÇÃO DA ARGENTINA, NO PRIMEIRO SET DO JOGO FEZ 25 PONTOS E NO SEGUNDO FEZ 18 PONTOS. QUANTOS PONTOS A SELEÇÃO DE VÔLEI MARCOU NOS DOIS SETS?
- D) JOÃO FOI BATER CARTINHA COM SEU AMIGO NO RECREIO DA ESCOLA, ELE TINHA 29 CARTINHAS E GANHOU MAIS 14 DE SEU AMIGO. COM QUANTAS CARTINHAS JOÃO FICOU?
- E) BERNADETE GOSTA DE SOPA DE ERVILHAS, ELA PEGOU DUAS CONCHAS DE SOPA E COLOCOU EM SEU PRATO. A PRIMEIRA TINHA 42 ERVILHAS E A SEGUNDA 28. QUANTAS ERVILHAS TINHA NA SOPA DE BERNADETE?

**QUARTA-FEIRA 16/06/2021**

LEITURA DIÁRIA: [MÊS DE JUNHO TEM SÃO JOÃO](#)

**ATIVIDADE DE PORTUGUÊS**

**ATIVIDADE 01 - OBSERVE O QUADRINHO ABAIXO:**



AGORA ESCREVA EM SEU CADERNO UMA PEQUENA HISTÓRIA QUE REPRESENTA OS QUADRINHOS. USE A IMAGINAÇÃO E BOA SORTE.

**ATIVIDADE 02 – OBSERVANDO O QUADRINHO DA ATIVIDADE 01, ESCREVA OS SUBSTANTIVOS SIMPLES QUE ESTÃO NA IMAGEM.**



DE UMA OLHADINHA, NA ATIVIDADE PREPARADA PELO PROFESSOR DE INGLÊS!

**QUINTA-FEIRA 17/06/2021**

LEITURA DIÁRIA: [A FESTA JUNINA NO CAMPO](#)

**ATIVIDADE DE MATEMÁTICA**

**ATIVIDADE 01 – RESOLVA OS PROBLEMAS DE MATEMÁTICA ENVOLVENDO SUBTRAÇÕES. FAÇA AS CONTINHAS NO SEU CADERNO.**

- A) CARLOS É FEIRANTE E TEM UMA BANCA DE FRUTAS NA FEIRA DA CIDADE. ELE ESTAVA VENDENDO BANANAS. NA SUA CAIXA TINHA 85 BANANAS E ELE VENDEU 41. QUANTAS BANANAS AINDA FALTAM PARA CARLOS VENDER?
- B) MARIA GOSTA DE BRINCAR COM SUAS BONECAS NO QUINTAL, ELA LEVOU SUAS 17 BONECAS PARA BRINCAR DE CASINHA, A NOITE NO JANTAR, ELA VIU QUE EM SEU QUARTO SÓ TINHA 6 BONECAS. QUANTAS BONECAS MARIA ESQUECEU NO QUINTAL?
- C) ANTÔNIO COMPROU 35 PÃES PARA FAZER LANCHE. EM SUA BARRACA ELE FEZ 24 LANCHES. QUANTOS PÃES SOBRARAM?
- D) YASMIM FOI AO MERCADO E COMPROU UM SACO DE BATATAS POR R\$ 14,00, ELA PAGOU COM UMA NOTA DE R\$ 20,00. QUANTO SOBROU DE TROCO?
- E) ROBERTA COMPROU 25 PAÇOQUINHAS E PARA LEVAR NA FESTA JUNINA DA RUA. MAS ELA FICOU COM VONTADE E COMEU 4. QUANTAS PAÇOQUINHAS SOBRARAM?

DE UMA OLHADINHA NO BLOG, NA ATIVIDADE PREPARADA PELA PROFESSORA DE EDUCAÇÃO FÍSICA!



**SEXTA-FEIRA 18/06/2021**

**LEITURA DIÁRIA: [A FESTA JUNINA](#)**

### **O QUE É FESTA JUNINA E COMO SE ORIGINOU?**

OS HISTORIADORES APONTAM QUE AS ORIGENS DA FESTA JUNINA ESTÃO DIRETAMENTE RELACIONADAS A FESTIVIDADES PAGÃS REALIZADAS NA EUROPA NA PASSAGEM DA PRIMAVERA PARA O VERÃO, MOMENTO CHAMADO DE **SOLSTÍCIO DE VERÃO**. ESSAS FESTAS ERAM REALIZADAS COMO FORMA DE AFASTAR OS MAUS ESPÍRITOS E QUALQUER PRAGA QUE PUDESSE ATINGIR A COLHEITA. PARA MELHOR ENTENDERMOS ISSO, É PRECISO CONSIDERAR QUE O SOLSTÍCIO DE VERÃO NO HEMISFÉRIO NORTE ACONTECE EXATAMENTE NO MÊS DE JUNHO.

AS COMEMORAÇÕES REALIZADAS POR DIFERENTES POVOS PAGÃOS EUROPEUS COMEÇARAM A SER CRISTIANIZADAS A PARTIR DO MOMENTO EM QUE O CRISTIANISMO SE CONSOLIDOU COMO A PRINCIPAL REGIÃO DO CONTINENTE EUROPEU. ASSIM, A FESTA ORIGINALMENTE PAGÃ FOI INCORPORADA AO CALENDÁRIO FESTIVO DO CATOLICISMO.

ESSA FOI UMA PRÁTICA COMUM DA IGREJA CATÓLICA. PARA FACILITAR A CONVERSÃO DOS DIFERENTES POVOS PAGÃOS, FAZIA-SE UMA ACULTURAÇÃO DAS FESTIVIDADES, ADICIONANDO-AS AO CALENDÁRIO CATÓLICO E ACRESCENTANDO NELAS ELEMENTOS

CRISTÃOS. OUTRA FESTA NA QUAL ESSA PRÁTICA SE REPETIU, POR EXEMPLO, FOI A COMEMORAÇÃO DO NATAL, QUE ACONTECE TODO MÊS DE DEZEMBRO.

A CRISTIANIZAÇÃO DA FESTA ESTÁ DIRETAMENTE RELACIONADA AO ESTABELECIMENTO DE COMEMORAÇÕES DE IMPORTANTES FIGURAS DO CATOLICISMO, EXATAMENTE NA ÉPOCA DA PASSAGEM PARA O VERÃO, ENTRE AS QUAIS SE DESTACAM **SANTO ANTÔNIO** (HOMENAGEADO DIA 13 DE JUNHO), **SÃO JOÃO** (DIA 24) E **SÃO PEDRO** (DIA 29). POR FIM, MUITOS ELEMENTOS TÍPICOS DAS COMEMORAÇÕES PAGÃS GANHARAM NOVO SIGNIFICADO.

**ATIVIDADE 01 – ENCONTRE PALAVRAS USADAS EM FESTAS JUNINAS E COMPLETE OS DESENHOS ABAIXO COM SEUS RESPECTIVOS NOMES. SE VOCÊ NÃO TEM A ATIVIDADE IMPRESSA, ESCREVA UMA LISTA NO SEU CADERNO COM AS PALAVRAS QUE VOCÊ ENCONTRAR. VOCÊ PODE COPIAR OS DESENHOS NO SEU CADERNO E ESCREVER OS SEUS NOMES.**

B	A	N	D	E	I	R	A	F
A	M	B	U	S	C	B	P	O
L	E	A	X	K	H	R	I	G
Ã	N	R	T	H	A	N	P	U
O	D	R	R	P	P	P	O	E
C	O	A	H	X	É	U	C	I
B	I	C	Y	C	U	E	A	R
R	N	A	M	I	L	H	O	A

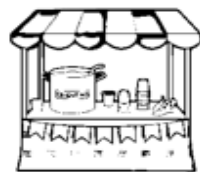


















## ESCOLA: EMEF JOÃO CALIXTO DA SILVA

PROFESSORA: ANGELA

ANO/TURMA: 2º ANO A

SEMANA DE 21 A 25 DE JUNHO

DIA DA SEMANA	ROTINA DIÁRIA: DESCRIÇÃO DAS ATIVIDADES
<b>SEGUNDA – FEIRA</b> DATA: 21/06/2021	<b>LEITURA DIÁRIA: <u>O BALÃOZINHO E A ÁRVORE</u></b> HOJE VAMOS CONTINUAR O NOSSO <b>PROJETO AKATU</b> . VAMOS APRENDER E NOS DIVERTIR BASTANTE! HOJE TAMBÉM VAMOS REALIZAR AS ATIVIDADES DE <b>ARTE</b> .
<b>TERÇA-FEIRA</b> DATA: 22/06/2021	<b>LEITURA DIÁRIA: <u>FOGO NO CÉU</u></b> NA ATIVIDADE DE HOJE VAMOS TRABALHAR SITUAÇÕES PROBLEMAS COM ADIÇÃO.
<b>QUARTA-FEIRA</b> DATA: 23/06/2021	<b>LEITURA DIÁRIA: <u>COMIDAS TÍPICAS DE FESTA JUNINA</u></b> HOJE TRABALHAREMOS UMA PRODUÇÃO DE TEXTO E VAMOS FAZER UMA ATIVIDADE COM SUBSTANTIVOS ATRAVÉS DO SUBSTANTIVO COMUM. HOJE TAMBÉM É DIA DE AULA DE <b>INGLÊS</b> .
<b>QUINTA-FEIRA</b> DATA: 24/06/2021	<b>LEITURA DIÁRIA: <u>SÃO JOÃO NA PANDEMIA</u></b> HOJE TRABALHAREMOS SITUAÇÕES PROBLEMAS ENVOLVENDO SUBTRAÇÃO. HOJE VOCÊ TAMBÉM VAI REALIZAR AS ATIVIDADES DE <b>EDUCAÇÃO FÍSICA</b> .
<b>SEXTA-FEIRA</b> DATA: 25/06/2021	<b>LEITURA DIÁRIA: <u>CORDEL DE SÃO JOÃO</u></b> HOJE TRABALHAREMOS ATIVIDADES INTEGRADAS ENVOLVENDO A ORIGEM DAS FESTAS JUNINAS NO BRASIL.

- ❖ TODAS AS ATIVIDADES TERÃO INTERAÇÃO COM A PROFESSORA ATRAVÉS DO GRUPO DE WHATSAPP.



LEITURA DIÁRIA: [O BALÃOZINHO E A ÁRVORE](#)



## PROJETO AKATU – RESÍDUOS E ECONOMIA CIRCULAR DE PU

### ATIVIDADE 2. MENOS É MAIS

DATA: \_\_\_/\_\_\_/\_\_\_

NA ATIVIDADE ANTERIOR, VOCÊ CONHECEU O QUE SÃO OS **4RS - REPENSAR, REDUZIR, REUTILIZAR E RECICLAR** E DESCOBRIU QUE SER MAIS SUSTENTÁVEIS É REPENSAR TUDO, DESDE O MOMENTO EM QUE TEMOS A IDEIA DE COMPRAR ALGUMA COISA: VOCÊ PRECISA MESMO DE UM CADERNO NOVO? NÃO DÁ PARA INSERIR ALGUMAS FOLHAS NOVAS NO SEU FICHÁRIO, OU APROVEITAR O CADERNO QUE VOCÊ JÁ TEM?

DEPOIS DE **REPENSAR** BASTANTE E DECIDIR QUE VOCÊ PRECISA MESMO DE ALGO NOVO, O PRÓXIMO PASSO É ESCOLHER.

**IMPORTANTE:** RECOMENDAMOS O ACOMPANHAMENTO DOS PAIS E/OU RESPONSÁVEIS PARA A REALIZAÇÃO DAS ATIVIDADES JUNTO AOS ESTUDANTES EM CASA.



VOCÊ PODE SER MAIS SUSTENTÁVEL NESSA HORA TAMBÉM, E ESCOLHER AQUILO QUE GASTA MENOS RECURSOS (MATÉRIA-PRIMA, ÁGUA OU ENERGIA, POR EXEMPLO) PRA SER PRODUZIDO, OU QUE DEIXE MENOS RESÍDUOS DEPOIS DO USO. PENSE NISSO!

A PRÓXIMA TAREFA TEM TUDO A VER COM ESSAS ESCOLHAS!

**VOCÊ DEVE USAR SUA CRIATIVIDADE E PRODUZIR UMA HISTÓRIA EM QUADRINHOS OU UM CARTAZ SOBRE COMO PODE CONSUMIR ALIMENTOS, ROUPAS, BRINQUEDOS, MATERIAL ESCOLAR E OUTRAS COISAS SEM DESPERDÍCIO.**


SE ESCOLHER FAZER A HISTÓRIA EM QUADRINHOS, VOCÊ PODE IMPRIMIR AS DUAS FOLHAS A SEGUIR, OU DESENHAR EM SEU CADERNO. VAMOS LÁ?

**NÃO SE ESQUEÇA:**

DEPOIS QUE VOCÊ TERMINAR A ATIVIDADE, TIRE UMA FOTO DELA E ENVIE PARA O SEU PROFESSOR





DÊ UMA NA ATIVIDADE PREPARADA PELO PROFESSOR DE ARTE!

ATIVIDADE DE MATEMÁTICA

ATIVIDADE 01 – RESOLVA OS PROBLEMAS DE ADIÇÃO NO SEU CADERNO.

- A) MANUEL FOI AO CINEMA ASSISTIR UM FILME, ELE GASTOU R\$ 28,00 PARA PAGAR A ENTRADA, E MAIS R\$ 33,00 PARA COMPRAR PIPOCA E REFRIGERANTE. QUANTO MANUEL GASTOU?
- B) JUDITE FOI CAMINHAR NA PRAÇA E DEU 48 PASSOS NA PRIMEIRA VOLTA QUE DEU E MAIS 48 NA SEGUNDA. QUANTOS PASSOS JUDITE DEU?
- C) PAULO É DONO DE UMA PASTELARIA, ELE VENDEU NO SÁBADO 60 PASTÉIS E NO DOMINGO MAIS 48. QUANTOS PASTÉIS PAULO VENDEU NO TOTAL?
- D) MURILO FOI JOGAR FREE FIRE COM SEUS AMIGOS E GANHOU 15 DIMAS NA PRIMEIRA RODADA E DEPOIS MAIS 25 DIMAS NA SEGUNDA. QUANTOS DIMAS MURILO GANHOU?
- E) NARUTO FOI NO POMAR COLHER MAÇÃS E ENCHEU SUA CESTA COM 18 MAÇÃS ARGENTINAS E 14 MAÇÃS VERDES. QUANTAS MAÇÃS NARUTO COLHEU?

ATIVIDADE DE PORTUGUÊS

LEIA O TEXTO A SEGUIR COM ATENÇÃO:


**Noite de São João**

Isabel Cristina Silveira Soares

São João bate à porta  
Junto a ele vem festança  
Busca - pé pra todo lado  
Gente linda e muita dança!

Rala o coco pra cocada  
Coloca o milho no espeto  
Céu, de noite estrelada  
Pra balançar o esqueleto!

Se desejar ser meu compadre  
A fogueira, vamos pular  
Tudo uma grande brincadeira  
Se acheque então, vamos brincar!



**ATIVIDADE 01 – RESPONDA AS PERGUNTAS:**

- A) QUAL O TÍTULO DO TEXTO?
- B) QUEM ESCREVEU O TEXTO?
- C) RETIRE DO TEXTO AS PALAVRAS USUALMENTE USADAS EM FESTAS DE SÃO JOÃO.
- D) RETIRE DO TEXTO TODAS AS PALAVRAS QUE SÃO SUBSTANTIVOS SIMPLES.



DE UMA OLHADINHA NO BLOG, NA ATIVIDADE PREPARADA PELO PROFESSOR DE INGLÊS!

**QUINTA-FEIRA 24/06/2021**

**LEITURA DIÁRIA: [SÃO JOÃO NA PANDEMIA](#)**

**ATIVIDADE DE MATEMÁTICA**

**ATIVIDADE 01 – RESOLVA OS PROBLEMAS DE MATEMÁTICA ENVOLVENDO SUBTRAÇÕES NO SEU CADERNO.**

- A) MAGALI TINHA 12 MAÇÃS EM SUA GELADEIRA E COMEU 6. QUANTAS MAÇÃS SOBRARAM PARA MAGALI?
- B) A MÔNICA ESTAVA AJUDANDO SUA MÃE NOS AFAZERES DA CASA E ELA FOI LIMPAR A ESTANTE DA SALA QUE TEM 19 PRATELEIRAS, ELA LIMPOU 12. QUANTAS PRATELEIRAS FALTAM PARA A MÔNICA LIMPAR?
- C) CEBOLINHA MONTOU 25 PLANOS INFALÍVEIS PARA CAPTURAR O COELHINHO SANSÃO DA MÔNICA. ELE JÁ USOU 12 PLANOS QUE NÃO DERAM CERTO. QUANTOS PLANOS INFALÍVEIS CEBOLINHA AINDA TEM PARA USAR CONTRA A MÔNICA?
- D) CASCÃO RESOLVEU TOMAR BANHO POR CAUSA DA PANDEMIA. ELE USOU 25 LITROS DE ÁGUA, SABENDO-SE QUE A CAIXA DE ÁGUA TINHA 37 LITROS QUANDO ELE FOI TOMAR BANHO, QUANTOS LITROS AINDA RESTAM NA CAIXA?
- E) XAVECO ESTAVA BRINCANDO DE BANCO IMOBILIÁRIO COM O TITI. ELE TINHA GANHO 37 IMÓVEIS NO JOGO E DEPOIS PERDEU 17. QUANTOS IMÓVEIS XAVECO AINDA TEM NO BANCO IMOBILIÁRIO?




DE UMA OLHADINHA NA ATIVIDADE PREPARADA PELA PROFESSORA DE EDUCAÇÃO FÍSICA!



LEITURA DIÁRIA: [CORDEL DE SÃO JOÃO](#)

ATIVIDADE DE GEOGRAFIA


OBSERVE A IMAGEM.



FONTE: <http://blogdaprofessoraedivania.blogspot.com.br>

**ATIVIDADE** - NA IMAGEM ACIMA PODEMOS OBSERVAR DOIS TIPOS DE FESTA JUNINA. FAÇA UMA LISTA DA DIFERENÇA ENTRE AS DUAS FESTAS E ESCREVA A SUA OPINIÃO SOBRE CADA TIPO DE FESTA: A FESTA JUNINA NA ZONA RURAL E A FESTA DA ZONA URBANA.

BOM FIM DE SEMANA E....



FIQUE EM CASA.