



Secretaria de Educação, Ciência e Tecnologia.
Departamento de Educação Integral, Ensino Fundamental e EJA.

EMEF João Calixto da Silva

Professoras: Joseane e Rosana

Ano/turma: 4ºA e 4ºB 2021

DIA DA SEMANA	ROTINA DIÁRIA: DESCRIÇÃO DAS ATIVIDADES
Segunda-feira Data: 12/07 Fazer a rotina do dia no caderno de classe	Leitura diária: TIRINHA DO BIDU Português: Leitura e interpretação de texto TIRINHA DO BIDU. Matemática: Tabela Simples (EMAI - 4º ano - Unidade 1 - Sequência 5 - Atividade 5.1) página 32. Lembre-se de fazer atividades de Arte.
Terça-feira Data: 13/07 Fazer a rotina do dia no caderno de classe	Leitura diária: História da vida de Sophia Matemática: Cálculo Mental - Adição e Subtração (EMAI - 4º ano - Unidade 1 - Sequência 5 - Atividade 5.2) página 33.
Quarta-feira Data: 14/07 Fazer a rotina do dia no caderno de classe	Leitura diária: Poema o aniversário da mamãe. Leitura Poema/Substantivos derivados de Adjetivos (Ler e Escrever - 4º ano - Atividade 5A) - página 26. Lembre-se: Aula de Língua Inglesa. TEMA: FAMILY (Família) página 31.
Quinta-feira Data: 15/07 Fazer a rotina do dia no caderno de classe	Leitura diária: Uma Cebola Feliz – Italo Castelar Português: Leitura Poema/Substantivos derivados de Adjetivos (Ler e Escrever - 4º ano - Atividade 5A) - página 27. Lembre-se de fazer atividade de Educação Física.
Sexta-feira Data: 16/07 Fazer a rotina do dia no caderno de classe	Leitura diária: João e o Pé de Feijão – Contos de Fadas Livro didático de Ciências página 66 a 68

ORGANIZAÇÃO PARA OS ESTUDOS:

Nada de barulho

Desligue a televisão e o rádio e tente eliminar sons que possam atrapalhar a concentração.

Muita organização

Veja o que o seu filho tem de lição. Ajude-o a organizar o tempo e evite que ele acumule tarefas.

Tudo arrumado

Organize e deixe limpo o local definido para seu filho fazer a lição. Antes de começar lave bem as mãos e sentem em posição correta.

Combine as regras da lição

Converse com seu filho e combine com ele uma rotina para a lição a ser realizada. Onde ela será feita, em que horário quanto tempo vai durar entre outros.

OFEREÇA APOIO E MATERIAL

NECESSÁRIO A (AO) SUA (EU)

FILHO (A), SEMPRE!



LEITURA DO DIA TIRINHA DO BIDU

LÍNGUA PORTUGUESA

Observe a tirinha do Bidu.



Fonte: monografiasufm.br

- 1 – Quem são os personagens que aparecem na tirinha? _____
- 2 – Qual a relação das tartarugas? _____
- 3 – Qual era o pequeno 'probleminha' entre as tartarugas?

- 4 – Dê um título para a tirinha. _____

**INTERAÇÃO COM O PROFESSOR NA ATIVIDADE DO LIVRO:
MATEMÁTICA EMAI**

Tabela Simples (EMAI - 4º ano - Unidade 1 - Sequência 5 -
Atividade 5.1)

Se preferir assista ao vídeo para realizar a atividade.

https://www.youtube.com/watch?v=jvKA_azqCFo



NÃO SE ESQUEÇA DE QUE HOJE TAMBÉM É DIA DA AULA DE ARTE!

<https://portaleducacao.hortolandia.sp.gov.br/index.php/artes>

LÍNGUA PORTUGUESA

Leia o texto:

Sophia tem 9 anos e mora com sua mãe e seu pai. Ela tem um irmãozinho de 2 anos, o Davi. Durante a semana, Sophia ajuda sua mãe a cuidar do Davi. Ela gosta de brincar com ele de pega-pega e de esconde-esconde.

Nos fins de semana, Sophia visita os avós. Lá na casa deles tem um pátio bem grande e um balanço pendurado em uma árvore. Ela se diverte muito no balanço.

Fonte: texto retirado da apostila 1º Ano – 2º Bimestre – Sistema Interativo de Ensino

1) Com quem Sophia passa os dias da semana?

2) O que ela costuma fazer aos fins de semana?

3) A rotina da sua família se parece com a de Sophia? Comente.

INTERAÇÃO COM O PROFESSOR NA ATIVIDADE DO LIVRO: MATEMÁTICA EMAI

Cálculo Mental - Adição e Subtração (EMAI - 4º ano - Unidade 1 - Sequência 5 - Atividade 5.2)

Se preferir assista ao vídeo para realizar a atividade.

https://www.youtube.com/watch?v=dvPBM7sA_eE



Poema

Poema é uma obra literária que pertence ao gênero da poesia, e cuja apresentação pode surgir em forma de versos, estrofes ou prosa com finalidade de manifestar sentimentos e emoção.



O aniversário da mamãe

De manhã, logo cedinho,
No jardim eu fui buscar
Belos cravos, rosas, lírios,
Para a casa embelezar.

A mamãe faz anos hoje,
Vou fazer-lhe uma surpresa:
Está tudo arrumadinho,
O presente é uma beleza!

Comprei doces e salgados,
Tudo com o dinheirinho
Que eu ajuntei no meu cofre
Durante o ano inteirinho!

Quero ver mamãe contente,
Pois lhe quero muito bem.
Mamãe é muito querida,
Querida como ninguém!

Benedicta Stahl Sodré

Lembrando que cada linha de um poema representa um verso, já a estrofe é um conjunto de versos.

Leia e copie em seu caderno, o poema “Aniversário da mamãe” para responder as questões abaixo:

- 1- O que a filha foi buscar no jardim?
- 2- Qual é o nome do título do poema?
- 3- Qual o nome da autora?
- 4- Quantas estrofes tem o poema?
- 5- Quantos versos tem o poema?
Agora o poeta é você!
- 6- Crie um versinho sobre um tema de sua escolha.
Fiquem atentos as **rimas**.

Fonte: <https://rota83.com/interpretacao-de-texto-para-1%C2%BA-ano-o-aniversario-da-mamae.html>

INTERAÇÃO COM O PROFESSOR NA ATIVIDADE DO LIVRO: PORTUGUÊS LER E ESCREVER

Leitura Poema/Substantivos derivados de Adjetivos
(Ler e Escrever - 4º ano - Atividade 5A)

Se preferir assista ao vídeo para realizar a atividade.

<https://www.youtube.com/watch?v=N6Z2T83sRiQ&list=RDCMUCFps8NnhOR14r6cNr6WEF3A&index=2>



HOJE TAMBÉM É DIA DE AULA DE INGLÊS!

<https://portaleducacao.hortolandia.sp.gov.br/index.php/ingles>

Leitura: Uma Cebola Feliz – Italo Castelar.






Observação: A professora irá disponibilizar a leitura no grupo da sala.

ANIVERSÁRIO DA LÍVIA



Para o 8º aniversário de Lívia, sua mãe preparou uma grande festa surpresa!

Veja o que ela comprou:

-  Brigadeiros - 5 bandejas com 35 brigadeiros em cada.
-  Beijinhos – 3 bandejas com 12 em cada.
-  Coxinhas - 2 centenas.
-  Bolinhas de queijo – 3 centenas e meia.
-  Bexigas – 2 dúzias.

Fonte: Pinterest.com

De acordo com as informações acima responda:

- 1)- Quantos brigadeiros tinha ao todo na festa da Lívia?
- 2)- No final da festa sobraram 32 brigadeiros quantos foram consumidos?
- 3)- Quantos salgados tinham ao todo na festa de Lívia?
- 4)- A mãe da Lívia dividiu as bexigas para a decoração entre quatro paredes da sala. Quantas bexigas tinham em cada parede?
- 5)- Foram convidados para a festa 75 pessoas. Faltaram 19. Quantas pessoas foram à festa da Lívia?



**INTERAÇÃO COM O PROFESSOR NA ATIVIDADE DO LIVRO:
PORTUGUÊS LER E ESCREVER**

**Leitura Poema/Substantivos derivados de Adjetivos
(Ler e Escrever - 4º ano - Atividade 5A)**

Se preferir assista ao vídeo para realizar a atividade.

<https://www.youtube.com/watch?v=N6Z2T83sRiQ&list=RDCMUCFps8NnhOR14r6cNr6WEF3A&index=2>

NÃO SE ESQUEÇAM, HOJE É DIA DA AULA DE EDUCAÇÃO FÍSICA!

<https://portaleducacao.hortolandia.sp.gov.br/index.php/ed-fisica>



Leitura: João e o Pé de Feijão – Contos de Fadas

Observação: A professora irá disponibilizar a leitura no grupo da sala.

COPIE E RESOLVA NO SEU CADERNO:

MATEMÁTICA

Resolva cada situação problema e circulando a alternativa correta:

1) Este mês em uma loja foram vendidos 76 vestidos, 345 calças e 1007 camisas. Quantas peças de roupa foram vendidas?

- ▶ 1328 ▶ 1418 ▶ 1428 ▶ 2428

2) Em 2020, Manoel completou 94 anos. Em que ano ele nasceu?

- ▶ 1926 ▶ 1024 ▶ 1920 ▶ 1976

3) Vanda saiu com R\$ 120,00. Gastou R\$ 45,00 na feira e R\$ 24,00 na padaria. Com quantos reais Vanda voltou para casa?

- ▶ R\$ 69,00 ▶ R\$ 51,00 ▶ R\$ 61,00 ▶ R\$ 59,00

4) Uma sorveteria quer vender 1000 sorvetes nesse mês. Já venderam 567 sorvetes. Quantos sorvetes precisam vender até o final do mês para atingir a meta de 1000 sorvetes vendidos?

- ▶ 567 ▶ 533 ▶ 443 ▶ 433

5) Comprei 8 pulseiras de pedras. Cada pulseira custou R\$ 5,50. Quanto gastei?

- ▶ R\$ 44,00 ▶ R\$ 40,00 ▶ R\$ 45,00 ▶ R\$ 94,00

6) Fabiana comprou um celular por R\$ 625,00 no mês de maio. Ela parcelou esse valor em 5 prestações iguais. Qual o valor da parcela mensal? Em que mês Fabiana termina de pagar o celular?

- ▶ R\$ 12,00 – setembro ▶ R\$ 15,00 – setembro
▶ R\$ 125,00 – setembro ▶ R\$ 125,00 - maio

Fonte: Pinterest.com

INTERAÇÃO COM O PROFESSOR NA ATIVIDADE DO LIVRO:

CIÊNCIAS: Pagina 66 a 68.

Decomposição





Secretaria de Educação, Ciência e Tecnologia.
Departamento de Educação Integral, Ensino Fundamental e EJA.

EMEF João Calixto da Silva

Professoras: Joseane e Rosana

Ano/turma: 4ºA e 4ºB 2021

Dia da semana	Rotina diária: descrição das atividades
Segunda-feira Data: 19/07 Fazer a rotina do dia no caderno de classe	Leitura diária: Tirinha MATEMÁTICA: Unidade de medidas. EMAI: Cálculo Mental - Adição e Subtração (EMAI - 4º ano - Unidade 1 - Sequência 5 - Atividade 5.3) página 34. Lembre-se de fazer atividades de Arte.
Terça-feira Data: 20/07 Fazer a rotina do dia no caderno de classe	Leitura diária: Tirinha Calvin EMAI: Cálculo Mental - Adição e Subtração (EMAI - 4º ano - Unidade 1 - Sequência 5 - Atividade 5.4) - página 35.
Quarta-feira Data: 21/07 Fazer a rotina do dia no caderno de classe	Leitura diária: Tati e o Sumiço dos Pássaros – Sandra Aymone Português: Leitura Poema/Substantivos derivados de Adjetivos (Ler e Escrever - 4º ano - Atividade 5B) página 28. Lembre-se: Aula de Língua Inglesa. TEMA: HEALTHY FOOD (Alimentação saudável) Parte 1 - página 33.
Quinta-feira Data: 22/07 Fazer a rotina do dia no caderno de classe	Leitura diária: Anna Nery – Marismar Borém Português: Leitura Poema/Substantivos derivados de Adjetivos (Ler e Escrever - 4º ano - Atividade 5C) página 29 e 30. Lembre-se de fazer atividade de Educação Física.
Sexta-feira Data: 23/07 Fazer a rotina do dia no caderno de classe	Leitura diária: Hailibu, o Caçador – Conto Asiático BURITI GEOGRAFIA – páginas 106 a 110 – POPULAÇÃO E TRABALHO.

Leitura:

LÍNGUA PORTUGUESA

Tirinhas

A tirinha é uma sequência de quadradinhos que geralmente faz uma crítica dos valores sociais.

Esse tipo de texto humorístico é publicado com regularidade.

Pode-se dizer que são como as histórias em quadrinhos, porém bem mais curtas. As tirinhas podem estar contidas em jornais, revistas e em sites da internet.

Com base na tirinha, responda as questões abaixo:



1 – Qual é o assunto do texto? _____

2 – Que gênero textual é este? _____

Fonte: <https://www.google.com/Fribeiraopires.educaon.com.br>

INTERAÇÃO COM O PROFESSOR NA ATIVIDADE DO LIVRO: MATEMÁTICA EMAI

Cálculo Mental - Adição e Subtração
(EMAI - 4º ano - Unidade 1 - Sequência 5 - Atividade 5.3)

Se preferir assista ao vídeo para realizar a atividade.

https://www.youtube.com/watch?v=EuXIOZ_VJl0



NÃO SE ESQUEÇA DE QUE HOJE TAMBÉM É DIA DA AULA DE ARTE!

<https://portaleducacao.hortolandia.sp.gov.br/index.php/artes>

LÍNGUA PORTUGUESA

Com base na tirinha, responda as questões abaixo:



1 – No quarto quadrinho, Calvin parece estar triste ou alegre? Justifique.

2 – Na tirinha acima, qual o objeto utilizado por Calvin?

3 – Você gosta de brincar na chuva? Escreva o que você gosta de fazer quando começa a chover.


Fonte: <https://www.google.com/Fltp.emnuvens.com.br>

INTERAÇÃO COM O PROFESSOR NA ATIVIDADE DO LIVRO: MATEMÁTICA EMAI

**Cálculo Mental - Adição e Subtração (EMAI - 4º ano - Unidade 1
- Sequência 5 - Atividade 5.4)**

Se preferir assista ao vídeo para realizar a atividade.

<https://www.youtube.com/watch?v=crYDNddQ2Ec>



Leitura: Leitura: Tati e o Sumiço dos Pássaros – Sandra Aymone

Observação: A professora irá disponibilizar a leitura no grupo da sala.

LEBRANDO

1 quilômetro (Km) = 1000 metros

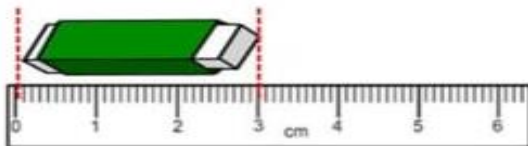
1 metro (m) = 100 centímetros

1 centímetro (cm) = 10 milímetros (mm)

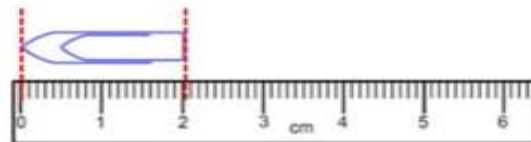


VAMOS MEDIR?

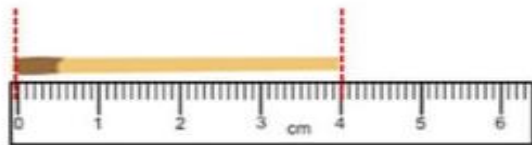
1) Quantos centímetros e milímetros tem cada objeto abaixo? Responda. Siga o exemplo:




a) borracha – 3 cm ou 30 mm



b) clips – ____ cm ou ____ mm



c) palito de fósforo – ____ cm ou ____ mm



d) brinco – ____ cm ou ____ mm

Fonte: <https://www.google.com/acessaber.com.br>

INTERAÇÃO COM O PROFESSOR NA ATIVIDADE DO LIVRO: PORTUGUÊS LER E ESCREVER

Leitura Poema/Substantivos derivados de Adjetivos (Ler e Escrever - 4º ano - Atividade 5B)

Se preferir assista ao vídeo para realizar a atividade.

<https://www.youtube.com/watch?v=ZKeZLYF2FoU>



HOJE TAMBÉM É DIA DE AULA DE INGLÊS!

<https://portaleducacao.hortolandia.sp.gov.br/index.php/ingles>



Leitura: Anna Nery – Marismar Borém.

Observação: A professora irá disponibilizar a leitura no grupo da sala.

Copie e resolva as situações problemas registrando as operações e as respostas em seu caderno.

- 1- Quando o Mateus nasceu o pai dele tinha 32 anos. Atualmente Mateus tem 15 anos. Quantos anos tem o pai de Mateus hoje?
- 2- Rose tem uma floricultura. Hoje ela montou três buquês de flores com 50 rosas em cada um. Quantas rosas, Rose usou no total?
- 3- Miguel tem 24 bombons e Levi tem 55. Quantos bombons Levi têm a mais que Miguel?
- 4- João tem 96 de gibis em resolveu dividi-los entre ele e mais cinco amigos. Com quantos de gibis ficou cada um?
- 5- Letícia foi ao mercado e pagou a conta com R\$ 55 Reais. Recebeu de troco R\$ 7 Reais. Quanto Letícia gastou no mercado?
- 6- Paulo tem um carrinho de doces. Semana passada vendeu 413 doces. Essa semana vendeu o dobro. Quanto doce Paulo vendeu essa semana?
- 7- Cristiane comprou 3 dezenas de pregadores e seu marido comprou mais 36 pregadores. Sabendo que já tinha 6 em casa quantos pregadores eles têm agora?



INTERAÇÃO COM O PROFESSOR NA ATIVIDADE DO LIVRO: PORTUGUÊS LER E ESCREVER

Leitura Poema/Substantivos derivados de Adjetivos (Ler e Escrever - 4º ano - Atividade 5C)

Se preferir assista ao vídeo para realizar a atividade.

<https://www.youtube.com/watch?v=iIMND4Wmau8&t=49s>



NÃO SE ESQUEÇAM, HOJE É DIA DA AULA DE EDUCAÇÃO FÍSICA!

<https://portaleducacao.hortolandia.sp.gov.br/index.php/ed-fisica>

Leitura: Hailibu, o Caçador – Conto Asiático.

Observação: A professora irá disponibilizar a leitura no grupo da sala.



INTERAÇÃO COM O PROFESSOR NA ATIVIDADE DO LIVRO:

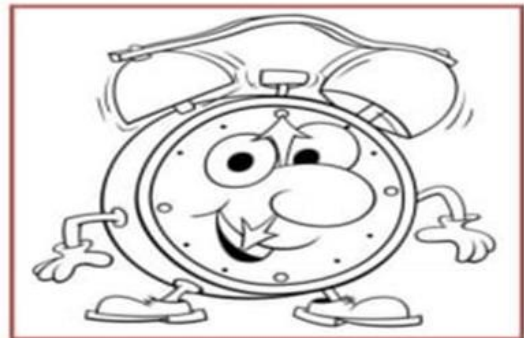
BURITI GEOGRAFIA – páginas 106 a 110 – POPULAÇÃO E TRABALHO

LÍNGUA PORTUGUESA

1) Leia o poema e responda às questões:

O RELÓGIO

Passa, tempo, tic-tac
Tic-tac, passa, hora
Chega logo, tic-tac
Tic-tac, e vai-te embora
Passa, tempo
Bem depressa
Não atrasa
Não demora
Que já estou
Muito cansado
Já perdi
Toda a alegria
De fazer
Meu tic-tac
Dia e noite
Noite e dia
Tic-tac
Tic-tac
Tic-tac...



a) Qual o tema do poema?

b) Quantas estrofes têm nesse poema?

c) Escreva abaixo o 4º verso do poema.

d) Escreva abaixo algumas rimas que você percebeu no poema "O relógio" de Vinícius de Moraes.