



ESCOLA: EMEF JOÃO CALIXTO DA SILVA

PROFESSORA: MARILEIS CHAPKA E ANGELA LEITE

ANO/TURMA: 3º ANO A E B

SEMANA DE 26 A 30 DE JULHO

DIA DA SEMANA	ROTINA DIÁRIA: DESCRIÇÃO DAS ATIVIDADES
SEGUNDA – FEIRA DATA: 26/07/2021	LEITURA DIÁRIA: <u>POEMAS DE CECÍLIA MEIRELES</u> HOJE TRABALHAREMOS UM POEMA DE CECÍLIA MEIRELES, INTERPRETAÇÃO DE TEXTO, ORTOGRAFIA E SITUAÇÕES PROBLEMAS. HOJE TAMBÉM VAMOS REALIZAR AS ATIVIDADES DE ARTE.
TERÇA-FEIRA DATA: 27/07/2021	LEITURA DIÁRIA: <u>SINÔNIMOS E ANTÔNIMOS</u> HOJE TRABALHAREMOS ATIVIDADES DE SINÔNIMOS E ANTÔNIMOS E FAREMOS ATIVIDADES PROPOSTAS NO LIVRO DIDÁTICO DE LÍNGUA PORTUGUESA.
QUARTA-FEIRA DATA: 28/07/2021	LEITURA DIÁRIA: <u>O PEIXE PIXOTE</u> NA ATIVIDADE DE HOJE VAMOS REALIZAR SITUAÇÕES PROBLEMAS ENVOLVENDO MULTIPLICAÇÃO, GRANDEZAS COM QUILOS E GRAMAS E AS ATIVIDADES PROPOSTAS NO LIVRO DIDÁTICO DE MATEMÁTICA. HOJE TAMBÉM É DIA DE AULA DE INGLÊS . TEMA: MEANS OF TRANSPORT (MEIOS DE TRANSPORTE) PÁGINAS 39 E 45.
QUINTA-FEIRA DATA: 29/07/2021	LEITURA DIÁRIA: <u>A HISTÓRIA DAS OLIMPIADAS</u> NESTA ATIVIDADE VAMOS TRABALHAR SITUAÇÕES PROBLEMAS COM MULTIPLICAÇÃO, GRANDEZAS E MEDIDAS. HOJE VOCÊ TAMBÉM VAI REALIZAR AS ATIVIDADES DE EDUCAÇÃO FÍSICA.
SEXTA-FEIRA DATA: 30/07/2021	LEITURA DIÁRIA: <u>ESPAÇOS PÚBLICOS E PRIVADOS</u> HOJE TRABALHAREMOS ESPAÇOS FÍSICOS PÚBLICOS E PRIVADOS. VAMOS FAZER OS EXERCÍCIOS PROPOSTOS NO LIVRO DIDÁTICO DE HISTÓRIA.

❖ TODAS AS ATIVIDADES TERÃO INTERAÇÃO COM A PROFESSORA ATRAVÉS DO GRUPO DE WHATSAPP.

LEITURA DIÁRIA: POEMAS DE CECÍLIA MEIRELES

ATIVIDADE DE PORTUGUÊS

ATIVIDADE 01 - LEIA O POEMA ABAIXO:

Leilão de jardim

Cecília Meirelles

Quem me compra um jardim com flores?
Borboletas de muitas cores,
Lavadeiras e passarinhos,
Ovos verdes e azuis nos ninhos!

Quem me compra este Caracol?
Quem me compra um raio de sol?
Um lagarto entre o muro e a hera?
Uma estátua de Primavera?

Quem me compra este formigueiro?
E este sapo, que é jardineiro?
E a cigarra e a sua canção?
E o grilinho dentro do chão?

(este é meu leilão).



FONTE: <https://professoraivaniferreira.blogspot.com/2016/07/atividade-leilao-dejardim.html>

ATIVIDADE 02 – AGORA VAMOS ENTENDER MELHOR O POEMA. ESCREVA AS RESPOSTAS NO SEU CADERNO.

- A) QUAL O TÍTULO DO POEMA?
- B) QUEM ESCREVEU A HISTÓRIA? SUA AUTORA.
- C) ESCREVA PALAVRAS QUE CONTÉM NO TEXTO COM AS SEGUINTE LETRAS. AGORA, SEPRE AS SÍLABAS:

PALAVRA:	SEPARAÇÃO DA SÍLABA:
PALAVRA COM SS: _____	_____
PALAVRA COM RR: _____	_____
PALAVRA COM NH: _____	_____
PALAVRA COM CH: _____	_____



D) COMPLETE AS FRASES DE ACORDO COM O POEMA:

QUEM ME COMPRA ESTE _____ ?
E ESTE _____, QUE É JARDINEIRO?
E A _____ E A SUA CANÇÃO?
E O _____ DENTRO DO CHÃO?

E) AS FRASES ACIMA POSSUEM O SINAL “?”, O QUE ESSE SINAL SIGNIFICA?

ATIVIDADE DE MATEMÁTICA

ATIVIDADE 03 - A SELEÇÃO DE VÔLEI MASCULINA DO BRASIL FEZ UM JOGO NAS OLIMPÍADAS CONTRA O JAPÃO, PAÍS SEDE DO EVENTO. OS 5 SETS QUE OS DOIS TIMES JOGARAM FICOU COM O SEGUINTE PLACAR:

SELEÇÕES	1ºSET	2ºSET	3ºSET	4ºSET	5ºSET
BRASIL 	25	25	26	26	30
JAPÃO 	17	23	28	28	28

AGORA RESPONDA AS PERGUNTAS ABAIXO NO SEU CADERNO.

- A) QUAL O TOTAL DE PONTOS FEITOS PELO BRASIL?
- B) QUAL O TOTAL DE PONTOS FEITOS PELO JAPAO?
- C) QUAL SELEÇÃO GANHOU O JOGO?
- D) QUANTOS PONTOS A SELEÇÃO VENCEDORA FEZ A MAIS, OU SEJA, QUAL A DIFERENÇA ENTRE OS PONTOS DAS DUAS SELEÇÕES?



DÊ UMA OLHADINHA NA ATIVIDADE PREPARADA PELO PROFESSOR DE ARTE!
<https://portaleducacao.hortolandia.sp.gov.br/index.php/artes>

TERÇA-FEIRA 27/07/2021

LEITURA DIÁRIA: [SINÔNIMOS E ANTÔNIMOS](#)

ATIVIDADE DE PORTUGUÊS

ATIVIDADE 01 – LEIA COM BASTANTE ATENÇÃO A EXPLICAÇÃO A SEGUIR.

SINÔNIMOS E ANTÔNIMOS

Mônica está alegre
Mônica está feliz

João está triste
João está infeliz

Palavras sinônimas: São palavras que possuem o mesmo significado ou significado parecido.

Alegre e feliz são palavras sinônimas, pois têm o mesmo significado.

Palavras antônimas: São palavras que possuem significados contrários.

Alegre e triste são palavras antônimas, pois têm significados contrários.

ATIVIDADE 02 - DÊ O SINÔNIMO E O ANTÔNIMO DAS PALAVRAS ABAIXO.

Sinônimos e Antônimos





FONTE: <http://varaldeatividades.blogspot.com.br/2012/07/gramatica-sinonimos-e-antonimos.html>



AGORA, VOCÊ PRECISA ABRIR SEU LIVRO DIDÁTICO DE LÍNGUA PORTUGUESA E FAZER OS EXERCÍCIOS DAS PÁGINAS 30 E 31. **ESSA ATIVIDADE TERÁ INTERAÇÃO COM A PROFESSORA. BOA TAREFA!**

QUARTA-FEIRA 28/07/2021

LEITURA DIÁRIA: [PROBLEMAS ENVOLVENDO MULTIPLICAÇÃO.](#)

ATIVIDADE DE MATEMÁTICA

ATIVIDADE 01 - RESOLVA AS SEGUINTE SITUAÇÕES PROBLEMAS. COLOQUE TODAS AS RESPOSTAS NO SEU CADERNO.

- A) A PROFESSORA ÂNGELA RESOLVEU COMPRAR UM PACOTE DE PAY-PER-VIEW PARA ASSISTIR OS JOGOS OLÍMPICOS DO JAPÃO. SABENDO QUE ELA PAGOU O PACOTE EM 8 PARCELAS DE R\$ 25,00 CADA UMA. QUANTO ELA PAGOU NO TOTAL?

B) PEDRO COMPROU 7 PACOTES DE FIGURINHAS DAS OLIMÍADAS DO JAPÃO DE 2021. SABENDO-SE QUE CADA PACOTE VEM COM 5 FIGURINHAS, QUANTAS FIGURINHAS PEDRO COMPROU NO TOTAL?

C) PEDRO COLOU SUAS FIGURINHAS NO ÁLBUM. SABENDO-SE QUE O ÁLBUM TEM NO TOTAL 85 ESPAÇOS PARA COLAR FIGURINHAS E PEDRO JÁ COLOU 45. QUANTAS FIGURINHAS AINDA FALTAM PARA PEDRO COLAR?

ATIVIDADE 02 – OBSERVE INFORMAÇÕES ABAIXO E COMPLETE OS EXERCÍCIOS:



Quilograma
Kg
1 000g


Grama
g
1g

✎ Complete usando **Kg**, **g** ou **mg**.

- A) Bruno pesa 58 _____ .
- B) Um pacote de arroz pesa 5 _____ .
- C) Um pãozinho de sal pesa 10 _____ .
- D) Um comprimido pesa 3 _____ .
- E) Um gato pesa 2,5 _____ .
- F) Um pacote de biscoito pesa 250 _____ .



FONTE: <https://pedagogiaaopedaleta.com/atividades-de-matematica-para-o-ensino-fundamental/>



AGORA, ABRA SEU LIVRO DIDÁTICO DE MATEMÁTICA E VAMOS FAZER OS EXERCÍCIOS DA PÁGINA 64.
ESSA ATIVIDADE TERÁ INTERAÇÃO COM A PROFESSORA.

BOA TAREFA!



DE UMA OLHADINHA NA ATIVIDADE PREPARADA PELO PROFESSOR DE INGLÊS!

<https://portaleducacao.hortolandia.sp.gov.br/index.php/ingles>

LEITURA DIÁRIA: [A HISTÓRIA DAS OLIMPIADAS](#)

ATIVIDADE INTERDISCIPLINAR

LEIA O TEXTO ABAIXO:

RECEITINHA:
BOLO NA CANECA

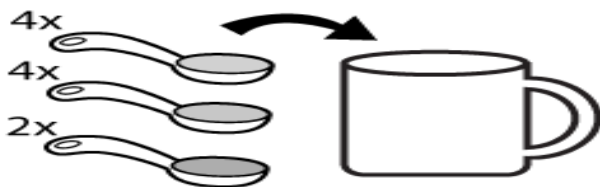
INGREDIENTES:

- 4 colheres de sopa de farinha
- 4 colheres de sopa de açúcar
- 2 colheres de sopa de chocolate em pó
- 1 ovo pequeno
- 3 colheres de sopa de leite
- 3 colheres de sopa de óleo




MODO DE PREPARO

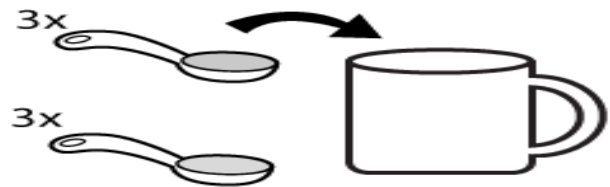
1. Juntar a farinha o açúcar e o chocolate e mexer.




2. Adicionar o ovo (recheio!) e mexer com um garfo.



3. Por fim junta-se o leite e o óleo e mexe-se de novo.



4. Levar ao microondas em potência máxima durante três minutos. Prontinho!



FONTE:SMARTKIDS.COM.BR

AGORA VOCÊ APRENDEU O MODO DE PREPARO DO FAMOSO BOLO DE CANECA, RESPONDA AS PERGUNTAS NO SEU CADERNO.

- O QUE É USADO COMO MEDIDA PARA FAZER O BOLO DE CANECA?
- QUAIS OS DOIS INGREDIENTES QUE SÃO UTILIZADOS EM MAIOR QUANTIDADE?
- QUAL INGREDIENTE UTILIZADO EM MENOR QUANTIDADE?
- MARIA RESOLVEU FAZER BOLO DE CANECA PARA SUAS VISITAS. ELA GASTA R\$ 3,00 PARA FAZER CADA BOLO. QUANTO MARIA VAI GASTAR SE FIZER 10 BOLOS?



DE UMA OLHADINHA NA ATIVIDADE PREPARADA PELA PROFESSORA DE EDUCAÇÃO FÍSICA!

<https://portaleducacao.hortolandia.sp.gov.br/index.php/ed-fisica>

LEITURA DIÁRIA: ESPAÇOS PÚBLICOS E PRIVADOS





ATIVIDADE DE HISTÓRIA

ATIVIDADE 01 – OBSERVE O QUADRO ABAIXO E RESPONDA AS FUNÇÕES CORRETAS DOS ESPAÇOS PÚBLICOS DE SUA CIDADE:


- | | |
|------------------|------------------------------------|
| -CORREIOS | - DEPARTAMENTO DE TRANSITO- |
| - POLICIA | -POSTO DE SAÚDE |
| | -CORPO DE BOMBEIROS. |

- a) APAGA OS INCÊNDIOS; _____
- b) APLICAM VACINAS: _____
- c) ENCARREGADA DE MANTER A ORDEM PÚBLICA; _____
- d) FAZEM ENTREGA DE CORRESPONDÊNCIA: _____
- e) CONTROLA O TRANSITO: _____

ATIVIDADE 02 – OBSERVE AS IMAGENS ABAIXO E CLASSIFIQUE-AS EM ESPAÇO PÚBLICO E ESPAÇO PRIVADO:



ABRA SEU LIVRO DIDÁTICO DE HISTÓRIA NAS PÁGINAS 16 E 17.




**ESSA ATIVIDADE TERÁ INTERAÇÃO COM A PROFESSORA.
BOA TAREFA!**

RETIRE AS ATIVIDADES IMPRESSAS NA ESCOLA.

BOM FIM DE SEMANA E....



FIQUE EM CASA





ESCOLA: EMEF JOÃO CALIXTO DA SILVA

PROFESSORA: MARILEIS CHAPKA E ANGELA LEITE

ANO/TURMA: 3º ANO A E B

SEMANA DE 02 A 06 DE AGOSTO

DIA DA SEMANA	ROTINA DIÁRIA: DESCRIÇÃO DAS ATIVIDADES
SEGUNDA – FEIRA DATA: 02/08/2021	LEITURA DIÁRIA: <u>O PEIXINHO E O GATO</u> NA ATIVIDADE DE HOJE, IREMOS CONTINUAR NOSSO “PROJETO AKATU” . HOJE TAMBÉM VAMOS REALIZAR AS ATIVIDADES DE ARTE .
TERÇA-FEIRA DATA: 03/08/2021	LEITURA DIÁRIA: <u>TURMA DA MÔNICA – BOAS MANEIRAS</u> NA ATIVIDADE DE PORTUGUÊS VAMOS APRENDER UM POUQUINHO MAIS SOBRE A CLASSIFICAÇÃO DE PALAVRAS: SINÔNIMOS E ANTÔNIMOS.
QUARTA-FEIRA DATA: 04/08/2021	LEITURA DIÁRIA: <u>AS CINCO ERVILHAS</u> . HOJE TRABALHAREMOS ALGUMAS SITUAÇÕES PROBLEMAS ENVOLVENDO ADIÇÃO, SUBTRAÇÃO, MULTIPLICAÇÃO E GRANDEZAS COM LITROS E ML. HOJE TAMBÉM É DIA DE AULA DE INGLÊS . TEMA: FATHER’S DAY (DIA DOS PAIS) PÁGINA 115.
QUINTA-FEIRA DATA: 05/08/2021	LEITURA DIÁRIA: <u>A HISTÓRIA DAS OLIMPIADAS</u> NA ATIVIDADE POSTADA NO PORTAL VAMOS TRABALHAR SITUAÇÕES PROBLEMAS COM MULTIPLICAÇÃO. VAMOS REALIZAR ALGUMAS ATIVIDADES PROPOSTAS NO LIVRO DE GEOGRAFIA. HOJE VOCÊ TAMBÉM VAI REALIZAR AS ATIVIDADES DE EDUCAÇÃO FÍSICA .
SEXTA-FEIRA DATA: 06/08/2021	LEITURA DIÁRIA: <u>VAMOS USAR O PEQUENININHO</u> HOJE TRABALHAREMOS ATIVIDADES SOBRE O FOLCLORE. DEPOIS VAMOS FAZER OS EXERCÍCIOS PROPOSTOS NO LIVRO DIDÁTICO DE CIÊNCIAS.

❖ TODAS AS ATIVIDADES TERÃO INTERAÇÃO COM A PROFESSORA ATRAVÉS DO GRUPO DE WHATSAPP.

LEITURA DIÁRIA: [O PEIXINHO E O GATO](#)



PROJETO AKATU – RESÍDUOS E ECONOMIA CIRCULAR DE PU

ATIVIDADE 5. UM DIA NA SUA CASA

DATA: ___/___/___

ESTAMOS TODOS CONECTADOS. POR ISSO, NOSSAS AÇÕES PODEM CAUSAR IMPACTOS NÃO SÓ NA VIDA DE QUEM ESTÁ PRÓXIMO DA GENTE, MAS TAMBÉM NAS PESSOAS QUE ESTÃO MUITO DISTANTES DE NÓS!

PARA ENTENDER MELHOR E COLOCAR EM PRÁTICA O QUE VOCÊ APRENDEU ATÉ AQUI, PROPOMOS UM **DESAFIO**.

IMPORTANTE: RECOMENDAMOS O ACOMPANHAMENTO DOS PAIS E/OU RESPONSÁVEIS PARA A REALIZAÇÃO DAS ATIVIDADES JUNTO AOS ESTUDANTES EM CASA.



O QUE TEM NO SEU LIXO QUE NÃO É LIXO?

SEPARE DURANTE UM DIA TUDO O QUE VOCÊ JOGARIA NO LIXO E QUE PODE SER REAPROVEITADO OU RECICLADO. ANOTE EM SEU CADERNO QUAIS FORAM SUAS DESCOBERTAS E IDEIAS PARA **REUTILIZAR** ESSES MATERIAIS. VOCÊ TAMBÉM PODE FAZER ALGUNS DESENHOS PARA ILUSTRAR.

NÃO SE ESQUEÇA:

DEPOIS QUE VOCÊ TERMINAR A ATIVIDADE, TIRE UMA FOTO DELA E ENVIE PARA O SEU PROFESSOR



DÊ UMA OLHADINHA NA ATIVIDADE PREPARADA PELO PROFESSOR DE ARTE!
<https://portaleducacao.hortolandia.sp.gov.br/index.php/artes>

LEITURA DIÁRIA: TURMA DA MÔNICA – BOAS MANEIRAS

ATIVIDADE DE PORTUGUÊS

SE VOCÊ NÃO TEM A ATIVIDADE IMPRESSA, ESCREVA APENAS AS RESPOSTAS DAS ATIVIDADES NO SEU CADERNO.

ATIVIDADE 01 – LEVE O PATINHA ATÉ A LAGOA PINTANDO APENAS AS PALAVRAS TRISSÍLABAS.



A escarola repolho beterraba azeitona
B matemática português geografia história
C borboleta joaninha abelha gafanhoto
D cachorro barata cascavel esquilo

ATIVIDADE 03 – CIRCULE AS PALAVRAS DA CANTIGA POPULAR CONFORME A LEGENDA.

O trem maluco,
quando sai de Pernambuco,
vai fazendo “chique, chique”
até chegar ao Ceará.


(Cantiga popular)

Monossílabos: vermelho

Dissílabos: azul

Trissílabos: verde

Polissílabos: amarelo



LEITURA DIÁRIA: AS CINCO ERVILHAS.

ATIVIDADE DE MATEMÁTICA

ATIVIDADE 01 - RESOLVA AS SEGUINTE SITUAÇÕES PROBLEMAS:

- A) A PROFESSORA ÂNGELA FEZ UMA PLANTAÇÃO DE FLORES EM SUA FAZENDA. ELA COLHEU 135 ROSAS, 456 CRAVOS E 289 MARGARIDAS. QUANTAS FLORES A PROFESSORA ÂNGELA COLHEU DE SUA PLANTAÇÃO?
- B) PEDRO LEVOU PARA A ESCOLA SUAS 752 CARTINHAS PARA BRINCAR COM SEUS AMIGOS. LÁ ELE PERDEU 135 CARTINHAS E DEPOIS GANHOU 23. COM QUANTAS CARTINHAS PEDRO VOLTOU PARA CASA?
- C) HELENA FEZ ALGUNS DOCINHOS PARA A FESTA DE ANIVERSÁRIO DE SUA FILHA. ELA FEZ 5 BANDEJAS COM 45 BRIGADEIROS CADA UMA. QUANTOS BRIGADEIROS HELENA FEZ?

ATIVIDADE 02 – OBSERVE INFORMAÇÕES ABAIXO E COMPLETE OS EXERCÍCIOS:

NESTA AULA, APRENDEMOS QUE HÁ UMA RELAÇÃO ENTRE AS MEDIDAS DE CAPACIDADE **LITRO E MILILITRO**.
1 LITRO EQUIVALE A 1000 MILILITROS.

MEDIDA	SIMBOLOGIA
LITRO	L
MILILITRO	ML

OBSERVANDO A JARRA AO LADO PERCEBEMOS QUE NA MESMA MARCA QUE **ESTÁ O 1 L** TAMBÉM ESTÁ O **1000 ML**.
PODEMOS AFIRMAR QUE A JARRA ABAIXO POSSUI CAPACIDADE DE **1 LITRO OU 1000 MILILITROS**.



1. Um litro corresponde a quantos mililitros?

2. Complete as frases com **litros** ou **mililitros**.

- a) Na caixa de água da escola cabem 5.000 _____
- b) Esta lata contém 350 _____ de refrigerante.
- c) Helena tomou uma dose de 25 _____ de xarope.
- d) Comprei 2 _____ de leite para fazer arroz-doce.
- e) Quero um copo com 300 _____ de suco.





DE UMA OLHADINHA NA ATIVIDADE PREPARADA PELO PROFESSOR DE INGLÊS!
<https://portaleducacao.hortolandia.sp.gov.br/index.php/ingles>

QUINTA-FEIRA 05/08/2021

LEITURA DIÁRIA: OS TRÊS PORQUINHOS

ATIVIDADE DE MATEMÁTICA

ATIVIDADE 01 - RESOLVA AS SEGUINTE SITUAÇÕES PROBLEMAS:

- A) ROSANA É DONA DE UMA PAPELARIA. ELA COMPROU LÁPIS PARA REVENDER EM SUA LOJA. ELA COMPROU 4 CAIXAS DE LÁPIS COM 140 LÁPIS CADA UMA. QUANTOS LÁPIS ELA TEM NO TOTAL PARA REVENDER?
- B) GUSTAVO ADORA BRINCAR DE BOLINHAS DE GUDE. ELE TEM MUITAS EM CASA E TEM POTINHOS ONDE GUARDA SUAS BOLINHAS. GUSTAVO TEM 6 POTINHOS COM 150 BOLINHAS CADA UM. QUANTAS BOLINHAS DE GUDE ELE TEM?
- C) TIAGO GANHOU VÁRIAS CAIXAS DE BOMBOM EM SEU ANIVERSÁRIO. SABENDO-SE QUE ELE GANHOU 5 CAIXAS COM 30 BOMBONS CADA UMA, QUANTOS BOMBONS ELE TEM?
- D) UMA ESTANTE DE UMA BIBLIOTECA TEM 7 PRATELEIRAS E CABEM 50 LIVROS EM CADA UMA. QUANTOS LIVROS CABEM NA ESTANTE?
- E) UMA ESCOLA TEM 5 SALAS DE AULA. EM CADA SALA HÁ 35 ALUNOS MATRICULADOS. QUANTOS ALUNOS ESTÃO MATRICULADOS NESSA ESCOLA?

ABRA SEU LIVRO DIDÁTICO DE GEOGRAFIA E VAMOS FAZER OS EXERCÍCIOS DAS PÁGINAS 16 E 17.



**ESSA ATIVIDADE TERÁ INTERAÇÃO COM A PROFESSORA.
BOA TAREFA!**



DE UMA OLHADINHA NA ATIVIDADE PREPARADA PELA PROFESSORA DE EDUCAÇÃO FÍSICA!



<https://portaleducacao.hortolandia.sp.gov.br/index.php/ed-fisica>

LEITURA DIÁRIA: VAMOS USAR O PEQUENININHO

ATIVIDADE INTERDISCIPLINAR

SE VOCÊ NÃO TEM AS ATIVIDADES IMPRESSAS, ESCREVA APENAS AS RESPOSTAS NO SEU CADERNO.

VAMOS BRINCAR DE PALAVRAS-CRUZADAS!



FONTE:PINTEREST.COM

ABRA SEU LIVRO DIDÁTICO DE CIÊNCIAS E FAÇA OS EXERCÍCIOS DA PÁGINA 114 E 115.



ESSA ATIVIDADE TERÁ INTERAÇÃO COM A PROFESSORA.

BOA TAREFA E RETIRE AS ATIVIDADES IMPRESSAS NA ESCOLA!

BOM FIM DE SEMANA!