

EMEF Nicolas Thiago dos Santos Lofrani

Professoras: Terezinha / Thais / Gerusa / Solides

Ano/turma: 2º A (Manhã) / 2º B (Manhã) / 2º C (Tarde) / 2º D (Tarde)

SEMANA DE 03 À 07 DE MAIO/2021

Dia da semana	Rotina diária: descrição das atividades
Segunda-feira Data: 03/Maio/21	PORTUGUÊS: Leia o texto explicativo sobre o que é Trabalho. Lista de profissões. Sugestão de leitura: Quintal da Cultura – Dia do Trabalho Link da leitura: https://www.youtube.com/watch?v=2DqzSUwXBrw
Terça-feira Data: 04/Maio/21	LIVRO: BURITI MAIS CIÊNCIAS , páginas de 08 à 13. A importância e os cuidados que temos que ter com a nossa Saúde. (Mediante a interação do professor) Sugestão de leitura: Cinderela Link da leitura: https://www.youtube.com/watch?v=n6N2sihF2uQ ARTE: https://ensinofundamentalhortolandia.blogspot.com/search/label/Arte
Quarta-feira Data: 05/Maio/21	MATEMÁTICA: Atividades sobre Dezena e Unidade. Sugestão de leitura: Um pelo na sopa Link da leitura: https://www.youtube.com/watch?v=UU8kpeQR2NQ INGLÊS: Mother's Day (Dia das mães) – Página 111
Quinta-feira Data: 06/Maio/21	LIVRO: BURITI MAIS GEOGRAFIA , páginas 8 à 11. Conhecendo o bairro onde você mora. (Mediante a interação do professor) Sugestão de leitura: Três porquinhos Link da leitura: https://www.youtube.com/watch?v=rBktfihbSCU EDUCAÇÃO FÍSICA: https://ensinofundamentalhortolandia.blogspot.com/search/label/EDUCA%C3%87%C3%83O%20F%C3%8DICA
Sexta-feira Data: 07/Maio/21	PORTUGUÊS: Leia o poema: Mamãe, amor maior não há, responda as questões. Sugestão de leitura: Segredo de mãe – vídeo especial de dia das mães Link da leitura: https://www.youtube.com/watch?v=GSqspJ6l-p4

03/MAIO/2021 (SEGUNDA-FEIRA)

PORTUGUÊS

TRABALHO


O QUE É TRABALHO?

O TRABALHO É UMA ATIVIDADE FEITA PELAS PESSOAS COM O OBJETIVO DE PRODUZIR OU REALIZAR ALGO, SEJA BENS OU SERVIÇOS, POR MEIO DELE, O TRABALHADOR PODE GARANTIR O SEU SUSTENTO.

QUANDO VAMOS A UMA LOJA COMPRAR ROUPAS OU A UM SUPERMERCADO COMPRAR ALIMENTOS, ADQUIRIMOS BENS, OU SEJA, MATERIAIS QUE SÃO COLHIDOS NA NATUREZA OU PRODUZIDOS PARA SATISFAZER AS NECESSIDADES DO SER HUMANO.

QUANDO VAMOS AO CABELEREIRO CORTAR O CABELO OU QUANDO PAGAMOS A PASSAGEM DO ÔNIBUS, COMPRAMOS SERVIÇOS.


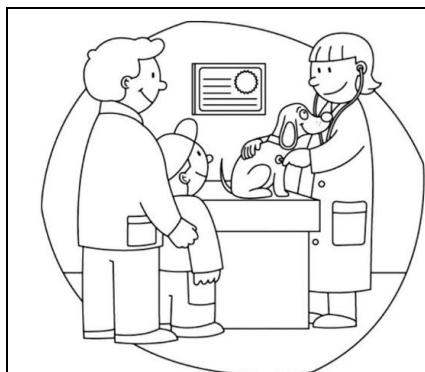
OS BENS E OS SERVIÇOS ESTÃO INTERLIGADOS: QUANDO PAGAMOS A CONTA NO RESTAURANTE, PAGAMOS TANTO PELA COMIDA QUE FOI CONSUMIDA COMO PELO SERVIÇO DO GARÇOM QUE NOS ATENDEU.




ATIVIDADES

1 – NO BRASIL QUE DIA É COMEMORADO O DIA DO TRABALHO?

2 -ESCREVA O NOME DA CADA PROFISSÃO:



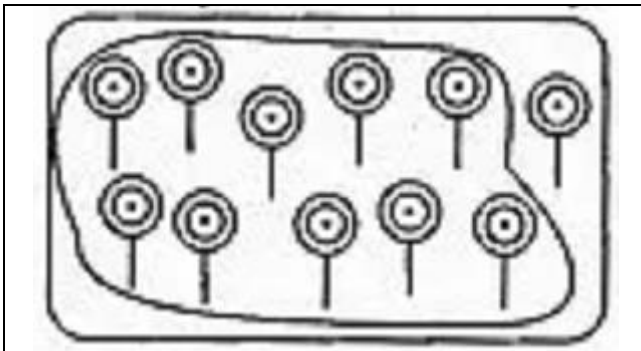


3 – ESCREVA E DESENHE QUAL PROFISSÃO VOCÊ GOSTARIA DE TER QUANDO CRESCER.

PROFISSÃO: _____


MATEMÁTICA

1 – MARQUE AS DEZENAS E UNIDADES:




D		U	
1		1	


11



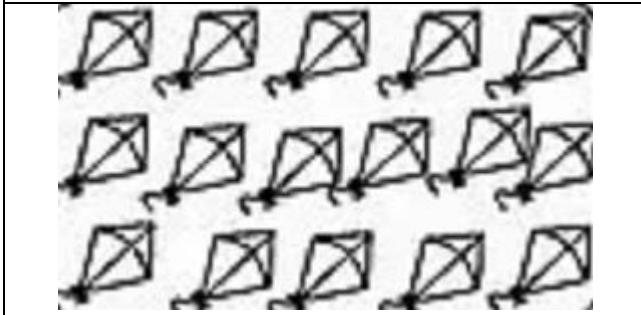
D		U	



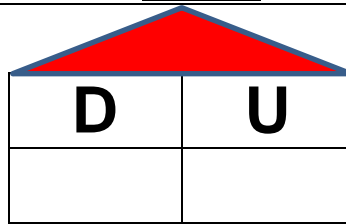
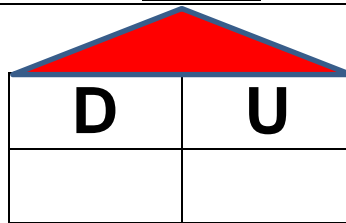

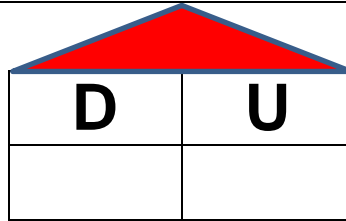
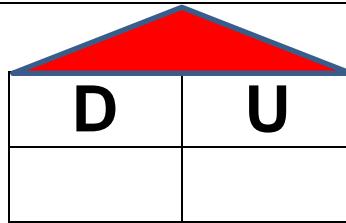
D		U	



D		U	

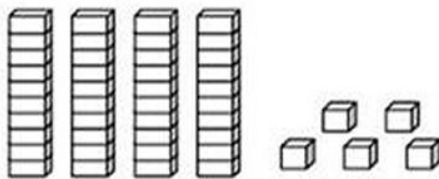


D		U	

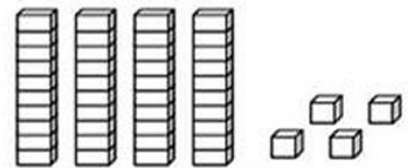


2 – PINTE AS PEÇAS DO MATERIAL DOURADO DE ACORDO COM O NÚMERO INDICADO:

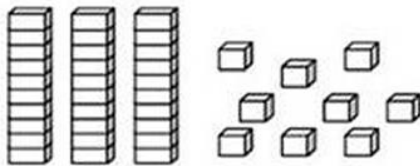
33



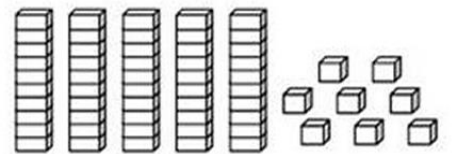
21



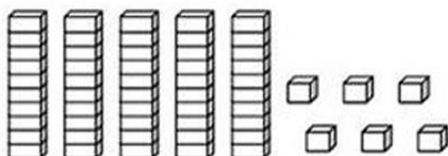
29



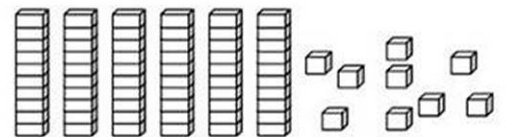
46



34



48



07/MAIO/2021 (SEXTA-FEIRA)

PORTUGUÊS

MAMÃE, AMOR MAIOR NÃO HÁ!

MAMÃE

ISABEL CRISTINA S. SOARES

PEDACINHO DO CÉU
QUE DEUS ME DEU,
PRESENTE MAIS LINDO
NÃO HÁ, COMO O MEU!

É FADA MADRINHA
É ACONCHEGO NO NINHO,
É A LUZ NA MINHA VIDA
QUE ILUMINA O CAMINHO!

É A ESTRELINHA A PISCAR
É O AMOR A FALAR,
QUE DEUS ME AMA
E NA MAMÃE ELE ESTÁ!



- ESCREVA OS NOMES DOS DESENHOS ABAIXO:



Four dashed rectangular boxes for writing the name of the witch.



Seven dashed rectangular boxes for writing the name of the star.




Five dashed rectangular boxes for writing the name of the basket of fruits.

- DE ACORDO COM O POEMA A MAMÃE É COMPARADA COM COISAS BOAS COMO: (CIRCULE)



- DESEMBARALHE AS LETRAS E DESCUBRA AS QUALIDADES DA MAMÃE:



A dashed rectangular box for writing the quality discovered from the first puzzle.

A dashed rectangular box for writing the quality discovered from the second puzzle.

A dashed rectangular box for writing the quality discovered from the third puzzle.

A dashed rectangular box for writing the quality discovered from the fourth puzzle.

SUGESTÃO DE CARTÃO PARA MAMÃE OU PARA ALGUÉM ESPECIAL



<https://www.youtube.com/watch?v=uRvR4kRkIGo>

EMEF Nicolas Thiago dos Santos Lofrani

Professoras: Terezinha / Thais / Gerusa / Solides

Ano/turma: 2º A (Manhã) / 2º B (Manhã) / 2º C (Tarde) / 2º D (Tarde)

SEMANA DE 10 À 14 DE MAIO/2021

Dia da semana	Rotina diária: descrição das atividades
Segunda-feira Data: 10/Maio/21	LIVRO: BURITI MAIS HISTÓRIA , páginas 8 à 11. A passagem do tempo e o tempo dos relógios.(Mediante a interação do professor) Sugestão de leitura: Até as princesas soltam pum https://www.youtube.com/watch?v=elk7tbNZKC0
Terça-feira Data: 11/Maio/21	PORTUGUÊS: Reescreva as frases e o nome das profissões. Sugestão de leitura: Dona baratinha https://www.youtube.com/watch?v=erpG87HVxgM ARTE: https://ensinofundamentalhortolandia.blogspot.com/search/label/Arte
Quarta-feira Data: 12/Maio/21	LIVRO: BURITI Mais Ciências , páginas 14 à 17. A importância da higiene do corpo, dos espaços e da boca. (Mediante a interação do professor) Sugestão de leitura: Quer brincar de pique-esconde? https://www.youtube.com/watch?v=ACNwulrWaBE INGLÊS: Weather (Clima), página 15.
Quinta-feira Data: 13/Maio/21	MATEMÁTICA: Resolução de problemas e escrita de números por extenso. Sugestão de leitura: Tudo tem seu tempo https://www.youtube.com/watch?v=hmOtpGqx4nc EDUCAÇÃO FÍSICA: https://ensinofundamentalhortolandia.blogspot.com/search/label/EDUCA%C3%87%C3%83O%20F%C3%8DSICA
Sexta-feira Data: 14/Maio/21	LIVRO: BURITI Mais Geografia , páginas 12 e 13. Os bairros são diferentes. (Mediante a interação do professor) Sugestão de leitura: O vasilho encantado https://www.youtube.com/watch?v=CIG1X4yaGSI

11/MAIO/2021 (TERÇA-FEIRA)

PORTUGUÊS

1 – COMPLETE AS FRASES COM A AJUDA DAS FIGURAS E REESCREVA:


A _____ VOA NO CÉU. 

ANA FEZ DOCE DE _____ 

O _____ TEM ASAS. 

O _____ TEM CAROÇO. 

2 – DE ACORDO COM OS NÚMEROS ESCREVA O NOME DE CADA
PROFISSÃO:




1 -	5 -
2 -	6 -
3 -	7 -
4 -	


13/MAIO/2021 (QUINTA-FEIRA)
MATEMÁTICA

1 – RESOLVA AS SITUAÇÕES PROBLEMA:

FRANJINHA FEZ 5 BOLHAS DE SABÃO GRANDES E 5 PEQUENAS.
QUANTAS BOLHAS ELE FEZ NO TOTAL?



NO JOGO DE XADREZ CEBOLINHA FEZ 2 PONTOS E CASCAO FEZ 8.
QUANTOS PONTOS ELES FIZERAM JUNTOS?



CHICO BENTO SAIU PARA PÊSCARIA . NO RIO TINHA 2 PEIXES E ELE
PESCOU 1. QUANTOS PEIXES TEM AO TODO?



A TURMINHA ESTÁ JOGANDO CARTAS. AS MENINAS FIZERAM 9
PONTOS E OS MENINOS 3 . QUANTOS PONTOS ELES FIZERAM NO
TOTAL?



2 – ESCREVA OS NÚMEROS DE 0 A 9 POR EXTENSO:

0 -	5 -
1 -	6 -
2 -	7 -
3 -	8 -
4 -	9 -