

EMEF Nicolas Thiago dos Santos Lofrani

Professoras: Terezinha / Thais / Gerusa / Solides

Ano/turma: 2º A (Manhã) / 2º B (Manhã) / 2º C (Tarde) / 2º D (Tarde)

**SEMANA DE 17 À 21 DE MAIO/2021**

Dia da semana	Rotina diária: descrição das atividades
<b>Segunda- feira</b> Data: 17/Maio/21	<b><u>PORTUGUÊS:</u></b> Leia o texto sobre o trânsito e responda as questões – Maio Amarelo. <b>Sugestão de leitura:</b> Maio Amarelo -Turma do Bibiti Link da leitura: <a href="https://youtu.be/N3P4X8RIAw4">https://youtu.be/N3P4X8RIAw4</a>
<b>Terça-feira</b> Data: 18/Maio/21	<b><u>HISTÓRIA:</u></b> Leia o texto sobre a cidade de Hortolândia e responda as questões. <b>Sugestão de leitura:</b> Aniversário da Cidade de Hortolândia 2021! Link da leitura: <a href="https://youtu.be/WMiXyStRRCU">https://youtu.be/WMiXyStRRCU</a> <b><u>ARTE:</u></b> <a href="https://ensinofundamentalhortolandia.blogspot.com/search/label/Arte">https://ensinofundamentalhortolandia.blogspot.com/search/label/Arte</a>
<b>Quarta-feira</b> Data: 19/Maio/21	<b><u>FERIADO:</u> ANIVERSÁRIO DA CIDADE DE HORTOLÂNDIA.</b>
<b>Quinta-feira</b> Data: 20/Maio/21	<b><u>LIVRO:</u> BURITI Mais Ciências, páginas 18 à 21.Cuidados com a higiene bucal e com os produtos de limpeza. (Mediante a interação do professor)</b> <b>Sugestão de leitura:</b> A raposa e a cabra. Link da leitura: <a href="https://youtu.be/hMOMfzs5_hE">https://youtu.be/hMOMfzs5_hE</a> <b><u>EDUCAÇÃO FÍSICA:</u></b> <a href="https://ensinofundamentalhortolandia.blogspot.com/search/label/EDUCA%C3%87%C3%83O%20F%C3%8DSICA">https://ensinofundamentalhortolandia.blogspot.com/search/label/EDUCA%C3%87%C3%83O%20F%C3%8DSICA</a>
<b>Sexta-feira</b> Data: 21/Maio/21	<b><u>MATEMÁTICA:</u></b> Resolução de problmas matemáticos. <b>Sugestão de leitura:</b> O leão que não sabia escrever. Link da leitura: <a href="https://youtu.be/6W8rTPfR_D8">https://youtu.be/6W8rTPfR_D8</a> <b><u>INGLÊS:</u></b> Shapes (Formas) página 19.

17/MAIO/2021 (SEGUNDA-FEIRA)

PORTUGUÊS

CRIANÇA CONSCIENTE

ISABEL CRISTINA SILVEIRA SOARES


NAS RUAS DA CIDADE  
ATRAVESSO COM ATENÇÃO  
EM FAIXA DE PEDESTRE  
ATENTA A SINALIZAÇÃO!

SOU CRIANÇA CONSCIENTE  
AO SEMÁFORO OBEDEÇO  
NA CALÇADA PACIENTE  
POIS VIVER EU MEREÇO!



- COMPLETE COM DESENHO.

NAS RUAS DA



- LIGUE DE ACORDO.


SOU CRIANÇA CONSCIENTE  
AO SEMÁFORO OBEDEÇO



ATRAVESSO COM ATENÇÃO  
EM FAIXA DE PEDESTRE



NA CALÇADA PACIENTE  
POIS VIVER EU MEREÇO!



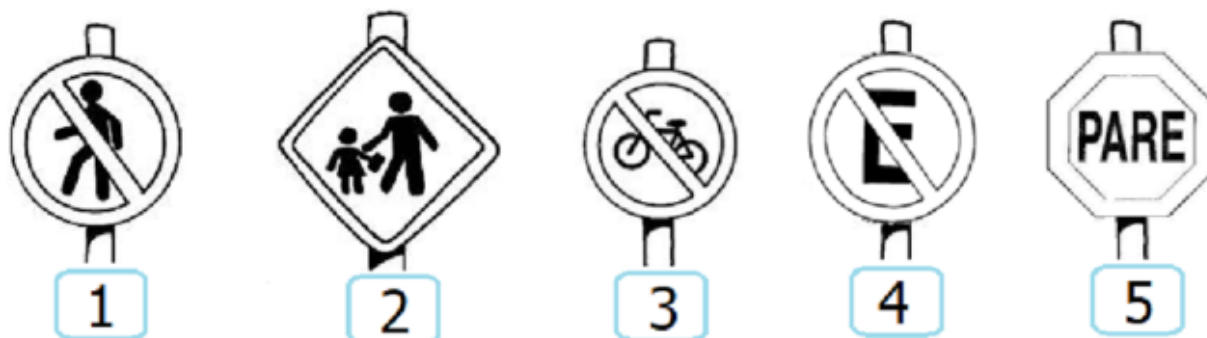
- DESEMBARALHE AS LETRAS E DESCUBRA A PALAVRA  
ESCONDIDA.



TRÂNSITO É O MOVIMENTO DE PEDESTRES E VEÍCULOS NAS RUAS DA CIDADE.

AS PLACAS SERVEM PARA ORIENTAR OS PEDESTRES E MOTORISTAS.

OBSERVE AS PLACAS E NUMERE DE ACORDO.



- PARADA OBRIGATÓRIA.
- PROIBIDO TRÂNSITO DE BICICLETA.
- ÁREA ESCOLAR PRÓXIMA.
- PROIBIDO TRÂNSITO DE PEDESTRE.
- PROIBIDO ESTACIONAR.

DESENHE ABAIXO DUAS PLACAS DE TRÂNSITO QUE VOCÊ CONHECE.

**18/MAIO/2021 (TERÇA-FEIRA)**

**HISTÓRIA E GEOGRAFIA**



**HORTOLÂNDIA COMPLETA  
ANIVERSÁRIO NO DIA 19 DE MAIO.**

FOI FUNDADA NO ANO DE 1991 E COMPLETARÁ **30 ANOS**. A CIDADE PERTENCE AO ESTADO DE SÃO PAULO.

NASCIDOS NESTA CIDADE SÃO CHAMADOS DE HORTOLANDENSES (HORTOLANDENSE), POR ISTO VOCÊ QUE NASCEU EM HORTOLÂNDIA SINTA ORGULHO DE SUA CIDADE.

FELIZ ANIVERSÁRIO HORTOLÂNDIA!

1.QUAL O NOME DA NOSSA CIDADE?

---

2. QUE DIA É O ANIVERSÁRIO DE HORTOLÂNDIA?

---

3. QUANTOS ANOS A CIDADE DE HORTOLÂNDIA COMPLETARÁ?

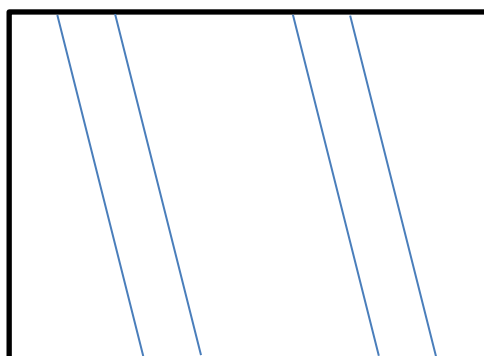
---

4. COMO SÃO CHAMADOS QUEM NASCE EM HORTOLÂNDIA?

CAMPINEIRO

HORTOLANDENSE

5. PINTE A BANDEIRA DE HORTOLÂNDIA E DESENHE O BRASÃO NO INTERIOR DA BANDEIRA.






**21/MAIO/2021 (SEXTA-FEIRA)**

**MATEMÁTICA**

VAMOS RESOLVER OS PROBLEMAS MATEMÁTICOS? SE FOR PRECISO DESENHE AS QUANTIDADES DOS OBJETOS PARA AJUDAR NA RESOLUÇÃO DOS PROBLEMAS.



CARLA COMPROU UMA TESOURA QUE CUSTOU 6 REAIS, UMA BORRACHA QUE CUSTOU 2 REAIS E UMA CANETA QUE CUSTOU 3 REAIS. QUANTO CARLA GASTOU?



JANAÍNA COMPROU 7 LÁPIS AZUIS, 5 LÁPIS VERMELHOS E 3 LÁPIS AMARELOS. QUANTOS LÁPIS ELA COMPROU AO TODO?



ANDRÉ TINHA 12 BONÉS. DEU ALGUNS PARA SEU PRIMO E FICOU COM 7. QUANTOS BONÉS ANDRÉ DEU PARA SEU PRIMO?



CARLOS FOI PISCAR COM SEU PAI. ELES PEGARAM 14 PEIXES AO TODO. CARLOS PEGOU 5. QUANTOS PEIXES SEU PAI PESCOU?

EMEF Nicolas Thiago dos Santos Lofrani

Professoras: Terezinha / Thais / Gerusa /

Solides

Ano/turma: 2º A (Manhã) / 2º B (Manhã) /  
2º C (Tarde) / 2º D (Tarde)

### SEMANA DE 24 À 28 DE MAIO/2021

Dia da semana	Rotina diária: descrição das atividades
<b>Segunda-feira</b> Data: 24/Maio/21	<b>LIVRO: BURITI Mais Geografia</b> , páginas 14 à 17. Texto descrevendo as mudanças que ocorrem num bairro no decorrer dos anos e Entrevista com um antigo morador do bairro um bairro. (Mediante a interação do professor)  <b>Sugestão de leitura:</b> Os brincos novos que mamãe comprou. <b>Link da leitura:</b> <a href="https://youtu.be/wBxIJGo9iv4">https://youtu.be/wBxIJGo9iv4</a>
<b>Terça-feira</b> Data: 25/Maio/21	<b>PORTUGUÊS:</b> Leia a canção e responda as questões. <b>Sugestão de leitura:</b> A lebre e a tartaruga. <b>Link da leitura:</b> <a href="https://youtu.be/Lr5hrXLzMNU">https://youtu.be/Lr5hrXLzMNU</a> <b>ARTE:</b> <a href="https://ensinofundamentalhortolandia.blogspot.com/search/label/Arte">https://ensinofundamentalhortolandia.blogspot.com/search/label/Arte</a>
<b>Quarta-feira</b> Data: 26/Maio/21	<b>LIVRO: BURITI Mais História</b> , páginas 12 e 13. Dia, semana, mês e ano . (Mediante a interação do professor)  <b>Sugestão de leitura:</b> Pedro e o lobo. <b>Link da leitura:</b> <a href="https://youtu.be/8RZ_-OiS01c">https://youtu.be/8RZ_-OiS01c</a> <b>INGLÊS:</b> Numbers (Números) página 21.
<b>Quinta-feira</b> Data: 27/Maio/21	<b>MATEMÁTICA:</b> Atividades com material dourado. <b>Sugestão de leitura:</b> Material Dourado – Unidade e Dezena <b>Link da leitura:</b> <a href="https://www.youtube.com/watch?v=yT-HYGDPJTU">https://www.youtube.com/watch?v=yT-HYGDPJTU</a>  <b>EDUCAÇÃO FÍSICA:</b> <a href="https://ensinofundamentalhortolandia.blogspot.com/search/label/EDUCA%C3%87%C3%83O%20F%C3%8DSICA">https://ensinofundamentalhortolandia.blogspot.com/search/label/EDUCA%C3%87%C3%83O%20F%C3%8DSICA</a>
<b>Sexta-feira</b> Data: 28/Maio/21	<b>LIVRO: BURITI Mais Geografia</b> , páginas 18 e 19. Texto descrevendo um bairro: O bairro Jardim das Flores. (Mediante a interação do professor) <b>Sugestão de leitura:</b> Como pegar uma estrela. <b>Link da leitura:</b> <a href="https://youtu.be/aj_hxZtR2LQ">https://youtu.be/aj_hxZtR2LQ</a>

**24/MAIO/2021 (SEGUNDA-FEIRA)**

**PORTUGUÊS**

LEIA A CANÇÃO E RESPONDA AS QUESTÕES:

**A BAILARINA**

TOQUINHO

UM, DOIS, TRÊS E QUATRO,  
DOBRO A PERNA E DOU UM SALTO,  
VIRO E ME VIRO AO REVÊS  
E SE EU CAIO CONTO ATÉ DEZ.

DEPOIS, ESSA LENGUA-LENGA  
TODA RECOMEÇA.  
PUXA VIDA, ORA ESSA!  
VIVO NA PONTA DOS PÉS.



1. QUAL O TÍTULO DA CANÇÃO?

\_\_\_\_\_

2. QUAL O NOME DE SEU COMPOSITOR?

\_\_\_\_\_

3. VOCÊ CONHECE ALGUMA OUTRA MÚSICA QUE FALE SOBRE BAILARINA?

\_\_\_\_\_

4. OBSERVE OS NOMES DOS NÚMEROS QUE APARECEM NO TRECHO DA MÚSICA E ESCREVA-OS NA ORDEM DECRESCENTE.

\_\_\_\_\_

5. NA CANÇÃO APARECEM O NOME DE DUAS PARTES DO CORPO, QUAIS SÃO ELAS?

\_\_\_\_\_

6. NO MÊS DE MAIO COMEMORAMOS O DIA DO TRABALHO. ESCREVA O NOME DAS PROFISSÕES:

A – QUEM FAZ PÃES É O \_\_\_\_\_

B – QUEM CUIDA DO JARDIM É O \_\_\_\_\_

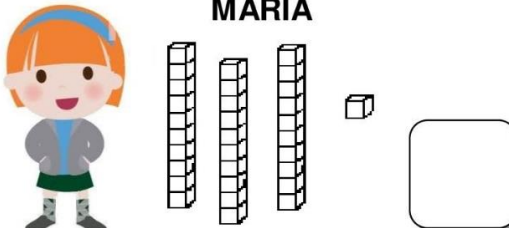
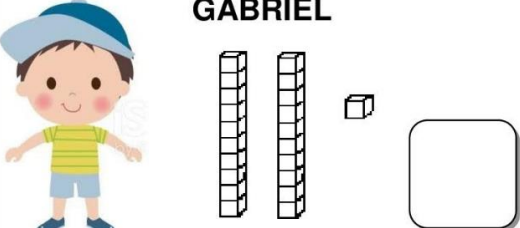
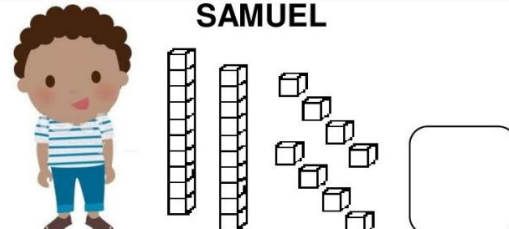


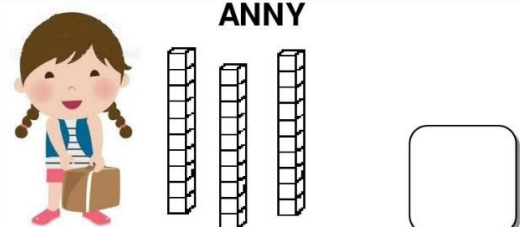
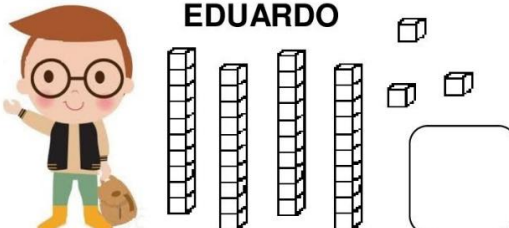
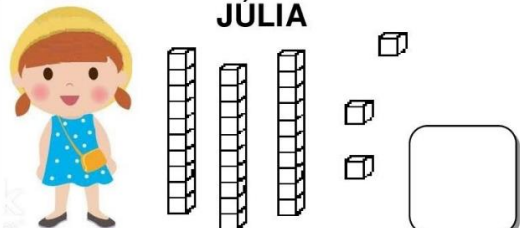
C – QUEM FAZ CHAVES É O \_\_\_\_\_

D – QUEM PINTA QUADROS É O \_\_\_\_\_



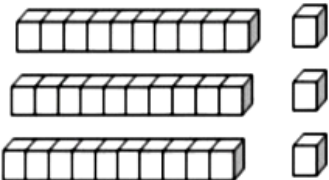
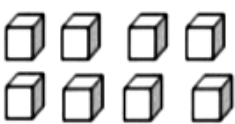
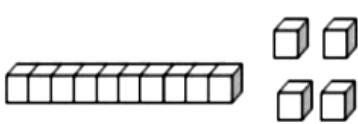
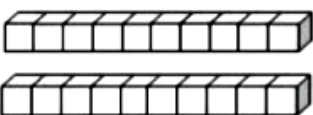
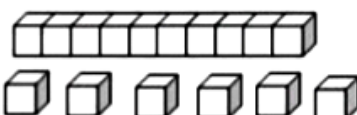
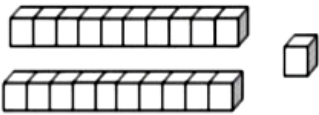
**27/MAIO/2021 (QUINTA-FEIRA)**  
**MATEMÁTICA**

1 – OBSERVE A QUANTIDADE DE PEÇAS DE MATERIAL DOURADO QUE ALGUMAS CRIANÇAS CONSEGUIRAM JUNTAR NO JOGO. DEPOIS RESPONDA:

<p align="center"><b>MARIA</b></p> 	<p align="center"><b>GABRIEL</b></p> 
<p align="center"><b>SAMUEL</b></p> 	<p align="center"><b>HÉLEN</b></p> 
<p align="center"><b>BRUNA</b></p> 	<p align="center"><b>ANNY</b></p> 
<p align="center"><b>EDUARDO</b></p> 	<p align="center"><b>JÚLIA</b></p> 

- A – ESCREVA QUAL É O NÚMERO FORMADO POR CADA CRIANÇA.  
 B – PINTAR O MAIOR NÚMERO DE PEÇAS DE MATERIAL DOURADO DE AMARELO.  
 C – PINTAR O MENOR NÚMERO DE PEÇAS DO MATERIAL DOURADO DE AZUL.  
 D – ESCREVA O NOME DA CRIANÇA QUE JUNTOU MAIS PEÇAS: \_\_\_\_\_  
 E – ESCREVA O NOME DA CRIANÇA QUE JUNTOU MENOS PEÇAS: \_\_\_\_\_

2 - CONTE AS DEZENAS E AS UNIDADES E PINTE O RESULTADO CORRETO:

 <p align="center">35   32   33</p>	 <p align="center">10   8   7</p>	 <p align="center">14   17   15</p>
 <p align="center">10   20   30</p>	 <p align="center">18   17   16</p>	 <p align="center">24   21   20</p>