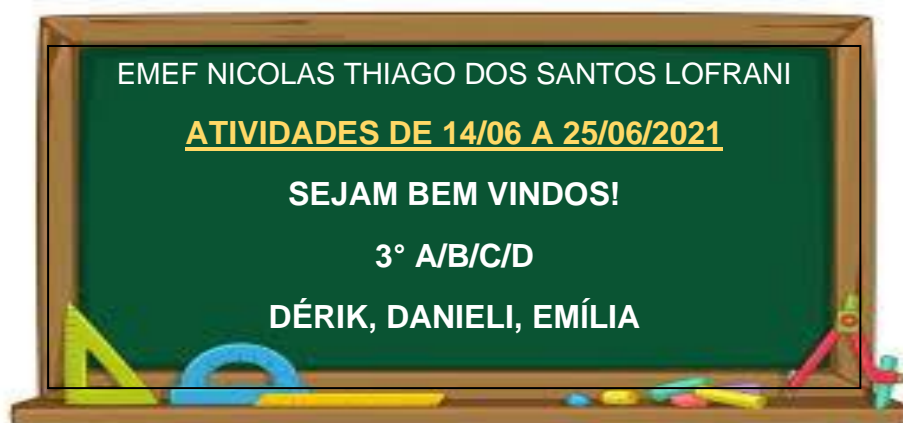






## PRIMEIRA SEMANA



DIA DA SEMANA	ROTINA DIÁRIA
SEGUNDA-FEIRA (14/06/2021)	 LEITURA DO DIA: FOGO NO CÉU <a href="https://www.youtube.com/watch?v=4k8bt14yuza">https://www.youtube.com/watch?v=4k8bt14yuza</a> LÍNGUA PORTUGUESA – LEITURA E INTERPRETAÇÃO DO TEXTO: FESTA JUNINA
TERÇA-FEIRA (15/06/2021)	 LEITURA DO DIA: MEU AMIGO DINOSSAURO (PDF) MATEMÁTICA: ATIVIDADE DIAGNÓSTICA DE MATEMÁTICA <b>ARTE:</b> <a href="https://ensinofundamentalhortolandia.blogspot.com/search/label/Arte">https://ensinofundamentalhortolandia.blogspot.com/search/label/Arte</a>
QUARTA-FEIRA (16/06/2021)	 LEITURA DO DIA: REPENSAR, REDUZIR, REUTILIZAR, RECICLAR <a href="https://youtu.be/PckAgY6stqU">https://youtu.be/PckAgY6stqU</a> GEOGRAFIA: PAISAGEM POLUÍDA. INTRODUÇÃO AO PROJETO AKATU HISTÓRIA: COMO AS PESSOAS FAZIAM PARA COMPRAR PRODUTOS PARA O DIA A DIA PÁGINAS 58 E 59 DO LIVRO DIDÁTICO
QUINTA-FEIRA (17/06/2021)	 LEITURA DO DIA: REBULIÇO NA CAATINGA <a href="https://www.youtube.com/watch?v=8cTXql8BueU&amp;t=41s">https://www.youtube.com/watch?v=8cTXql8BueU&amp;t=41s</a> CIÊNCIAS: CAATINGA – ANIMAIS DO NORDESTE BRASILEIRO <b>EDUCAÇÃO FÍSICA:</b> <a href="https://ensinofundamentalhortolandia.blogspot.com/search/label/EDUCA%C3%87%C3%83O%20F%C3%8DSICA">https://ensinofundamentalhortolandia.blogspot.com/search/label/EDUCA%C3%87%C3%83O%20F%C3%8DSICA</a>
SEXTA-FEIRA (18/06/2021)	 LEITURA DO DIA: O BALÃO QUE NÃO QUERIA SUBIR <a href="https://drive.google.com/file/d/0b0peguqmwa1lslldmanjiexpigw5az1e2dzg5v0lfmtlybxz/f/view?usp=sharing">https://drive.google.com/file/d/0b0peguqmwa1lslldmanjiexpigw5az1e2dzg5v0lfmtlybxz/f/view?usp=sharing</a> LÍNGUA PORTUGUESA: TEXTO LACUNADO COM BANCO DE PALAVRAS. <b>INGLÊS:</b> TEMA: SCHOOL SUPPLIES 3 (SUPLEMENTOS ESCOLARES) - PÁGINA 25

HORTOLÂNDIA, 14 DE JUNHO DE 2021

## LÍNGUA PORTUGUESA



### VAMOS CONVERSAR?

VOCÊ SABE O QUE É FESTA JUNINA?

FALE COM UM ADULTO O QUE VOCÊ SABE SOBRE AS FESTAS JUNINAS.

(SENHORES RESPONSÁVEIS, CONVERSE COM AS CRIANÇAS SOBRE AS PERGUNTAS ACIMA, INCENTIVEM ELAS A PENSAREM E ESCUTEM E VALORIZEM SUAS RESPOSTAS).

### FESTA JUNINA

JUNHO É TEMPO DE FESTA JUNINA, DE ARRAIÁ, DE FORRÓ E DE MUITA COMIDA GOSTOSA. O TEMPO FRIO É UM CONVITE PARA AS BRINCADEIRAS E DANÇAS.

AS FESTAS JUNINAS FAZEM HOMENAGEM AOS SANTOS DO MÊS (SANTO ANTÔNIO, SÃO JOÃO E SÃO PEDRO) ALÉM DE TER MUITOS JOGOS, DIVERSÕES, USOS, COSTUMES E TRADIÇÕES.

SANTO ANTÔNIO É COMEMORADO NO DIA 13 DE JUNHO. É CONSIDERADO O SANTO CASAMENTEIRO E AJUDA A ACHAR OBJETOS PERDIDOS.

SÃO JOÃO É COMEMORADO NO DIA 24 DE JUNHO. TAMBÉM AJUDA AS MOÇAS A ENCONTRAR UM MARIDO.

SÃO PEDRO É COMEMORADO NO DIA 29 DE JUNHO. ELE ENCERRA AS FESTAS DO MÊS DE JUNHO E É PROTETOR DAS MULHERES VIÚVAS.

ENTÃO NESSAS FESTAS ACONTECEM MUITAS BRINCADEIRAS, COMO: CORREIO ELEGANTE, PAU DE SEBO, PESCARIA, CADEIA, ENTRE OUTRAS.

AS COMIDAS SÃO DELICIOSAS E AS BEBIDAS BEM QUENTES PARA ESPANTAR O FRIO. DENTRE ELAS: AMENDOIM TORRADO, BATATA DOCE ASSADA, BOLO DE FUBÁ, CANJICA, COCADA, PÉ-DE-MOLEQUE, PIPOCA, MAÇÃ DO AMOR, MILHO, QUENTÃO E VINHO QUENTE.

PORTANTO A TRADIÇÃO DAS FESTAS JUNINAS SE MANTÉM ATRAVÉS DO USO DE COSTUMES, ONDE O VESTIDO BEM RODADO, O CHAPÉU, A QUADRILHA, A FOGUEIRA, OS FOGOS E A LINDA E ALEGRE DECORAÇÃO DE BANDEIRINHAS COLORIDAS NÃO PODEM FALTAR.

**1- RESPONDA:**

A) QUE SANTOS SÃO HOMENAGEADOS DURANTE AS FESTAS JUNINAS?

R: \_\_\_\_\_

B) ESCREVA TRÊS COMIDAS TÍPICAS DESSAS FESTAS.

1- \_\_\_\_\_

2- \_\_\_\_\_

3- \_\_\_\_\_

C) QUE COSTUMES NÃO PODEM FALTAR PARA A REALIZAÇÃO DA FESTA JUNINA?

R: \_\_\_\_\_

**2 – RELACIONE:**

( A ) SÃO JOÃO ( ) 13 DE JUNHO


( B ) SANTO ANTÔNIO ( ) 29 DE JUNHO

( C ) SÃO PEDRO ( ) 24 DE JUNHO

3 – QUANTOS PARAGRÁFOS HÁ NO TEXTO?

R: \_\_\_\_\_

4 – FAÇA UM DESENHO BEM BONITO NO SEU CADERNO SOBRE A FESTA JUNINA.



→ HORTOLÂNDIA, 15 DE JUNHO DE 2021

**ATIVIDADE DIAGNÓSTICA DE MATEMÁTICA**



**ESTA ATIVIDADE SERÁ REALIZADA JUNTO COM O PROFESSOR  
(NA DATA E HORÁRIO ESTIPULADO POR ELE).**

HORTOLÂNDIA, 16 DE JUNHO DE 2021

## ATIVIDADE DE HISTÓRIA E GEOGRAFIA

### GEOGRAFIA

EM NOSSAS AULAS DE GEOGRAFIA ESTAMOS APRENDENDO MUITA COISA SOBRE PAISAGEM. DESCOBRIMOS QUE NELAS HÁ ELEMENTOS NATURAIS E CULTURAIS, E QUE ELAS PODEM SER TRANSFORMADAS ATRAVÉS DE AÇÕES DA NATUREZA E DAS PESSOAS.

O HOMEM PODE MODIFICAR A NATUREZA TANTO PARA CRIAR RECURSOS PARA UMA VIDA MAIS CONFORTÁVEL, COM IMPLANTANÇÃO DE POSTES, ASFALTO, CONSTRUÇÃO DE CASAS E PRÉDIOS OU COM SUAS INVENÇÕES COMO CARROS, COMO TAMBÉM POLUINDO-A, COMO PODEMOS VER NESSAS IMAGENS ABAIXO.

OBSERVE CADA FOTO E RESPONDA:



1 – PRA VOCÊ ESTA PAISAGEM ESTÁ POLUÍDA? ( ) SIM ( ) NÃO

2 – QUAIS MATERIAIS JOGADOS NA RUA VOCÊ CONSEGUE IDENTIFICAR?

---

3 – POR QUÊ VOCÊ ACHA QUE FORAM JOGADOS NAS RUAS?

---

4 – VOCÊ ACHA QUE TERIA UM LUGAR MELHOR PARA JOGÁ-LOS?

( ) SIM ONDE? \_\_\_\_\_ ( ) NÃO

A POLUIÇÃO É UM DOS PRINCIPAIS PROBLEMAS NO MUNDO, E PARA ENSINAR A VOCÊS UM POUQUINHO SOBRE COMO AJUDAR O PLANETA A SER MENOS POLUÍDO, VAMOS COMEÇAR O PROJETO “AKATU – CONSUMO CONSCIENTE PARA UM FUTURO SUSTENTÁVEL”. A CADA SEMANA TERÃO UMA ATIVIDADE A SER DESENVOLVIDA EM FAMÍLIA, JUNTO COM AS ATIVIDADES DO BLOG. E ASSIM, IREMOS TRABALHAR PARA QUE NOSSAS RUAS, NOSSO BAIRRO E NOSSA CIDADE SEJA MAIS LIMPA. E ASSIM, AOS POUCOS, TEREMOS UM MUNDO MENOS POLUÍDO. VAMOS LA?



## PROJETO AKATU – RESÍDUOS E ECONOMIA CIRCULAR DE PU

### ATIVIDADE 1. POR ONDE COMEÇAR?

DATA: \_\_\_/\_\_\_/\_\_\_

VOCÊ JÁ PAROU PARA OLHAR O QUE TEM NO LIXO DA SUA CASA OU DA ESCOLA? MUITAS VEZES ACHAMOS QUE O QUE TEM NO LIXO NÃO SERVE PARA MAIS NADA, MAS ISSO NÃO É VERDADE!

O QUE CHAMAMOS DE LIXO NA VERDADE SÃO **RESÍDUOS SÓLIDOS** E GRANDE PARTE DE TUDO O QUE JOGAMOS FORA PODERIA SER REUTILIZADO OU RECICLADO.

VAMOS APRENDER UM POUCO MAIS?

**IMPORTANTE:** RECOMENDAMOS O ACOMPANHAMENTO DOS PAIS E/OU RESPONSÁVEIS PARA A REALIZAÇÃO DAS ATIVIDADES JUNTO AOS ESTUDANTES EM CASA.



QUE PRECISAMOS **RECICLAR** SEMPRE QUE POSSÍVEL, TODO MUNDO JÁ OUVIU. MAS, NA VERDADE, A GENTE PODE COMEÇAR BEM ANTES DISSO.

SER MAIS SUSTENTÁVEL É REPENSAR TUDO, DESDE O MOMENTO EM QUE TEMOS A IDEIA DE COMPRAR ALGUMA COISA.

POR EXEMPLO: VOCÊ PRECISA MESMO DE UM CADERNO NOVO? NÃO DÁ PARA INSERIR ALGUMAS FOLHAS NOVAS NO SEU FICHÁRIO, OU APROVEITAR O CADERNO QUE VOCÊ JÁ TEM?

PARA LEMBRAR SEMPRE DISSO, BASTA PENSAR NOS **4RS: REPENSAR, REDUZIR, REUTILIZAR E RECICLAR!**

NUNCA OUVIU FALAR DELES? **ENTÃO CONFIRA O VÍDEO QUE A GENTE PREPAROU SOBRE OS 4RS:**

[HTTPS://YOUTU.BE/PCKAGY6STQU](https://youtu.be/pckagy6stqu)



\*\*ESSE VÍDEO É O MESMO DA LEITURA DIÁRIA



DEPOIS DE ASSISTIR AO VÍDEO, COPIE AS ALTERNATIVAS ABAIXO EM SEU CADERNO E MARQUE A ALTERNATIVA **CORRETA**:

**REPENSAR** É ESCOLHER SÓ QUE REALMENTE PRECISAR, E PESQUISAR ANTES DE COMPRAR.

PARA **REDUZIR**, BASTA COMPRAR MENOS PRODUTOS DESCARTÁVEIS.

NÃO É POSSÍVEL **REUTILIZAR** PRODUTOS E EMBALAGENS.

**RECICLAR** É A ÚNICA ALTERNATIVA PARA PRODUZIR MENOS LIXO.

### **NÃO SE ESQUEÇA:**

DEPOIS QUE VOCÊ TERMINAR A ATIVIDADE, TIRE UMA FOTO DELA E ENVIE PARA O SEU PROFESSOR

### HISTÓRIA



NA AULA DE HISTÓRIA, VAMOS UTILIZAR O LIVRO DIDÁTICO. LEITURA DAS PÁGINAS 58 E 59. “COMO AS PESSOAS FAZIAM PARA COMPRAR PRODUTOS PARA O DIA A DIA”.

**ESTA ATIVIDADE TERÁ ORIENTAÇÃO DO PROFESSOR.**



HORTOLÂNDIA, 17 DE JUNHO DE 2021

## ATIVIDADE DE CIÊNCIAS

ESTAMOS APRENDENDO SOBRE AS FESTIVIDADES TRADICIONAIS JUNINAS QUE FAZEM PARTE DE DIVERSAS REGIÕES DO NOSSO PAÍS.

UMA DELAS É O NORDESTE, QUE É MUITO RICO EM CULTURA, ALIMENTOS E TAMBÉM ANIMAIS. LÁ ENCONTRAMOS UM BIOMA CHAMADO **CAATINGA** QUE APRESENTA UM CLIMA E CARACTERÍSTICAS ESPECÍFICAS PARA ESSA REGIÃO.

### CAATINGA

CAATINGA É UMA PALAVRA DE ORIGEM TUPI-GUARANI QUE SIGNIFICA '**MATA BRANCA**'. ESSE NOME É PORQUE SEU CLIMA GERALMENTE É SECO, COM POUCAS CHUVAS DURANTE O ANO. ESSE É UM BIOMA EXCLUSIVAMENTE BRASILEIRO QUE SE RESTRINGE AOS ESTADOS DA BAHIA, ALAGOAS, PERNAMBUCO, PARAÍBA, RIO GRANDE DO NORTE, CEARÁ, PIAUÍ E PARTE DE MINAS GERAIS. SUA OCUPAÇÃO CORRESPONDE CERCA DE 11% DO TERRITÓRIO NACIONAL.

### ALGUNS ANIMAIS ENCONTRADOS NA CAATINGA:



A ARARA-VERMELHA É UM DOS ANIMAIS DA CAATINGA QUE TAMBÉM É ENCONTRADA EM OUTROS DOS BIOMAS. A AVE, CHAMADA DE **ARARACANGA** E **MACAU**, TAMBÉM HABITA OUTROS PAÍSES DA AMÉRICA DO SUL. A AVE MEDE CERCA DE 90 CENTÍMETROS DE COMPRIMENTO E SEU PESO PODE CHEGAR A 1,5 QUILOS. A ALIMENTAÇÃO É FEITA, BASICAMENTE, COM SEMENTES, COQUINHOS E FRUTAS VARIADAS.



O **TAMANDUÁ-BANDEIRA** É UM MAMÍFERO QUE HABITA A CAATINGA E OUTROS BIOMAS BRASILEIROS, ALÉM DE PAÍSES DA AMÉRICA DO SUL E CENTRAL. SEU TAMANHO VARIA ENTRE 1,8 E 2,1

METROS E SEU PESO ENTRE 39 E 41 QUILOS.

O FOCINHO ALONGADO É A SUA MARCA REGISTRADA. ESSA CARACTERÍSTICA AUXILIA NA ALIMENTAÇÃO, QUE É FEITA QUASE TOTALMENTE DE FORMIGAS E INSETOS.



O **TATU-BOLA** É UM ANIMAL PEQUENO E MAMÍFERO QUE MEDE APROXIMADAMENTE 42 CM, SEU PESO PODE CHEGAR ATÉ 1,8 KG E POSSUI UMA CARAPAÇA RÍGIDA E MÓVEL QUE AJUDA NA FUGA DE PREDADORES. A

ALIMENTAÇÃO É PRINCIPALMENTE FEITA A BASE DE CUPINS, PORÉM ALGUNS FRUTOS TAMBÉM COMPÕEM SUA DIETA.



O **CALANGO-DE-CAUDA-VERDE** É UM RÉPTIL AMEAÇADO DE EXTINÇÃO. DE HÁBITOS DIURNOS, SE ALIMENTA DE PEQUENOS ANIMAIS, COMO FORMIGAS, GRILOS, GAFANHOTOS E ARANHAS.

A REPRODUÇÃO OCORRE EM ÉPOCA DE CHUVA, PERÍODO EM QUE A FÊMEA PÕE SEUS OVOS,. O MACHO MEDE ATÉ 12 CM, SENDO SEMPRE MAIOR QUE A FÊMEA.

ALÉM DESSES ANIMAIS MOSTRADOS, A CAATINGA ABRIGA OUTRAS CENTENAS ESPÉCIES DE ANIMAIS COM DIVERSAS CARACTERÍSTICAS COMO O MACACO-PREGO, JAGUATIRICA, ARARA-AZUL, JIBOIA ETC.

**RESPONDA:**

1 – A CAATINGA FAZ PARTE DE QUAIS OS ESTADOS BRASILEIROS?

R: \_\_\_\_\_

2 – O QUE SIGNIFICA A PALAVRA CAATINGA?

R: \_\_\_\_\_

3 – PREENCHA AS LINHAS DE ACORDO COM OS ANIMAIS MOSTRADOS NO TEXTO:

SE ALIMENTA DE FORMIGAS E INSETOS \_\_\_\_\_

PÕEM OVOS: \_\_\_\_\_

VOA: \_\_\_\_\_

É UM RÉPTIL: \_\_\_\_\_

SÃO MAMÍFEROS: \_\_\_\_\_

SE ALIMENTA DE CUPINS E ALGUNS FRUTOS: \_\_\_\_\_

SE ALIMENTA DE FRUTOS E SEMENTES: \_\_\_\_\_

4 – PESQUISE NA INTERNET QUAIS OUTROS ANIMAIS PODEM SER ENCONTRADOS NA CAATINGA. ESCREVA PELO MENOS MAIS TRÊS ANIMAIS:

R: \_\_\_\_\_

AGORA ESCOLHA UM DESSES ANIMAIS QUE VOCÊ PESQUISOU E ESCREVA AS CARACTERÍSTICAS DELE.

<b>QUAL O NOME DELE?</b>	
<b>O QUE ELE COME?</b>	
<b>QUAL SEU TAMANHO?</b>	
<b>QUANTO ELE PESA?</b>	

 HORTOLÂNDIA, 18 DE JUNHO DE 2021

### ATIVIDADE DE LÍNGUA PORTUGUESA

COMPLETE O TEXTO COM AS PALAVRAS DO QUADRO

PADRE - INCÊNDIOS – QUADRILHA – MENINA – MÚSICA – MILHO – BARRACAS –  
CANJICA – FUMAÇA – PIPOCA - PASTEL – FOGUEIRA – MENINO - BALÕES – NOIVO  
– VESTIDO – NOIVA – FESTA JUNINA

### FESTA JUNINA

A TURMA TODA ESPEROU MUITO POR AQUELA NOITE: ERA NOITE DE

\_\_\_\_\_.

ESTAVAM ANIMADOS PARA ENFIM, DANÇAR A \_\_\_\_\_

QUE TANTO ENSAIARAM. OS CASAIS ESTAVAM FORMADOS.

A \_\_\_\_\_ COM SEU \_\_\_\_\_ RODADO E

SUAS LINDAS TRANÇAS E O \_\_\_\_\_ DE LENÇO NO

PESCOÇO.

A \_\_\_\_\_ LOGO COMEÇOU A TOCAR!

NAS \_\_\_\_\_ VENDIAM COISAS MUITO GOSTOSAS,

COMO: \_\_\_\_\_,

E \_\_\_\_\_.

A \_\_\_\_\_ ESTAVA ACESA E A \_\_\_\_\_ SUBIA

NO CÉU.






A \_\_\_\_\_ E O \_\_\_\_\_ ESTAVAM PRONTOS PARA O

CASAMENTO QUE IA COMEÇAR LOGO QUE O \_\_\_\_\_ CHEGASSE.

DE UMA COISA TODOS SABIAM: NAQUELA FESTA NINGUÉM IA SOLTAR

\_\_\_\_\_ PORQUE ELE PODE CAUSAR \_\_\_\_\_ !

## SEGUNDA SEMANA

DIA DA SEMANA	ROTINA DIÁRIA
SEGUNDA-FEIRA (21/06/2021)	 LEITURA DO DIA: SÃO JOÃO DO BITA <a href="https://www.youtube.com/watch?v=ueTMLzcYcu0&amp;ab_channel=MundoBitaMundoBita">https://www.youtube.com/watch?v=ueTMLzcYcu0&amp;ab_channel=MundoBitaMundoBita</a> MATEMÁTICA: APRENDENDO SOBRE TROCO E INTERPRETAÇÃO DE GRÁFICO.
TERÇA-FEIRA (22/06/2021)	 LEITURA DO DIA: ARRAIÁ DO BENTO <a href="https://www.youtube.com/watch?v=lgz6wAzgeQA&amp;ab_channel=BentoeTot%C3%B3BentoeTot%C3%B3Canaloficialdoartista">https://www.youtube.com/watch?v=lgz6wAzgeQA&amp;ab_channel=BentoeTot%C3%B3BentoeTot%C3%B3Canaloficialdoartista</a> HISTÓRIA E GEOGRAFIA: HISTÓRIA DA FESTA JUNINA E LEITURA DE MAPAS. ARTE: <a href="https://ensinofundamentalhortolandia.blogspot.com/search/label/Arte">https://ensinofundamentalhortolandia.blogspot.com/search/label/Arte</a>
QUARTA-FEIRA (23/06/2021)	 LEITURA DO DIA: OS ANIMAIS DO MUNDINHO <a href="https://www.youtube.com/watch?v=Om0RNdKvBKo">https://www.youtube.com/watch?v=Om0RNdKvBKo</a> CIÊNCIAS: A CLASSIFICAÇÃO DOS ANIMAIS – LIVRO BURITI MAIS – CIÊNCIAS PÁGINAS 22 A 27.
QUINTA-FEIRA (24/06/2021)	 LEITURA DO DIA: FIZ VOAR O MEU CHAPÉU <a href="https://drive.google.com/file/d/1m_a1jsk2i0o0rkqr8hkb2fzl3cnndmo/view?usp=sharing">https://drive.google.com/file/d/1m_a1jsk2i0o0rkqr8hkb2fzl3cnndmo/view?usp=sharing</a> LÍNGUA PORTUGUESA: HISTÓRIA EM QUADRINHOS, LIVRO DIDÁTICO, PÁGINAS 70 A 75. <b>EDUCAÇÃO FÍSICA:</b> <a href="https://ensinofundamentalhortolandia.blogspot.com/search/label/EDUCA%C3%87%C3%83O%20F%C3%8DSICA">https://ensinofundamentalhortolandia.blogspot.com/search/label/EDUCA%C3%87%C3%83O%20F%C3%8DSICA</a>
SEXTA-FEIRA (25/06/2021)	 LEITURA DO DIA: FESTA JUNINA – POEMA E RIMAS MATEMÁTICA: AS IDEIAS DE ADIÇÃO – LIVRO DIDÁTICO PÁGINAS 67 E 69 INGLÊS: TEMA: ATIVIDADE DIAGNÓSTICA

▶ HORTOLÂNDIA, 21 DE JUNHO DE 2021

### ATIVIDADE DE MATEMÁTICA

#### VAMOS FALAR SOBRE TROCO??

QUANDO COMPRAMOS ALGUMA COISA E PAGAMOS COM UMA CÉDULA OU MOEDA QUE VALE MAIS DO QUE O VALOR COBRADO, TEMOS QUE RECEBER TROCO.  
 VEJA SÓ:

UM SORVETE CUSTA R\$2,00. PAGUEI COM UMA NOTA DE R\$5,00. MEU TROCO VAI SER R\$3,00. PORQUE  $5-2=3$

PARA SABER O VALOR DO TROCO É FÁCIL. VOCÊ VAI FAZER UMA CONTA DE SUBTRAÇÃO (DE MENOS). PEGA O VALOR QUE PAGOU E TIRA O VALOR DO PRODUTO. O RESULTADO É SEU TROCO. VAMOS TESTAR?

UMA DAS COISAS QUE FAZ MAIS SUCESSO NAS FESTAS JUNINAS SÃO AS COMIDAS DELICIOSAS. DÊ UMA OLHADA NO PREÇO DE CADA ÍTEM:



PAMONHA  
R\$5,00



BOLO DE COCO  
R\$15,00



PIPOCA  
R\$4,00




MILHO COZIDO  
R\$6,00



CELSO COMPROU 2 PAMONHAS E 1 PIPOCA. RESPONDA:  
QUANTO CELSO GASTOU? \_\_\_\_\_  
ELE PAGOU COM UMA NOTA DE R\$20,00.  
QUANTO ELE TEVE DE TROCO? \_\_\_\_\_



ROSINHA COMPROU 1 MILHO COZIDO E 1 BOLO DE COCO. QUANTO ELA GASTOU? \_\_\_\_\_  
A MENINA PAGOU COM ESSAS NOTAS



QUANTO RECEBEU DE TROCO? \_\_\_\_\_




JUQUINHA COMPROU 2 BOLOS DE COCO.  
GASTOU \_\_\_\_\_

ELE PAGOU COM ESSA NOTA.



QUANTO ELE PAGOU? \_\_\_\_\_

QUANTO FOI SEU TROCO? \_\_\_\_\_



MARIA ALICE FICOU NA BARRACA DAS COMIDAS E FOI ANOTANDO OS ITENS VENDIDOS. PREENCHA O GRÁFICO ABAIXO COM AS INFORMAÇÕES DO QUADRO:

BATATA-FRITA: VENDERAM 8 SAQUINHOS  
CACHORRO-QUENTE: VENDERAM 10 UNIDADES  
PAÇOCA: VENDERAM 7 UNIDADES  
PASTEL: VENDERAM 9 UNIDADES  
SORVETE: VENDERAM 5 UNIDADES
















RESPOSTA:

1 – QUAL ALIMENTO FOI O CAMPEÃO DE VENDAS? \_\_\_\_\_

2 – QUAL ALIMENTO FOI O MENOS VENDIDO? \_\_\_\_\_

3 – QUAL A DIFERENÇA ENTRE A QUANTIDADE DE PASTEL E DE BATATA-FRITA? \_\_\_\_\_

4 – QUANTOS SORVETES E PAÇOCAS FORAM VENDIDOS JUNTOS? \_\_\_\_\_

→ HORTOLÂNDIA, 22 DE JUNHO DE 2021

## ATIVIDADE DE HISTÓRIA E GEOGRAFIA

### FESTA JUNINA



OLÁ, MEU NOME É FRANCISCO, MAS TODOS ME CHAMAM DE CHICO. EU SOU DE CAMPINA GRANDE, NA PARAÍBA. AQUI TEMOS A MAIOR E MAIS CONHECIDA FESTA JUNINA DO BRASIL. CHAMAMOS ELA DE “O MAIOR SÃO JOÃO DO MUNDO”. MAS VOCÊ SABE DE ONDE VEIO ESSA FESTA POPULAR??

OS HISTORIADORES DIZEM QUE A FESTA JUNINA FOI INVENTADA NA EUROPA, NO MÊS DE JUNHO, NA PASSAGEM DA PRIMAVERA PARA O VERÃO DOS PAÍSES DE LÁ. ESSA FESTIVIDADE ERA REALIZADA PARA AFASTAR TODA E QUALQUER PRAGA QUE PUDESSE ATINGIR AS PLANTAÇÕES E COLHEITAS.



Representação gráfica dos seis continentes. Fonte: IBGE.



ESTE É O MAPA MUNDI. VOCÊ JÁ O CONHECE? NELE TEMOS O DESENHO QUE REPRESENTA NOSSO PLANETA, DIVIDIDO EM CONTINENTES. OLHE NA LEGENDA E ESCREVA QUAL É A COR QUE REPRESENTA:

A AMÉRICA: \_\_\_\_\_

A EUROPA: \_\_\_\_\_

A ÁSIA: \_\_\_\_\_

A ÁFRICA; \_\_\_\_\_

A OCEANIA: \_\_\_\_\_

E A ANTÁRTIDA: \_\_\_\_\_

O BRASIL FICA NA PARTE DEBAIXO DO CONTINENTE AMERICANO. OBSERVE O MAPA E RESPONDA:

QUAL É O CONTINENTE MAIS PRÓXIMO DO BRASIL? \_\_\_\_\_

QUAL É O CONTINENTE MAIS PRÓXIMO DA EUROPA? \_\_\_\_\_

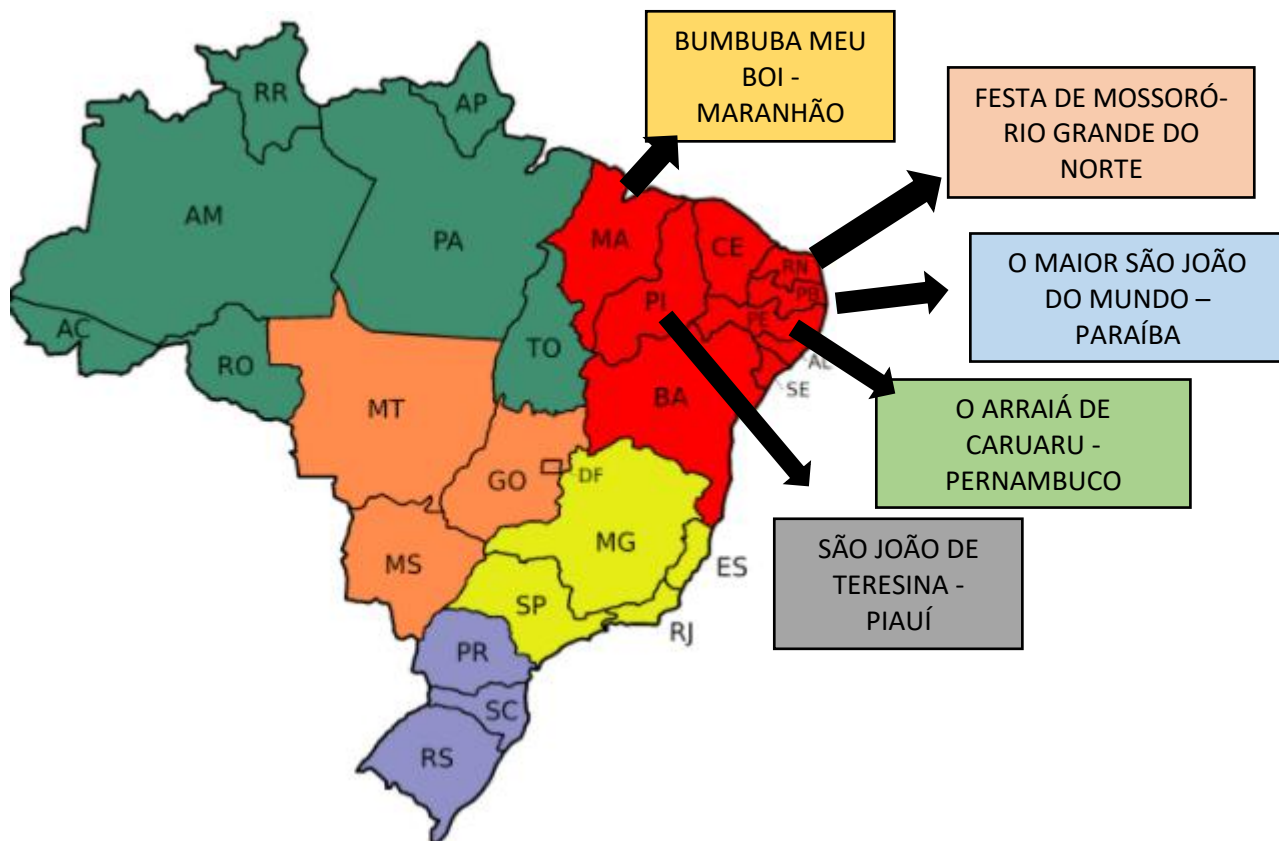
AGORA QUE JÁ SABEMOS ONDE FICA A EUROPA, VAMOS VER COMO ESSA FESTA CHEGOU AO BRASIL.

APÓS UM TEMPO, A IGREJA CATÓLICA SE APOSSOU DO COSTUME DE FAZER ESSA FESTA E INCORPOROU-A EM SEU CALENDÁRIO, COMEMORANDO TAMBÉM O DIA DE SÃO JOÃO, SÃO PEDRO E SANTO ANTÔNIO NA MESMA FESTA.

PORTUGAL É UM PAÍS LOCALIZADO NA EUROPA, E TAMBÉM TINHA O COSTUME DE COMEMORAR A FESTA JUNINA. E FORAM ELES, NOSSOS COLONIZADORES, QUE TROUXERAM ESSA FESTA PARA O BRASIL.

E É AQUI NO NORDESTE, ONDE EU MORO, QUE A TRADIÇÃO DESTA FESTA FOI AUMENTANDO CADA VEZ MAIS. HOJE, NÃO É UMA FESTA RELIGIOSA COMO ANTES. AGORA É UMA FESTA POPULAR, FAMOSA PELA SUA ALEGRIA, DANÇAS E COMIDAS TÍPICAS QUE SÃO MARAVILHOSAS (CURAU, PAMONHA, COCADA, PASTEL, VINHO QUENTE, QUENTÃO, HUUMMM ME DEU ATÉ FOME).

AS 5 MAIORES FESTAS JUNINAS DO BRASIL FICAM NO NORDESTE. VEJA:



ESSE MAPA DO BRASIL ESTÁ DIVIDIDO POR ESTADOS E REGIÕES. CADA COR REPRESENTA UMA REGIÃO DO BRASIL:

NORTE: VERDE

NORDESTE: VERMELHO

CENTRO-OESTE: LARANJA

SUDESTE: AMARELO

SUL: ROXO

VOCÊ PODE PERCEBER QUE CADA REGIÃO TEM DIVISÕES FEITAS COM LINHAS PRETAS. ESSAS DIVISÕES SÃO OS ESTADOS DO BRASIL. PARA IDENTIFICAR CADA UMA, FORAM USADAS ABREVIações. POR EXEMPLO, ONDE ESTÁ ESCRITO "SP" É O ESTADO ONDE VOCÊS MORAM: SÃO PAULO.

ESCREVA ABAIXO QUAL É A ABREVIação DOS ESTADOS ONDE HÁ AS MAIORES FESTAS JUNINAS DO BRASIL:

PIAUÍ: \_\_\_\_\_

RIO GRANDE DO NORTE: \_\_\_\_\_

MARANHÃO: \_\_\_\_\_

PERNAMBUCO: \_\_\_\_\_

PARAÍBA: \_\_\_\_\_

E AGORA RESPONDA:

1 – EM QUE CONTINENTE A FESTA JUNINA FOI INVENTADA?

---

2 – QUEM TROUXE ESSA FESTA AO BRASIL?

---

3 – PELO QUE ESSA FESTA É FAMOSA NO BRASIL?

---

➔ HORTOLÂNDIA, 23 DE JUNHO DE 2021

### ATIVIDADE DE CIÊNCIAS

HOJE NOSSA ATIVIDADE SERÁ SOBRE A CLASSIFICAÇÃO DOS ANIMAIS. VAMOS FAZER ALGUMAS ATIVIDADES NO LIVRO DE CIÊNCIAS.

**PÁGINAS 22 A 27.**

**(ESSA ATIVIDADE TERÁ ORIENTAÇÃO DO PROFESSOR)**



➔ HORTOLÂNDIA, 24 DE JUNHO DE 2021

### ATIVIDADE DE LÍNGUA PORTUGUESA

VOCÊS CONHECEM HISTÓRIAS EM QUADRINHOS? GOSTAM DE OUVIR E LER HISTÓRIAS DESSE TIPO?

HOJE NA ATIVIDADE DO LIVRO DE LÍNGUA PORTUGUESA VAMOS APRENDER UM POUCO MAIS SOBRE ESSE TIPO DE TEXTO. VAMOS LER E REALIZAR AS ATIVIDADES DAS PÁGINAS 70,71 (SOMENTE LEITURA) 72,73,74 E 75 (REALIZAR AS ATIVIDADES).

NÃO SE ESQUEÇA, O PROFESSOR IRÁ ORIENTÁ-LO SOBRE  
COMO REALIZAR ESSAS ATIVIDADES.



VAMOS PARA A SEGUNDA ATIVIDADE DO PROJETO AKATU???



## PROJETO AKATU – RESÍDUOS E ECONOMIA CIRCULAR DE PU

### ATIVIDADE 2. MENOS É MAIS

DATA: \_\_\_/\_\_\_/\_\_\_

NA ATIVIDADE ANTERIOR, VOCÊ CONHECEU O QUE SÃO OS **4RS - REPENSAR, REDUZIR, REUTILIZAR E RECICLAR** E DESCOBRIU QUE SER MAIS SUSTENTÁVEIS É REPENSAR TUDO, DESDE O MOMENTO EM QUE TEMOS A IDEIA DE COMPRAR ALGUMA COISA: VOCÊ PRECISA MESMO DE UM CADERNO NOVO? NÃO DÁ PARA INSERIR ALGUMAS FOLHAS NOVAS NO SEU FICHÁRIO, OU APROVEITAR O CADERNO QUE VOCÊ JÁ TEM?

DEPOIS DE **REPENSAR** BASTANTE E DECIDIR QUE VOCÊ PRECISA MESMO DE ALGO NOVO, O PRÓXIMO PASSO É ESCOLHER.

**IMPORTANTE:** RECOMENDAMOS O ACOMPANHAMENTO DOS PAIS E/OU RESPONSÁVEIS PARA A REALIZAÇÃO DAS ATIVIDADES JUNTO AOS ESTUDANTES EM CASA.



VOCÊ PODE SER MAIS SUSTENTÁVEL NESSA HORA TAMBÉM, E ESCOLHER AQUILO QUE GASTA MENOS RECURSOS (MATÉRIA-PRIMA, ÁGUA OU ENERGIA, POR EXEMPLO) PRA SER PRODUZIDO, OU QUE DEIXE MENOS RESÍDUOS DEPOIS DO USO. PENSE NISSO!

A PRÓXIMA TAREFA TEM TUDO A VER COM ESSAS ESCOLHAS!

**VOCÊ DEVE USAR SUA CRIATIVIDADE E PRODUZIR UMA HISTÓRIA EM QUADRINHOS OU UM CARTAZ SOBRE COMO PODE CONSUMIR ALIMENTOS, ROUPAS, BRINQUEDOS, MATERIAL ESCOLAR E OUTRAS COISAS SEM DESPERDÍCIO.**

SE ESCOLHER FAZER A HISTÓRIA EM QUADRINHOS, VOCÊ PODE IMPRIMIR AS DUAS FOLHAS A SEGUIR, OU DESENHAR EM SEU CADERNO. VAMOS LÁ?

**NÃO SE ESQUEÇA:**

DEPOIS QUE VOCÊ TERMINAR A ATIVIDADE, TIRE UMA FOTO DELA E ENVIE PARA O SEU PROFESSOR





A large central area divided into several irregular, empty rectangular and trapezoidal sections by black outlines, intended for writing or drawing.

HORTOLÂNDIA, 25 DE JUNHO DE 2021



### ATIVIDADE DE MATEMÁTICA

HOJE VAMOS USAR O LIVRO DIDÁTICO DE MATEMÁTICA.  
PÁGINAS 67, 68 E 69

**A REALIZAÇÃO DESSA ATIVIDADE TERÁ A ORIENTAÇÃO  
DO SEU PROFESSOR.**



BOM TRABALHO!!





# FESTA JUNINA

COMPLETE AS FRASES DE ACORDO COM A FIGURA COM AJUDA DO BANCO DE PALAVRAS

SANFONA

CORNETA

SINO

VIOLÃO

PIPOCA



A MAGALI COME \_\_\_\_\_



CEBOLINHA TOCA A \_\_\_\_\_



ZÉ LELE TOCA A \_\_\_\_\_








CASCÃO TOCA O \_\_\_\_\_




CHICO BENTO TOCA A \_\_\_\_\_

NAS FESTAS JUNINAS EXISTEM MUITAS COMIDAS TÍPICAS E DELICIOSAS, SERÁ QUE VOCÊ CONSEGUE ESCREVER O NOME DELAS?

		_____
		C _____
		_____
		_____
		_____ - _____ - _____ _____
		M _____
		C _____ J _____

COMPLETE A CRUZADINHA COM O NOME DOS OBJETOS



ATIVIDADE DE MATEMÁTICA

VAMOS CALCULAR!

$5+4=$

$3+4=$

$9-5=$

$6+2=$

$6-2=$

$7+2=$

$7-4=$

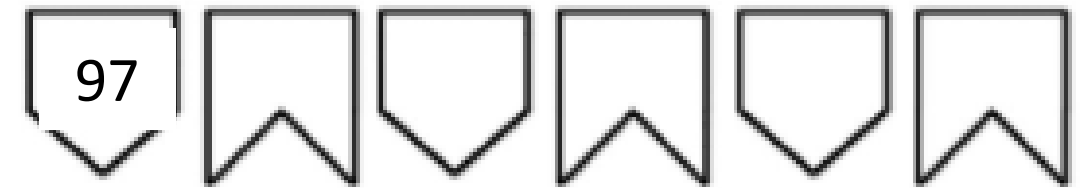
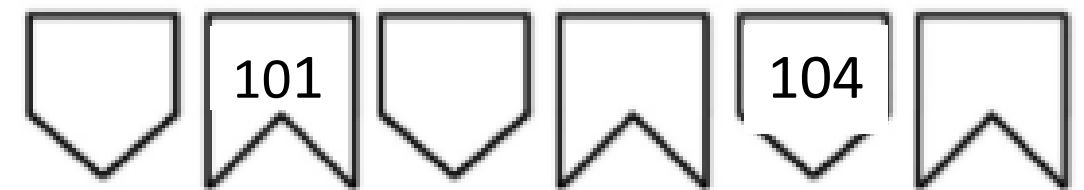


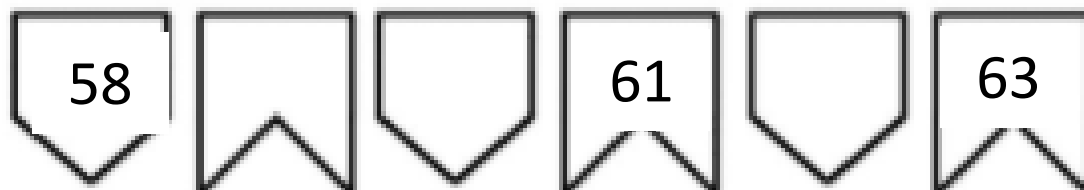
$5-2=$

$4+4=$

$8-3=$



COMPLETE OS NÚMEROS QUE ESTÃO FALTANDO:



**ATIVIDADE DE HISTÓRIA E GEOGRAFIA**

CHICO BENTO QUER TOMAR BANHO NO RIO, MAS ESTÁ TODO POLUIDO. ANOTE NO SEU CADERNO EM FORMA DE LISTA (UM EMBAIXO DO OUTRO) OS OBJETOS QUE ESTÃO POLUINDO O RIO.



A FESTA JUNINA DO BRASIL É UMA FESTA MUITO FAMOSA NO MUNDO TODO.  
VEJA ABAIXO ALGUMAS COISAS QUE TEM NUMA FESTA JUNINA. LIGUE O DESENHO  
À PALAVRA.



PIPOCA



BANDEIRINHA



FOGUEIRA



SANFONA



BARRAQUINHA



BALÃO




## ATIVIDADE DE CIÊNCIAS


OS ANIMAIS ABAIXO FAZEM PARTE DA CAATINGA. COMPLETE O NOME DELES E DEPOIS ENCONTRE-OS NO CAÇA PALAVRA



\_\_RAR\_\_ - AZ\_\_L



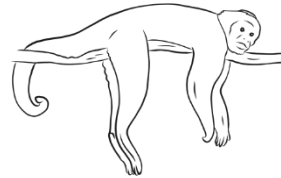
T\_\_T\_\_ - B\_\_L\_\_



\_\_NÇ\_\_ -  
P\_\_NTAD\_\_



T\_\_M\_\_NDU\_\_' -  
B\_\_ND\_\_R\_\_



\_\_A\_\_ACO  
P\_\_E\_\_O

T	T	S	O	V	S	A	I	N	T	I	O	U	S	B	O	O	G
N	T	L	N	C	E	I	O	U	E	R	R	O	A	I	T	H	E
O	N	E	Ç	N	U	T	I	I	S	R	E	R	D	L	Y	T	T
N	D	R	A	R	A	R	A	A	Z	U	L	A	D	E	T	I	K
S	H	H	P	F	R	S	H	G	O	H	E	O	H	N	E	B	H
A	F	T	I	D	N	M	E	S	N	G	E	U	R	F	R	R	P
F	O	M	N	O	E	Y	G	R	D	I	Y	H	M	O	C	S	A
H	T	A	T	U	B	O	L	A	I	A	O	C	B	N	O	E	E
E	F	M	A	C	A	C	O	P	R	E	G	O	O	E	I	C	T
O	D	S	D	L	R	P	E	A	O	O	C	A	N	O	M	W	L
K	G	T	A	M	A	N	D	U	Á	B	A	N	D	E	I	R	A
S	B	E	H	Y	Y	E	I	J	H	A	T	S	O	S	Y	S	K