

EMEF Nicolas Thiago dos Santos Lofrani

Professoras: Terezinha / Thais / Gerusa / Solides

Ano/turma: 2º A (Manhã) / 2º B (Manhã) / 2º C (Tarde) / 2º D (Tarde)

SEMANA DE 08 À 12 DE MARÇO/2021

Dia da semana	Rotina diária: descrição das atividades
Segunda- feira Data: 08/03/21	<u>PORTUGUÊS:</u> Leia o texto e responda as questões. Sugestão de leitura: Dia da Mulher, explicado para crianças – Fafa conta curiosidades https://www.youtube.com/watch?v=j2EaOGb7mVY
Terça-feira Data: 09/03/21	<u>MATEMÁTICA:</u> Observe o gráfico e responda as questões. Sugestão de leitura: Lúcia já vou indo https://youtu.be/OdN4GZ7hdwE <u>ARTE:</u> https://ensinofundamentalhortolandia.blogspot.com/search/label/Arte
Quarta-feira Data: 10/03/21	<u>GEOGRAFIA/HISTÓRIA:</u> Leia o texto “A comunidade onde vivemos” e faça desenhos de como colaborar com sua comunidade. Sugestão de leitura: A noite chegou e o sono não vem https://youtu.be/3WW1fjxLda0 <u>INGLÊS:</u> https://ensinofundamentalhortolandia.blogspot.com/search/label/L%C3%ADngua%20Inglesa
Quinta-feira Data: 11/03/21	<u>CIÊNCIAS:</u> Leia o texto “Corpo humano e os órgãos dos sentidos” e faça os exercícios. Sugestão de leitura: O Gatinho de Sara https://www.youtube.com/watch?v=RVmGM09UyVY <u>EDUCAÇÃO FÍSICA:</u> https://ensinofundamentalhortolandia.blogspot.com/search/label/EDUCA%C3%87%C3%83O%20F%C3%8DSICA
Sexta-feira Data: 12/03/21	<u>PORTUGUÊS:</u> Complete as palavras com as sílabas que estão faltando. Sugestão de leitura: A nuvenzinha triste https://youtu.be/p5uUKXYIniw

08/MARÇO/2021 (SEGUNDA-FEIRA)

PORTUGUÊS

08 DE MARÇO- DIA INTERNACIONAL DA MULHER



MULHER

ISABEL CRISTINA SILVEIRA SOARES

QUANDO DEUS FEZ A MULHER
UM PENSAMENTO LHE INSPIROU
PENSOU NUMA MARGARIDA
E SUA PELE SE FORMOU!

PENSOU ELE NUMA ROSA
PARA SUA FACE DESENHAR
A FEZ SUAVE E FORMOSA
PARA VIDA PODER GERAR!

- PINTE OS PARES DE RIMAS
USANDO CORES DIFERENTES
PARA CADA ESTROFE.

RIMAS SÃO PALAVRAS QUE
TERMINAM COM O MESMO SOM.



- CIRCULE A PALAVRA "**MULHER**".


- QUANTAS LETRAS ESTA PALAVRA TEM?

- FAÇA UM DESENHO PARA CADA LETRA DA PALAVRA.



- QUANTOS DESENHOS VOCÊ FEZ?

- COMPLETE A FOTO DO ROSTO DA MULHER.



- AGORA DÊ UM NOME A ELA.

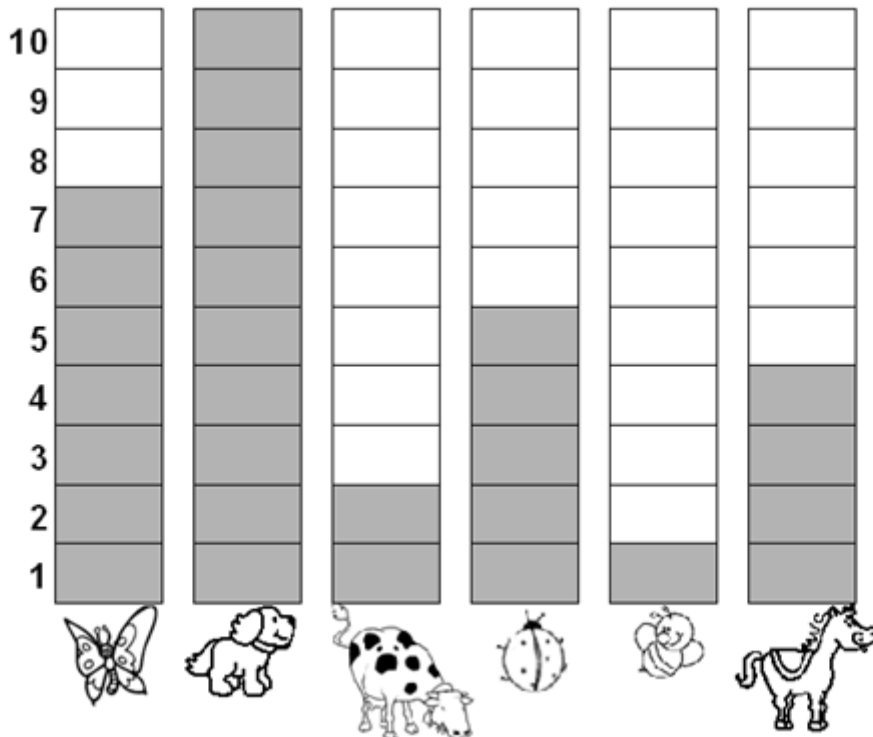
- QUAL É A LETRA INICIAL DO NOME DELA?

- QUAL É A LETRA FINAL DO NOME DELA?

09/MARÇO/2021 (TERÇA-FEIRA)

MATEMÁTICA

OBSERVE O GRÁFICO QUE MOSTRA O ANIMAL PREFERIDO PELOS ALUNOS DO 2º ANO.



DE ACORDO COM O GRÁFICO, COMPLETE A TABELA ABAIXO, ESCRIVENDO O NOME DOS ANIMAIS E SUAS QUANTIDADES.

NOME DO ANIMAL	QUANTIDADE
ABELHA	
BORBOLETA	
CACHORRO	
CAVALO	
JOANINHA	
VACA	

- QUAL FOI O ANIMAL MAIS VOTADO? _____
- QUAL FOI O ANIMAL MENOS VOTADO? _____
- QUANTOS VOTOS TEVE O CAVALO? _____
- QUAL ANIMAL TEVE 7 VOTOS? _____

10/MARÇO/2021 (QUARTA-FEIRA)

GEOGRAFIA E HISTÓRIA

A COMUNIDADE ONDE VIVEMOS

GERALMENTE, AS **PESSOAS** PROCURAM VIVER **EM GRUPO** E GOSTAM DA COMPANHIA DOS FAMILIARES E DOS AMIGOS.

UM **GRUPO DE PESSOAS** QUE VIVEM EM UM MESMO LOCAL, TRABALHANDO, DIVERTINDO-SE OU REALIZANDO ATIVIDADES JUNTAS, FORMA UMA **COMUNIDADE**.

EM UMA COMUNIDADE AS PESSOAS DEPENDEM UMAS DAS OUTRAS.

- **DESENHE ALGUMAS FORMAS DE COLABORAR COM A SUA COMUNIDADE:**



11/MARÇO/2021 (QUINTA-FEIRA)

CIÊNCIAS

CORPO HUMANO E OS ÓRGÃOS DOS SENTIDOS

LEIA:

- É ATRAVÉS DOS **SENTIDOS** QUE PERCEBEMOS O MUNDO.
- NÓS TEMOS CINCO SENTIDOS: **VISÃO, AUDIÇÃO, OLFATO, TATO E PALADAR.**



1) LIGUE CADA ORGÃO DO SENTIDO AO QUE ELE NOS PERMITE FAZER.



POSSO TOCAR.



POSSO OUVIR.



POSSO VER.



POSSO SENTIR O SABOR.



POSSO SENTIR O CHEIRO.

DESENHE NO MENINO OS CINCO SENTIDOS QUE ESTÃO FALTANDO



12/MARÇO/2021 (SEXTA-FEIRA)

PORTUGUÊS

COMPLETE AS PALAVRAS ABAIXO COM AS SÍLABAS
QUE ESTÃO FALTANDO.

DA

MA

JA

FA

CA

BO

LU

GA



__LO



__DO



__SA



__TO



__DA



__CACO



__CARÉ



__A

EMEF Nicolas Thiago dos Santos Lofrani

Professoras: Terezinha / Thais / Gerusa/ Solides

Ano/turma: 2º A (Manhã) / 2º B (Manhã) / 2º C (Tarde) / 2º D (Tarde)

SEMANA DE 15 À 19 DE MARÇO/2021

Dia da semana	Rotina diária: descrição das atividades
Segunda- feira Data: 15/03/21	PORTUGUÊS: Pinte a sílabas e forme palavras e cruzadinha. Sugestão de leitura: Meu nome é Zé, e o seu qual é? https://www.youtube.com/watch?v=Frtzic_DqTE
Terça-feira Data: 16/03/21	MATEMÁTICA: Complete as continhas e atividade sobre dúzia. Sugestão de leitura: As Centopéias e seus sapatinhos https://www.youtube.com/watch?v=9AuB6ybibMw&feature=youtu.be ARTE: https://ensinofundamentalhortolandia.blogspot.com/search/label/Arte
Quarta-feira Data: 17/03/21	GEOGRAFIA/HISTÓRIA: Leia o texto sobre os diferentes tipos de bairro e decifre os enigmas. Sugestão de leitura: O bairro de Marcelo https://www.youtube.com/watch?v=vH-Px1SJScM INGLÊS: https://ensinofundamentalhortolandia.blogspot.com/search/label/L%C3%ADngua%20Inglesa
Quinta-feira Data: 18/03/21	CIÊNCIAS: Identifique os órgãos dos sentidos. Sugestão de leitura: Brincar de quê? https://www.youtube.com/watch?v=SFhLxGiMbol&ab_channel=JanineSouto EDUCAÇÃO FÍSICA: https://ensinofundamentalhortolandia.blogspot.com/search/label/EDUCA%C3%87%C3%83O%20F%C3%8DSICA
Sexta-feira Data: 19/03/21	PORTUGUÊS: Leia o texto e responda as questões. Sugestão de leitura: O sol e a nuvem (Varal de histórias) https://www.youtube.com/watch?v=VrwSjonIzQ0&ab_channel=VaraldeHist%C3%B3rias

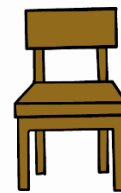
SEMANA DE 15 À 19 DE MARÇO/2021

15/MARÇO/2021 (SEGUNDA-FEIRA)


PORTUGUÊS

1 - PINTE AS SÍLABAS QUE FORMAM O NOME DOS DESENHOS, DEPOIS FAÇA UMA LISTA DAS PALAVRAS. USE UMA COR DE LÁPIS PARA CADA PALAVRA:

TI	PO	CO	TO	BA
CA	NA	LÁ	SA	MA
DA	JO	RA	DEI	DO
SA	PA	TE	LO	RA
NA	CA	ÇÃO	PIS	TO



2 – COMPLETE A CRUZADINHA DOS ANIMAIS:



16/MARÇO/2021 (TERÇA-FEIRA)


MATEMÁTICA

1 – COMPLETE AS CONTINHAS COM O NÚMERO QUE FALTA:

$\square + 7 = 9$	$4 + \square = 8$
$7 - \square = 3$	$\square - 7 = 2$
$6 - 4 = \square$	$9 - 2 = \square$
$\square + 3 = 8$	$2 + \square = 7$
$5 + 4 = \square$	$3 - \square = 3$
$\square - 2 = 6$	$\square - 8 = 0$
$\square + 3 = 9$	$7 - 5 = \square$
$\square - 2 = 7$	$9 - 3 = \square$



2 – PINTE UMA DÚZIA DE SORVETES:



AGORA RESPONDA:

QUANTOS SORVETES VOCÊ PINTOU? _____

QUANTOS SORVETES FICARAM SEM PINTAR? _____

QUANTOS SORVETES FALTAM PARA COMPLETAR 20? _____

16/MARÇO/2021 (TERÇA-FEIRA)

HISTÓRIA E GEOGRAFIA

OS BAIRROS NÃO SÃO TODOS IGUAIS.

EM ALGUNS HÁ PRAÇAS PARA AS CRIANÇAS BRINCAREM E EM OUTROS NÃO.

HÁ BAIRROS COM RUAS MOVIMENTADAS E OUTROS EM QUE AS RUAS SÃO TRANQUILAS E SILENCIOSAS. EM ALGUNS BAIRROS ENCONTRAMOS CASAS MUITO ANTIGAS E EM OUTROS EDIFÍCIOS MODERNOS.

AS DIFERENÇAS TAMBÉM PODEM SER OBSERVADAS NO TIPO DE ATIVIDADE QUE É DESENVOLVIDA POR SEUS MORADORES E POR PESSOAS QUE ALI TRABALHAM E CONVIVEM.

OS BAIRROS PODEM SER:

RESIDENCIAL: ONDE HÁ UM GRANDE NÚMERO DE MORADIAS.

INDUSTRIAL: ONDE EXISTEM MUITAS INDÚSTRIAS.

COMERCIAL: ONDE HÁ MUITOS ESTABELECIMENTOS COMERCIAIS, COMO BANCOS, LOJAS, MERCADOS. NELE HÁ UMA GRANDE MOVIMENTO DE PESSOAS.

RURAL: É FORMADO POR SÍTIOS, FAZENDAS E CHÁCARAS. NELE SE PRATICAM A AGRICULTURA E A CRIAÇÃO DE ANIMAIS.


1 – DECIFRE OS CÓDIGOS E DESCUBRA OS TIPOS DE BAIRROS QUE EXISTEM:

☐	◻	⚙	☾	◆	☆
I	O	A	M	S	E
♣	📁	🏠	♥	🌸	▲
D	U	R	C	N	T

1 ♥ ◻ ☾ ☆ 🏠 ♥ ☐ ⚙ ☐ ◆

2 🏠 ☆ ◆ ☐ ♣ ☆ 🌸 ♥ ☐ ⚙ ☐ ◆

3 ☐ 🌸 ♣ 📁 ◆ ▲ 🏠 ☐ ⚙ ☐ ◆



18/MARÇO/2021 (QUINTA-FEIRA)

CIÊNCIAS

1 – ASSINALE O ÓRGÃO DO SENTIDO QUE FOI USADO EM CADA UMA DAS SITUAÇÕES ABAIXO:



A PANELA ESTÁ QUENTE.

() PALADAR () OLFATO () TATO () VISÃO () AUDIÇÃO

ESTA MÚSICA É MARAVILHOSA!

() PALADAR () OLFATO () TATO () VISÃO () AUDIÇÃO

COMO ESTÁ FRIO HOJE!

() PALADAR () OLFATO () TATO () VISÃO () AUDIÇÃO

MAS QUE CHEIRO HORRÍVEL!

() PALADAR () OLFATO () TATO () VISÃO () AUDIÇÃO

A TV ESTÁ MUITO ALTA!

() PALADAR () OLFATO () TATO () VISÃO () AUDIÇÃO

ESTÁ ESCURO AQUI.

() PALADAR () OLFATO () TATO () VISÃO () AUDIÇÃO

AH! QUEIMEI A LÍNGUA.

() PALADAR () OLFATO () TATO () VISÃO () AUDIÇÃO

QUE CASACO MACIO!

() PALADAR () OLFATO () TATO () VISÃO () AUDIÇÃO

AS ROSAS VERMELHAS ESTÃO MUITO BONITAS!

() PALADAR () OLFATO () TATO () VISÃO () AUDIÇÃO

FICOU SALGADO.

() PALADAR () OLFATO () TATO () VISÃO () AUDIÇÃO

ESTA É UMA BELA PAISAGEM.

() PALADAR () OLFATO () TATO () VISÃO () AUDIÇÃO

2 – ESCREVA OS NOMES DOS ÓRGÃOS DOS SENTIDOS DE ACORDO COM A NUMERAÇÃO:



1

2

3

4

5


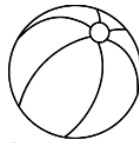
19/MARÇO/2021 (SEXTA-FEIRA)

PORTUGUÊS

LEIA O TEXTO E RESPONDA AS QUESTÕES.


APRENDENDO COM QUADRINHA

A FOCA VIU A BOLA
MAS O GATO A PEGOU
LEVOU-A PARA CASA
JUNTO AO DADO A COLOCOU!




ISABEL CRISTINA S. SOARES


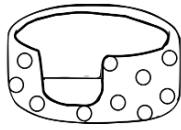
1 - QUEM VIU A BOLA FOI:



2 - QUEM PEGOU A BOLA FOI:



3 - O GATO LEVOU A BOLA PARA:



4 - A BOLA FOI COLOCADA JUNTO AO:



5. COMPLETE OS VERSINHOS DE ACORDO COM O TEXTO COM AS PALAVRAS QUE ESTÃO FALTANDO.

GATO – FOCA - BOLA

A VIU A

MAS O A PEGOU.



AGORA COMPLETE O QUADRO ABAIXO.

PALAVRA	QUANTAS LETRAS	QUANTAS SÍLABAS	DESENHO
FOCA			
BOLA			
GATO			