

EMEF Nicolas Thiago dos Santos Lofrani

Professoras: Terezinha / Thais / Gerusa / Solides


Ano/turma: 2º A (Manhã) / 2º B (Manhã) / 2º C (Tarde) / 2º D (Tarde)

SEMANA DE 09 À 13 DE AGOSTO/2021

Dia da semana	Rotina diária: descrição das atividades
Segunda- feira Data: 09/Agosto/21	LIVRO: Língua Portuguesa Ápis, páginas 34, 35, 36 e 37, Leitura Lenga- lenga. (Mediante a interação do professor) Sugestão de leitura: Um lugar para todos – história indígena Munduruku Link da leitura: https://www.youtube.com/watch?v=Ruafb-XHPvI
Terça-feira Data: 10/Agosto/21	MATEMÁTICA: Folclore – calendário, adição, subtração e resolução de problemas. Sugestão de leitura: O flautista de Hamelin Link da leitura: https://www.youtube.com/watch?v=V9pbL1AyJCs ARTE: https://portaleducacao.hortolandia.sp.gov.br/index.php/artes
Quarta-feira Data: 11/Agosto/21	LIVRO: BURITI Mais Ciências, páginas 42, 43, 44 e 45, O ambiente – observação em campo. (Mediante a interação do professor) Sugestão de leitura: A Cama Rangedora Link da leitura: https://www.youtube.com/watch?v=FS6OhKDj2uE INGLÊS: https://portaleducacao.hortolandia.sp.gov.br/index.php/ingles TEMA: OCCUPATIONS (Profissões) página 45.
Quinta-feira Data: 12/Agosto/21	PORTUGUÊS: Folclore, interpretação do texto e complete as palavras com as sílabas que faltam. Sugestão de leitura: A formiguinha e a neve Link da leitura: https://www.youtube.com/watch?v=yFQkjdsMz8U EDUCAÇÃO FÍSICA: https://portaleducacao.hortolandia.sp.gov.br/index.php/ed-fisica
Sexta-feira Data: 13/Agosto/21	LIVRO: MATEMÁTICA Ápis, páginas 23, 24 e 25, Recursos para facilitar a contagem. (Mediante a interação do professor) Sugestão de leitura: Histórias de papel - Medusa Link da leitura: https://www.youtube.com/watch?v=4mg1enczxpU

10/AGOSTO/2021 (TERÇA-FEIRA)
MATEMÁTICA

FOI FEITA UMA PESQUISA SOBRE AS LENDAS DO FOLCLORE PREFERIDAS DOS ALUNOS DOS 2ºs ANOS. AS LENDAS E AS QUANTIDADES DE ALUNOS ESTÃO REPRESENTADAS NO GRÁFICO ABAIXO.



RESPONDA AS QUESTÕES DE ACORDO COM O GRÁFICO

QUAL FOI A LENDA MAIS VOTADA? QUANTOS ALUNOS VOTARAM?

QUAL FOI A LENDA MENOS VOTADA? QUANTOS ALUNOS VOTARAM?

QUANTOS VOTOS CURUPIRA TEVE A MAIS QUE A CUCA?

QUANTOS VOTOS MULA SEM CABEÇA TEVE A MENOS QUE IARA?

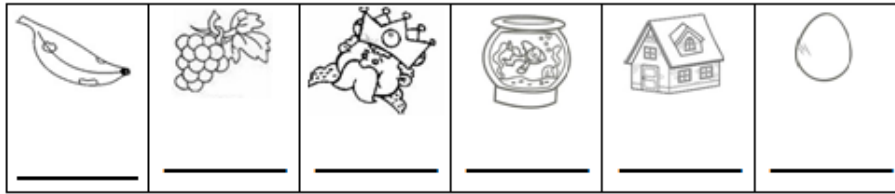
QUANTOS VOTOS IARA E SACI TIVERAM JUNTOS?

QUAL SUA LENDA DO FOLCLORE PREFERIDA?

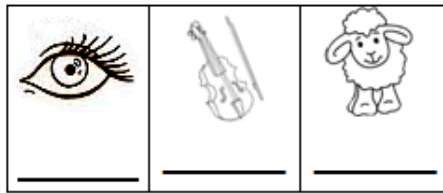
12/AGOSTO/2021 (QUINTA-FEIRA)
PORTUGUÊS

1 – RESPONDA AS ADIVINHAS. PARA SABER SE ACERTOU, ESCREVA A LETRA INICIAL DE CADA DESENHO BAIXO:


O QUE É, O QUE É? DEPOIS DE CHEIO NÃO SE VÊ.



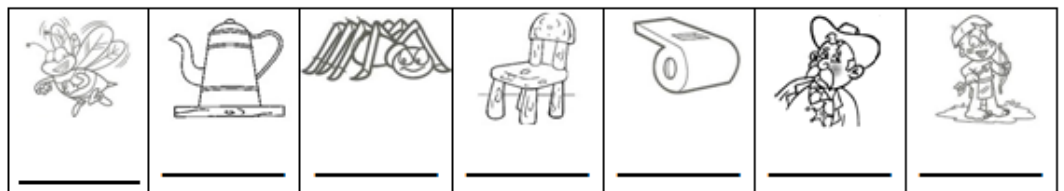
O QUE É, O QUE É? É UMA CASINHA SEM TRANCA E SEM JANELA?




O QUE É, O QUE É? CAI, CAI E NUNCA SE MACHUCA.




O QUE É, O QUE É? TEM COROA, MAS NÃO É REI, TEM ESPINHO, MAS NÃO É PEIXE?




O QUE É, O QUE É? QUANDO A GENTE FICA EM PÉ ELE FICA DEITADO E QUANDO A GENTE FICA DEITADO ELE FICA EM PÉ?




O QUE É, O QUE É? TEM CHAPÉU, MAS NÃO TEM CABEÇA, TEM BOCA, MAS NÃO FALA, TEM ASA, MAS NÃO VOA?




O QUE É, O QUE É? CORRE EM VOLTA DO MATO INTEIRO SEM SE MEXER?



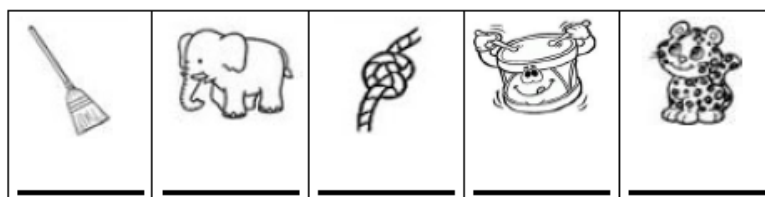
O QUE É, O QUE É? TEM CABEÇA, TEM DENTE, TEM BARBA, NÃO É BICHO E NÃO É GENTE?



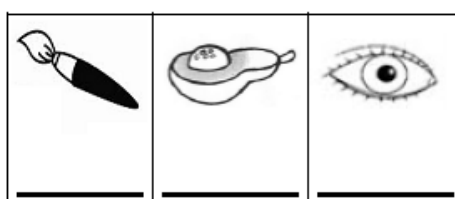
O QUE É, O QUE É? CAI EM PÉ E CORRE DEITADO?




O QUE É, O QUE É? PODE PASSAR DIANTE DO SOL SEM FAZER SOMBRA?



O QUE É, O QUE É? QUANTO MAIS QUENTE, MAIS FRESCO É?



O QUE É, O QUE É? É VERDE COMO O MATO, MAS NÃO É MATO, FALA COMO GENTE. MAS GENTE NÃO É?



EMEF Nicolas Thiago dos Santos Lofrani

Professoras: Terezinha / Thais / Gerusa / Solides

Ano/turma: 2º A (Manhã) / 2º B (Manhã) / 2º C (Tarde) / 2º D (Tarde)

SEMANA DE 16 À 20 DE AGOSTO/2021

Dia da semana	Rotina diária: descrição das atividades
Segunda- feira Data: 16/Agosto/21	LIVRO: Língua Portuguesa Ápis , páginas 38 e 39, Leitura Lenga-lenga. (Mediante a interação do professor) Sugestão de leitura: A Baleia Resmungona Link da leitura: https://www.youtube.com/watch?v=rxQTuKOGKRE
Terça-feira Data: 17/Agosto/21	MATEMÁTICA: Ler e responder as questões. Sugestão de leitura: Tudo tem seu tempo Link da leitura: https://www.youtube.com/watch?v=hmOtpGqx4nc ARTE: https://portaleducacao.hortolandia.sp.gov.br/index.php/artes
Quarta-feira Data: 18/Agosto/21	LIVRO: BURITI Mais História, páginas 32, 33, 34 e 35, O que você aprendeu. (Mediante a interação do professor) Sugestão de leitura: O Gigante que era dono do Jardim Link da leitura: https://www.youtube.com/watch?v=hmOtpGqx4nc INGLÊS: https://portaleducacao.hortolandia.sp.gov.br/index.php/ingles TEMA: OCCUPATIONS (Profissões) página 47.
Quinta-feira Data: 19/Agosto/21	PORTUGUÊS: Interpretação de texto, lista de palavras e caça palavras. Sugestão de leitura: Abrapracabra Link da leitura: https://www.youtube.com/watch?v=nwXGT47iEPQ EDUCAÇÃO FÍSICA: https://portaleducacao.hortolandia.sp.gov.br/index.php/ed-fisica
Sexta-feira Data: 20/Agosto/21	LIVRO: BURITI Mais Geografia, páginas 39, 40 e 41, O que você aprendeu. (Mediante a interação do professor) Sugestão de leitura: Achando a chave Link da leitura: https://www.youtube.com/watch?v=X1miAjzmBEY

17/AGOSTO/2021 (TERÇA-FEIRA)

MATEMÁTICA

1. RESOLVA AS CONTAS E DE ACORDO COM O CÓDIGO, DESCUBRA A RESPOSTA DA ADIVINHA.

O QUE É, O QUE É? TEM COROA, MAS NÃO É REI, TEM ESPINHO, MAS NÃO É PEIXE?

$$\begin{array}{r} \text{DU} \quad \text{DU} \quad \text{DU} \quad \text{DU} \quad \text{DU} \quad \text{DU} \quad \text{DU} \\ 12 \quad 24 \quad 21 \quad 45 \quad 87 \quad 56 \quad 38 \\ \hline +23 \quad +32 \quad +14 \quad +12 \quad -52 \quad -43 \quad -24 \end{array}$$

Códigos:

B = 56
C = 57
X = 13
I = 14
A = 35



Ajude o saci a descobrir os números que estão faltando no quadro abaixo:

1		3						10
	12			15			18	
						27		29
	32							40
					46			
			54				58	
61				65				
		73				77		
	82							89
91								100



3. SITUAÇÕES-PROBLEMA

OS ALUNOS DO 2º ANO FIZERAM UMA PESQUISA COM OS PAIS PERGUNTANDO QUAL ERA O SEU BRINQUEDO PREFERIDO NA SUA INFÂNCIA. CADA PAI RESPONDEU UM BRINQUEDO. OS BRINQUEDOS MAIS VOTADOS FORAM ESSES QUE PODEM SER VISTOS NA TABELA ABAIXO.

BRINQUEDOS	NÚMERO DE ALUNOS
PIPA	10
BONECA	7
CARRINHO	9
CORDA	5

Observe a tabela e responda:

Quantos pais escolheram carrinhos?

Que brinquedo obteve menos votos?

Que brinquedo teve mais votos?

Quantos pais foram entrevistados?

A DIRETORA DA ESCOLA QUER COMPRAR BRINQUEDOS QUE LEMBREM NOSSO FOLCLORE. O PIÃO FOI ESCOLHIDO, CADA PIÃO CUSTA R\$3,00. QUANTO ELA GASTARÁ PARA COMPRAR MEIA DÚZIA DE PIÕES?

Calcule:



4. O Lobisomem quer ver se você aprendeu mesmo as operações! Vamos lá?

$$\begin{array}{r} 65 \\ + 14 \\ \hline \end{array}$$

$$\begin{array}{r} 74 \\ + 25 \\ \hline \end{array}$$

$$\begin{array}{r} 46 \\ + 32 \\ \hline \end{array}$$

$$\begin{array}{r} 57 \\ - 45 \\ \hline \end{array}$$

$$\begin{array}{r} 86 \\ - 03 \\ \hline \end{array}$$



















$$\begin{array}{r} 98 \\ - 74 \\ \hline \end{array}$$



19/AGOSTO/2021 (QUINTA-FEIRA)

PORTUGUÊS

1 – COMPLETE O NOME DAS FIGURAS COM R OU RR E DEPOIS COPIE AS PALAVRAS ABAIXO:

 CACHO ___ O _____	 ___ APADU ___ A _____	 PE ___ A _____
 A ___ ANHA _____	 ___ I SADA _____	 CHO ___ O _____
 BA ___ ACA _____	 PI ___ ULITO _____	 SE ___ OTE _____
 XE ___ IFE _____	 CA ___ O _____	 BEZE ___ O _____
 BA ___ IGA _____	 CA ___ UAGEM _____	 SI ___ I _____
 BI ___ A _____	 BU ___ O _____	 JACA ___ É _____


2 – ESCOLHA 3 PALAVRAS QUE VOCÊ ESCREVEU E FORME FRASES:

FRASE 1: _____

FRASE 2: _____

FRASE 3: _____

3 – COMPLETE OS TEXTOS COM O APOIO DAS PALAVRAS:



ESTE É O _____.

ELE É UM NEGRINHO MUITO _____, QUE ADORA FAZER _____ COM AS PESSOAS.

SACI USA SEMPRE UM _____ VERMELHO NA CABEÇA E VIVE COM UM _____ NA BOCA.

ALÉM DISSO, ELE TEM UMA _____ SÓ.



O _____ É UM MENINO QUE VIVE NAS _____.

ELE É AMIGO DOS _____ E PROTEGE TODA A FLORESTA DE _____.

O CURUPIRA TEM CABELOS _____ E OS _____ VIRADOS PARA TRÁS.



O HOMEM VIRA _____ TODA VEZ QUE NASCE UM MENINO DEPOIS DE SETE FILHAS.

ELE APARECE EM SEXTA-FEIRA DE _____ CHEIA.

O LOBISOMEM É _____ E TEM _____ NO LUGAR DE UNHAS.

PÉS PERNA CURUPIRA LUA MATAS TRAVESSURA

LOBISOMEM CACHIMBO ANIMAIS GORRO PELUDO

CAÇADORES SACI LEVADO GARRAS VERMELHOS