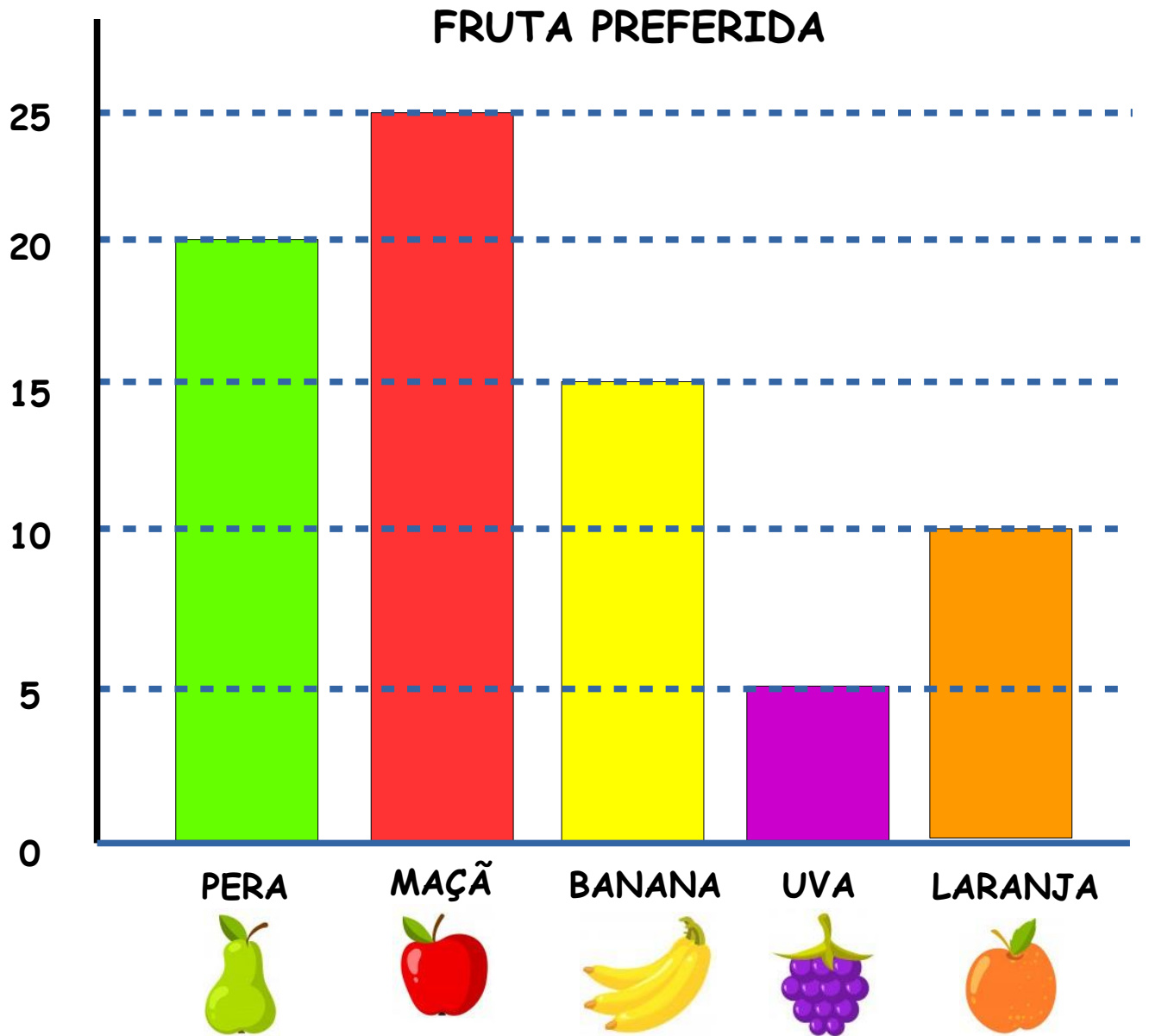







GRÁFICO



PEDRO FEZ UMA PESQUISA COM OS COLEGAS DA ESCOLA PARA SABER QUAL FRUTA SERIA A PREFERIDA ENTRE ELES. VEJA:



PREENCHA COM AS QUANTIDADES:

QUAL O TÍTULO DO GRÁFICO?

QUANTAS FRUTAS APARECEM NO GRÁFICO?

QUEM FEZ A PESQUISA E MONTOU O GRÁFICO?

QUAIS FRUTAS ELE COLOCOU NO GRÁFICO?

QUAL FRUTA TEVE MENOS ESCOLHAS?

QUAL FRUTA É A PREFERIDA ENTRE OS COLEGAS DE PEDRO?

QUAL DESSAS FRUTAS VOCÊ ESCOLHERIA?



Atividades Complementares para os alunos da Educação Especial (Inclusão)

Escola: EMEF NICOLAS THIAGO SANTOS LOFRANI

Professora AEE: Heloise Cristiane Guidolin dos Santos

Atividade: Gráfico das frutas

Objetivo: Observar os dados coletados e representá-los em tabelas simples, analisar e registrar o resultado encontrado.

NÃO ESQUEÇAM DE ENVIAR O REGISTRO PARA A PROFESSORA HELOISE, GOSTARIA MUITO DE VER COMO VOCÊS ESTÃO REALIZANDO AS ATIVIDADES !!

SE CUIDEM ...

ABRAÇOS !!

