

EMEF Nicolas Thiago dos Santos Lofrani

Professoras: Terezinha / Thais / Gerusa / Solides

Ano/turma: 2º A (Manhã) / 2º B (Manhã) / 2º C (Tarde) / 2º D (Tarde)


**SEMANA DE 08 À 10 DE SETEMBRO/2021**

Dia da semana	Rotina diária: descrição das atividades
<b>Segunda- feira</b> Data: 06/Setembro/21	<b>DIA PONTE</b>
<b>Terça-feira</b> Data: 07/Setembro/21	<b>FERIADO – INDEPENDÊNCIA DO BRASIL</b>
<b>Quarta-feira</b> Data: 08/Setembro/21	<b>LIVRO:</b> Língua Portuguesa Ápis, páginas 54, 55, 56 e 58, Texto Informativo: leitura e produção de texto. (Mediante a interação do professor) <b>Sugestão de leitura:</b> Os sete pares de sapatos da Princesa <b>Link da leitura:</b> <a href="https://www.youtube.com/watch?v=wW0pdsZ4H_k">https://www.youtube.com/watch?v=wW0pdsZ4H_k</a> <b>INGLÊS:</b> <a href="https://portaleducacao.hortolandia.sp.gov.br/index.php/ingles">https://portaleducacao.hortolandia.sp.gov.br/index.php/ingles</a>
<b>Quinta-feira</b> Data: 09/Setembro/21	<b>CIÊNCIAS:</b> Projeto Gota d'água – Água se economizar não vai faltar. Texto informativo, complete e forme frases sobre o uso consciente da água. <b>Sugestão de leitura:</b> A lagarta medrosa <b>Link da leitura:</b> <a href="https://www.youtube.com/watch?v=SZKyC8pT9sM">https://www.youtube.com/watch?v=SZKyC8pT9sM</a> <b>EDUCAÇÃO FÍSICA:</b> <a href="https://portaleducacao.hortolandia.sp.gov.br/index.php/ed-fisica">https://portaleducacao.hortolandia.sp.gov.br/index.php/ed-fisica</a>
<b>Sexta-feira</b> Data: 10/Setembro/21	<b>LIVRO:</b> MATEMÁTICA Ápis, páginas 30, 31, 32 e 33, Ordem dos Números. (Mediante a interação do professor) <b>Sugestão de leitura:</b> Um lugar chamado aqui <b>Link da leitura:</b> <a href="https://www.youtube.com/watch?v=s5orXqYaQ6Y">https://www.youtube.com/watch?v=s5orXqYaQ6Y</a>

09/SETEMBRO/2021 (QUINTA-FEIRA)

CIÊNCIAS

PROJETO GOTA D'ÁGUA



# ÁGUA

## SE ECONOMIZAR

### NÃO VAI FALTAR!

**NÃO DEIXE A TORNEIRA ABERTA QUANDO ESTIVER ESCOVANDO OS DENTES.**



UMA TORNEIRA ABERTA GASTA DE 12 A 20 LITROS/MINUTO

**LAVAR O CARRO COM MANGUEIRA É UM DESPÉRDICIO DE ÁGUA!**



LAVAR O CARRO COM UMA MANGUEIRA GASTA 600 LITROS DE ÁGUA. SÓ LAVE O CARRO UMA VEZ POR MÊS, COM BALDE DE 10 LITROS, PARA ENSABOAR E ENXAGUAR.

**ENSABOAR COM CHUVEIRO LIGADO NÃO É LEGAL!**



SE MOLHE, FECHÉ O CHUVEIRO, SE ENSABOE E DEPOIS ABRA PARA ENXAGUAR. NÃO FIQUE COM O CHUVEIRO ABERTO. O CONSUMO CAIRÁ DE 180 PARA 48 LITROS.

**NUNCA LAVE A CALÇADA COM MANGUEIRA.**

NA LIMPEZA DE QUINTAL E CALÇADA USE VASSOURA - SE PRECISAR UTILIZE A ÁGUA QUE SAI DO ENXÁGUE DA MÁQUINA DE LAVAR.



COMPLETE AS FRASES SOBRE A **ÁGUA** DE ACORDO COM AS IMAGENS



CASCÃO E ZÉ LELE VIRAM A ÁGUA DO \_\_\_\_\_ SUJO.



AO ESCOVAR OS DENTES MAGALI FECHA A \_\_\_\_\_.



CASCUDA TOMA \_\_\_\_\_ BEM RÁPIDO!



PARA ECONOMIZAR \_\_\_\_\_ MAGALI USA A VASSOURA.



NIMBUS GOSTA DE SENTIR A ÁGUA DA \_\_\_\_\_.



AS PLANTAS DO SÍTIO DO CHICO BENTO SÃO MOLHADAS COM O \_\_\_\_\_.

CRIE FRASES SOBRE A CONSCIENTIZAÇÃO DA ECONOMIA DA ÁGUA A PARTIR DAS IMAGENS:



\_\_\_\_\_

\_\_\_\_\_



\_\_\_\_\_

\_\_\_\_\_



\_\_\_\_\_

\_\_\_\_\_

EMEF Nicolas Thiago dos Santos Lofrani

Professoras: Terezinha / Thais / Gerusa / Solides

Ano/turma: 2º A (Manhã) / 2º B (Manhã) / 2º C (Tarde) / 2º D (Tarde)

**SEMANA DE 13 À 17/SETEMBRO/2021**

Dia da semana	Rotina diária: descrição das atividades
<b>Segunda-feira</b> Data: 13/Setembro/21	<b>LIVRO: BURITI Mais Ciências</b> , páginas 50, 51, 52 e 53, Elementos não vivos. (Mediante a interação do professor)  <b>Sugestão de leitura:</b> O gatinho preto e a lua  <b>Link da leitura:</b> <a href="https://www.youtube.com/watch?v=oMpXSPuTwMo">https://www.youtube.com/watch?v=oMpXSPuTwMo</a>
<b>Terça-feira</b> Data: 14/Setembro/21	<b>PORTUGUÊS:</b> Sinais de pontuação. Pontue as frases e o texto.  <b>Sugestão de leitura:</b> Quem quer jantar com o sapo?  <b>Link da leitura:</b> <a href="https://www.youtube.com/watch?v=6julRZaKvNo">https://www.youtube.com/watch?v=6julRZaKvNo</a>  <b>ARTE:</b> <a href="https://portaleducacao.hortolandia.sp.gov.br/index.php/artes">https://portaleducacao.hortolandia.sp.gov.br/index.php/artes</a>
<b>Quarta-feira</b> Data: 15/Setembro/21	<b>LIVRO: BURITI Mais História</b> , páginas 46, 47, 48, 49, 50 e 51, Viver em grupo. (Mediante a interação do professor)  <b>Sugestão de leitura:</b> Maria do Pranto  <b>Link da leitura:</b> <a href="https://www.youtube.com/watch?v=ztiqu5V_hzE">https://www.youtube.com/watch?v=ztiqu5V_hzE</a>  <b>INGLÊS:</b> <a href="https://portaleducacao.hortolandia.sp.gov.br/index.php/ingles">https://portaleducacao.hortolandia.sp.gov.br/index.php/ingles</a>
<b>Quinta-feira</b> Data: 16/Setembro/21	<b>MATEMÁTICA:</b> Material dourado; Dezena/Unidade; Situações-problema; Operações de adição e subtração. Ler e resolver as questões.  <b>Sugestão de leitura:</b> Quem será que era a mãe do bebê?  <b>Link da leitura:</b> <a href="https://www.youtube.com/watch?v=7tJvufAfaX4">https://www.youtube.com/watch?v=7tJvufAfaX4</a>  <b>EDUCAÇÃO FÍSICA:</b> <a href="https://portaleducacao.hortolandia.sp.gov.br/index.php/ed-fisica">https://portaleducacao.hortolandia.sp.gov.br/index.php/ed-fisica</a>
<b>Sexta-feira</b> Data: 17/Setembro/21	<b>LIVRO: BURITI Mais Geografia</b> , páginas 50, 51, 52 e 53, As pessoas trabalham. (Mediante a interação do professor)  <b>Sugestão de leitura:</b> Gildo  <b>Link da leitura:</b> <a href="https://www.youtube.com/watch?v=RPZXXuZxGJY">https://www.youtube.com/watch?v=RPZXXuZxGJY</a>




14/SETEMBRO/2021 (TERÇA-FEIRA)







PORTUGUÊS

TRABALHANDO COM OS SINAIS DE PONTUAÇÃO

USAMOS OS SINAIS DE PONTUAÇÃO PARA REPRESENTAR PAUSAS E ENTONAÇÕES DE VOZ QUE REPRODUZ A NOSSA FALA, NA ESCRITA.



A cartoon girl with a headband, glasses, and a cape is sitting cross-legged and holding a book. The book has a question mark, an exclamation mark, and a comma on it.

	<b>INTERROGAÇÃO</b> INDICA PERGUNTAS.
	<b>EXCLAMAÇÃO</b> INDICA SENTIMENTO DE SUSTO, ADMIRAÇÃO E OUTROS.
	<b>VÍRGULA</b> INDICA PEQUENA PAUSA, OU SEPARAÇÃO DE PALAVRAS NUMA FRASE.
	<b>PONTO</b> INDICA O FINAL DE UMA FRASE.
	<b>DOIS PONTOS</b> INDICA QUE ALGUÉM VAI FALAR.
	<b>TRAVESSÃO</b> INDICA QUE ALGUÉM ESTÁ FALANDO.

ATIVIDADES

- VAMOS PONTUAR AS FRASES.

A MENINA CAIU DA ESCADA

O GATO É MANCHADO

CADÊ O BOLINHO QUE DEIXEI AQUI

QUE MAÇÃ GOSTOSA

VOCÊ GOSTA DE MAÇÃ






FELIZ ANIVERSÁRIO



QUANTAS HORAS



DE QUEM É ESTE PAR DE MEIAS



OH, QUE SUSTO



EU GOSTO DE ESTUDAR



HOJE IARA PLANTOU

MARGARIDAS  ROSAS E VIOLETAS

- PONTUE O TEXTO.

IARA FOI À CASA DE DIEGO


CHEGANDO LÁ  IARA PERGUNTOU

DIEGO  VAMOS BRINCAR

DIEGO ACEITOU O

CONVITE E FOI BRINCAR

COM IARA




16/SETEMBRO/2021 (QUINTA-FEIRA)

MATEMÁTICA

Maurício ganhou uma dezena de bolinhas de gude e seu irmãozinho Pedro quer saber quantas bolinhas são. Ajude Maurício explicar para Pedro o que são dezenas.

1. Desenhe 01 dezena de bolinhas.



2. Quantas bolinhas você desenhou? \_\_\_\_\_

Agora, complete:

- 01 dezena ou \_\_\_\_\_ unidades.
- 02 dezenas ou \_\_\_\_\_ unidades
- 03 dezenas ou \_\_\_\_\_ unidades
- 04 dezenas ou \_\_\_\_\_ unidades
- 05 dezenas ou \_\_\_\_\_ unidades
- 06 dezenas ou \_\_\_\_\_ unidades
- 07 dezenas ou \_\_\_\_\_ unidades
- 08 dezenas ou \_\_\_\_\_ unidades
- 09 dezenas ou \_\_\_\_\_ unidades



3. Quem é maior?

32 ou 23? \_\_\_\_\_

94 ou 49? \_\_\_\_\_

67 ou 67? \_\_\_\_\_

71 ou 17? \_\_\_\_\_

84 ou 48? \_\_\_\_\_



4. Descubra!

a) Qual é o maior número formado por 2 algarismos?

\_\_\_\_\_

b) E o menor?

\_\_\_\_\_

### SITUAÇÕES-PROBLEMA.

1. Mamãe foi ao sacolão e comprou:

08 cenouras

02 alfaces

06 tomates



Quantos itens ela comprou ao todo?

\_\_\_\_\_



2. Ela levou R\$ 25,00 e gastou R\$ 18,00.  
Quanto sobrou?

4. Com o troco ela irá comprar 04 bolinhos  
que custam R\$ 1,00 cada. Quanto irá sobrar?

1. RESOLVA AS OPERAÇÕES:

$$\begin{array}{r} 11 \\ +12 \\ \hline \end{array}$$

$$\begin{array}{r} 14 \\ +15 \\ \hline \end{array}$$

$$\begin{array}{r} 21 \\ +23 \\ \hline \end{array}$$

$$\begin{array}{r} 31 \\ +13 \\ \hline \end{array}$$

$$\begin{array}{r} 25 \\ +2 \\ \hline \end{array}$$

$$\begin{array}{r} 28 \\ -16 \\ \hline \end{array}$$

$$\begin{array}{r} 23 \\ -12 \\ \hline \end{array}$$

$$\begin{array}{r} 67 \\ -16 \\ \hline \end{array}$$

$$\begin{array}{r} 64 \\ -32 \\ \hline \end{array}$$

