

EMEF PROFESSOR CLÁUDIO ROBERTO MARQUES

PROFESSORES: PAULA (5ªA), KEILA (5ªB), ALCIDES (5ªC) E SAMUEL (5ªD).

Leituras diárias:

2ª A primeira pérola - <https://drive.google.com/file/d/1FuMjhueQO5hQWVnpWBMNxUE6sa9uuyS7/view?usp=sharing>









3ª Querendo dá-se um jeito - <https://drive.google.com/file/d/1FPgfi0GHVGRaWn9G9AhfLhSXXHz81n51/view?usp=sharing>

4ª A dama do retrato - https://drive.google.com/file/d/1L2_UWfX2w8rPDHlvmcqv038mNAAtYAHho/view?usp=sharing

5ª FERIADO

6ª PONTO FACUTATIVO



Segunda-feira Data: 25/10	Terça-feira Data: 26/10	Quarta-feira Data: 27/10	Quinta-feira Data: 28/10 FERIADO	Sexta-feira Data: 29/10 PONTO FACUTATIVO
PORTUGUÊS:	MATEMÁTICA:	CIÊNCIAS	↘	↘
Propaganda – continuação leitura, vídeo explicativo, imagem e criação de uma propaganda;	Revisando: Tabelas e gráficos; Exercícios.	Revisão dos aparelhos digestivo, circulatório, respiratório e urinário – questões no caderno.		
ATIVIDADE DE ARTE	ATIVIDADE DE INGLÊS	ATIVIDADE DE ED. FÍSICA		INTERAÇÃO PROFESSOR/ALUNO:
 https://ensinofundamentalhortolandia.blogspot.com/search/label/Arte	 https://ensinofundamentalhortolandia.blogspot.com/search/label/E.M.E.F%20Prof%20Claudio%20Roberto%20Marques	 https://ensinofundamentalhortolandia.blogspot.com/search/label/EDUCA%C3%87%C3%83O%20F%C3%8DSICA		TODA SEMANA O PROFESSOR IRÁ ENTRAR EM CONTATO COM SEU FILHO PARA CONVERSAR, DIALOGAR, RECEBER DEVOLUTIVAS DAS ATIVIDADES.
				

PLANEJAMENTO SEMANAL PARA OS 5º ANOS

Professores: Paula (5º A), Keila (5º B), Alcides (5º C), Samuel (5º D)

25/10/2021 A 29/10/2021

SEGUNDA-FEIRA 25/10/21

Língua Portuguesa

Agora que sabemos um pouco mais sobre propaganda vamos propor um desafio!

Assista ao vídeo com dicas de reaproveitamento de materiais recicláveis em brinquedos: <https://youtu.be/gdrMwkFo6Ao> .

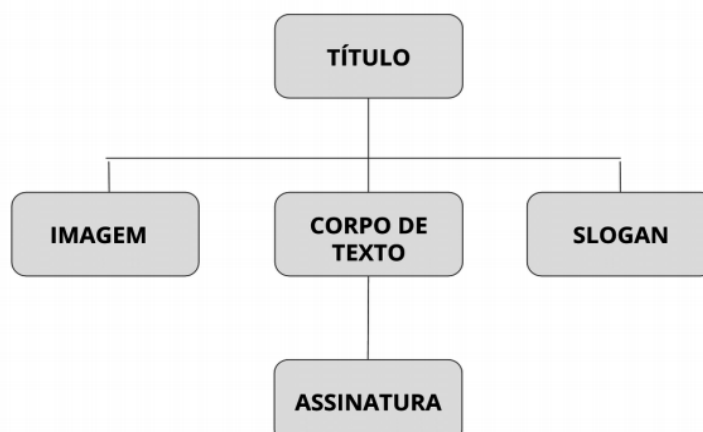
Confeccione um **produto** (brinquedos, utilidades, etc) utilizando apenas materiais recicláveis e depois faça uma **PROPAGANDA** do seu produto.

Veja este vídeo em que alunos criaram uma propaganda para uma loja de celulares, eles utilizam cartazes, vídeos e folhetos para a divulgação do local.

<https://youtu.be/jah8vhrzSnw>

Faça um cartaz, vídeo ou folheto com a propaganda do seu produto, mas não esqueça a estrutura da propaganda, pois ela deve conter os seguintes itens:

Estrutura do gênero textual propaganda



Caso opte pelo vídeo é só mandar no particular pelo Whatsapp. Capriche!!!

TERÇA-FEIRA 26/10/21

Matemática

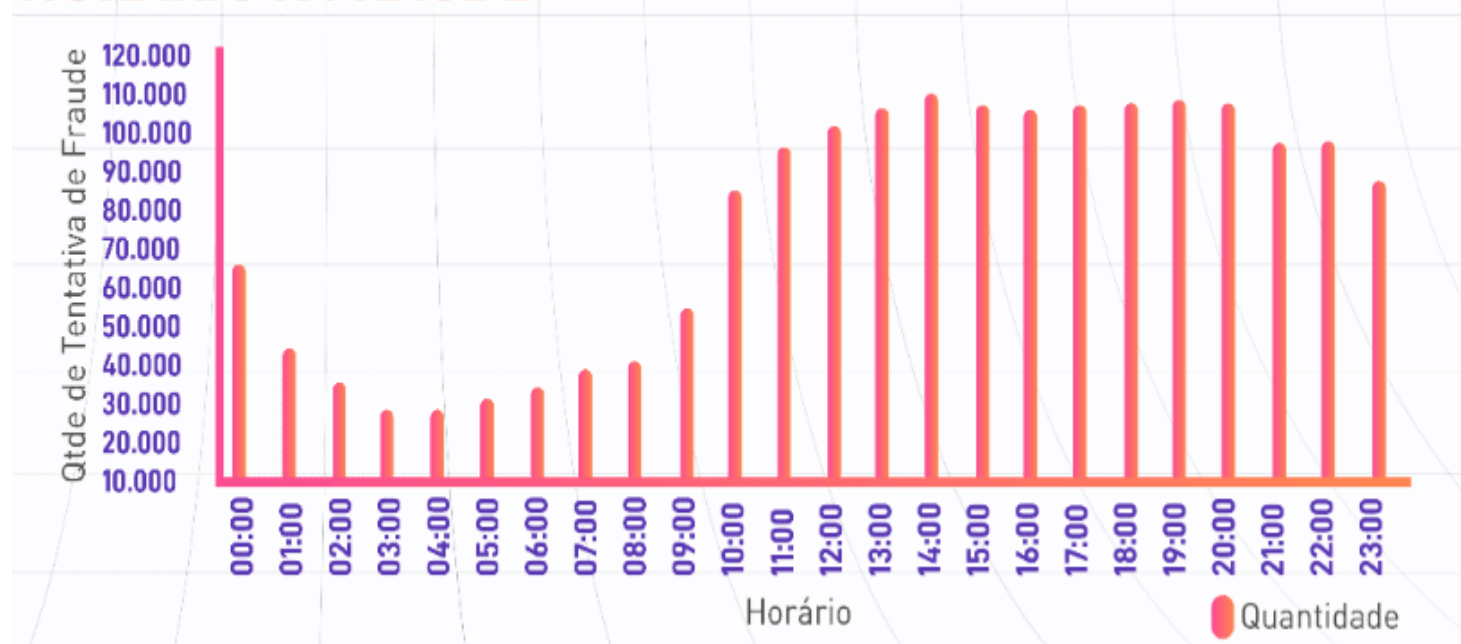
OBSERVE O GRÁFICO, EM SEGUIDA RESPONDA:

DE ACORDO COM O SITE INFOMONEY.COM, NO ANO DE 2020, SÃO PAULO BATEU TODOS OS RECORDS NO COMÉRCIO ONLINE, ELETRÔNICO.

RESPONDA:

1- QUAIS OS TRÊS HORÁRIOS COM MAIS NÚMEROS DE FRAUDES?

HORÁRIO X FRAUDE



FONTE: <https://www.infomoney.com.br/consumo/golpes-financeiros-crescem-quase-54-em-2020-diz-estudo-veja-dias-e-horarios-preferidos-dos-criminosos/>

A _____

B _____

C _____

2- DE ACORDO COM OS TRÊS HORÁRIOS QUE VOCÊ IDENTIFICOU, QUAL NÚMERO DE FRAUDES QUE FORAM FEITAS.

A _____

B _____

C _____

2-DE ACORDO COM O SITE DO IBGE OBSERVE O GRÁFICO DA POPULAÇÃO DE HORTOLÂNDIA:

POPULAÇÃO	
População estimada [2021]	237.570 pessoas
População no último censo [2010]	192.692 pessoas
Densidade demográfica [2010]	3.094,16 hab/km²

TRABALHO E RENDIMENTO	
-----------------------	--


EDUCAÇÃO	
----------	--

ECONOMIA	
----------	--

SAÚDE	
-------	--

TERRITÓRIO E AMBIENTE	
-----------------------	--

[Notas & Fontes](#)



FONTE: <https://cidades.ibge.gov.br/brasil/sp/hortolandia/pesquisa/39/30279?tipo=ranking&indicador=78159>

A- QUAL A POPUÇÃO DE HORTOLÂNDIA NO ANO DE 2010, DE ACORDO COM O CENSO?

RESPOSTA _____

B- DE ACORDO COM O CENSO, QUAL O NÚMERO DA POPULAÇÃO ESTIMADA EM 2021?

RESPOSTA _____

C- O GRÁFICO DEMONSTRA QUE HORTOLÂNDIA CRESCEU QUAL O NÚMERO DE NOVOS HABITANTES A PARTIR DE 2010?

RESPOSTA _____

QUARTA-FEIRA 27/10/21

Ciências

Queridos alunos, nas últimas aulas de ciências estudamos sobre os aparelhos: digestivo, circulatório, respiratório e urinário. Vimos como eles são

formados e suas funções. Nesta aula nós vamos fazer uma recordação dessa matéria, respondendo no caderno as perguntas abaixo:

01 – Como é formado o aparelho digestivo?

02 – Qual é a sua função?

03 – Como é formado o aparelho circulatório?

04 – Qual a sua principal função?

05 – Como é formado o aparelho respiratório?

06 – Qual a sua principal função?

07 - O aparelho urinário e formado:

08 - Qual é a sua função?

09 – Pesquise recorte e cole no caderno imagens que representem os aparelhos estudados.

QUINTA-FEIRA 28/10/21

História - FERIADO

SEXTA-FEIRA 29/10/21

GEOGRAFIA – PONTO FACUTATIVO