




EMEF PROFESSOR CLÁUDIO ROBERTO MARQUES  
 PROFESSORAS: Andréia R. (3•A), Andreia P. (3•B), Ivone (3•C) e Joyce (3•D).

Atividades de 03 a 05 de novembro

<b>Leituras diárias:</b>				
2ª - Ponto facultativo 3ª - Feriado 4ª - <a href="#">NAO ABRA ESTE LIVRO.pdf</a> 5ª - <a href="#">NÃO ABRA ESTE LIVRO.pdf</a> 6ª - <a href="#">NÃO ABRA ESTE LIVRO.pdf</a>				
<b>Segunda-feira</b> Data: 01/11	<b>Terça-feira</b> Data: 02/11	<b>Quarta-feira</b> Data: 03/11	<b>Quinta-feira</b> Data: 04/11	<b>Sexta-feira</b> Data: 05/11
<b>PONTO FACULTATIVO:</b>	<b>FERIADO:</b>	<b>PORTUGUÊS:</b> Ler o enunciado com atenção e fazer as atividades propostas.	<b>MATEMÁTICA</b> Fazer as atividades propostas com atenção.	<b>CIÊNCIAS</b> Ler o texto com atenção e fazer as atividades propostas.
<b>Que tal fazer uma atividade de arte e exercitar a criatividade?</b> Dê uma olhadinha na atividade de arte em nosso Blog. Só acessar o link abaixo:  <a href="https://ensinofundamentalhortolandia.blogspot.com/search/label/Arte">https://ensinofundamentalhortolandia.blogspot.com/search/label/Arte</a>	<b>Hoje é dia de aprender uma nova língua:</b> Vamos estudar inglês! Dê uma olhadinha no Blog, na aula que a Teacher preparou para você! Só acessar o link abaixo:  <a href="https://ensinofundamentalhortolandia.blogspot.com/search/label/E.M.E.F%20Prof%20Claudio%20Roberto%20Marques">https://ensinofundamentalhortolandia.blogspot.com/search/label/E.M.E.F%20Prof%20Claudio%20Roberto%20Marques</a>	<b>Que tal se exercitar um pouquinho?</b> Dê uma olhadinha no Blog, na atividade preparada pelo professor de educação física! Só acessar o link o link abaixo:  <a href="https://ensinofundamentalhortolandia.blogspot.com/search/label/EDUCA%C3%87%C3%83O%20F%C3%84SICA">https://ensinofundamentalhortolandia.blogspot.com/search/label/EDUCA%C3%87%C3%83O%20F%C3%84SICA</a>	<b>INTERAÇÃO PROFESSOR/ALUNO:</b>	



EMEF PROF. CLÁUDIO ROBERTO MARQUES


PROFESSORAS: Andréia R. (3º A) Andréia F. (3º B) Ivone (3º C) Joyce (3º D)

ROTEIRO DE ESTUDOS: SEMANA DO DIA 03/11/2021 A 05/11/2021

QUARTA - FEIRA, 03 DE NOVEMBRO - PORTUGUÊS

Você é o dono da história!

Crie uma história bem bacana em que você precisa da ajuda do homem aranha, não esqueça de colocar as pontuações, letras maiúsculas nos inícios dos parágrafos. Seu texto deve ter 3 parágrafos com 3 linhas cada.



Título: \_\_\_\_\_

---

---

---

---

---

---

---

---

---

---

Leitura:

GALINHA
NINHO
LINHA
RAINHA
MANHA
LENHA
COZINHA
MINHA
OVINHO

TENHO
BANHEIRO
DINHEIRO
PINHEIRO
VINHO
CAMINHÃO
VIZINHO
UNHA
FOFINHO

PATINHO
GATINHO
PATINHO
RATINHO
NENHUMA
MINHOCA
AMANHÃ
CARINHO
PEITINHO

JOANINHA
SONHO
PINHA
CAMINHO
BANHO

1 - Complete com NHA - NHE - NHI - NHO - NHU

GALI ____
NI ____
LI ____
RAI ____
MA ____
LE ____
COZI ____
MI ____
OVI ____

TE ____
BA ____ IRO
DI ____ IRO
PI ____ IRO
VI ____
CAMI ____
vizi ____
U ____
FOFI ____

PATI ____
GATI ____
PATI ____
RATI ____
NE ____ MA
MI ____ CA
nia< ____
CARJ ____
PEITI ____

JOANI ____
BA ____
SO ____
PI ____
CAMI ____

2 - Forme frases com as seguintes palavras:

Caminhão: \_\_\_\_\_

Rainha: \_\_\_\_\_

Ninho: \_\_\_\_\_

3 - Procure no caça palavras o nome de cada desenho abaixo:

COCAMINHÃOWEIN  
 QDYMLULUZINHAX  
 ULÁGAFANHOTOFA  
 ECOZINHAAHZNVNH  
 PINHEIROPADAIR  
 AÓJOANINHAJRN  
 QMINHOC AOITIOC  
 ASFARINHANINHO  
 COZINHEIROBHHE  
 TNINHOPVINHACO  
 HÁSSARDINHAERD  
 PEPINTINHOIBTI  
 QUINHOC AOITOOç  
 XHSBARARHAOXTA


1- Observe a tabela abaixo:

Um conceituado ginásio de esportes vendeu ingressos para o Campeonato de Basquete que acontecerá nos seguintes dias:	
INGRESSOS	VENDIDOS
28/10	120
29/10	158
30/10	109
31/10	355
01/11	266
02/11 - FINAL	587



Responda:

- Quantos ingressos foram vendidos entre os dias 28 e 31/10?
- Qual o dia vendeu mais ingressos?
- Qual a diferença na venda de ingressos entre o primeiro dia do campeonato e o último?
- Sabendo que no dia 31/10 faltaram 27 torcedores, quantos torcedores compareceram ao ginásio?
- Helena comprou ingressos para os 06 dias de jogos. Sabendo que cada ingresso custava R\$ 3,00 e que na grande final custaria R\$ 5,00, quanto ela gastou?
- Pablo foi ao ginásio somente para a final. Pagou ingressos para ele e os seus 04 filhos. Quanto gastou?
- No dia da final Carlos gastou R\$10,00 em ingressos, R\$22,00 em sorvetes, R\$ 65,00 em transporte. Quanto gastou?
- No dia 28/10 a partida começou às 19h15 e no dia 02/11, às 10h. Marque no relógio:



Observando o céu e a noite



Olhamos o céu à noite para observar a Lua e as suas fases, as estrelas, a presença de nuvens e, com sorte, estrelas cadentes. Isso tudo a olho nu, mas somente em regiões mais afastadas da cidade e que não estejam completamente iluminadas ou tomadas pela poluição. Podemos fazer observações astronômicas se usarmos os instrumentos adequados.

Os corpos celestes mais próximos que você pode enxergar são o Sol e Lua, além daqueles que riscam o céu, de vez em quando, conhecidos como estrelas cadentes. Na realidade, não são estrelas, mas meteoros, ou seja, fragmentos rochosos, na maioria das vezes do tamanho de um pedaço de giz.

Observando com atenção os pontos brilhantes no céu, você nota que nem todas cintilam como as estrelas. Alguns apresentam uma luz firme, sem piscar. São os planetas, astros que, como a Terra, giram em torno do Sol. Em conjunto com o Sol, eles formam o sistema solar.

Olhando para o céu, à noite, você verifica que seu aspecto muda ao longo do ano.

Fon fe: [https://pt.hhanacademy.org/realidade\\_simulada.com](https://pt.hhanacademy.org/realidade_simulada.com)  
<https://www.portalsaofrancisco.com.br/astronomia/observando-o-ceu>

**Para saber mais assista o vídeo disponível em:**



[\\_https://youtu.be/Nux\\_3PVdo9U](https://youtu.be/Nux_3PVdo9U)

Leia o texto com atenção e complete:

A - Olhando para o céu à noite podemos ver \_\_\_\_\_ e  
\_\_\_\_\_

B - Você acredita que é possível termos a mesma visão do céu de uma cidade no interior e o de uma cidade grande? Justifique a sua resposta.

R: \_\_\_\_\_  
\_\_\_\_\_  
\_\_\_\_\_