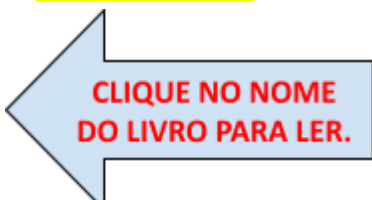









EMEF PROFESSOR CLÁUDIO ROBERTO MARQUES

PROFESSORAS: KARINE (2º A) CRIS (2º B) ROSELI (2º C) ROSEMERE (2º D)

Leituras diárias:

- 2ª: [BALAS, BOMBONS, CAMELOS](#)
- 3ª: [BALAS, BOMBONS, CAMELOS](#)
- 4ª: [BALAS, BOMBONS, CAMELOS](#)
- 5ª: [A ESQUISITA ARANHA RITA](#)
- 6ª: [A JOANINHA VAIDOSA](#)



Segunda-feira Data: 24/05	Terça-feira Data: 25/05	Quarta-feira Data: 26/05	Quinta-feira Data: 27/05	Sexta-feira Data: 28/05
<p>PORTUGUÊS:</p> <p>GÊNERO TEXTUAL: BILHETE.</p>	<p>MATEMÁTICA:</p> <p>APRENDENDO SOBRE MEDIDAS.</p>	<p>HISTÓRIA:</p> <p>DOCUMENTOS PESSOAIS: RG.</p>	<p>GEOGRAFIA:</p> <p>EDUCAÇÃO NO TRÂNSITO.</p>	<p>CIÊNCIAS:</p> <p>MOVIMENTO DO SOL E AS SOMBRAS.</p>
<p>ATIVIDADE DE ARTE</p> <p></p> <p>https://ensinofundamentalhortolandia.blogspot.com/search/label/Arte</p> <p></p>	<p>ATIVIDADE DE INGLÊS</p> <p></p> <p>https://ensinofundamentalhortolandia.blogspot.com/search/label/E.M.E.F%20Prof%20Claudio%20Roberto%20Marques</p> <p></p>	<p>ATIVIDADE DE ED. FÍSICA</p> <p></p> <p>https://ensinofundamentalhortolandia.blogspot.com/search/label/EDUCA%C3%87%C3%83O%20F%C3%8DSICA</p> <p></p>	<p>PROJETO LEITURA</p> <p>OBS:</p> <p>A LEITURA SERÁ ENCAMINHADA DIARIAMENTE POR WHATSAPP PELO PROFESSOR (A) DO (A) SEU FILHO.</p>	<p>INTERAÇÃO PROFESSOR/ALUNO:</p> <p>TODA SEMANA O PROFESSOR IRÁ ENTRAR EM CONTATO COM SEU FILHO PARA CONVERSAR, DIALOGAR, RECEBER DEVOLUTIVAS DAS ATIVIDADES.</p> <p></p>

EMEF PROFESSOR CLÁUDIO ROBERTO MARQUES

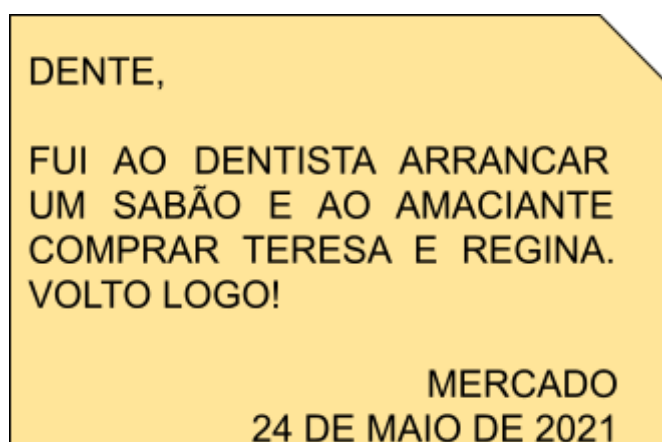
PROFESSORAS: KARINE (2º A) CRIS (2º B) ROSELI (2º C) ROSEMERE (2º D)

ROTEIRO DE ESTUDOS: SEMANA DO DIA 17/05/2021 A 21/05/2021

**SEGUNDA FEIRA, 24 DE MAIO DE 2021
PORTUGUÊS**

VOCÊ SE LEMBRA COMO É UM BILHETE?

OBSERVE O BILHETE ABAIXO:



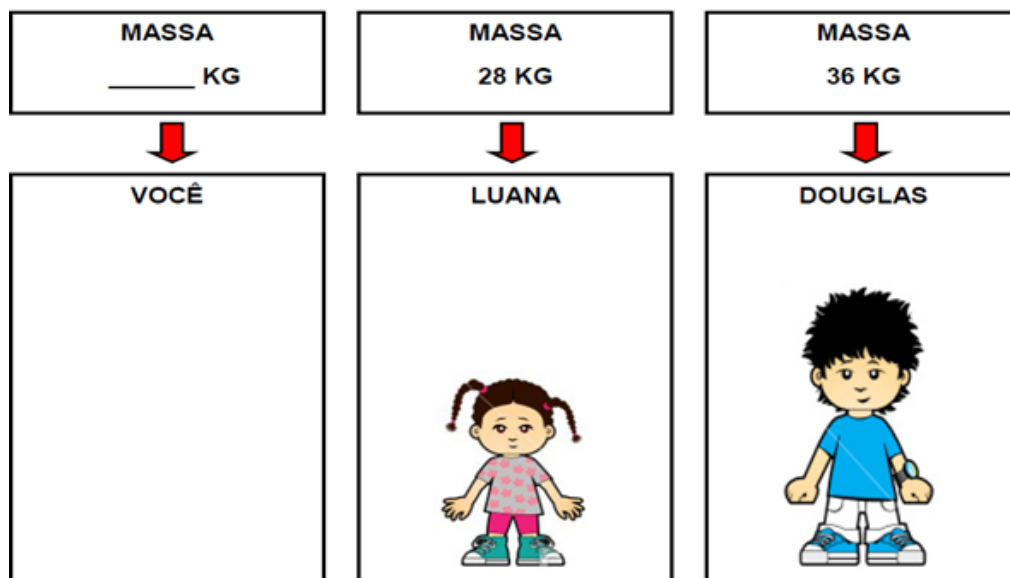
AGORA REESCREVA TROCANDO AS PALAVRAS DE LUGAR PARA QUE FAÇA SENTIDO.

**TERÇA FEIRA, 25 DE MAIO DE 2021
MATEMÁTICA**

ESSA SEMANA CONTINUAREMOS A APRENDER SOBRE MEDIDAS, PORTANTO REVEJA O VÍDEO DA SEMANA PASSADA E FAÇA A ATIVIDADE A SEGUIR:

 [CLIQUE APRENDENDO SOBRE MEDIDAS.](#)

ESTAS CRIANÇAS SUBIRAM NA BALANÇA PARA SABER QUAL A MASSA DELES. PREENCHA OS SEUS DADOS E RESPONDA ÀS PERGUNTAS RESOLVENDO DO SEU JEITO:



1) QUEM TEM A MAIOR MASSA?

2) E A MENOR MASSA?

3) QUANTOS KG FALTAM PARA A LUANA TER A MESMA MASSA DO DOUGLAS?

QUARTA FEIRA, 26 DE MAIO DE 2021
HISTÓRIA

OLÁ CRIANÇA, HOJE VAMOS APRENDER MAIS UM POUCO SOBRE NOSSOS DOCUMENTOS PESSOAIS, VAMOS ASSISTIR MAIS UM VÍDEO? ACESSE AO LINK ABAIXO:

CLIQUE  <https://youtu.be/Z6uFg1f47nw>



1- ESSE É UM MODELO DE RG:



AGORA NO SEU CADERNO OU EM UMA FOLHA SULFITE, CONFECCIONE O SEU RG, SE VOCÊ JÁ POSSUI USE-O COMO MODELO, VAMOS LÁ CAPRICHE!!

*** MANDE UMA FOTO DA ATIVIDADE ***


**QUINTA FEIRA, 27 DE MAIO DE 2021
GEOGRAFIA**

OLÁ CRIANÇAS, HOJE VAMOS CONTINUAR APRENDENDO SOBRE O TRÂNSITO.

ASSISTA AO VÍDEO ABAIXO CLICANDO NO LINK:

CLIQUE  <https://youtu.be/xV2Gw3QX1bs>





1- DESENHE E PINTE NO SEU CADERNO O SEMÁFORO PARA CARROS NAS CORES INDICADAS:

2- AS PLACAS DE TRÂNSITO SERVEM PARA ORIENTAR OS MOTORISTAS E OS PEDESTRES, DESENHE E ESCREVA PARA QUE SERVEM ESSAS PLACAS, PESQUISE COM A FAMÍLIA:



**SEXTA FEIRA, 28 DE MAIO DE 2021
CIÊNCIAS**

VAMOS CONTINUAR A EXPLORAR O SOL E TUDO QUE ACONTECE AO SEU REDOR. HOJE VEREMOS O MOVIMENTO DO SOL E AS SOMBRAS.

O MOVIMENTO DO SOL E AS SOMBRAS



DURANTE O DIA, COM O MOVIMENTO DO SOL, AS SOMBRAS TAMBÉM SE MOVIMENTAM.

AO LONGO DE UM DIA, A SOMBRA É MÁXIMA NO NASCER E NO POR DO SOL, E É MÍNIMA AO MEIO-DIA.

ISSO EXPLICA AS DIFERENÇAS NO TAMANHO DAS SOMBRAS NO DECORRER DO DIA (MANHÃ, MAIS COMPRIDA; AO MEIO DIA QUASE NÃO SE OBSERVA A SOMBRA; À TARDE, MAIS COMPRIDA), DEVIDO À POSIÇÃO APARENTE DO SOL NO CÉU.

VEJA O VÍDEO EXPLICATIVO A SEGUIR E DEPOIS FAÇA A ATIVIDADE;

CLIQUE  [Terra e Universo.](#)



1) AGORA É SUA VEZ, OBSERVE A POSIÇÃO DO SOL E PINTE A SOMBRA DO BONECO NO CHÃO.

