

EMEF PROFESSOR CLÁUDIO ROBERTO MARQUES

PROFESSORES: Nice (4º A), Cida (4º B), Renan (4º C) e Teresinha (4º D)

4º anos - 2021

Leituras diárias:

- 2ª [O Arco íris](#)
- 3ª [A mercearia da dona Maria](#)
- 4ª [A galinha que sabia ler](#)
- 5ª [Quando a minha escola abrir](#)
- 6ª [A estrelinha do mar](#)



PROFESSORES: Nice (4º A), Cida (4º B), Renan (4º C) e Teresinha (4º D)

ROTEIRO DE ESTUDOS - DE 28/06 a 02/07 DE 2021

Querido (a) aluno (a) desejamos a você e sua família uma ótima semana!

LÍNGUA PORTUGUESA – SEGUNDA – FEIRA 28 DE JUNHO DE 2021

Vamos fazer um estudo sobre substantivos no decorrer de algumas semanas. Fique ligado!



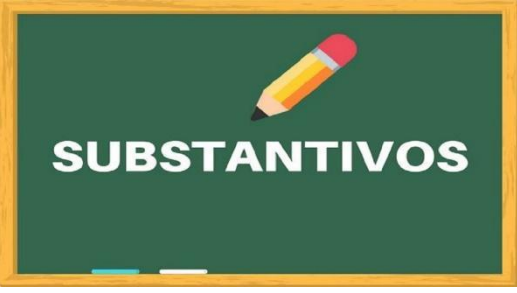
Fonte da imagem: https://www.youtube.com/watch?v=f5BNtNMV_Cw

Antes de aprofundar no assunto vamos lembrar o que é substantivo:

Substantivos são palavras que dão nome aos seres em geral: pessoas, animais, lugares, objetos, vegetais, fenômenos, sentimentos, divindades, entre outros. É tudo que pode ser visto, pego ou sentido. Veja alguns exemplos de substantivos:

João – Brasil – cachorro – carro – laranja – vento – amor – sol – chuva

Classificação - Os substantivos são classificados em nove (9) tipos. E já conhecemos alguns deles. Veja a classificação:

	próprio	comum
	simples	composto
	concreto	abstrato
	primitivo	derivado
		coletivo

Clique no link e aprenda mais: <https://www.youtube.com/watch?v=BnzVj-5DuiI>

1. Organize os substantivos no quadro abaixo. Siga o exemplo:

Hortolândia	fogão	Marcos	arroz	caderno	morcego	Maria
Europa	macarrão	Brasília	panela	tomate	São Paulo	
Lucas	cavalo	Ana	morango	zebra	tubarão	cadeira

TUDO TEM NOME

LUGARES	PESSOAS	OBJETOS	ANIMAIS	ALIMENTOS
Europa	Ana	cadeira	zebra	arroz


Hoje vamos aprender sobre substantivos simples e composto:

- **Os substantivos simples** são formados por apenas uma palavra. Exemplo: cachorro, sol, arco, chuva, roupa
- **Os substantivos compostos** são formados por duas ou mais palavras. E podem ter hífen (-) ou não. Exemplos: Cachorro-quente, arco-íris, guarda-chuva, girassol (sem hífen)

Clique no link e aprenda mais: <https://www.youtube.com/watch?v=-QG1TwWSO48>

2. Transforme os substantivos simples em substantivos compostos.

SIMPLES	COMPOSTO
moleque	Pé-de-moleque
sol	
roda	
alto	
recém	
tempo	
flor	
couve	
roupa	



MATEMÁTICA – TERÇA-FEIRA, 29 DE JUNHO DE 2021



1-Observe a multiplicações e faça o mesmo no seu caderno: **6x4=24 ou 4x6=24**

- a) $5 \times 3 =$ _____ ou _____
b) $4 \times 2 =$ _____ ou _____
c) $7 \times 3 =$ _____ ou _____
d) $8 \times 4 =$ _____ ou _____
e) $9 \times 6 =$ _____ ou _____

2-Resolva as situações-problemas em seu caderno:

- a) Miguel tem 1centena+ 2 dezenas + 8 unidades de lápis de cor, seu amigo João possui o triplo dessa quantidade. Quantos lápis de cor João possui?

C	D	U

Resposta: _____

- b)- Um prédio tem 92 andares e em cada andar possui 8 janelas. Quantas janelas possui esse prédio?

C	D	U

Resposta: _____

3- Resolva as operações no seu caderno e pinte da mesma cor os resultados iguais:

$3 \times 300 =$	$300 + 300 =$	2centenas +7dezenas= $9 \times 7 =$	$5 \times 50 =$
$50 + 50 + 50 + 50 + 50 =$	1562	$200 + 70 =$	$300 + 300 + 300 =$
$7 + 7 + 7 + 7 + 7 + 7 + 7 + 7 + 7 =$	$8 \times 5 =$	$9 \times 6 =$	$1000 + 500 + 60 + 2 =$
1 unidade de milhar+5centenas+6 dezenas +2unidades= $9 \times 9 =$			$5 \times 8 =$

4) Resolva as multiplicações em seu caderno:

a) 79 b) 126 c) 215 d) 191 e) 287 f) 640
 X5 x6 x3 X7 x4 x5

CIÊNCIAS- QUARTA-FEIRA, 30 DE JUNHO DE 2021

A alimentação dos seres vivos


Na natureza, existem animais que só comem plantas, enquanto outros comem animais e plantas. Dessa forma podemos classificá-los basicamente em:



Fontes: www.g1.globo.com



<https://br.rbth.com/>



<https://www.campograndenews.com.br/>

- **Carnívoros:** são os animais que comem principalmente carne. Eles são animais caçadores, como o lobo, a águia, a cobra e o tigre.
- **Herbívoros:** são os animais que comem plantas, como a zebra, a

girafa, o boi, o cavalo, a cabra, o coelho.

- **Onívoros:** são os animais que comem plantas e outros animais. O porco, o urso e o ser humano são animais onívoros.

Como podemos ver, os animais necessitam se alimentar de outros seres, já que não produzem seu alimento. Já as plantas não comem: elas são capazes de produzir seu próprio alimento.

Agora observe a ilustração:



O leão come a zebra, que come o capim: Essa é uma cadeia alimentar. As setas indicam quem é alimento para quem.

As cadeias alimentares são escritas da seguinte maneira:

Planta → zebra → leão

1) Agora responda:

- a) O leão come carne. O leão é _____.
- b) O coelho come ervas. O coelho é _____.
- c) O menino come animais e vegetais. O menino é _____.

2. Represente a cadeia alimentar descrita por cada frase.

Veja este exemplo:

A águia come a ave que come os insetos que comem plantas.

Plantas → insetos → ave → águia

- a) A raposa come coelhos que comem os vegetais. _____.
- b) O leão come a girafa que come a grama. _____.
3. Escreva uma cadeia alimentar da qual você faz parte.

GEOGRAFIA– QUINTA-FEIRA, 01 DE JULHO DE 2021

Zonas de iluminação da Terra

O planeta Terra tem forma esférica. Da inclinação de seu eixo de rotação e do seu movimento de translação, cada porção da superfície terrestre é iluminada e aquecida com uma intensidade diferente.

Por causa dessa diferença de iluminação e aquecimento, temos algumas zonas de iluminação no planeta que são:

- **Zona tropical:** áreas que recebem luz solar de forma praticamente vertical em sua superfície, o fato produz regiões com temperaturas elevadas, conhecida como zona tórrida do planeta. Corresponde à região do planeta situada entre os trópicos de Câncer e Capricórnio. É a zona mais iluminada e quente do planeta Terra.

- **Zonas temperadas:** os raios incidem à superfície de forma relativamente inclinada em relação à zona intertropical, desse modo as temperaturas são mais amenas. Correspondem às regiões do planeta localizadas entre os trópicos e os círculos polares. As temperaturas são mais amenas.

- **Zonas polares:** os raios solares atingem a superfície terrestre de maneira bastante inclinada, portanto, as temperaturas são as mais baixas da Terra. Correspondem às regiões ártica e antártica do planeta, situadas entre os círculos polares e os polos.

Após a leitura e observação das ilustrações responda:

1. Quais são as principais zonas de iluminação do planeta Terra?

2. Qual é a zona mais quente do planeta Terra?

3. Onde as temperaturas são mais amenas?

HISTÓRIA- SEXTA-FEIRA, 02 DE JULHO DE 2021

Períodos da História

Divisões da História

Pré-história	História
<ul style="list-style-type: none">• Período Paleolítico• Período Neolítico• Idade dos Metais	<ul style="list-style-type: none">• Idade Antiga• Idade Média• Idade Moderna• Idade Contemporânea

Estudamos nas aulas anteriores sobre o Período Pré-histórico.

Vamos conhecer agora os outros períodos da História da Humanidade.

Idade Antiga

A Idade Antiga é o primeiro período da História. Para estudá-lo mais facilmente, ele é dividido em Antiguidade Oriental e Antiguidade Ocidental ou Clássica.

A Antiguidade Oriental é marcada pelo aparecimento dos primeiros povos civilizados: egípcios, mesopotâmicos, fenícios, hebreus. Esses povos eram fortemente influenciados pelo meio físico-geográfico que habitavam. Em geral, possuíam uma economia baseada na agricultura e na pecuária e utilizavam mão-de-obra escrava. Os fenícios, que não possuíam condições favoráveis a uma economia agrária, acabaram por desenvolver a navegação e o comércio.

O estudo da Antiguidade Ocidental refere-se a dois povos: os gregos e romanos. Essa fase é marcada por grande desenvolvimento comercial, tendo o mar Mediterrâneo como principal rota de comércio.

Idade Média

Neste período notamos grande diferença entre o Ocidente e o Oriente.

No Ocidente, destacamos quatro fatores básicos da vida medieval:

- O castelo, que era o centro da vida política e a habitação do senhor feudal;
- O exército, que demonstra a atividade principal da nobreza, a de guerrear;
- A Igreja, que cuidava de todos os aspectos espirituais da comunidade;
- E finalmente, em primeiro plano, os trabalhadores rurais que sustentavam economicamente a Europa na Idade Média. Eram chamados de servos.

No Oriente havia grandes impérios:

- **Árabes**: inicialmente dominaram a Península Arábica e, posteriormente, em busca de terras férteis, conquistaram parte do território asiático, todo o norte da África e, na Europa, a Península Ibérica.

Deles herdamos, além do nosso sistema de numeração, também várias palavras do nosso vocabulário, tais como: álcool, álgebra, alface, etc.

- **Império Bizantino**: sua capital chamava-se Constantinopla, que hoje é a cidade de Istambul. Sua situação geográfica favoreceu o desenvolvimento o comércio de produtos orientais. Foi dominada pelos turcos em 1453.

Nas próximas aulas estudaremos sobre as Idades Moderna e Contemporânea.

Após a leitura responda: (Registre em seu caderno)

1. Quais são os períodos da Pré-história?
2. Quais são os períodos da História?
3. A Antiguidade Oriental é marcada pelo aparecimento dos primeiros povos civilizados. Quais foram esses povos?
4. O estudo da Antiguidade Ocidental refere-se a dois povos. Quais são?
5. De quais povos herdamos o nosso sistema de numeração?