





**EMEF PROFESSOR CLÁUDIO ROBERTO MARQUES**  
**PROFESSORAS: KARINE (2º A) CRIS (2º B) ROSELI (2º C) ROSEMERE (2º D)**

Leituras diárias:

- 2ª: [A DECISÃO DO CAMPEONATO](#)
- 3ª: [A DECISÃO DO CAMPEONATO](#)
- 4ª: [BARBARECO, O MENINO QUE QUERIA SER PALHAÇO](#)
- 5ª: [BARBARECO, O MENINO QUE QUERIA SER PALHAÇO](#)
- 6ª: [O PIRULITO DO PATO](#)

**CLIQUE NO NOME DO LIVRO PARA**



Segunda-feira Data: 02/08	Terça-feira Data: 03/08	Quarta-feira Data: 04/08	Quinta-feira Data: 05/08	Sexta-feira Data: 06/08
<p><b>PORTUGUÊS:</b></p> <p>LEITURA : TEXTO PAI.</p>	<p><b>MATEMÁTICA:</b></p> <p>SISTEMA DE NUMERAÇÃO DECIMAL: CENTENAS.</p>	<p><b>HISTÓRIA:</b></p> <p>ORGANIZAÇÃO TEMPORAL: LEMBRANÇAS.</p>	<p><b>GEOGRAFIA:</b></p> <p>AS FUNÇÕES DO ESPAÇO PÚBLICO DE USO COLETIVO.</p>	<p><b>CIÊNCIAS:</b></p> <p>GERMINAÇÃO E DESENVOLVIMENTO DAS PLANTAS.</p>
<p><b>ATIVIDADE DE ARTE</b></p> <p></p> <p><a href="https://ensinofundamentalhortolandia.blogspot.com/search/label/Arte">https://ensinofundamentalhortolandia.blogspot.com/search/label/Arte</a></p> <p></p>	<p><b>ATIVIDADE DE INGLÊS</b></p> <p></p> <p><a href="https://ensinofundamentalhortolandia.blogspot.com/search/label/E.M.E.F%20Prof%20Claudio%20Roberto%20Marques">https://ensinofundamentalhortolandia.blogspot.com/search/label/E.M.E.F%20Prof%20Claudio%20Roberto%20Marques</a></p>	<p><b>ATIVIDADE DE ED. FÍSICA</b></p> <p></p> <p><a href="https://ensinofundamentalhortolandia.blogspot.com/search/label/EDUCA%C3%87%C3%83O%20F%C3%8DSICA">https://ensinofundamentalhortolandia.blogspot.com/search/label/EDUCA%C3%87%C3%83O%20F%C3%8DSICA</a></p> <p></p>	<p><b>PROJETO LEITURA</b></p> <p><b>OBS:</b></p> <p><b>A LEITURA SERÁ ENCAMINHADA DIARIAMENTE POR WHATSAPP PELO PROFESSOR (A) DO (A) SEU FILHO.</b></p> <p></p>	<p><b>INTERAÇÃO PROFESSOR/ALUNO:</b></p> <p><b>TODA SEMANA O PROFESSOR IRÁ ENTRAR EM CONTATO COM SEU FILHO PARA CONVERSAR, DIALOGAR, RECEBER DEVOLUTIVAS DAS ATIVIDADES.</b></p> <p></p>

**EMEF PROFESSOR CLÁUDIO ROBERTO MARQUES**

**PROFESSORAS: KARINE (2º A) CRIS (2º B) ROSELI (2º C) ROSEMERE (2º D)**

**ROTEIRO DE ESTUDOS: SEMANA DE 02 A 06 DE AGOSTO**

**SEGUNDA FEIRA, 02 DE AGOSTO  
PORTUGUÊS**

FAÇA A LEITURA DO TEXTO:

PAI

**TEM PAI QUE É PAIZINHO, BAIXINHO.  
TEM PAI QUE É PAIZÃO, GRANDÃO.  
ALGUNS SÃO BARRIGUDOS, OUTROS BEM FORTÃO.  
TEM PAI COM BIGODE E BARBA. TEM PAI CABELUDO E CARECA.  
PAI BRAVO, CARRANCUDO. PAI RISONHO E ENGRAÇADO.  
TEM PAI BRINCALHÃO, TRAPALHÃO, ESQUECIDO E ORGANIZADO.  
TEM PAI PERTINHO TODO DIA, TEM PAI QUE MORA EM OUTRA CASA.  
TEM PAI QUE FOI PARA O CÉU E AGORA MORA NO CORAÇÃO.  
CADA PAI É DE UM JEITINHO E MERECIAM TER UMA CAPA.  
CAPA DE HERÓI, MEU AMIGÃO.**

AGORA É SUA VEZ:

1- QUAL O NOME DO SEU PAI?

2- ESCREVA NO CADERNO ALGUMAS CARACTERÍSTICAS FÍSICAS E DA PERSONALIDADE DO SEU PAI:

3- COM MUITO CAPRICO ESCREVA UM BILHETE PARA SEU PAI DANDO OS PARABÉNS PELO DIA DELE. APROVEITE E FAÇA UM DESENHO BEM BONITO DE VOCÊS. E MESMO QUE SEU PAI ESTEJA LONGE OU MORANDO NO CÉU, NÃO DEIXE DE FAZER ESSA HOMENAGEM.

**BOM ESTUDO!**

## TERÇA FEIRA, 03 DE AGOSTO MATEMÁTICA

OLÁ, GALERINHA!

HOJE IREMOS CONTINUAR A APRENDER COMO COMPARAR E ORDENAR OS NÚMEROS ATÉ A ORDEM DAS CENTENAS. VEJA ESTE VÍDEO PARA RELEMBRAR E DEPOIS FAÇA O DESAFIO.

CLIQUE  
AQUI

[SISTEMA DE NUMERAÇÃO DECIMAL CENTENA - DEZENA - UNIDADE / BNCC](#)

### DESAFIO 2

NESTE PRÓXIMO DESAFIO VOCÊ TERÁ UM CAÇA NÚMERO. SIGA AS DICAS E ENCONTRE OS NÚMEROS PEDIDOS. OS NÚMEROS A ENCONTRAR ESTARÃO NA HORIZONTAL E NA VERTICAL.

#### CAÇA NÚMERO

5	6	7	3	2	0	1	2	4	5	6	8	9	6	5	5
3	5	2	3	1	5	5	6	7	8	4	0	8	9	6	7
3	4	6	8	0	1	3	5	7	9	2	4	6	8	0	0
7	6	4	7	3	4	2	8	1	9	2	9	3	9	3	0
3	5	7	9	2	1	1	5	8	0	9	5	3	2	7	8
5	8	3	9	2	1	4	3	9	3	5	8	2	9	3	1
2	5	8	0	2	4	6	7	9	4	2	1	4	9	0	2

**NO CAÇA NÚMEROS PROCURE E CIRCULE UM NÚMERO FORMADO POR:**

- 3 CENTENAS, 4 DEZENAS E 6 UNIDADES
- 7 CENTENAS, 3 DEZENAS E 8 UNIDADES
- OITO CENTENAS, DUAS DEZENAS E SEIS UNIDADES
- 6 CENTENAS, 8 DEZENAS E 0 UNIDADES
- NOVE CENTENAS, 1 DEZENA E 1 UNIDADE
- 2 CENTENAS, 1 DEZENA E 1 UNIDADE
- SETE CENTENAS, ZERO DEZENA E ZERO UNIDADE
- 0 CENTENA, 5 DEZENA E 1 UNIDADE.

## QUARTA FEIRA, 04 DE AGOSTO HISTÓRIA

### RECORDAR É VIVER!!!

AS LEMBRANÇAS INDÍGENAS SÃO APENAS UM EXEMPLO DE LEMBRANÇAS E VIVÊNCIAS INFANTIS.



EU ME LEMBRO DE FICAR AGARRADINHA NO CORPO DA MINHA MÃE, DE BRINCAR NO RIO, DA BRINCADEIRA DA ONÇA E DE CABO DE GUERRA, DE FAZER BONECAS COM BARRO, DE DESCASCAR MACAXEIRA, DE IR PARA A ESCOLA E APRENDER

1- AGORA VAMOS FALAR SOBRE AS SUAS LEMBRANÇAS:

A) O QUE VOCÊ GUARDA NAS SUAS LEMBRANÇAS?

B) O QUE VOCÊ USOU QUANDO ERA BEBÊ?

C) QUANDO VOCÊ FOR ADULTO USARÁ AS MESMAS ROUPAS DE AGORA?

D) QUE OBJETOS OU LEMBRANÇAS VOCÊ PODE GUARDAR DE AGORA QUE VOCÊ TEM 7 ANOS?

**QUINTA FEIRA, 05 DE AGOSTO**  
**GEOGRAFIA**

VAMOS FALAR UM POUCOS MAIS SOBRE ESPAÇOS PÚBLICOS E PRIVADOS.

TODOS OS BAIRROS POSSUEM ESPAÇOS QUE SÃO RESPONSABILIDADES DOS GOVERNOS. OU SEJA, DEVEM SER CONSTRUÍDOS E MANTIDOS PELOS GOVERNOS E PODEM SER FREQUENTADOS POR TODAS AS PESSOAS. ELES SÃO CHAMADOS ESPAÇOS PÚBLICOS.

1- VEJA ESSE QUADRO ABAIXO. ESCREVA NO SEU CADERNO E PINTE DE AZUL O NOME DOS ESPAÇOS PÚBLICOS E DE VERDE O NOME DAS PROPRIEDADES PRIVADAS.

<b>PRAÇA</b>	<b>POSTO DE SAÚDE</b>	<b>SUPERMERCADO</b>	<b>BIBLIOTECA MUNICIPAL</b>
<b>SHOPPING</b>	<b>ESCOLA MUNICIPAL</b>	<b>PARQUES</b>	<b>RESTAURANTE</b>

2- COPIE E RESPONDA NO SEU CADERNO.

**A)** QUAIS DOS ESPAÇOS PÚBLICOS ACIMA EXISTEM NO LUGAR ONDE VOCÊ VIVE?

**B)** TEM ALGUM SERVIÇO OU COMÉRCIO QUE NÃO EXISTE NO LUGAR ONDE VOCÊ MORA, MAS QUE VOCÊ E SEUS FAMILIARES GOSTARIAM QUE EXISTISSE? QUAIS?

## SEXTA FEIRA, 06 DE AGOSTO CIÊNCIAS

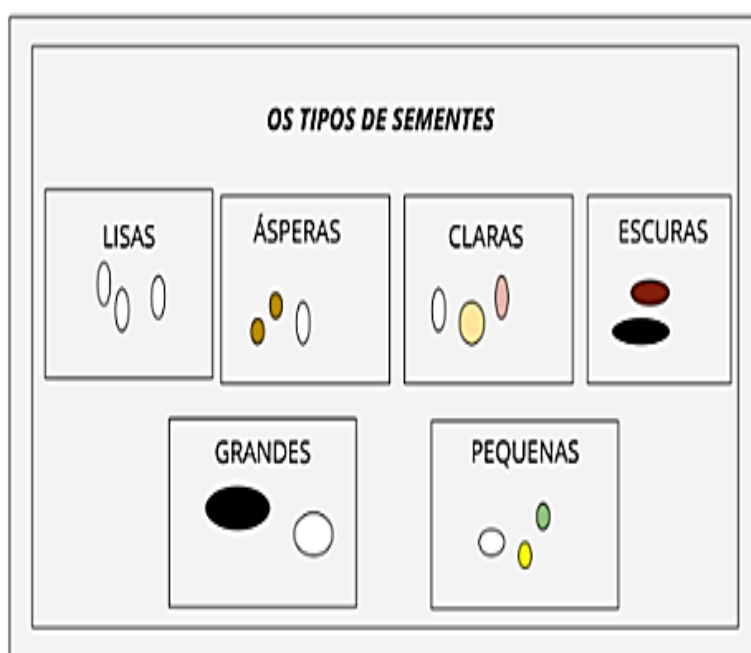
OLÁ, GALERINHA!

A NATUREZA É MUITO IMPORTANTE, SEM ELA NÃO EXISTE VIDA. SABENDO DISSO VAMOS ASSISTIR UM POUCO MAIS SOBRE A GERMINAÇÃO DAS PLANTAS:

CLIQUE  
AQUI

[Germinação e desenvolvimento das plantas](#)

AS SEMENTES DÃO ORIGEM A NOVAS PLANTAS E ELAS PODEM SER MUITO DIFERENTES OBSERVEM:



**CADA FRUTO OU PLANTA POSSUI UM TIPO DE SEMENTE, POR EXEMPLO:**

- ★ A SEMENTE DO FEIJÃO É PRETA, LISA E PEQUENA.
- ★ A SEMENTE DO ABACATE É GRANDE E REDONDA.
- ★ A SEMENTE DO PÊSSEGO É GRANDE E ÁSPERA.

1) PROCURE UMA FRUTA EM SUA CASA E DESENHE EM SEU CADERNO A FRUTA E SUA SEMENTE, DEPOIS DESCREVA AS CARACTERÍSTICAS DA SEMENTE.