

## 4º ANO

### SEMANA DE 18 A 22/10/2021

ESCOLA: EMEF.PROFESSORA JANILDE FLORES GABY DO VALE  
PROFESSOR (A): ANELISE, CLEONICE, ELZA, ROSA E VERA LÚCIA  
ANO/TURMA: 4ºA, 4ºB, 4ºC, 4ºD, 4ºE

#### REGISTRO QUINZENAL DA ROTINA DE ESTUDOS DOS ALUNOS.

DIA DA SEMANA	ROTINA DIÁRIA: DESCRIÇÃO DAS ATIVIDADES
<b>SEGUNDA-FEIRA</b> DATA: 18/10/2021	<b>PORTUGUÊS:</b> LEITURA E INTERPRETAÇÃO DE TEXTO DAS PÁGINAS 146 E 147. ATIVIDADES DE 1 A 3 PÁGINAS 150 E 151 E LETRA B DA 152. <b>MATEMÁTICA:</b> OPERAÇÕES ENVOLVENDO A ADIÇÃO. <b>ARTE:</b> AS ATIVIDADES ESTÃO NA ABA LATERAL DO PORTAL.
<b>TERÇA-FEIRA</b> DATA: 19/10/2021	<b>CIÊNCIAS:</b> (REVISÃO) OUTRAS RELAÇÕES ENTRE OS SERES VIVOS, ATRAVÉS DE LEITURA E INTERPRETAÇÃO DE TEXTO. LIVRO BURITI MAIS CIÊNCIAS, PÁGINAS 82 E 83. (ATIVIDADE INTERDISCIPLINAR COM PORTUGUÊS). <b>MATEMÁTICA:</b> OPERAÇÕES ENVOLVENDO A SUBTRAÇÃO.
<b>QUARTA-FEIRA</b> DATA: 20/10/2021	<b>HISTÓRIA:</b> PRESERVAÇÃO DA DIVERSIDADE CULTURAL, COM LEITURA E INTERPRETAÇÃO DE TEXTO. LIVRO BURITI MAIS HISTÓRIA PÁGINA 122 E 123. (ATIVIDADE INTERDISCIPLINAR COM PORTUGUÊS) <b>MATEMÁTICA:</b> OPERAÇÕES ENVOLVENDO A MULTIPLICAÇÃO.
<b>QUINTA-FEIRA</b> DATA: 21/10/2021	<b>GEOGRAFIA:</b> A DEVASTAÇÃO DA VEGETAÇÃO BRASILEIRA, COM LEITURA E INTERPRETAÇÃO DE TEXTO. LIVRO BURITI MAIS GEOGRAFIA, PÁGINA 70 E ATIVIDADE 2 E 3 PÁGINA 71. (ATIVIDADE INTERDISCIPLINAR COM PORTUGUÊS). <b>MATEMÁTICA:</b> PROBLEMAS COM GRÁFICO. <b>INGLÊS:</b> AS ATIVIDADES ESTÃO NA ABA LATERAL DO PORTAL.
<b>SEXTA-FEIRA</b> DATA 22/10/21	<b>PORTUGUÊS :</b> PRODUÇÃO DE TEXTO ATRAVÉS DE TIRINHA. <b>MATEMÁTICA:</b> SITUAÇÕES PROBLEMAS ENVOLVENDO ADIÇÃO, SUBTRAÇÃO E MULTIPLICAÇÃO. <b>EDUCAÇÃO FÍSICA:</b> ATIVIDADES ESTÃO NA ABA LATERAL DO PORTAL EDUCAÇÃO.

SEGUNDA-FEIRA, 18/10/2021  
PORTUGUÊS

FAÇA O CABEÇALHO EM SEU CADERNO:

EMEF Prof<sup>a</sup> Jamilde Flores Gabry de Vale  
Hortelândia, \_\_\_\_ de outubro de 2021.

Nome completo: \_\_\_\_\_

4<sup>a</sup> ano \_\_\_\_ Professora: \_\_\_\_\_

LIVRO ÁPIS: LEITURA DO TEXTO NAS PÁGINAS 146 E 147.  
ATIVIDADE DE 1 A 3 NAS PÁGINAS 150 E 151 E LETRA B DA PÁGINA 152.

### MATEMÁTICA

COPIE E RESOLVA NO CADERNO AS ADIÇÕES:

- A)  $1.235 + 958 =$
- B)  $3.359 + 739 =$
- C)  $2.730 + 1.236 =$
- D)  $3.268 + 1.297 =$

### TERÇA-FEIRA, 19/10/2021 CIÊNCIAS

FAÇA O CABEÇALHO EM SEU CADERNO:

EMEF Prof<sup>a</sup> Jamilde Flores Gabry de Vale  
Hortelândia, \_\_\_\_ de outubro de 2021.

Nome completo: \_\_\_\_\_

4<sup>a</sup> ano \_\_\_\_ Professora: \_\_\_\_\_

LIVRO BURITI CIÊNCIAS: PÁGINAS 82 E 83.  
REVISÃO DO TEXTO OUTRAS RELAÇÕES ENTRE OS SERES VIVOS.

### MATEMÁTICA

COPIE E RESOLVA AS SUBTRAÇÕES EM SEU CADERNO:

- A)  $930 - 240 =$
- B)  $1.238 - 624 =$
- C)  $2.358 - 293 =$
- D)  $3.300 - 240 =$

**QUARTA-FEIRA, 20/10/2021**

**HISTÓRIA**

FAÇA O CABEÇALHO EM SEU CADERNO:

EMEF Prof<sup>a</sup> Jamilde Flores Gabry de Vale  
Hortelândia, \_\_\_\_ de outubro de 2021.

Nome completo: \_\_\_\_\_

4<sup>a</sup> ano \_\_\_\_ Professora: \_\_\_\_\_

LIVRO: BURITI HISTÓRIA PÁGINA 122: LEITURA E INTERPRETAÇÃO DO  
TEXTO: PRESERVAÇÃO DA DIVERSIDADE CULTURAL. ATIVIDADES DA  
PÁGINA 123.

**MATEMÁTICA**

MONTE E RESOLVA AS MULTIPLICAÇÕES EM SEU CADERNO:

A)  $125 \times 9 =$

B)  $430 \times 6 =$

C)  $765 \times 5 =$

D)  $893 \times 7 =$

**QUINTA-FEIRA, 21/10/2021**

**GEOGRAFIA**

FAÇA O CABEÇALHO EM SEU CADERNO.

EMEF Prof<sup>a</sup> Jamilde Flores Gabry de Vale  
Hortelândia, \_\_\_\_ de outubro de 2021.

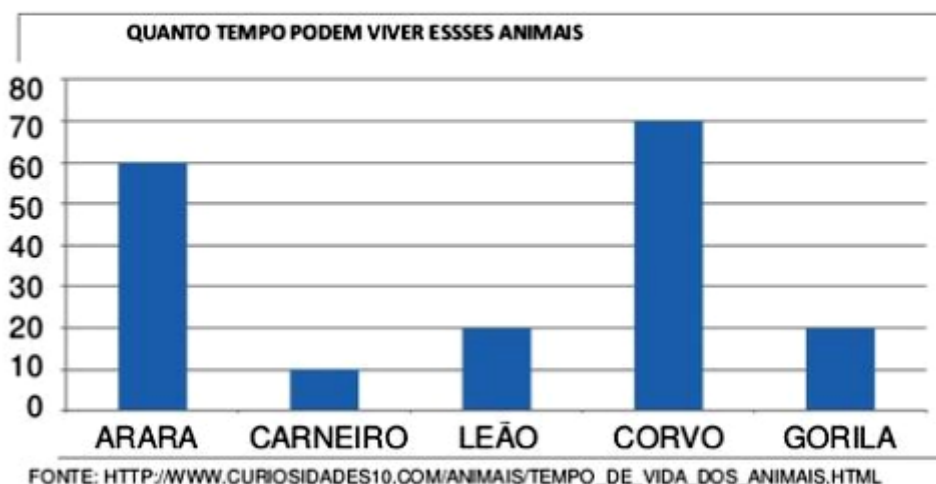
Nome completo: \_\_\_\_\_

4<sup>a</sup> ano \_\_\_\_ Professora: \_\_\_\_\_

LIVRO: BURITI GEOGRAFIA PÁGINA 70 LEITURA DA CONTINUAÇÃO DO  
TEXTO: A DEVASTAÇÃO DA VEGETAÇÃO BRASILEIRA.  
ATIVIDADES 2 E 3 DA PÁGINA 71.

## MATEMÁTICA

VEJA O GRÁFICO QUE A PROFESSORA DE MARIANI APRESENTOU A TURMA:



AGORA, RESPONDA:

- a) QUAL ANIMAL VIVE MAIS TEMPO? \_\_\_\_\_
- b) QUAL O ANIMAL QUE VIVE MENOS TEMPO?  
\_\_\_\_\_
- c) O GORILA VIVE QUANTOS ANOS? \_\_\_\_\_
- d) QUANTOS ANOS O CORVO VIVE MAIS QUE O LEÃO? \_\_\_\_\_

**SEXTA-FEIRA, 22/10/2021**

**PRODUÇÃO DE TEXTO**

FAÇA O CABEÇALHO EM SEU CADERNO:

EMEF Prof<sup>a</sup> Jamilde Flores Gaby de Vale  
Hortolândia, \_\_\_\_ de outubro de 2021.

Nome completo: \_\_\_\_\_

4<sup>a</sup> ano \_\_\_\_ Professora: \_\_\_\_\_

LEIA A TIRINHA DA TURMA DA MÔNICA QUE MOSTRA A IMPORTÂNCIA DE CUIDAR DO MEIO EM QUE VIVEMOS.



[http://site.sabesp.com.br/site/uploads/image/educacao/turma\\_monica/Tira\\_MeioAmbiente\\_10gd.jpg](http://site.sabesp.com.br/site/uploads/image/educacao/turma_monica/Tira_MeioAmbiente_10gd.jpg)

AGORA PRODUZA UM TEXTO CAPRICHADO TRANSCREVENDO OS DIÁLOGOS.

NÃO ESQUEÇA DO TÍTULO, DOS PARÁGRAFOS E DA PONTUAÇÃO.

## MATEMÁTICA

COPIE E RESOLVA AS SITUAÇÕES PROBLEMAS NO SEU CADERNO.

1- LÚCIA COMPROU 103 CENTÍMETROS DE ELÁSTICO PARA COLOCAR NAS SAIAS QUE ELA FAZ PARA VENDER. MAS A QUANTIDADE DE SAIAS ENCOMENDADAS DOBROU. QUANTOS CENTÍMETROS DE ELÁSTICO ELA PRECISARÁ COMPRAR?

2- ANA E SUA AMIGA FORAM FAZER COMPRAS. ANA COMPROU 5 PARES DE MEIA A 4 REAIS CADA E SUA AMIGA COMPROU 4 CAMISETAS A 5 REAIS CADA. QUAL DELAS GASTOU MAIS?

3- NA SEXTA-FEIRA PASSADA, VENDI 227 CAIXAS DE MORANGO. HOJE, A VENDA FOI DE 315 CAIXAS DE MORANGO. QUANTAS CAIXAS DE MORANGO FORAM VENDIDAS A MAIS NESTA SEMANA?

4- EM UMA FAZENDA, HÁ 3 CENTENAS DE VACAS, 4 CENTENAS DE GALINHAS E 1 CENTENA DE BOIS. QUANTOS ANIMAIS HÁ NESTA FAZENDA?

## SEMANA DE 25 A 29/10/2021

ESCOLA: EMEF.PROFESSORA JANILDE FLORES GABY DO VALE  
PROFESSOR (A): ANELISE, CLEONICE, ELZA, ROSA E VERA  
LÚCIAANO/TURMA: 4ºA, 4ºB, 4ºC, 4ºD, 4ºE

### REGISTRO QUINZENAL DA ROTINA DE ESTUDOS DOS ALUNOS.

DIA DA SEMANA	ROTINA DIÁRIA: DESCRIÇÃO DAS ATIVIDADES
<b>SEGUNDA- FEIRA</b> DATA: 25/10/2021	<b>PORTUGUÊS:</b> LEITURA E INTERPRETAÇÃO DE TEXTO DAS PÁGINAS 176 E 177, ATIVIDADES DE 1 A 4 PÁGINAS 177 A 179. <b>MATEMÁTICA:</b> NOÇÃO DE DIVISÃO ATRAVÉS DE DESENHOS E PROBLEMAS. <b>ARTE:</b> AS ATIVIDADES ESTÃO NA ABA LATERAL DO PORTAL.
<b>TERÇA-FEIRA</b> DATA: 26/10/2021	<b>CIÊNCIAS:</b> REVISÃO, ATRAVÉS DE LEITURA E INTERPRETAÇÃO DE TEXTO. LIVRO BURITI MAIS CIÊNCIAS, PÁGINA 85 ATIVIDADE 8 A E B. (ATIVIDADE INTERDISCIPLINAR COM PORTUGUÊS). <b>MATEMÁTICA:</b> OPERAÇÕES COM A ADIÇÃO.
<b>QUARTA-FEIRA</b> DATA: 27/10/2021	<b>HISTÓRIA:</b> IDENTIDADE CULTURAL DOS IMIGRANTES, LEITURA E INTERPRETAÇÃO DE TEXTO. LIVRO BURITI MAIS HISTÓRIA PÁGINA 128 E ATIVIDADE 3 E 4 DA 129. (ATIVIDADE INTERDISCIPLINAR COM PORTUGUÊS) <b>MATEMÁTICA:</b> ATIVIDADES ENVOLVENDO A MULTIPLICAÇÃO.
<b>QUINTA-FEIRA</b> DATA: 28/10/2021	<b>GEOGRAFIA:</b> TODOS NÓS FAZEMOS PARTE DA POPULAÇÃO, COM LEITURA E INTERPRETAÇÃO DE TEXTO. LIVRO BURITI MAIS GEOGRAFIA, PÁGINA 78, ATIVIDADE 1 E 2. (ATIVIDADE INTERDISCIPLINAR COM PORTUGUÊS). <b>MATEMÁTICA:</b> ATIVIDADES ENVOLVENDO A MULTIPLICAÇÃO. <b>INGLÊS:</b> AS ATIVIDADES ESTÃO NA ABA LATERAL DO PORTAL.

SEGUNDA-FEIRA, 25/10/2021

PORTUGUÊS

FAÇA O CABEÇALHO EM SEU CADERNO:

EMEF Prof<sup>a</sup> Janilde Flores Gabby do Vale  
Hortelândia, \_\_\_\_ de outubro de 2021.

Nome completo: \_\_\_\_\_

4<sup>a</sup> ano \_\_\_\_ Professora: \_\_\_\_\_






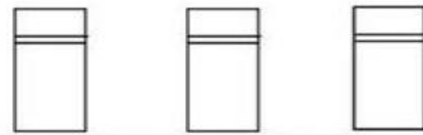


## MATEMÁTICA

### DIVISÃO

A DIVISÃO É UMA DAS QUATROS OPERAÇÕES FUNDAMENTAIS, CONSISTE EM DIVIDIR DOIS NÚMEROS O DIVIDENDO E O DIVISOR, QUE PRODUZ DOIS RESULTADOS CHAMADOS QUOCIENTE E RESTO. SEU SÍMBOLO É “÷” PPODENDO VARIAR COM BARRA “/” OU “:”



1) VERIFIQUE OS DESENHOS E RESOLVA O QUE ESTÁ SENDO PEDIDO.

$9 \div 3 = \underline{\quad}$  	$8 \div 2 = \underline{\quad}$  
$15 \div 3 = \underline{\quad}$  	$12 \div 2 = \underline{\quad}$  

2) AGORA QUE VOCÊ JÁ APRENDEU DIVIDIR, RESOLVA AS OPERAÇÕES:

- A)  $10 \div 2 =$
- B)  $15 \div 3 =$
- C)  $12 \div 6 =$
- D)  $20 \div 5 =$

TERÇA-FEIRA, 26/10/2021  
CIÊNCIAS

FAÇA O CABEÇALHO EM SEU CADERNO:

EMEF Prof<sup>a</sup> Jamilde Flores Gaby de Vale  
Hortolândia, \_\_\_\_ de outubro de 2021.

Nome completo: \_\_\_\_\_

4<sup>ª</sup> ano \_\_\_\_ Professora: \_\_\_\_\_

LIVRO BURITI MAIS CIÊNCIAS  
REVISÃO PÁGINA 85. ATIVIDADE 8 A e B.

MATEMÁTICA

MONTE E RESOLVA AS ADIÇÕES E SUBTRAÇÕES EM SEU CADERNO.

A)  $6.987 + 308 + 25 =$

B)  $1.200 + 7.906 + 207 =$

C)  $512 - 47 =$

D)  $852 - 104 =$

E)  $504 - 107 =$

QUARTA-FEIRA, 27/10/2021  
HISTÓRIA

FAÇA O CABEÇALHO EM SEU CADERNO:



EMEF Prof<sup>a</sup> Jamilde Flores Gabry de Vale  
Hortelândia, \_\_\_\_ de outubro de 2021.

Nome completo: \_\_\_\_\_

4<sup>a</sup> ano \_\_\_\_ Professora: \_\_\_\_\_

LIVRO: "BURITI MAIS HISTÓRIA", PÁGINA 128. FAZER A LEITURA DO TEXTO "IDENTIDADE CULTURAL DOS MIGRANTES" E RESPONDER AS QUESTÕES DA PÁGINA 129.

## MATEMÁTICA

1) ENCONTRE O DOBRO, TRIPLO OU QUÁDRUPLO DAS QUANTIDADES ABAIXO:

A) O DOBRO DE 370: \_\_\_\_\_

C) O QUÁDRUPLO DE 180: \_\_\_\_\_

B) O TRIPLO DE 170: \_\_\_\_\_

D) O QUÁDRUPLO DE 390: \_\_\_\_\_

**QUINTA-FEIRA, 28/10/2021**

## GEOGRAFIA

FAÇA O CABEÇALHO EM SEU CADERNO:

EMEF Prof<sup>a</sup> Jamilde Flores Gabry de Vale  
Hortelândia, \_\_\_\_ de outubro de 2021.

Nome completo: \_\_\_\_\_

4<sup>a</sup> ano \_\_\_\_ Professora: \_\_\_\_\_

LIVRO: "BURITI MAIS GEOGRAFIA", PÁGINA 78. FAZER A LEITURA DO TEXTO "TODOS NÓS FAZEMOS PARTE DA POPULAÇÃO" E RESPONDER AS QUESTÕES 1 E 2 NO PRÓPRIO LIVRO.

## MATEMÁTICA

1) RESOLVA OS PROBLEMAS ABAIXO:

A) EDSON COMPROU 3 CENTENAS DE ROSAS E 2 DÚZIAS DE CRAVOS AMARELOS. QUANTAS FLORES ELE COMPROU?

R:

B) FERNANDA POSSUI 37 ADESIVOS E DANIELA POSSUI O TRIPLO DA QUANTIDADE DE FERNANDA. QUANTOS ADESIVOS DANIELA POSSUI?

R:

C) PAULO PLANTOU NA FAZENDA 4 CENTENAS E MEIA DE PÉS DE ARROZ. MORRERAM 130 PÉS. QUANTOS PÉS DE ARROZ SOBREARAM?

R: