

3º ANO.

SEMANA DE 17/05/2021 A 21/05/2021

Escola: EMEF PROFESSORA JANILDE FLORES GABYDO VALE.

Professor (a): ENILDA, ELIANE, GISELE, KÁREM, MARIA ESTER.

Ano/turma: 3ºA, B, C, D, E

Registro quinzenal da rotina de estudos dos alunos.

DIA DA SEMANA	ROTINA DIÁRIA: DESCRIÇÃO DAS ATIVIDADES
SEGUNDA – FEIRA DATA:17/05/2021.	LEITURA DIÁRIA: O TRÂNSITO NO MUNDINHO, ESCRITO POR INGRID BIESEMEYER BELLINGHAUSEN. (O PDF E AS ORIENTAÇÕES PARA A LEITURA SERÃO ENVIADAS NO GRUPO DE WHATSAPP DE CADA TURMA). PORTUGUÊS: ACRÓSTICO E PRODUÇÃO DE TEXTO COM O TEMA: HORTOLÂNDIA. MATEMÁTICA: CÁLCULOS DE SUBTRAÇÃO PARA ARMAR NO CADERNO. EDUCAÇÃO FÍSICA: ATIVIDADES ESTÃO NA ABA LATERAL DO BLOG..
TERÇA-FEIRA DATA:18/05/2021.	LEITURA DIÁRIA: O TRÂNSITO NO MUNDINHO, ESCRITO POR INGRID BIESEMEYER BELLINGHAUSEN. (O PDF E AS ORIENTAÇÕES PARA A LEITURA SERÃO ENVIADAS NO GRUPO DE WHATSAPP DE CADA TURMA). PORTUGUÊS/HISTÓRIA/GEOGRAFIA: TEXTO INFORMATIVO E INTERPRETAÇÃO CONTANDO A HISTÓRIA DE HORTOLÂNDIA. MATEMÁTICA: CÁLCULOS DE ADIÇÃO PARA ARMAR, RESOLVER E ESCREVER OS RESULTADOS POR EXTENSO NO CADERNO. ARTE: ATIVIDADES ESTÃO NA ABA LATERAL DO BLOG.
QUARTA-FEIRA DATA:19/05/2021.	FERIADO: ANIVERSÁRIO DE HORTOLÂNDIA
QUINTA-FEIRA DATA:20/05/2021.	LEITURA DIÁRIA: O TRÂNSITO NO MUNDINHO, ESCRITO POR INGRID BIESEMEYER BELLINGHAUSEN. (O PDF E AS ORIENTAÇÕES PARA A LEITURA SERÃO ENVIADAS NO GRUPO DE WHATSAPP DE CADA TURMA). PORTUGUÊS/CIÊNCIAS: TEXTO INFORMATIVO E ATIVIDADES SOBRE A FAUNA BIOMA DA MATA ATLÂNTICA EM HORTOLÂNDIA. MATEMÁTICA: LIVRO DE MATEMÁTICA (ÁPIS) PÁGINAS 10 E 11- (ATIVIDADES COM INTERAÇÃO DA PROFESSORA).

<p>SEXTA-FEIRA</p> <p>DATA:21/05/2021.</p>	<p>LEITURA DIÁRIA: O TRÂNSITO NO MUNDINHO, ESCRITO POR INGRID BIESEMEYER BELLINGHAUSEN. (O PDF E AS ORIENTAÇÕES PARA A LEITURA SERÃO ENVIADAS NO GRUPO DE WHATSAPP DE CADA TURMA).</p> <p>PORTUGUÊS: ATIVIDADES DE ESCRITA E INTERPRETAÇÃO SOBRE A LEITURA DIÁRIA DA SEMANA.</p> <p>MATEMÁTICA: RESOLUÇÃO DE PROBLEMAS ENVOLVENDO AS OPERAÇÕES DE ADIÇÃO E SUBTRAÇÃO.</p> <p>LÍNGUA INGLESA: CARDINAL NUMBERS (NÚMEROS CARDINAIS) PÁGINA 15</p>
---	---

CONTINUE REALIZANDO O CABEÇALHO EM SEU CADERNO, TODOS OS DIAS CONFORME MODELO ABAIXO E O ALFABETO CURSIVO.

EMEF PROFESSORA JANILDE FLORES GABY DO VALE.

HORTOLÂNDIA, ----- DE MAIO DE 2021.

NOME COMPLETO: -----

PROFESSORA: -----

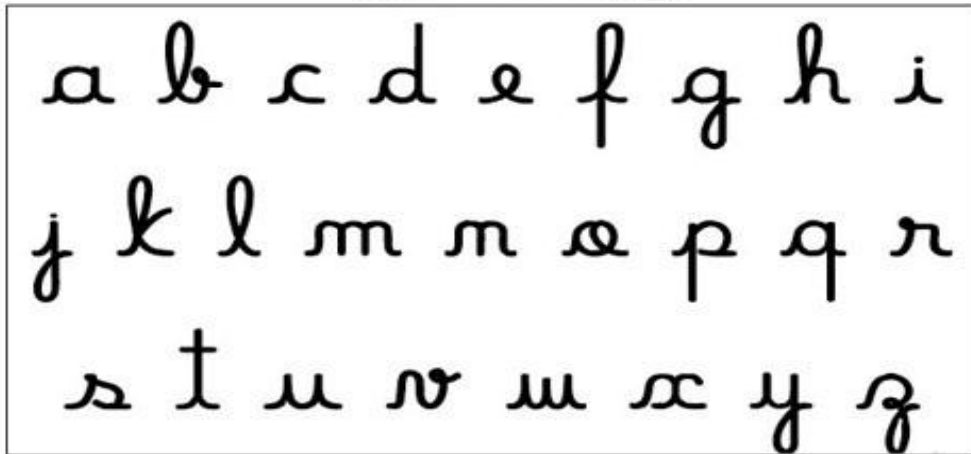
3° ANO: -----

COPIE O ALFABETO CURSIVO NO SEU CADERNO:

ALFABETO MAIÚSCULO.



ALFABETO MINÚSCULO.



SEGUNDA-FEIRA 17/05/2021

PORTUGUÊS

ESSA SEMANA COMEMORAMOS O ANIVERSÁRIO DE HORTOLÂNDIA.

FAÇA UM ACRÓSTICO COM O NOME DE SUA CIDADE. ESCREVA UMA PALAVRA PARA CADA LETRA.

H-

O-

R-

T-

O-

L-

Â-

N-

D-

I-

A

PRODUÇÃO DE TEXTO

ESCREVA EM SEU CADERNO UM TEXTO SOBRE COMO É MORAR EM HORTOLÂNDIA.

NO SEU TEXTO VOCÊ PODE ESCREVER DO QUE MAIS GOSTA NA CIDADE, OS LUGARES QUE VOCÊ GOSTA DE IR PARA PASSEAR E BRINCAR, O QUE FALTA PARA A CIDADE MELHORAR...

NÃO ESQUEÇA DO TÍTULO. O TEXTO TEM QUE TER COMEÇO, MEIO E FIM, PARÁGRAFOS E PONTUAÇÃO.

MATEMÁTICA

ARME E RESOLVA AS CONTAS NO CADERNO.

- A) $78-46=$
- B) $95-60=$
- C) $56-50=$
- D) $87-34=$
- E) $92-52=$

TERÇA-FEIRA 18/05/2021

PORTUGUÊS/HISTÓRIA /GEOGRAFIA

LEIA O TEXTO COM ATENÇÃO, ASSISTA O VÍDEO QUE A PROFESSORA VAI ENVIAR PELO GRUPO DE WHATSAPP E RESPONDA AS PERGUNTAS NO CADERNO.

HISTÓRIA DE HORTOLÂNDIA

A HISTÓRIA DE HORTOLÂNDIA COMEÇA A MUITO TEMPO ATRÁS NAS TERRAS EM QUE NA ÉPOCA ERAM CONHECIDAS COMO BAIRRO JACUBA.

O NOME JACUBA QUE EM TUPI GUARANI SIGNIFICA “ÁGUA QUENTE” VEM DE UM PIRÃO FEITO COM FARINHA DE MANDIOCA, CACHAÇA, AÇÚCAR E MEL, MUITO APRECIADO PELOS TROPEIROS, QUE ERAM VIAJANTES QUE PASSAVAM POR ESSAS TERRAS E PARAVAM PERTO DO RIBEIRÃO JACUBA PARA DESCANSAR E TOMAR ESSA BEBIDA.

EM 1872 COM A INAUGURAÇÃO DA FERROVIA DE CAMPINAS, OS TRENS TAMBÉM COMEÇAM A PASSAR POR ESSA REGIÃO, MAS SÓ EM 1917 FOI CRIADA A ESTAÇÃO JACUBA.

NO ANO DE 1947 SURGE O PRIMEIRO LOTEAMENTO O PARQUE ORTOLÂNDIA QUE PERTENCIA A JOÃO ORTOLAN.

EM 1953 JACUBA PASSA A SER UM DISTRITO DE SUMARÉ. O NOME HORTOLÂNDIA É ADOTADO EM 1958.

COM O CRESCIMENTO DE HORTOLÂNDIA NO DIA 19 DE MAIO DE 1991 HOUE UM PLEBICITO, OU SEJA, AS PESSOAS QUE MORAVAM EM HORTOLÂNDIA FIZERAM UMA VOTAÇÃO PARA QUE HORTOLÂNDIA SE TORNASSE UM MUNICIPIO INDEPENDENTE. E É NESSE DIA QUE COMEMORAMOS O ANIVERSÁRIO DE HORTOLÂNDIA.

ESSE ANO HORTOLÂNDIA ESTÁ COMPLETANDO 30 ANOS.

RESPONDA NO CADERNO:

- 1- QUAL FOI O PRIMEIRO NOME QUE HORTOLÂNDIA RECEBEU?
- 2- QUEM ERAM OS TROPEIROS?
- 3- EM QUE ANO FOI INAUGURADA A ESTAÇÃO JACUBA?
- 4- COMO SE CHAMOU O PRIMEIRO LOTEAMENTO DE HORTOLÂNDIA?
- 5- EM QUE DIA HORTOLÂNDIA FAZ ANIVERSÁRIO?
- 6- QUANTOS ANOS HORTOLÂNDIA ESTÁ FAZENDO ESSE ANO?

<https://www.portalthortolandia.com.br/sobre-hortolandia/>

MATEMÁTICA

- 1- ARME E RESOLVA AS CONTINHAS NO CADERNO:

53+58=

18+47=

32+29=

65+46=

72+28=

91+13=

- 2- AGORA ESCREVA O RESULTADO DAS CONTINHAS POR EXTENSO:

QUARTA-FEIRA 19/05/2021.

FERIADO.

QUINTA – FEIRA 20/05/2021

PORTUGUÊS – CIÊNCIAS

HORTOLÂNDIA

HORTOLÂNDIA É UM MUNICÍPIO DA UNIDADE FEDERATIVA SÃO PAULO.

SEU TERRITÓRIO É COMPOSTO 100% PELO BIOMA MATA ATLÂNTICA.

FONTE; BIOMAS – MMA/SNIS/ MINISTÉRIO DAS CIDADES.

O **BIOMA** PODE SER DEFINIDO, SEGUNDO O IBGE, COMO **“UM CONJUNTO DE VIDA VEGETAL E ANIMAL, CONSTITUÍDO PELO AGRUPAMENTO DE TIPOS DE VEGETAÇÃO CONTÍGUOS E QUE PODEM SER IDENTIFICADOS A NÍVEL REGIONAL, COM CONDIÇÕES DE GEOLOGIA E CLIMA SEMELHANTES E QUE, HISTORICAMENTE, SOFRERAM OS MESMOS PROCESSOS DE FORMAÇÃO DA PAISAGEM, RESULTANDO EM UMA DIVERSIDADE DE FLORA E FAUNA PRÓPRIA.”**

FAUNA BIOMA DA MATA ATLÂNTICA

MICO-LEÃO-DOURADO, ONÇA-PINTADA, BICHO-PREGUIÇA, CAPIVARA, MACACOS, PREGUIÇAS, JAGUATIRICAS, CACHORROS-DO-MATO, COBRAS SÃO ALGUNS DOS MAIS CONHECIDOS ANIMAIS QUE VIVEM NA MATA ATLÂNTICA.

MAS A FAUNA DO BIOMA ONDE ESTÃO AS PRINCIPAIS CIDADES BRASILEIRAS É BEM MAIS ABRANGENTE DO QUE NOSSA MEMÓRIA PODE CONCEBER. SÃO, POR EXEMPLO, 261 ESPÉCIES CONHECIDAS DE MAMÍFEROS. ISTO SIGNIFICA QUE, SE ACRESCENTÁSSEMOS À NOSSA LISTA INICIAL O TAMANDUÁ-BANDEIRA, O TATU-PELUDO, A JAGUATIRICA, E O CACHORRO-DO-MATO, AINDA FALTARIAM 252 MAMÍFEROS PARA COMPLETAR O TOTAL DE ESPÉCIES DESSA CLASSE NA MATA ATLÂNTICA.

O MESMO ACONTECE COM OS PÁSSAROS, RÉPTEIS, ANFÍBIOS E PEIXES. EXEMPLOS DE ESPÉCIES PRESENTES NA MATA ATLÂNTICA: GARÇA, TIÊ-SANGUE, TUCANO, ARARAS, BEIJA-FLORES, PERIQUITOS, JARARACA, JACARÉ-DO-PAPO-AMARELO, COBRA-CORAL, SAPO-CURURU, PERERECA-VERDE, RÃ-DE-VIDRO, PEIXES CONHECIDOS COMO O DOURADO, O PACU E A TRAÍRA.





FONTE <https://www.ibflorestas.org.br/bioma-mata-atlantica>

<https://cnae.ibge.gov.br/en/component/content/article.html?catid=0&id=1465>

COPIE E RESPONDA AS PERGUNTAS DEPOIS DE LER AS INFORMAÇÕES ACIMA.

- 1-) QUAL BIOMA TEMOS EM HORTOLÂNDIA?
- 2-) COM SUAS PALAVRAS O QUE ENTENDEU POR BIOMA?
- 3-) A FAUNA É A VIDA ANIMAL.
COM ESSA INFORMAÇÃO RELACIONE UMA LISTA DE 5 ANIMAIS QUE VIVEM NO BIOMA MATA ATLANTICA.
- 4-) EM HORTOLÂNDIA VOCÊ JÁ TEVE A OPORTUNIDADE DE VER UM DESSES ANIMAIS DO TEXTO?
- 5-) COMO PODEMOS PROTEGER ESSES ANIMAIS E ONDE ELES VIVEM?

MATEMÁTICA

ATIVIDADE

LIVRO DE MATEMÁTICA (ÁPIS)- PÁGINAS 10 E 11.

SEXTA- FEIRA -22/05/2021.

PORTUGUÊS.

ATIVIDADES SOBRE A LEITURA DIÁRIA DA SEMANA.



ESCREVA:

- A- O TÍTULO DO LIVRO.
- B- O NOME COMPLETO DA AUTORA.
- C- QUEM VIVIA NO MUNDINHO?
- D- ESSA HISTÓRIA FALA SOBRE O QUE?
- E- POR QUE OS HOMENZINHOS DO MUNDINHO RESOLVERAM CRIAR ALGUMAS REGRAS DE SEGURANÇA?
- F- NESSA SEMANA ESTAMOS COMEMORANDO O ANIVERSÁRIO DA NOSSA CIDADE E ASSIM COMO NO MUNDINHO, PRECISAMOS OBEDECER ÀS REGRAS DE SINALIZAÇÃO NO TRÂNSITO E PRESERVAÇÃO DO MEIO AMBIENTE PARA VIVERMOS EM HARMONIA.ESCREVA UMA FRASE FALANDO SOBRE A IMPORTÂNCIA DE OBEDECERMOS AS REGRAS DE TRÂNSITO NA CIDADE DE HORTOLÂNDIA E ILUSTRE-A.

MATEMÁTICA:

COPIE E RESOLVA OS PROBLEMAS EM SEU CADERNO

MARISA TINHA 25 REAIS E GASTOU 13. COM QUANTOS REAIS ELA FICOU?	
LUÍZA QUER COMPLETAR UMA COLEÇÃO DE 28 SELOS . ELA JÁ TEM 12 . QUANTOS SELOS AINDA FALTAM PARA ELA COMPLETAR SUA COLEÇÃO?	
NA BANCA DE JORNAL DO BAIRRO VENDE -SE NA SEGUNDA FEIRA 45 JORNAIS E NA TERÇA, 24. QUANTOS JORNAIS SÃO VENDIDOS AO TODO?	

FONTE: <https://br.pinterest.com/pin/83668505567328413/>

SEMANA DE 24/05/2021 A 28/05/2021

Escola: EMEF PROFESSORA JANILDE FLORES GABYDO VALE.

Professor (a): ENILDA, ELIANE, GISELE, KÁREM, MARIA ESTER.

Ano/turma: 3ºA, B, C, D, E

REGISTRO QUINZENAL DA ROTINA DE ESTUDOS DOS ALUNOS.

DIA DA SEMANA	ROTINA DIÁRIA: DESCRIÇÃO DAS ATIVIDADES
SEGUNDA – FEIRA DATA:24/05/2021.	LEITURA DIÁRIA: O PÁSSARO SEM COR, ESCRITO POR LUÍS NORBERTO PASCOAL. (O PDF E AS ORIENTAÇÕES PARA A LEITURA SERÃO ENVIADAS NO GRUPO DE WHATSAPP DE CADA TURMA). PORTUGUÊS: PRODUÇÃO DE TEXTO A PARTIR DE TIRINHA DA TURMA DA MÔNICA. MATEMÁTICA: LIVRO DE MATEMÁTICA (ÁPIS) PÁGINAS: 12,13 E 14 (ATIVIDADES COM INTERAÇÃO DA PROFESSORA). EDUCAÇÃO FÍSICA: ATIVIDADES ESTÃO NA ABA LATERL DO BLOG.
TERÇA-FEIRA DATA:25/05/2021.	LEITURA DIÁRIA: O PÁSSARO SEM COR, ESCRITO POR LUÍS NORBERTO PASCOAL. (O PDF E AS ORIENTAÇÕES PARA A LEITURA SERÃO ENVIADAS NO GRUPO DE WHATSAPP DE CADA TURMA) PORTUGUÊS E GEOGRAFIA: ATIVIDADES A PARTIR DA OBSERVAÇÃO DO MAPA DA R.M.C RELACIONANDO À CIDADE DE HORTOLÂNDIA. MATEMÁTICA: COMPLETANDO E INTERPRETANDO TABELAS. ARTE: ATIVIDADES ESTÃO NA ABA LATERL DO BLOG
QUARTA-FEIRA DATA:26/05/2021.	LEITURA DIÁRIA: O PÁSSARO SEM COR, ESCRITO POR LUÍS NORBERTO PASCOAL. (O PDF E AS ORIENTAÇÕES PARA A LEITURA SERÃO ENVIADAS NO GRUPO DE WHATSAPP DE CADA TURMA) HISTÓRIA/GEOGRAFIA: TEXTO E ATIVIDADES SOBRE OS MEIOS DE TRANSPORTE. MATEMÁTICA: CÁLCULOS PARA ARMAR E RESOLVER NO CADERNO ENVOLVENDO A MULTIPLICAÇÃO.
QUINTA-FEIRA	LEITURA DIÁRIA: O PÁSSARO SEM COR, ESCRITO POR LUÍS NORBERTO PASCOAL. (O PDF E AS ORIENTAÇÕES PARA A LEITURA SERÃO ENVIADAS NO GRUPO DE WHATSAPP DE

<p>DATA:27/05/2021.</p>	<p>CADA TURMA)</p> <p>PORTUGUÊS - CIÊNCIAS: LIVRO DE CIÊNCIAS (BURITI MAIS CIÊNCIA) PÁGINAS: 12 A 15;16 E 17. (ATIVIDADES COM INTERAÇÃO DA PROFESSORA).</p> <p>MATEMÁTICA: LIVRO DE MATEMÁTICA (ÁPIS) PÁGINAS: 15 E 16. (ATIVIDADES COM INTERAÇÃO DA PROFESSORA).</p> <p>LÍNGUA INGLESA: COLORS AND NUMBERS (CORES E NÚMEROS) PÁGINA 19</p>
<p>SEXTA-FEIRA</p> <p>DATA:28/05/2021.</p>	<p>LEITURA DIÁRIA: O PÁSSARO SEM COR, ESCRITO POR LUÍS NORBERTO PASCOAL. (O PDF E AS ORIENTAÇÕES PARA A LEITURA SERÃO ENVIADAS NO GRUPO DE WHATSAPP DE CADA TURMA)</p> <p>PORTUGUÊS: ATIVIDADES DE ESCRITA E INTERPRETAÇÃO SOBRE A LEITURA DIÁRIA DA SEMANA</p> <p>MATEMÁTICA: LIVRO ÁPIS-PÁGINAS: 17 E 18. (ATIVIDADES COM INTERAÇÃO DA PROFESSORA).</p> <p>EDUCAÇÃO FÍSICA: ATIVIDADES ESTÃO NA ABA LATERAL DO BLOG.</p>

CONTINUE REALIZANDO O CABEÇALHO EM SEU CADERNO, TODOS OS DIAS CONFORME MODELO ABAIXO E O ALFABETO CURSIVO.

EMEF PROFESSORA JANILDE FLORES GABY DO VALE.

HORTOLÂNDIA, ----- DE MAIO DE 2021.

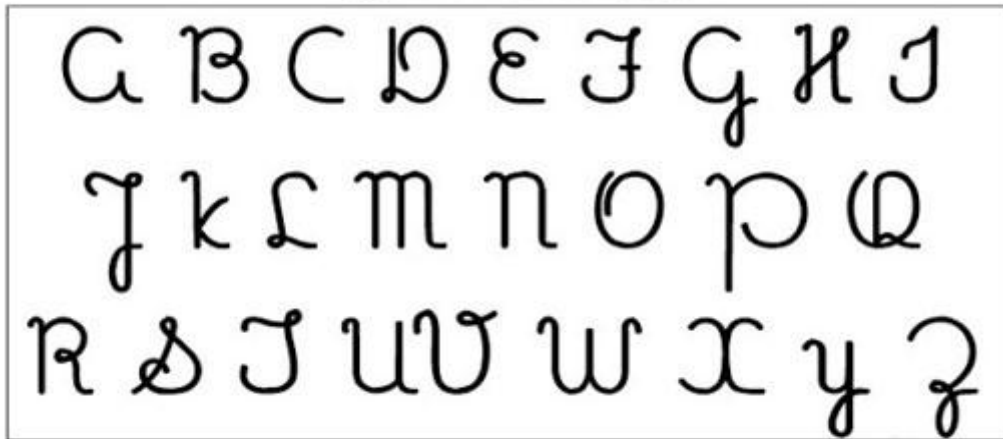
NOME COMPLETO: -----

PROFESSORA: -----

3º ANO: -----

COPIE O ALFABETO CURSIVO NO SEU CADERNO:

ALFABETO MAIÚSCULO.



ALFABETO MINÚSCULO.



SEGUNDA-FEIRA 24/05/2021

PORTUGUÊS

PRODUÇÃO DE TEXTO

OBSERVE A TIRINHA COM ATENÇÃO. ESCREVA EM SEU CADERNO UM TEXTO SOBRE A TIRINHA.

NÃO ESQUEÇA DE COLOCAR O TÍTULO DA HISTÓRIA, OS PARÁGRAFOS E OS SINAIS DE PONTUAÇÃO.



<https://br.pinterest.com/pin/13229392643206125/>

MATEMÁTICA

LIVRO DE MATEMÁTICA (ÁPIS) PÁGINAS: 12, 13 E 14.

TERÇA FEIRA 25/05/21

PORTUGUÊS E GEOGRAFIA

HORTOLÂNDIA

HORTOLÂNDIA É UM MUNICÍPIO BRASILEIRO QUE FICA NO INTERIOR DO ESTADO DE SÃO PAULO, NA REGIÃO DE CAMPINAS.

OBSERVE O MAPA ABAIXO E RESPONDA AS QUESTÕES EM SEU CADERNO.



- 1- QUANTAS CIDADES FAZEM PARTE DA REGIÃO METROPOLITANA DE CAMPINAS?
- 2- QUAIS SÃO AS CIDADES VIZINHAS A HORTOLÂNDIA?
- 3- QUAL A CIDADE MAIS DISTANTE?
- 4- NO MAPA, QUAL CIDADE FICA À ESQUERDA DE HORTOLÂNDIA E QUAL FICA À DIREITA?
- 5- EM QUE DIA, MÊS E ANO ACOTECEU A EMANCIPAÇÃO DE HORTOLÂNDIA?
- 6- COLOQUE OS NOMES DAS CIDADES EM ORDEM ALFABÉTICA.

COMPLETE

A

TABELA:

ESCOLA: _____

NOME: _____

DATA: ____/____/____

SEGUNDA TERÇA QUARTA QUINTA SEXTA



TABELA

LUIZ E RENATO PERGUNTARAM A VÁRIOS AMIGOS QUAL ERA O ANIMAL PREFERIDO DE CADA UM.

NA TABELA DA ESQUERDA, OS MENINOS USARAM TRAÇOS PARA REGISTRAR CADA VOTO, AGORA, VOCÊ VAI SUBSTITUIR, NA TABELA DA DIREITA, OS TRAÇOS POR NÚMEROS.

VOTOS DADOS AOS ANIMAIS

ANIMAL	VOTOS
CACHORRO	III
GATO	IIII
TARTARUGA	II
PASSARINHO	IIII
COELHO	IIIIII

VOTOS DADOS AOS ANIMAIS

ANIMAL	VOTOS
CACHORRO	
GATO	
TARTARUGA	
PASSARINHO	
COELHO	

SUA PROFESSORA OU PROFESSOR VAI FAZER UMA TABELA DA VOTAÇÃO DO ANIMAL PREFERIDO DA CLASSE PARTICIPE DELA E ANOTE OS RESULTADOS OBTIDOS:

VOTOS DADOS AOS ANIMAIS



ANIMAL	VOTOS

QUARTA FEIRA 26/05/21

HISTÓRIA/GEOGRAFIA

MEIOS DE TRANSPORTE

OS MEIOS DE TRANSPORTE SERVEM PARA TRANSPORTAR MERCADORIAS E PESSOAS.

OS MEIOS DE TRANSPORTE PODEM SER:

TERRESTRES: CARRO, ÔNIBUS, CAMINHÃO, BICICLETA ETC.

AÉREOS: AVIÃO, HELICÓPTERO.

AQUÁTICOS: NAVIO, BARCO, Balsa, ETC.

OS MEIOS DE TRANSPORTE QUE LEVAM VÁRIAS PESSOAS AO MESMO TEMPO, SÃO CHAMADOS DE TRANSPORTE COLETIVO.



COPIE E RESPONDA EM SEU CADERNO:

- 1- COMO PODEM SER OS MEIOS DE TRANSPORTE?
- 2- DÊ EXEMPLOS DE MEIO DE TRANSPORTE COLETIVO.
- 3- ESCREVA SE OS MEIOS DE TRANSPORTE ABAIXO SÃO TERRESTRES, AÉREOS, AQUÁTICOS, TERRESTRES.

ÔNIBUS- _____

MOTO - _____

LANCHA - _____

BOTE - _____

BALÃO - _____

AVIÃO - _____

MATEMÁTICA

ARME E RESOLVA AS MULTIPLICAÇÕES EM SEU CADERNO.

- A- $3 \times 8 =$
- B- $3 \times 5 =$
- C- $4 \times 4 =$
- D- $4 \times 9 =$
- E- $5 \times 10 =$
- F- $5 \times 6 =$

QUINTA – FEIRA 27/05/2021

PORTUGUÊS/ CIÊNCIAS.

ATIVIDADE

LIVRO DE CIÊNCIAS (BURITI MAIS CIÊNCIA) PÁGINAS: 12 A 15; 16 E 17.



<https://petropolisparacrianças.com.br/a-hora-do-conto-deste-sabado-tera-historias-sobre-animais-vivendo-conflitos-do-cotidiano-infantil/a-hora-do-conto-deste-sabado-tera-historias-sobre-animais-vivendo-conflitos-do-cotidiano-infantil/>


MATEMÁTICA.

LIVRO DE MATEMÁTICA (ÁPIS) PÁGINAS: 15 E 16.

SEXTA- FEIRA 28/05/2021.

PORTUGUÊS.

ATIVIDADES SOBRE A LEITURA DIÁRIA DA SEMANA.



ESCREVA:

- 1- O TÍTULO DO LIVRO.
- 2- O NOME COMPLETO DO AUTOR.
- 3- QUAIS SÃO OS PERSONAGENS ENCONTRADOS NESSA HISTÓRIA?
- 4- POR QUE O PÁSSARO SEM COR VIVIA SEMPRE TRISTE?
- 5- CONFORME O PÁSSARO FAZIA O BEM, APARECIAM CORES DIFERENTES NELE. QUAIS ERAM ESSAS CORES?
- 6- NA SUA OPINIÃO, POR QUE O PÁSSARO SEM COR SE TORNOU O MAIS BELO E COLORIDO DE TODOS OS PÁSSAROS?
- 7- ILUSTRE A HISTÓRIA.

MATEMÁTICA:

ATIVIDADES.

LIVRO DE MATEMÁTICA (ÁPIS)-PÁGINAS: 17 E 18.