

3º ANO.

SEMANA DE 28/06/2021 A 02/07/2021

ESCOLA: EMEF PROFESSORA JANILDE FLORES GABYDO VALE.

PROFESSOR (A): ENILDA, ELIANE, LUCIANA, KÁREM, MARIA ESTER.

ANO/TURMA: 3º A, B, C, D, E

REGISTRO QUINZENAL DA ROTINA DE ESTUDOS DOS ALUNOS.

Dia da semana	Rotina diária: descrição das atividades
Segunda – feira Data: 28/06/2021	LEITURA DIÁRIA: ARRAIÁ NA FLORESTA VEM CÁ – GELÇA ALENCAR. PORTUGUÊS: PRODUÇÃO DE TEXTO – FESTA JUNINA. MATEMÁTICA: ATIVIDADE SOBRE NÚMEROS ORDINAIS. LÍNGUA INGLESA: REVIEW (REVISÃO) PÁGINA 27
Terça-feira Data: 29/06/2021	LEITURA DIÁRIA: ARRAIÁ NA FLORESTA VEM CÁ – GELÇA ALENCAR. PORTUGUÊS - GEOGRAFIA: ACESSE O LINK https://www.youtube.com/watch?v=flAxDWR8670 E RESPONDA AS PERGUNTAS SOBRE FESTA JUNINA NO CADERNO. MATEMÁTICA: ACESSE O LINK PARA APRENDER SOBRE OS NÚMEROS ORDINAIS. https://www.youtube.com/watch?v=56xRVGr_9EY LIVRO MATEMÁTICA ÁPIS - PÁGINA 28 (INTERAÇÃO COM PROFESSORA). EDUCAÇÃO FÍSICA: ATIVIDADES ESTÃO NA ABA LATERAL DO PORTAL EDUCAÇÃO
Quarta-feira Data: 30/06/2021	LEITURA DIÁRIA: ARRAIÁ NA FLORESTA VEM CÁ – GELÇA ALENCAR. PORTUGUÊS – HISTÓRIA: INTERPRETAÇÃO DE TEXTO “LIBERDADE DE COMUNICAR É...” MATEMÁTICA: ACESSE O LINK PARA APRENDER A TABUADA DO 7. https://www.youtube.com/watch?v=pA4iF8SUFg COMPLETE A TABELA COM O RESULTADO DA MULTIPLICAÇÃO.
Quinta-feira Data: 01/07/2021	LEITURA DIÁRIA: ARRAIÁ NA FLORESTA VEM CÁ – GELÇA ALENCAR. PORTUGUÊS – CIÊNCIAS: ACESSE O LINK PARA APRENDER MAIS SOBRE OS ORGÃOS DO SENTIDO. https://youtu.be/VUOmKmlsYY LIVRO BURITI MAIS CIÊNCIAS – PÁGINAS 50,51,54 E 55. MATEMÁTICA: INTERPRETAÇÃO DO CALENDÁRIO DO MÊS DE JULHO.
Sexta-feira Data: 02/07/2021	LEITURA DIÁRIA: ARRAIÁ NA FLORESTA VEM CÁ – GELÇA ALENCAR.

PORTUGUÊS: INTERPRETAÇÃO DO LIVRO “ARRAIÁ NA FLORESTA VEM CÁ”.

MATEMÁTICA: LIVRO DE MATEMÁTICA ÁPIS – PÁGINA 29 (INTERAÇÃO COM A PROFESSORA).

ARTE: ATIVIDADES ESTÃO NA ABA LATERAL DO PORTAL EDUCAÇÃO .

CONTINUE REALIZANDO O CABEÇALHO EM SEU CADERNO E ESCREVA A FRASE DA SEMANA, TODOS OS DIAS CONFORME MODELO ABAIXO.

EMEF Jamilde Flores Gabi do Vale.

Hortelândia, ____ de ____ de 2021.

Meu nome:

Professora:



3 ano _____

TREINE LETRA CURSIVA ESCREVENDO A FRASE EM SEU CADERNO.

A festa junina tem fogueira e bandeirinhas.

SEGUNDA-FEIRA 28/06/2021
FESTA JUNINA – PRODUÇÃO DE TEXTO

1) NESTA ATIVIDADE VOCÊ DEVERÁ CONTINUAR A ESCREVER O QUE ACONTECEU NESTA HISTÓRIA. UTILIZE A SUA IMAGINAÇÃO E SUA CRIATIVIDADE. LEMBRE-SE DE TUDO O QUE APRENDEU SOBRE FESTAS JUNINAS, O QUE JÁ VIVENCIOU E O QUE MAIS GOSTA NAS FESTA JUNINAS. NÃO SE ESQUEÇA DE UTILIZAR PONTUAÇÃO, PARÁGRAFOS E DE DAR UM TÍTULO A SUA HISTÓRIA.



<https://images.app.goo.gl/Zr21bnYpJeNdxhodA> Acesso em 18 de junho de 2021.

TÍTULO: _____

ERA O DIA DA GRANDE FESTA JUNINA DA ESCOLA. A TURMA DA MÔNICA ESTAVA TODA REUNIDA PARA FESTEJAR E SE DIVERTIR.

OS PRATOS TÍPICOS, AS BRINCADEIRAS E AS DANÇAS TÍPICAS ENCANTAVAM TODOS QUE ESTAVAM NA FESTA.

TUDO IA MUITO BEM ATÉ MÔNICA E MAGALI ENCONTRARAM

AMPLIANDO SABERES: <https://youtu.be/flAxDWR8670> HISTÓRIA DA FESTA JUNINA.

MATEMÁTICA

NÚMEROS ORDINAIS.

1) OBSERVE A IMAGEM E RESPONDA:

A PROFESSORA LUIZA RESOLVEU FAZER UMA FILA POR IDADE E AS CRIANÇAS FICARAM ORGANIZADAS ASSIM:



nova
escola

<https://planosdeaula.novaescola.org.br/fundamental/1ano/matematica/os-numeros-na-ordem/788>. Acesso em 19 de junho de 2021.

A- DA ESQUERDA PARA A DIREITA, QUEM OCUPA A PRIMEIRA POSIÇÃO NA IMAGEM?

B- DA DIREITA PARA A ESQUERDA, QUEM OCUPA A SEGUNDA POSIÇÃO NA IMAGEM?

C- DA ESQUERDA PARA A DIREITA, QUEM OCUPA A TERCEIRA POSIÇÃO NA IMAGEM?

D- DA ESQUERDA PARA A DIREITA, QUEM OCUPA A SÉTIMA POSIÇÃO NA IMAGEM?

E- DA ESQUERDA PARA A DIREITA, QUE POSIÇÃO OCUPAM LUCAS E MARIA NA IMAGEM?

TERÇA FEIRA 29/06/2021

PORTUGUÊS E GEOGRAFIA

ATIVIDADE

FESTAS TRADICIONAIS E REGIONAIS – FESTA JUNINA.



ASSISTA O VÍDEO:

<https://www.youtube.com/watch?v=flAxDWR8670>

- FAÇA UMA LISTA DE 10 ITENS, COMIDAS, DANÇAS E VESTUÁRIOS QUE VEMOS APENAS EM FESTAS JUNINAS.
- ESCOLHA 3 ITENS DA SUA LISTA E FAÇA UMA FRASE PARA CADA.
- DESENHE UMA CENA DE FESTA JUNINA.

MATEMÁTICA

ASSISTA O VÍDEO PARA APRENDER OS NÚMEROS ORDINAIS:

https://www.youtube.com/watch?v=56xRVGr_9EY

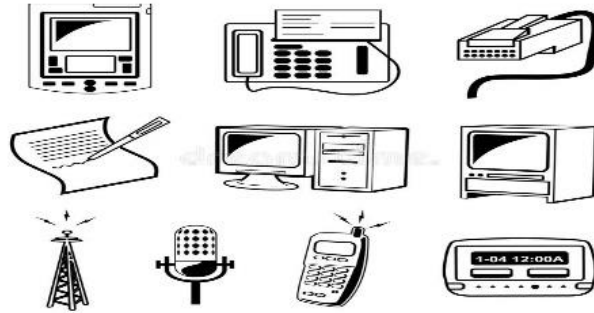
LIVRO MATEMÁTICA ÁPIS - PÁGINA 28 (INTERAÇÃO COM PROFESSORA).

Bibliografia : <https://escolaeducacao.com.br/festa-junina-para-colorir-15-desenhos-para-criancas/>

QUARTA-FEIRA 30/06/2021.

PORTUGUÊS/HISTÓRIA.

LEIA O TEXTO ABAIXO E EM SEGUIDA COPIE E RESPONDA AS ATIVIDADES NO CADERNO.



LIBERDADE DE COMUNICAR É....

COMUNICAR É IMPORTANTE:
É ESCUTAR COM ATENÇÃO,
INTERPRETAR O QUE FALAMOS
COM TODA EXATIDÃO.

PARA COMUNICAR USAMOS
SÍMBOLOS, GESTOS E SONS,
LEMOS JORNAIS, REVISTAS, LIVROS,
ESCUTAMOS RÁDIO E VEMOS TELEVISÃO.

SÃO MUITOS OS MEIOS
DE COMUNICAÇÃO:
TELEFONES, FAX, INTERNET
TEATRO, ARTE E CINEMA.

NESTE MUNDO GLOBALIZADO,
DE MUDANÇAS CONSTANTES,
TEMOS NECESSIDADE
DE COMUNICAR A TODO INSTANTE.

AUTORA: ROGÉRIA CÉLIA.

ATIVIDADES:

1- DE QUE O POEMA NOS FALA?

- 2- ESCREVA OS MEIOS DE COMUNICAÇÃO QUE APARECEM NO TEXTO E PINTE AQUELES QUE VOCÊ UTILIZA.
- 3- PROCURE NO POEMA:
A- UMA PALAVRA MONOSSÍLABA.
B- UMA DISSÍLABA.
C- UMA TRISSÍLABA.
D- UMA POLISSÍLABA.
- 4- PROCURE OUTRAS RIMAS PARA AS PALAVRAS DO POEMA:
A- COMUNICAR:-----
B- TELEVISÃO:-----


FONTE: <https://br.pinterest.com/pin/549650329521683171/>

MATEMÁTICA

PARA APRENDER A TABUADA DO 7, ACESSE O LINK ABAIXO.
<https://www.youtube.com/watch?v=pA4iF8SUFg>

ATIVIDADES:

COMPLETE OS RESULTADOS DA TABUADA DO 7 E ESTUDE.



FONTE: <https://www.belaefeliz.biz/wp-content/uploads/2015/03/tabuada-do-7-complete.gif>

QUINTA-FEIRA 01/07/2021

PORTUGUÊS/CIÊNCIAS

ASSISTA AO VÍDEO SOBRE OS ÓRGÃOS DOS SENTIDOS.

<https://youtu.be/VUOmKmlsYY>

LIVRO BURITI MAIS CIÊNCIAS – PÁGINAS 50,51,54,55 (INTERAÇÃO COM PROFESSORA).

MATEMÁTICA

OBSERVE O CALENDÁRIO E RESPONDA AS PERGUNTAS:



CALENDÁRIO
2021

JULHO

DOM	SEG	TER	QUA	QUI	SEX	SAB
				1	2	3
4	5	6	7	8	9	10
11	12	13	14	15	16	17
18	19	20	21	22	23	24
25	26	27	28	29	30	31


Obs. _____

<https://br.pinterest.com/pin/467248530098808733/>

- 1) QUANTOS DIAS TEM O MÊS DE JULHO?
- 2) EM QUE DIA DA SEMANA COMEÇOU O MÊS?
- 3) EM QUE DIA DA SEMANA TERMINARÁ O MÊS?
- 4) O DIA 14 DE JULHO SERÁ EM QUAL DIA DA SEMANA?
- 5) ESCREVA OS NOMES DOS DIAS DA SEMANA.

SEXTA-FEIRA 02/07/2021

PORTUGUÊS : INTERPRETAÇÃO DO LIVRO DE LEITURA SEMANAL



- 1- QUAL É O TÍTULO DO LIVRO?
- 2- QUEM É O AUTOR DO LIVRO E QUEM FEZ AS ILUSTRAÇÕES?
- 3- QUAL É O SIGNIFICADO DA PALAVRA "ARRAIÁ", PESQUISE E ESCREVA EM SEU CADERNO?
- 4- SOBRE O QUE O LIVRO FALA?
- 5- QUEM FICOU RESPONSÁVEL EM FAZER AS COMIDAS PARA A FESTA?
- 6- QUE ANIMAL ERA O SANFONEIRO?
- 7- POR QUE NO LIVRO FALA QUE "SOLTAR BALÃO É PROIBIDO" PESQUISE E RESPONDA?
- 8- NO LIVRO APARECE ALGUMAS RIMAS, VEJA SE CONSEGUE LEMBRAR O QUE RIMA COM:

MADEIRA-
COMILANÇA-
COMEÇOU-
PAVÃO-

- 9- FAÇA UM DESENHO BEM BONITO EM SEU CADERNO SOBRE O LIVRO:

MATEMÁTICA

LIVRO MATEMÁTICA ÁPIS - PÁGINA 29 (INTERAÇÃO COM A PROFESSORA).

SEMANA DE 05/07/2021 A 09/07/2021

ESCOLA: EMEF PROFESSORA JANILDE FLORES GABYDO VALE.

PROFESSOR (A): ENILDA, ELIANE, LUCIANA, KÁREM, MARIA ESTER.

ANO/TURMA:3ºA, B, C, D, E

REGISTRO QUINZENAL DA ROTINA DE ESTUDOS DOS ALUNOS.

Dia da semana	Rotina diária: descrição das atividades
Segunda – feira Data:05/07/2021	LEITURA DIÁRIA: A GALINHA RUIVA – ANDRÉ KOOGAN BREITMAN. PORTUGUÊS - MATEMÁTICA: INTERPRETAÇÃO DA MÚSICA “CHEGOU A HORA DA FOGUEIRA” – LAMARTINE BABO. LEITURA DOS NÚMEROS ORDINAIS. LÍNGUA INGLESA: INDEPENDE DAY (DIA DA INDEPENDÊNCIA) PÁGINA 91
Terça-feira Data:06/07/2021	LEITURA DIÁRIA: A GALINHA RUIVA – ANDRÉ KOOGAN BREITMAN. PORTUGUÊS - GEOGRAFIA: ACESSO O LINK PARA REALIZAR A ATIVIDADE. https://www.youtube.com/watch?v=zSm5bZy7dpE LIVRO GEOGRAFIA BURITI MAIS – PÁGINA 50 E 51 (INTERAÇÃO COM PROFESSORA) MATEMÁTICA: ATIVIDADE SOBRE OS NÚMEROS ORDINAIS. EDUCAÇÃO FÍSICA: ATIVIDADES ESTÃO NA ABA LATERAL DO PORTAL EDDUCAÇÃO
Quarta-feira Data:07/07/2021	LEITURA DIÁRIA: A GALINHA RUIVA – ANDRÉ KOOGAN BREITMAN. PORTUGUÊS – HISTÓRIA: ACESSO O LINK https://www.youtube.com/watch?v=M3HDz4-665c&list=RDCMUCNUX3NIRCzvnKbBsTxc33bw&start_radio=1&rv=M3HDz4-665c&t=229 APÓS ASSISTIR O VÍDEO RESPONDA AS PERGUNTAS NO CADERNO SOBRE AS TRANSFORMAÇÕES DA CIDADE AO LONGO DO TEMPO. MATEMÁTICA: RESOLVA A MULTIPLICAÇÃO NO CADERNO
Quinta-feira Data:08/07/2021	LEITURA DIÁRIA: A GALINHA RUIVA – ANDRÉ KOOGAN BREITMAN. PORTUGUÊS – CIÊNCIAS: LIVRO BURITI MAIS CIÊNCIAS – PÁGINAS 56 E 57 (INTERAÇÃO COM A PROFESSORA). MATEMÁTICA: SITUAÇÕES PROBLEMA.
Sexta-feira Data:09/07/2021	FERIADO.


CONTINUE REALIZANDO O CABEÇALHO EM SEU CADERNO E ESCREVA A FRASE DA SEMANA, TODOS OS DIAS CONFORME MODELO ABAIXO.

EMEF Jamilde Flores Gabi do Vale.

Hortelândia, ____ de _____ de 2021.

Meu nome:

Professora:



3 ano _____.

TREINE LETRA CURSIVA ESCREVENDO A FRASE EM SEU CADERNO.

Rádio, jornal, televisão, celular, são alguns meios de comunicação que temos.

SEGUNDA-FEIRA 05/07/2021

PORTUGUÊS – MATEMÁTICA

FESTA JUNINAS/NÚMEROS ORDINAIS.



<https://www.guiabh.com.br/Repositorio/Upload/Destaque/320x320/festa-junina-musicas.jpg>. Acesso em 20 de junho de 2021.

**CHEGOU A HORA DA FOGUEIRA.
LAMARTINE BABO.**

**CHEGOU A HORA DA FOGUEIRA!
É NOITE DE SÃO JOÃO...
O CÉU FICA TODO ILUMINADO
FICA O CÉU TODO ESTRELADO
PINTADINHO DE BALÃO...
PENSANDO NA CABOCLA A NOITE INTEIRA
TAMBÉM FICA UMA FOGUEIRA
DENTRO DO MEU CORAÇÃO...**

**QUANDO EU ERA PEQUENINO
DE PÉ NO CHÃO
EU CORTAVA PAPEL FINO
PRA FAZER BALÃO...
E O BALÃO IA SUBINDO
PARA O AZUL DA IMENSIDÃO...**

**HOJE EM DIA O MEU DESTINO
NÃO VIVE EM PAZ
O BALÃO DE PAPEL FINO
JÁ NÃO SOBE MAIS...
O BALÃO DA ILUSÃO...
LEVOU PEDRA E FOI AO CHÃO...**

<https://youtu.be/HMZdaE8dels> **CHEGOU A HORA DA FOGUEIRA.**

EM SEU CADERNO DE LÍNGUA PORTUGUESA, COPIE E RESPONDA AS QUESTÕES A PARTIR DA INTERPRETAÇÃO DO TEXTO- MÚSICA CHEGOU A HORA DA FOGUEIRA:

- 1) QUAL É O ASSUNTO TRATADO NA MÚSICA?
- 2) QUANTOS VERSOS E QUANTAS ESTROFES TEM A MÚSICA?
- 3) COPIE AS PALAVRAS QUE RIMAM COM BALÃO.
- 4) NA IMAGEM DA FESTA JUNINA OBERVANDO-SE DA ESQUERDA PARA A DIREITA. QUAL AS POSIÇÕES DO SANFONEIRO E DO VILEIRO?

5) SEPARE AS SÍLABAS DAS PALVRAS:

A-CHEGOU-
B-FOGUEIRA-
C-ESTRELADO-
D-ILUMINADO-
E-BALÃO-
F-IMENSIDÃO-
G-CORAÇÃO-
H-CHÃO-

6) LEIA COM ATENÇÃO.



<https://img.elo7.com.br/product/zoom/2C80720/banner-numeros-ordinais>.
Acesso em 19 de junho de 2021.

TERÇA FEIRA 06/07/2021

PORTUGUÊS E GEOGRAFIA

**ASSISTA O VÍDEO PARA REALIZAR A ATIVIDADE DO LIVRO DE
GEOGRAFIA**

<https://www.youtube.com/watch?v=zSm5bZy7dpE>


**LIVRO GEOGRAFIA BURITI MAIS – PÁGINA 50 E 51 (INTERAÇÃO COM
PROFESSORA).**

MATEMÁTICA

- ASSISTAM O VÍDEO DA SEMANA PASSADA (29/06) PARA RELEMBRAR E FAÇA A ATIVIDADE ABAIXO, ESCRVENDO NO SEU CADERNO AS FRASES COMPLETAS COM SUAS RESPOSTAS.

NÚMEROS ORDINAIS

OS NÚMEROS ORDINAIS SERVEM PARA INDICAR LUGAR, POSIÇÃO.



OBSERVE A FILA E RESPONDA:

- 1) O MENINO DE BONÉ OCUPA O _____ LUGAR NA FILA.
- 2) A MENINA DE SAIA OCUPA O _____ LUGAR.
- 3) A MULHER DE SOMBRINHA OCUPA O _____ LUGAR.
- 4) O SENHOR QUE ESTÁ DE TERNO E GRAVATA OCUPA O _____ LUGAR.
- 5) O MENINO COM CARRINHO OCUPA O _____ LUGAR.
- 6) O DONO DO CACHORRO É O _____ DA FILA.
- 7) A MOÇA DE ÓCULOS OCUPA O _____ LUGAR DA FILA.

Bibliografia <https://atividadespedagogicas.net/2018/08/atividades-de-matematica-com-numeros-ordinais.html>

QUARTA- FEIRA -07/07/2021.

PORTUGUÊS/HISTÓRIA:

ACESSE O LINK ABAIXO PARA ASSISTIR UM VÍDEO SOBRE A AULA DE HOJE: AS CIDADES SE TRANSFORMAM COM O PASSAR DO TEMPO.

https://www.youtube.com/watch?v=M3HDz4-665c&list=RDCMUCNUX3NIRCzvnKbBsTxc33bw&start_radio=1&rv=M3HDz4-665c&t=229



ATIVIDADES:

1-APÓS ASSISTIR O VÍDEO, ORGANIZE AS PALAVRAS ABAIXO E FAÇA UMA LISTA DE COMO ERA A CIDADE ANTES E DEPOIS DA SUA TRANSFORMAÇÃO AO LONGO DO TEMPO.

CHÃO DE TERRA – HOSPITAIS- POUCOS PRÉDIOS- COMÉRCIOS- ANDAR DE CARROÇA- AVENIDAS- POUCOS CARROS- PRAÇAS- TRANSPORTES COLETIVOS- SEMÁFOROS-ILUMINAÇÃO-MUITOS PRÉDIOS –NOVOS TRABALHOS.

A-CIDADE ANTES DA TRANSFORMAÇÃO-

B-CIDADE DEPOIS DA TRANSFORMAÇÃO-

2-COM A TRANSFORMAÇÃO DA CIDADE,A PAISAGEM NATURAL: RIOS E ÁRVORES,VÃO DIMINUINDO E O MEIO AMBIENTE FICANDO POLUÍDO. FAÇA UMA FRASE BEM CRIATIVA COM AS PALAVRAS:

A-PRESERVAR-

B-CULTIVAR O BEM-

MATEMÁTICA:

ARME AS CONTINHAS NO CADERNO E ESCREVA OS RESULTADOS POR EXTENSO:

A- $7 \times 2 =$

B- $7 \times 4 =$

C- $7 \times 6 =$

D- $7 \times 9 =$

QUINTA-FEIRA 08/07/2021

PORTUGUÊS/CIÊNCIAS


LIVRO BURITI MAIS CIÊNCIAS – PÁGINAS 56 E 57 (INTERAÇÃO COM PROFESSORA).

MATEMÁTICA

COPIE E RESOLVA OS PROBLEMAS NO CADERNO.

PROBLEMATIZANDO


☞ Raquel colocou 3 bombons em cada pacote.
Quantos bombons há em 7 pacotes?



Resposta: _____

Operação


☞ Um cão tem 4 patas.
Quantas patas tem 8 cães?



Resposta: _____

Operação

☞ Papai lê 2 folhas de um livro por hora.
Quantas folhas do livro papai lerá em 5 horas?



Resposta: _____

Operação

<https://br.pinterest.com/pin/2392606040209846/>

SEXTA -FEIRA 09/07/2021 – FERIADO