

# 2º ANO

## SEMANA DE 12 A 16/07/2021

ESCOLA: EMEF PROFESSORA JANILDE FLORES GABY DO VALE.  
 PROFESSOR (AS):CIDINHA, ELIANE RIO, GISELE, LUCIANA DUTRA

ANO/TURMA: 2º ANO A, B, C, D e E

### REGISTRO QUINZENAL DA ROTINA DE ESTUDOS DOS ALUNOS.

Dia da Semana	Rotina diária: descrição das atividades
SEGUNDA-FEIRA Data: 12/07/2021	LEITURA DIÁRIA: VAMOS APRENDER A HISTÓRIA DA LETRA <b>Q</b> ? ACESSE O LINK: <a href="https://youtu.be/GCjz-AotEFw">https://youtu.be/GCjz-AotEFw</a> PORTUGUÊS: FAMÍLIA SILÁBICA DA LETRA <b>Q</b> , COMPLETAR O NOME DAS FIGURAS COM A SÍLABA INICIAL. MATEMÁTICA: ADIÇÃO E SUBTRAÇÃO. <b>ARTE: ATIVIDADES ESTÃO NA ABA LATERAL DO PORTAL EDUCAÇÃO.</b>
TERÇA-FEIRA Data: 13/07/2021	LEITURA DIÁRIA: ACESSE O LINK E LEIA A HISTÓRIA: <a href="https://www.baixelivros.com.br/infantil/cachinhos-dourados-e-os-tres-ursos">https://www.baixelivros.com.br/infantil/cachinhos-dourados-e-os-tres-ursos</a> PORTUGUÊS: TEXTO LETRA <b>Q</b> , CIRCULAR AS PALAVRAS INICIADAS COM A LETRA <b>Q</b> E SEPARAR AS SÍLABAS. FORMAR FRASES. MATEMÁTICA: PROBLEMAS.
QUARTA-FEIRA Data: 14/06/2021	LEITURA DIÁRIA: ACESSE O LINK <a href="https://www.baixelivros.com.br/infantil/cachinhos-dourados-e-os-tres-ursos">https://www.baixelivros.com.br/infantil/cachinhos-dourados-e-os-tres-ursos</a> CONTINUE A LEITURA DA HISTÓRIA. CIÊNCIAS/ PORTUGUÊS: LIVRO BURITI MAIS CIÊNCIAS, PÁGINAS 46 E 47. ATIVIDADE COM INTERAÇÃO DA PROFESSORA. MATEMÁTICA/ HISTÓRIA: GRÁFICO. <b>LÍNGUA INGLESA: FEELINGS: (SENTIMENTOS) PÁGINA 37</b>
QUINTA-FEIRA Data: 15/06/2021	LEITURA DIÁRIA: ACESSE O LINK E LEIA A HISTÓRIA: <a href="https://www.baixelivros.com.br/?s=A+GALINHA+RUIVA">https://www.baixelivros.com.br/?s=A+GALINHA+RUIVA</a> PORTUGUÊS: COMPLETAR AS PALAVRAS COM <b>QUA, QUE, QUI</b> , FORMAR FRASES. MATEMÁTICA – PROBLEMAS.
SEXTA-FEIRA Data: 16/06/2021	LEITURA DIÁRIA: ACESSE O LINK E LEIA A HISTÓRIA <a href="https://www.baixelivros.com.br/?s=dudu+o+inteligente+">https://www.baixelivros.com.br/?s=dudu+o+inteligente+</a> MATEMÁTICA: ORDEM CRESCENTE E DECRESCENTE. PORTUGUÊS: PRODUÇÃO DE FRASES <b>EDUCAÇÃO FÍSICA: ATIVIDADES ESTÃO NA ABA LATERAL DO PORTAL EDUCAÇÃO.</b>

ROTINA: FAZER O CABEÇALHO NO CADERNO (NOME DA ESCOLA, DATA, NOME COMPLETO, ALFABETO, SEQUÊNCIA NUMÉRICA DE 0 ATÉ 20).


EMEF PROFESSORA JANILDE FLORES GABY DO VALE	
HORTOLÂNDIA, DE	DE 2021.
PROFESSORA:	2º
NOME:	
A-B-C-D-E-F-G-H-I-J-K-L-M-N-O-P-Q-R-S-T-U-V-W-X-Y-Z.	

SEGUNDA-FEIRA 12/06/2021  
 PORTUGUÊS

VAMOS APRENDER A HISTÓRIA DA LETRA **Q**? ACESSE O LINK E ASSISTA O VÍDEO.  
<https://youtu.be/GCjz-AotEFw>

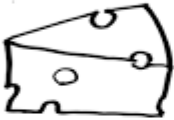




1- COMPLETE AS PALAVRAS ABAIXO:

ESCOLA: \_\_\_\_\_  
TURMA: \_\_\_\_\_ DATA: \_\_\_ / \_\_\_ / \_\_\_  
ALUNO: \_\_\_\_\_



FAMÍLIA SILÁBICA  
Q → QUA QUE QUI QUO

1-COMPLETE O NOME DE CADA FIGURA COM O SOM INICIAL

	
IJO	ABO
	
DRO	IXO
	
TA	TI

www.artedeensinareaprender.com

[https://www.google.com/url?sa=i&url=https%3A%2F%2Fwww.artedeensinareaprender.com%2F2017%2F03%2Fatividade-pronta-familia-silabica-do-g.html&psig=AOvVaw30KRwx\\_O\\_eFsHu0eBADq6G&ust=1624040160661000&source=images&cd=vfe&ved=0CAsQjhXqFwoTCKiv5Jmjn\\_ECFQAAAAAABAI](https://www.google.com/url?sa=i&url=https%3A%2F%2Fwww.artedeensinareaprender.com%2F2017%2F03%2Fatividade-pronta-familia-silabica-do-g.html&psig=AOvVaw30KRwx_O_eFsHu0eBADq6G&ust=1624040160661000&source=images&cd=vfe&ved=0CAsQjhXqFwoTCKiv5Jmjn_ECFQAAAAAABAI)

2- ESCOLHA 3 PALAVRAS DA ATIVIDADE ACIMA E FORME FRASES.

## MATEMÁTICA

RESOLVA AS OPERAÇÕES:

A-  $75-23=$

B-  $51-31=$

C-  $67-50=$

D-  $23+22=$

E-  $56+13=$

F-  $97+02=$

ROTINA: FAZER O CABEÇALHO NO CADERNO (NOME DA ESCOLA, DATA, NOME COMPLETO, ALFABETO, SEQUÊNCIA NUMÉRICA DE 20 ATÉ 40).

EMEF PROFESSORA JANILDE FLORES GABY DO VALE		
HORTOLÂNDIA, DE	DE	2021.
PROFESSORA:	2º	
NOME:		
A-B-C-D-E-F-G-H-I-J-K-L-M-N-O-P-Q-R-S-T-U-V-W-X-Y-Z.		

TERÇA-FEIRA 13/06/2021

## PORTUGUÊS

1-COPIE O TEXTO EM SEU CADERNO, E CIRCULE AS PALAVRAS INICIADAS COM A LETRA Q.

# Q



**ESTÁ NO QUADRO, ESTÁ NO QUEIJO,  
E NO QUEIXO DO QUINZINHO.  
ESTÁ NO QUILO DE QUIABO  
E NO MEIO DO FLOQUINHO.**

**TEM NO QUARTO E NA QUITANDA,  
NO QUIMONO E NO QUIOSQUE.  
NO COMEÇO DO QUINTAL  
E NO FIM DE TODO BOSQUE.**



[https://www.google.com/url?sa=i&url=https%3A%2F%2Fwww.aprenderebrincar.com%2F2012%2F07%2Falfabetizando-com-turma-da-monica\\_8954.html&psig=AOvVaw17MZqB3nbR-XQMzI61HT&ust=1624040459532000&source=images&cd=vfe&ved=0CAsQjhxqFwoTCLi7wamkn\\_ECFQAAAAAdAAAAABAD](https://www.google.com/url?sa=i&url=https%3A%2F%2Fwww.aprenderebrincar.com%2F2012%2F07%2Falfabetizando-com-turma-da-monica_8954.html&psig=AOvVaw17MZqB3nbR-XQMzI61HT&ust=1624040459532000&source=images&cd=vfe&ved=0CAsQjhxqFwoTCLi7wamkn_ECFQAAAAAdAAAAABAD)

2- COPIE AS PALAVRAS QUE VOCÊ CIRCULOU E SEPRE AS SÍLABAS. VEJA O EXEMPLO: QUADRO = QUA – DRO


3 - FORME FRASES COM AS PALAVRAS DO TEXTO QUE RIMAM.

## MATEMÁTICA

RESOLVA AS ATIVIDADES.

# ATIVIDADE

1-OBSERVE A QUANTIDADE DE MAÇÃS QUE TEM UM GRUPO DE AMIGOS.



The illustration shows four children playing together. On the left, a girl is climbing a boy, who is holding a girl, who is holding a boy. To the right of the children is a grid of 20 apples arranged in four rows of five. The first row has 4 apples, the second row has 5 apples, the third row has 5 apples, and the fourth row has 5 apples.

A) QUANTAS MAÇÃS TÊM AS MENINAS JUNTAS?

\_\_\_\_\_

B) QUANTAS MAÇÃS TÊM OS MENINOS JUNTOS?

\_\_\_\_\_

B) QUAL TOTAL DE MAÇÃS DO GRUPO?

\_\_\_\_\_

2- EM UMA CESTA HAVIA 9 MAÇÃS VERDES E 14 MAÇÃS VERMELHAS. MAGALI COMEU 5 MAÇÃS VERMELHAS. QUANTAS MAÇÃS VERMELHAS SOBRARAM?

A) 8 MAÇÃS

B) 7 MAÇÃS

C) 9 MAÇÃS



ROTINA: FAZER O CABEÇALHO NO CADERNO (NOME DA ESCOLA, DATA, NOME COMPLETO, ALFABETO, SEQUÊNCIA NUMÉRICA DE 40 ATÉ 60).

EMEF PROFESSORA JANILDE FLORES GABY DO VALE	
HORTOLÂNDIA, DE	DE 2021.
PROFESSORA:	2º
NOME:	
A-B-C-D-E-F-G-H-I-J-K-L-M-N-O-P-Q-R-S-T-U-V-W-X-Y-Z.	

QUARTA – FEIRA 14/06/21  
PORTUGUÊS/CIÊNCIAS

LIVRO BURITI MAIS CIÊNCIAS PÁGINAS 46 E 47. ATIVIDADE COM INTERAÇÃO DA PROFESSORA.

MATEMÁTICA/ HISTÓRIA

COMPLETE AS ATIVIDADES DE ACORDO COM O QUE SE PEDE.

ESCOLA \_\_\_\_\_  
 DATA \_\_\_\_\_ SÉRIE \_\_\_\_\_  
 PRO \_\_\_\_\_  
 ALUNO(A) \_\_\_\_\_










## Atividade

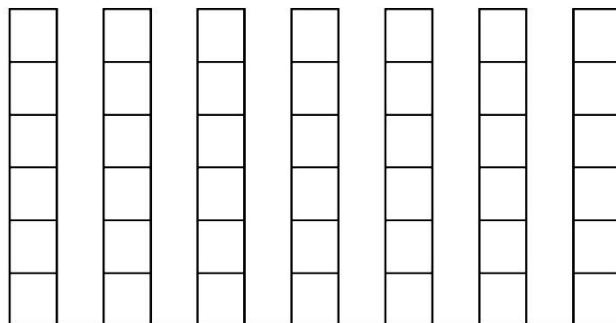
A ROSINHA GANHOU ALGUMAS PRENDAS PARA A BARRACA DA PESCARIA DE UMA FESTA JUNINA. ELA PRECISA CONTAR QUANTAS PRENDAS RECEBEU, AJUDE-A COMPLETANDO A TABELA E DEPOIS O GRÁFICO:



- COMPLETE A TABELA COM OS NUMERAIS REFERENTES À QUANTIDADE DAS PRENDAS:

- AGORA MARQUE AS QUANTIDADES NO GRÁFICO:



QUANTAS PRENDAS ELA RECEBEU AO TODO ? \_\_\_\_\_



EDUCAÇÃO E TRANSFORMAÇÃO

<https://www.google.com/url?sa=i&url=https%3A%2F%2Feducacaoetransformacaooficial.blogspot.com%2F2019%2F06%2Fsao-joao-turma-da-monica.html&psig=AOvVaw3duJtpAB9NYH73-kLhKEUs&ust=1623957854891000&source=images&cd=vfe&ved=0CAMQjB1qFwoTCPCB6NbnwPECFQAAAAAdAAAAABAE>

ROTINA: FAZER O CABEÇALHO NO CADERNO (NOME DA ESCOLA, DATA, NOME COMPLETO, ALFABETO, SEQUÊNCIA NUMÉRICA DE 60 ATÉ 80).

EMEF PROFESSORA JANILDE FLORES GABY DO VALE

HORTOLÂNDIA, DE DE 2021.

PROFESSORA: 2º

NOME:

A-B-C-D-E-F-G-H-I-J-K-L-M-N-O-P-Q-R-S-T-U-V-W-X-Y-Z.



COMPLETE AS PALAVRAS COM **QUA**, **QUE**, **QUI**.

ESCOLA: \_\_\_\_\_

NOME: \_\_\_\_\_

DATA: \_\_\_\_ / \_\_\_\_ / \_\_\_\_ SÉRIE: \_\_\_\_\_

COMPLETE AS PALAVRAS USANDO AS SÍLABAS **QUA**, **QUE** OU **QUI** DE FORMA ADEQUADA E, DEPOIS, LIGUE-AS FAZENDO A CORRESPONDÊNCIA COM AS ESCRITAS NO QUADRO.

 A ____ RELA	BIQUÍNI	 ____ NDIM
 CA ____	PERIQUITO	 BI ____ NI
 ____ IJO	QUEIJO	 ____ ABO
 PERI ____ TO	QUERUBIM	 ____ RUBIM
	CAQUI	
	QUIABO	
	QUINDIM	
	AQUARELA	

**Q**

68

ESCOLHA 2 PALAVRAS E FORME FRASES.



## MATEMÁTICA

RESOLVA OS PROBLEMAS.

APRENDER E BRINCAR



aprenderebrincar.com

BRUNA TEM 19 EXERCÍCIOS PARA RESOLVER. ELA JÁ RESOLVEU 7. QUANTOS AINDA FALTAM?

RESPOSTA: \_\_\_\_\_



aprenderebrincar.com

EM UM JARDIM, HÁ 10 FLORES VERMELHAS E 25 FLORES AMARELAS. QUANTAS FLORES HÁ NO TOTAL NO JARDIM?

RESPOSTA: \_\_\_\_\_



aprenderebrincar.com

O SORVETEIRO TINHA 34 SORVETES NO CARRINHO. CONSEGUIU VENDER 13. QUANTOS SORVETES FALTAM ELE VENDER?

RESPOSTA: \_\_\_\_\_



aprenderebrincar.com

NO JOGO DE BASQUETE, ALICE FEZ 8 PONTOS E BIA FEZ 2. QUANTOS PONTOS BIA PRECISA FAZER PARA ALCANÇAR ALICE?


RESPOSTA: \_\_\_\_\_

ROTINA: FAZER O CABEÇALHO NO CADERNO (NOME DA ESCOLA, DATA, NOME COMPLETO, ALFABETO, SEQUÊNCIA NUMÉRICA DE 80 ATÉ 100).

EMEF PROFESSORA JANILDE FLORES GABY DO VALE			
HORTOLÂNDIA	DE	DE	2021.
PROFESSORA:	2º		
NOME:			
A-B-C-D-E-F-G-H-I-J-K-L-M-N-O-P-Q-R-S-T-U-V-W-X-Y-Z.			


SEXTA – FEIRA 16/06/21  
PORTUGUÊS


FORME FRASES.





*Mistura de Alegria*


# FORME FRASES





 x \_\_\_\_\_

 x \_\_\_\_\_

 x \_\_\_\_\_

 x \_\_\_\_\_

 x \_\_\_\_\_

 x \_\_\_\_\_

[www.misturadealegria.blogspot.com.br](http://www.misturadealegria.blogspot.com.br) Adiléa

# MATEMÁTICA

NUMERE AS BOLAS DOS SORVETES, SEGUINDO AS ORDENS CRESCENTE ( DO MENOR PARA O MAIOR) E DECRESCENTE ( DO MAIOR PARA O MENOR)

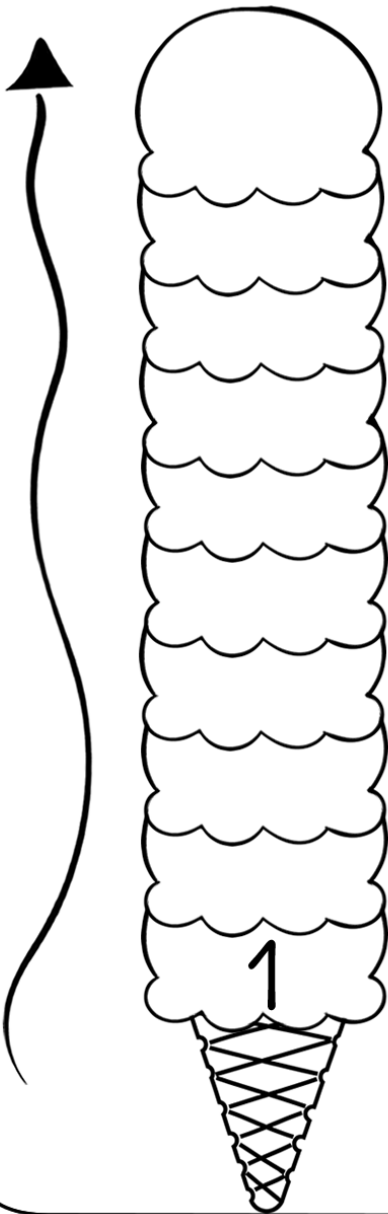
ESCOLA: \_\_\_\_\_

TURMA: \_\_\_\_\_ DATA: \_\_\_\_ / \_\_\_\_ / \_\_\_\_

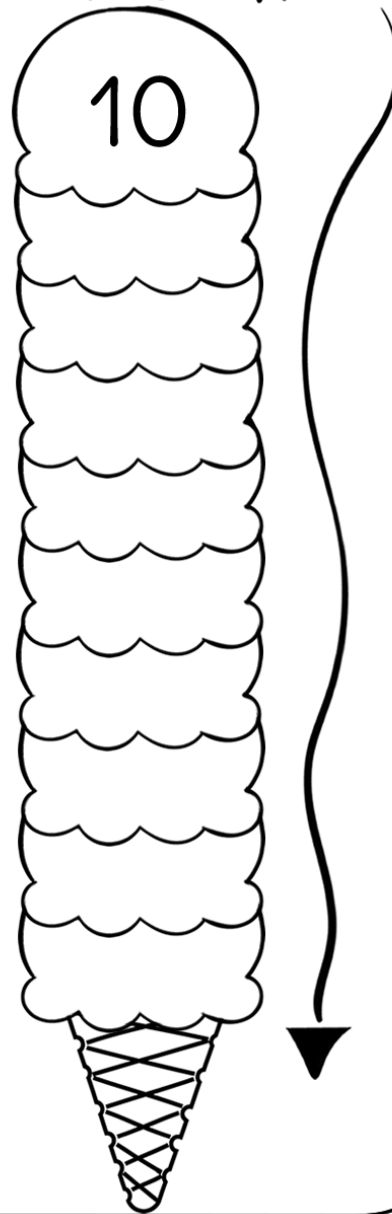
ALUNO: \_\_\_\_\_

1 - NUMERE AS BOLAS DOS SORVETES, SEGUINDO A ORDEM...

## CRESCENTE



## DECRESCENTE



www.aartedensinareaprender.com

<https://www.google.com/url?sa=i&url=https%3A%2F%2Fwww.aartedensinareaprender.com%2F2020%2F04%2Fatividade-pronta-ordem-crecente->

<ml&psig=AOvVaw07qaFmKc4Af7VJndRVGivq&ust=1623961137187000&source=images&cd=vfe&ved=0CAMQjB1qFwoTClipPD8nPECFQAAAAAdAAAAABAJ>

# SEMANA DE 19 A 23/07/2021

ESCOLA: EMEF PROFESSORA JANILDE FLORES GABY DO VALE.  
PROFESSOR (AS):CIDINHA, ELIANE RIO, GISELE, LUCIANA DUTRA

ANO/TURMA: 2º ANO A, B, C, D e E

## REGISTRO QUINZENAL DA ROTINA DE ESTUDOS DOS ALUNOS.

Dia da Semana	Rotina diária: descrição das atividades
SEGUNDA-FEIRA  Data: 19/06/21	LEITURA DIÁRIA: ACESSE O LINK E LEIA A HISTÓRIA: <a href="https://doc-08-a4-docs.googleusercontent.com/docs/securesc/f67g4v8vtjbuu7k30tc3h3li13b4lbmh/sjqt65v33ljo2ogqcpnedsc9q1fg4qb7/1625078550000/17451885231033469610/15616772185884625011/13jwTHJ3wVTmViOkLJrNqvpBDhHme4hz?e=view&amp;authuser=0&amp;nonce=819t5ce7vvuh8&amp;user=15616772185884625011&amp;hash=guhnh2i31ei29j73p6eqldhki8o5oqr9">https://doc-08-a4-docs.googleusercontent.com/docs/securesc/f67g4v8vtjbuu7k30tc3h3li13b4lbmh/sjqt65v33ljo2ogqcpnedsc9q1fg4qb7/1625078550000/17451885231033469610/15616772185884625011/13jwTHJ3wVTmViOkLJrNqvpBDhHme4hz?e=view&amp;authuser=0&amp;nonce=819t5ce7vvuh8&amp;user=15616772185884625011&amp;hash=guhnh2i31ei29j73p6eqldhki8o5oqr9</a> PORTUGUÊS/ CIÊNCIAS: LIVRO BURITI MAIS CIÊNCIAS PÁGINAS 48 E 49. ATIVIDADE COM A INTERAÇÃO DA PROFESSORA. MATEMÁTICA: SEQUÊNCIA NUMÉRICA. <b>ARTE: ATIVIDADES ESTÃO NA ABA LATERAL DO PORTAL EDUCAÇÃO</b>
TERÇA-FEIRA  Data: 20/06/21	LEITURA DIÁRIA: ACESSE O LINK E CONTINUE A LEITURA DA HISTÓRIA: <a href="https://doc-08-a4-docs.googleusercontent.com/docs/securesc/f67g4v8vtjbuu7k30tc3h3li13b4lbmh/sjqt65v33ljo2ogqcpnedsc9q1fg4qb7/1625078550000/17451885231033469610/15616772185884625011/13jwTHJ3wVTmViOkLJrNqvpBDhHme4hz?e=view&amp;authuser=0&amp;nonce=819t5ce7vvuh8&amp;user=15616772185884625011&amp;hash=guhnh2i31ei29j73p6eqldhki8o5oqr9">https://doc-08-a4-docs.googleusercontent.com/docs/securesc/f67g4v8vtjbuu7k30tc3h3li13b4lbmh/sjqt65v33ljo2ogqcpnedsc9q1fg4qb7/1625078550000/17451885231033469610/15616772185884625011/13jwTHJ3wVTmViOkLJrNqvpBDhHme4hz?e=view&amp;authuser=0&amp;nonce=819t5ce7vvuh8&amp;user=15616772185884625011&amp;hash=guhnh2i31ei29j73p6eqldhki8o5oqr9</a> PORTUGUÊS/ HISTÓRIA/ GEOGRAFIA: MEIO AMBIENTE, PRODUÇÃO DE FRASES. MATEMÁTICA: ANTECESSOR E SUCESSOR. <b>LÍNGUA INGLESA : TRAFFIC( TRÂNSITO ) PÁGINA 39</b>
QUARTA-FEIRA  Data: 21/06/21	LEITURA DIÁRIA: ACESSE O LINK E CONTINUE A LEITURA DA HISTÓRIA: <a href="https://doc-08-a4-docs.googleusercontent.com/docs/securesc/f67g4v8vtjbuu7k30tc3h3li13b4lbmh/sjqt65v33ljo2ogqcpnedsc9q1fg4qb7/1625078550000/17451885231033469610/15616772185884625011/13jwTHJ3wVTmViOkLJrNqvpBDhHme4hz?e=view&amp;authuser=0&amp;nonce=819t5ce7vvuh8&amp;user=15616772185884625011&amp;hash=guhnh2i31ei29j73p6eqldhki8o5oqr9">https://doc-08-a4-docs.googleusercontent.com/docs/securesc/f67g4v8vtjbuu7k30tc3h3li13b4lbmh/sjqt65v33ljo2ogqcpnedsc9q1fg4qb7/1625078550000/17451885231033469610/15616772185884625011/13jwTHJ3wVTmViOkLJrNqvpBDhHme4hz?e=view&amp;authuser=0&amp;nonce=819t5ce7vvuh8&amp;user=15616772185884625011&amp;hash=guhnh2i31ei29j73p6eqldhki8o5oqr9</a> PORTUGUÊS: FAMÍLIA SILÁBICA DA LETRA Q, SEPARAR AS SÍLABAS. MATEMÁTICA: SUBTRAÇÃO.
QUINTA-FEIRA  Data: 22/06/21	LEITURA DIÁRIA: ACESSE O LINK E CONTINUE A LEITURA DA HISTÓRIA: <a href="https://doc-08-a4-docs.googleusercontent.com/docs/securesc/f67g4v8vtjbuu7k30tc3h3li13b4lbmh/sjqt65v33ljo2ogqcpnedsc9q1fg4qb7/1625078550000/17451885231033469610/15616772185884625011/13jwTHJ3wVTmViOkLJrNqvpBDhHme4hz?e=view&amp;authuser=0&amp;nonce=819t5ce7vvuh8&amp;user=15616772185884625011&amp;hash=guhnh2i31ei29j73p6eqldhki8o5oqr9">https://doc-08-a4-docs.googleusercontent.com/docs/securesc/f67g4v8vtjbuu7k30tc3h3li13b4lbmh/sjqt65v33ljo2ogqcpnedsc9q1fg4qb7/1625078550000/17451885231033469610/15616772185884625011/13jwTHJ3wVTmViOkLJrNqvpBDhHme4hz?e=view&amp;authuser=0&amp;nonce=819t5ce7vvuh8&amp;user=15616772185884625011&amp;hash=guhnh2i31ei29j73p6eqldhki8o5oqr9</a> PORTUGUÊS: PRODUÇÃO DE FRASES. MATEMÁTICA: PROBLEMAS. <b>EDUCAÇÃO FÍSICA: ATIVIDADES ESTÃO NA ABA LATERAL DO PORTAL EDUCAÇÃO</b>
SEXTA-FEIRA  Data: 23/06/21	LEITURA DIÁRIA: ACESSE O LINK E FINALIZE A LEITURA DA HISTÓRIA: <a href="https://doc-08-a4-docs.googleusercontent.com/docs/securesc/f67g4v8vtjbuu7k30tc3h3li13b4lbmh/sjqt65v33ljo2ogqcpnedsc9q1fg4qb7/1625078550000/17451885231033469610/15616772185884625011/13jwTHJ3wVTmViOkLJrNqvpBDhHme4hz?e=view&amp;authuser=0&amp;nonce=819t5ce7vvuh8&amp;user=15616772185884625011&amp;hash=guhnh2i31ei29j73p6eqldhki8o5oqr9">https://doc-08-a4-docs.googleusercontent.com/docs/securesc/f67g4v8vtjbuu7k30tc3h3li13b4lbmh/sjqt65v33ljo2ogqcpnedsc9q1fg4qb7/1625078550000/17451885231033469610/15616772185884625011/13jwTHJ3wVTmViOkLJrNqvpBDhHme4hz?e=view&amp;authuser=0&amp;nonce=819t5ce7vvuh8&amp;user=15616772185884625011&amp;hash=guhnh2i31ei29j73p6eqldhki8o5oqr9</a> PORTUGUÊS; TEXTO LETRA Q, INTERPRETAÇÃO, SEPARAR SÍLABAS, FICHA DE LEITURA.

MATEMÁTICA: ADIÇÃO.
---------------------

ROTINA: FAZER O CABEÇALHO NO CADERNO (NOME DA ESCOLA, DATA, NOME COMPLETO, ALFABETO, SEQUÊNCIA NUMÉRICA DE 0 ATÉ 20).

EMEF PROFESSORA JANILDE FLORES GABY DO VALE
---

HORTOLÂNDIA, DE DE 2021.
--------------------------

PROFESSORA: 2º
----------------

NOME:
-------

A-B-C-D-E-F-G-H-I-J-K-L-M-N-O-P-Q-R-S-T-U-V-W-X-Y-Z.
--

SEGUNDA FEIRA 19/06/21  
PORTUGUÊS / CIÊNCIAS

LIVRO BURITI MAIS CIÊNCIAS PÁGINAS 48 E 49. ATIVIDADE COM INTERAÇÃO DA PROFESSORA.

MATEMÁTICA

COMPLETE A SEQUÊNCIA NUMÉRICA.

NOME: \_\_\_\_\_

ESCREVA OS NÚMEROS ATÉ 100

1			4					
								20
					26			
	32							
							48	
		53						
						67		
				75				
81								
			94					100

©Rebecca Anderton 2012

continhuoalternativo.com.br

[https://www.google.com/url?sa=i&url=https%3A%2F%2Fbr.pinterest.com%2Fpin%2F290411875949999113%2F&psig=AOvVaw0nuVFILVgcqiark-VGFgHQ&ust=1623966466643000&source=images&cd=vfe&ved=0CAMQjB1qFwoTCMCN\\_veRnfECFQAAAAAdAAAAABAT](https://www.google.com/url?sa=i&url=https%3A%2F%2Fbr.pinterest.com%2Fpin%2F290411875949999113%2F&psig=AOvVaw0nuVFILVgcqiark-VGFgHQ&ust=1623966466643000&source=images&cd=vfe&ved=0CAMQjB1qFwoTCMCN_veRnfECFQAAAAAdAAAAABAT)

ROTINA: FAZER O CABEÇALHO NO CADERNO (NOME DA ESCOLA, DATA, NOME COMPLETO, ALFABETO, SEQUÊNCIA NUMÉRICA DE 20 ATÉ 40).

EMEF PROFESSORA JANILDE FLORES GABY DO VALE	
HORTOLÂNDIA, DE	DE 2021.
PROFESSORA:	2º
NOME:	
A-B-C-D-E-F-G-H-I-J-K-L-M-N-O-P-Q-R-S-T-U-V-W-X-Y-Z.	

TERÇA FEIRA



20/06/21

PORTUGUÊS / HISTÓRIA / GEOGRAFIA

1- FAÇA UM ( x ) NOS OBJETOS QUE ESTÃO POLUINDO O RIO.



<https://www.google.com/url?sa=i&url=http%3A%2F%2Froseartseducar.blogspot.com%2F2012%2F02%2Fmeio-ambiente.html&psig=AOvVaw3izczeH8Fk8xhEHMfk2haw&ust=1623967221453000&source=images&cd=vfe&ved=0CAMQjB1qFwoTCOCd2KmUnfECFQAAAAAdAAAAABAT>

2- FORME FRASES COM AS PALAVRAS ABAIXO:

PNEU \_\_\_\_\_.

BOTA \_\_\_\_\_.



LATA \_\_\_\_\_.

MADEIRA \_\_\_\_\_.



## MATEMÁTICA

COMPLETE COM O ANTECESSOR (QUE VEM ANTES) E O SUCESSOR (O QUE VEM DEPOIS).

NOME: _____			DATA: ___/___/___		
1. Coloque o número que vem antes e depois.					
					
	25			95	
	18			23	
	30			69	
	56			99	
	74			12	
	15			20	
	27			40	
	71			69	


ROTINA: FAZER O CABEÇALHO NO CADERNO (NOME DA ESCOLA, DATA, NOME COMPLETO, ALFABETO, SEQUÊNCIA NUMÉRICA DE 40 ATÉ 60).

EMEF PROFESSORA JANILDE FLORES GABY DO VALE	
HORTOLÂNDIA,	DE DE 2021.
PROFESSORA:	2º
NOME:	
A-B-C-D-E-F-G-H-I-J-K-L-M-N-O-P-Q-R-S-T-U-V-W-X-Y-Z.	

QUARTA FEIRA 21/06/21

PORTUGUÊS

LIGUE O DESENHO AO NOME, DEPOIS SEPRE AS SÍLABAS.



LIGUE E SEPRE AS SÍLABAS



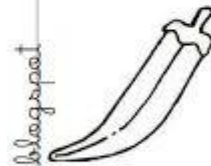
QUIABO

--	--	--



QUINZE

--	--



QUIMONO

--	--	--

damigimhaeduca.blogspot

15

QUATI

--	--




QUIBE

--	--

## MATEMÁTICA

RESOLVA AS SUBTRAÇÕES COM ATENÇÃO.

**MATEMÁTICA SUBTRAÇÃO**

$\begin{array}{r} 67 \\ -45 \\ \hline \end{array}$	$\begin{array}{r} 45 \\ -23 \\ \hline \end{array}$	$\begin{array}{r} 89 \\ -17 \\ \hline \end{array}$	$\begin{array}{r} 53 \\ -23 \\ \hline \end{array}$
$\begin{array}{r} 64 \\ -23 \\ \hline \end{array}$	$\begin{array}{r} 75 \\ -31 \\ \hline \end{array}$	$\begin{array}{r} 86 \\ -12 \\ \hline \end{array}$	$\begin{array}{r} 27 \\ -10 \\ \hline \end{array}$
$\begin{array}{r} 38 \\ -25 \\ \hline \end{array}$	$\begin{array}{r} 49 \\ -32 \\ \hline \end{array}$		
$\begin{array}{r} 12 \\ -11 \\ \hline \end{array}$	$\begin{array}{r} 64 \\ -23 \\ \hline \end{array}$		

profrafaelak.blogspot.com

<https://www.criarrecriarensinar.com/2019/04/adicao-e-subtracao.html>

ROTINA: FAZER O CABEÇALHO NO CADERNO (NOME DA ESCOLA, DATA, NOME COMPLETO, ALFABETO, SEQUÊNCIA NUMÉRICA DE 60 ATÉ 80).

EMEF PROFESSORA JANILDE FLORES GABY DO VALE	
HORTOLÂNDIA, DE	DE 2021.
PROFESSORA:	2º
NOME:	
A-B-C-D-E-F-G-H-I-J-K-L-M-N-O-P-Q-R-S-T-U-V-W-X-Y-Z.	

QUINTA-FEIRA 22/06/21  
PORTUGUÊS

Escola \_\_\_\_\_

Nome \_\_\_\_\_

Atividade Linguagem

QUIBE QUIABO  
QUEIJO QUERIDA  
QUADRO  
QUOCIENTE  
QUALIDADE

OBSERVE AS PALAVRAS DO QUADRO E ESCREVA-AS NOS LOCAIS INDICADOS DE ACORDO COM A SÍLABA INICIAL.

QUA \_\_\_\_\_

QUE \_\_\_\_\_

QUI \_\_\_\_\_

QUO \_\_\_\_\_

Ideia Criativa-Gi Barbosa

<https://www.soescola.com/2016/07/atividades-de-alfabetizacao-com-letra-q.html>

FORME FRASES COM AS PALAVRAS ABAIXO:

QUEIJO \_\_\_\_\_.

QUADRO \_\_\_\_\_.

QUIBE \_\_\_\_\_.

## MATEMÁTICA

### RESOLVA OS PROBLEMAS COM ATENÇÃO

#### APRENDER E BRINCAR



aprenderebrincar.com

NUMA CAIXA HÁ 7 CHOCOLATES AMARGOS E 8 CHOCOLATES BRANCOS. QUANTOS CHOCOLATES HÁ NESSA CAIXA?

RESPOSTA: HÁ \_\_\_ CHOCOLATES NESSA CAIXA.



aprenderebrincar.com

PEDRO COMPROU 15 GIBIS PARA LER. ATÉ O MOMENTO LEU 4. QUANTOS GIBIS AINDA FALTAM ELE LER?

RESPOSTA: FALTAM \_\_\_ GIBIS PARA ELE LER.



aprenderebrincar.com

NO JARDIM HAVIA 5 BORBOLETAS GRANDES E CHEGARAM MAIS 4 BORBOLETAS PEQUENAS. QUANTAS BORBOLETAS TINHAM AO TODO?

RESPOSTA: TINHAM \_\_\_ BORBOLETAS NO TOTAL.



aprenderebrincar.com

O CARTEIRO TINHA 9 CARTAS PARA ENTREGAR. ENTREGOU APENAS 7. QUANTAS CARTAS FALTAM ELE ENTREGAR?

RESPOSTA: FALTAM \_\_\_ CARTAS PARA ENTREGAR.



ROTINA: FAZER O CABEÇALHO NO CADERNO (NOME DA ESCOLA, DATA, NOME COMPLETO, ALFABETO, SEQUÊNCIA NUMÉRICA DE 20 ATÉ 40).

EMEF PROFESSORA JANILDE FLORES GABY DO VALE		
HORTOLÂNDIA, DE	DE	2021.
PROFESSORA:	2º	
NOME:		

SEXTA FEIRA

23/06/21

PORTUGUÊS

LEIA O TEXTO E RESPONDA AS QUESTÕES COM ATENÇÃO.




## POEMA - LETRA Q

### O QUATI

WENIDARC CINTRA

O QUATI MORA NA MATA  
E GOSTA DE COMER BEM.  
É PELUDO E TEM QUATRO PATAS.  
NÃO APROVA AS QUEIMADAS,  
E QUER SER LIVRE TAMBÉM.



#### ATIVIDADES COM A LETRA Q:

⇒ TRABALHANDO O TEXTO:

A) ONDE O QUATI MORA?

B) COMO ELE É?

C) DE QUE ELE NÃO GOSTA?

D) QUANTAS PATAS ELE TEM?



[https://www.google.com/url?sa=i&url=https%3A%2F%2Fonlinecursosgratuitos.com%2F50-atividades-com-a-letra-q-para-imprimir-alfabetizacao-1o-ano%2F&psig=AOvVaw10IsQD\\_mIqobfeRaCSYsUO&ust=1624040260007000&source=images&cd=vfe&ved=0CAsQjhxqFwoTCLiPt9Cjn\\_ECFQAAAAAdAAAAABAE](https://www.google.com/url?sa=i&url=https%3A%2F%2Fonlinecursosgratuitos.com%2F50-atividades-com-a-letra-q-para-imprimir-alfabetizacao-1o-ano%2F&psig=AOvVaw10IsQD_mIqobfeRaCSYsUO&ust=1624040260007000&source=images&cd=vfe&ved=0CAsQjhxqFwoTCLiPt9Cjn_ECFQAAAAAdAAAAABAE)

2-COPIE AS PALAVRAS DO TEXTO COM A LETRA Q E SEPRE AS SÍLABAS.

3- VAMOS TREINAR A LEITURA?



### LEITURINHA LETRA Q

QUA	QUE	QUI
QUATI	QUERO	QUIBE
QUATRO	QUEIJO	QUILO
QUASE	QUEIMA	QUINZE
QUADRO	QUERIDO	QUINTA
QUADRA	QUEBRA	QUIETO

<https://www.google.com/url?sa=i&url=https%3A%2F%2Fdanieducar.com.br%2Ffichas-de-leitura-alfabetizacao-turma-da-monica%2F&psig=AOvVaw0fBVNXclxIMIBHh68zug5S&ust=1623971336187000&source=images&cd=vfe&ved=0CAMQjB1qFwoTCKC84-6infECFQAAAAAdAAAAABAD>

### MATEMÁTICA

RESOLVA AS ADIÇÕES COM ATENÇÃO.

# CONTINHAS DE ADIÇÃO

D	U
4	1
+ 21	

D	U
3	5
+ 14	

D	U
8	0
+ 10	

D	U
5	7
+ 22	

D	U
5	0
+ 39	



D	U
1	0
+ 10	

D	U
7	4
+ 13	

D	U
6	6
+ 21	

D	U
4	2
+ 34	

D	U
2	1
+ 10	