

SEMANA DE 26 A 30 DE JULHO DE 2021 - **4º ANO** _____
ESCOLA: EMEF PROFª LÍLIAN C. M. DE ARAÚJO.
PROFESSORAS: FÁTIMA, ROSEMAR, ROSILENE, VILANI
NOME: _____

SEGUNDA-FEIRA, 26 DE JULHO DE 2021.

LEITURA DIÁRIA: 10 fatos e curiosidades sobre as olimpíadas. Acesso em 04.07.2021. https://youtu.be/1jxG0gqJp_E

ATIVIDADE DE HOJE: Hoje vamos aprender um pouco sobre uma importante competição que deveria ter acontecido no período de 24 de julho a 9 de agosto de 2020.

Devido à Pandemia, a 32ª Olimpíada foi adiada para 2021. A cidade sede será Tóquio, no Japão, e terá 33 modalidades esportivas, com a expectativa de participação de mais de 11 mil atletas, os quais representarão mais de 204 países.

A mascote das Olimpíadas de Tóquio foi nomeada de Miraitowa, nome formado pelas palavras japonesas Mirai (futuro) e Towa (eternidade), que representam o desejo de um futuro cheio de esperança nos corações de todas as pessoas do mundo.

Considerado o maior evento esportivo do planeta, os Jogos Olímpicos acontecem de 4 em 4 anos e têm como objetivo estimular a competição sadia entre os povos dos cinco continentes. Como já dizia o Barão de Coubertin, “o importante não é vencer, mas competir, e com dignidade”.

1. De acordo com o que você aprendeu sobre os Jogos Olímpicos, você acha esse evento realmente importante para o planeta? Por quê?

2. Pesquise sobre os esportes olímpicos e faça uma ilustração sobre o esporte que você achou mais interessante.

Se quiser saber mais sobre os jogos, quem e onde começaram, acesse o link: <https://www.dci.com.br/esporte/historia-das-olimpiadas-muito-alem-da-competicao/111953/> e descubra muitas curiosidades interessantes.



<https://echoboomer.pt/jogos-olimpicos-de-toquio-devem-acontecer-em-2021/>

EDUCAÇÃO FÍSICA: ENTRE NO LINK ABAIXO E VEJA A ATIVIDADE PREPARADA ESPECIALMENTE PARA VOCÊ

<https://portaleducacao.hortolandia.sp.gov.br/index.php/ed-fisica>

TERÇA-FEIRA, 27 DE JULHO DE 2021.

LEITURA DIÁRIA: Os 5 novos esportes na olimpíada ToKyo 2020-2021.

<https://youtu.be/kRXdlX-8jtq>

ATIVIDADE DE HOJE: Pessoal, vamos estudar um pouco mais sobre sólidos geométricos e entender a composição dos números.

- 1) No Livro Ápis na página 40, vamos compreender o que são Poliedros. Leia com atenção e responda as questões.
- 2) Nas páginas 103 e 104 do Ápis, você encontrará algumas situações problema com adição, decomposição e quadro mágico.
- 3) Em seguida deverá fazer a atividade do Emai, páginas 24, 25 e 26.

ARTE: ENTRE NO LINK ABAIXO E VEJA A ATIVIDADE PREPARADA ESPECIALMENTE PARA VOCÊ

<https://portaleducacao.hortolandia.sp.gov.br/index.php/artes>

QUARTA-FEIRA, 28 DE JULHO DE 2021.

LEITURA DIÁRIA: Atletas brasileiros destaques para as olimpíadas.

<https://youtu.be/7PObDzGeAaA>

ATIVIDADE DE HOJE: Vamos aprender um pouco mais sobre as modalidades que teremos na edição desta olimpíada, e outras curiosidades.

Pesquise e responda:

- 1) Os jogos olímpicos de 2016 aconteceram no _____
- 2) Os anéis olímpicos representam:
 Os arcos dos jogos
 A união dos 5 continentes
 O símbolo do futebol

3) o nome dos 5 continentes são _____

4) Este ano teremos mais de 40 modalidades nessa olimpíada. Encontre nesse caça palavras apenas 16. Depois escolha 3 delas para explicar como acontecem:

Z	A	N	A	T	A	Ç	A	O	V	H	N	W	C	H
T	R	P	M	H	Ç	G	H	M	L	I	O	Y	P	A
W	W	I	Q	A	Z	Z	X	J	U	D	O	J	Q	N
T	E	N	I	S	X	C	I	C	L	I	S	M	O	D
I	T	G	Q	Ç	P	A	S	D	U	E	H	Q	Q	E
B	T	-	A	M	L	N	C	Y	Y	Q	I	C	D	B
A	A	P	T	V	B	O	F	D	S	J	P	V	C	O
S	P	O	L	O	-	A	Q	U	A	T	I	C	O	L
Q	J	N	E	L	Y	G	Y	G	H	R	S	I	K	H
U	J	G	T	E	U	E	S	G	R	I	M	A	L	O
E	P	R	I	I	G	M	R	E	R	A	O	X	D	P
T	M	S	S	A	S	D	F	F	U	T	E	B	O	L
E	M	F	M	D	F	B	V	V	N	L	U	T	A	S
Z	R	T	H	V	E	H	N	D	L	O	J	C	R	O

5) Complete as palavras com as letras S, SS, C, Ç.

- a) pen_____amento b) mo_____a c) compara_____ão d) situa_____ão
d) a_____im e) prin_____esa f) en_____inar g) fal_____idade
h) capa_____idade i) a_____ado j) a_____ombra_____ão k)
ma_____a

LÍNGUA INGLESA: ENTRE NO LINK ABAIXO E VEJA A ATIVIDADE PREPARADA PELA TEACHER ESPECIALMENTE PARA VOCÊ

<https://portaleducacao.hortolandia.sp.gov.br/index.php/ingles>


QUINTA-FEIRA, 29 DE JULHO DE 2021.

LEITURA DIÁRIA: História das olimpíadas –Professora Alda. Disponível em <https://youtu.be/wSXe31GTq3c> Acesso em 06/07/2021.

ATIVIDADE DE HOJE: Vamos aprender um pouco mais sobre as Olimpíadas lendo os textos informativos e respondendo as perguntas.

Anéis Olímpicos

Os cinco aros interligados que compõem o estandarte possuem cores diferentes, cada uma representando um continente: azul, a Europa; amarelo, a Ásia; preto, a África; verde, a Oceania; e vermelho, as Américas.



Os anéis entrelaçam-se para dar voz a valores como o universalismo e o humanismo. Os aros que compõem a bandeira são de cores diferentes para representar o respeito às diversidades de todas as nações e contrastam com o fundo branco, que representa a paz entre os continentes.

Fonte: Disponível em <https://brasilecola.uol.com.br/educacao-fisica/simbolos-olimpicos.htm>

Mascotes



MIRAITOWA será o **mascote** dos Jogos **Olímpicos**. Esse nome é uma combinação das palavras em japonês “futuro” (mirai) e “eternidade” (towa) e, segundo a organização, “foi escolhido para promover um futuro cheio de esperança eterna nos corações das pessoas em todo o mundo”.



SOMEITY será o **mascote** oficial dos Jogos Paralímpicos. O nome e a cor rosa da personagem foram inspirados em uma cerejeira chamada someiyoshino, que é bastante comum no Japão. O nome também é uma combinação com a palavra em inglês “so mighty”, que significa “tão poderosa”.

Medalhas

Os primeiros campeões olímpicos recebiam como prêmio uma coroa feita com folhas de louro e oliveira. Os vencedores também recebiam alimentação gratuita por toda a vida, garantia de seu lugar em teatros e o título de herói da sua cidade.



A partir de 1904 foi instituída a premiação para o segundo e terceiro colocados, que receberiam medalhas de prata e bronze, respectivamente. Essa modalidade de pontuação acabou espalhando-se por outras competições esportivas.

Fonte: Disponível em <https://brasilecola.uol.com.br/educacao-fisica/simbolos-olimpicos.htm>

Após a leitura dos textos, responda as perguntas abaixo:

1) O que representa cada anel olímpico? _____

2) Observe o nome das cores abaixo e escreva qual continente representa cada uma delas:

Verde-
Vermelho-
Amarelo-
Preto-
Azul-

3) Qual o nome dos mascotes oficiais das olimpíadas? Explique o significado do nome de cada um. _____

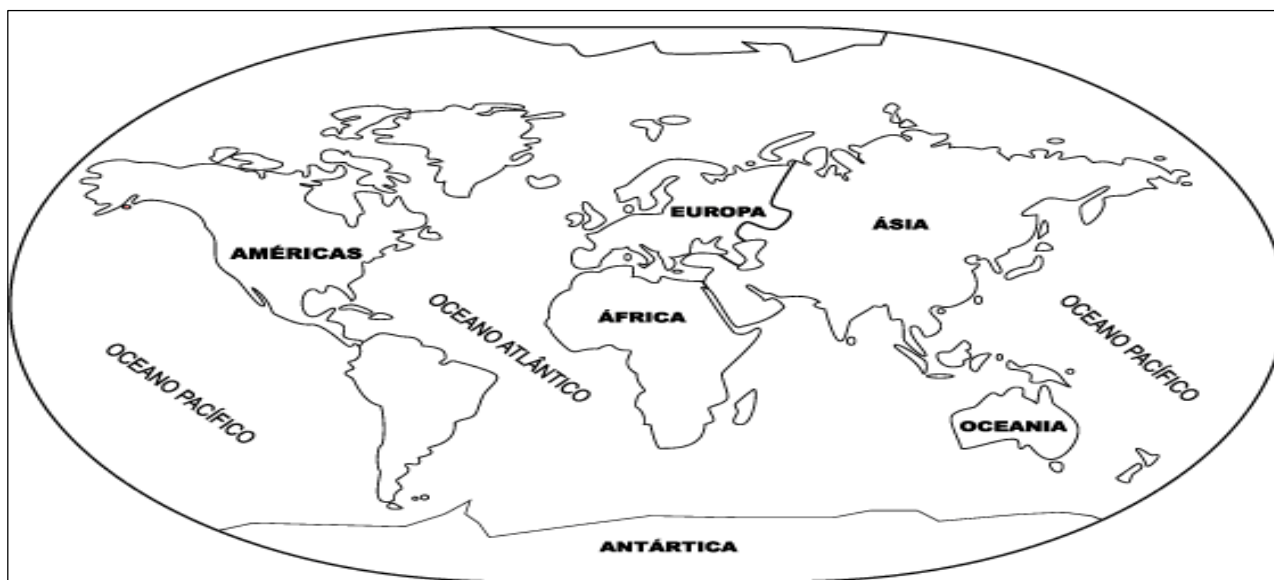
4) No início dos jogos olímpicos como era feita a premiação dos campeões? E nos dias de hoje como é feita a premiação?

Continentes e oceanos

O planeta Terra possui seis grandes **continentes**: África, Ásia, Europa, Oceania, América e Antártida.

Veja, no mapa abaixo, a distribuição dos continentes e oceanos. Observe também, a localização do continente Asiático, onde está localizado o Japão, país que será a sede dos jogos olímpicos.

Continentes e Oceanos



1) Observe o mapa acima e responda:

Fonte: <https://br.pinterest.com/pin/526710118918873595/>

a) Qual é o título do mapa? _____

b) O que ele mostra? _____

c) Escreva o nome dos continentes. Em qual continente está localizado o Brasil? _____

Você sabia?

Os Jogos Olímpicos estão programados para acontecer na capital japonesa, Tóquio. O Japão é considerado a segunda maior potência econômica do planeta. Devido sua localização, no extremo leste da **Ásia**, o país é conhecido como a “terra do sol nascente”.



Fonte: <https://produto.mercadolivre.com.br/MLB->

Fonte: Disponível em <https://mundoeducacao.uol.com.br/geografia/japao-1.htm#:~:text=Considerado%20a%20segunda%20maior%20pot%C3%Aancia,%E2%80%9Cterra%20do%20sol%20nascente%E2%80%9D>. ADAPTADO. Acesso em 06/07/2021

SEXTA-FEIRA, 30 DE JULHO DE 2021


LEITURA DIÁRIA: Cadeia alimentar- Aprendendo Ciências. Disponível em <https://youtu.be/JNy9lxAllwE> Acesso em 06/07/2021.

ATIVIDADE DE HOJE: Vamos organizar as figuras montando cada cadeia alimentar. A professora dará mais explicação no grupo de Whatsapp.


Atividade na prática: Cadeia alimentar

Na natureza, as cadeias alimentares não se mantêm isoladas umas das outras. Produtores, consumidores e decompositores normalmente fazem parte de diversas cadeias ao mesmo tempo. Por exemplo, uma planta pode servir de alimento para um inseto e uma ave, enquanto um mamífero pode se alimentar de frutos e também de invertebrados.


1) Recorte os conjuntos de figuras abaixo e monte no caderno a cadeia alimentar de cada uma delas. (não se esqueça de utilizar as setas)




<https://br.depositphotos.com/stock-photos/desenhos-animados-peixes.html>




<https://galeria.colorir.com/animais/um-caracol-pintado-por-1499865.html>




<https://pt.dreamstime.com/fundo-branco-de-tiragem-da->



<https://pt.dreamstime.com/ilustra%C3%A7%C3%A3o-stock-as-plantas-escolhem->



<https://evrikak.net/criatividade/desenho/besouro/>



<https://pt.dreamstime.com/ilustra%C3%A7%C3%A3o-stock-as-plantas-escolhem->




<https://www.dicaspraticas.com.br/desenhos-de-aguia-para-imprimir-e-colorir/>



<https://br.freepik.com/fotos-vetores-gratis/sapo-desenho>



<https://br.freepik.com/vetores->




<https://br.pinterest.com/pin/184014334758352420/>



<https://br.pinterest.com/pin/785104147525187947>



<https://i.pinimg.com/736x/df/2f/90/d2f902354b9310dc>



<https://www.smartkids.com.br/trabalho/cadeia->