

SEMANA DE 09 A 13 DE AGOSTO DE 2021 - 4º ANO \_\_\_\_\_.

ESCOLA: EMEF PROFª LÍLIAN C. M. DE ARAÚJO.

PROFESSORAS: FÁTIMA, ROSEMAR, ROSILENE, VILANI

NOME: \_\_\_\_\_

## SEGUNDA-FEIRA, 09 DE AGOSTO DE 2021.

**LEITURA DIÁRIA:** “Você sabe o que é folclore?” Disponível em <https://www.youtube.com/watch?v=HekBDnrMI6A> Acesso em 30/07/2021

**ATIVIDADE DE HOJE:** Vamos ler e cantar a música “Você sabe o que é folclore” e completar com as informações do texto.

**Folclore** (do inglês *folklore*: "**conhecimento popular**") é um gênero da cultura de origem popular, que representa a identidade social de uma comunidade através de atividades culturais que nasceram, individualmente ou coletivamente, e se desenvolveram com o povo (costumes e tradições) transmitidos entre gerações.

Fonte: Disponível em <https://pt.m.wikipedia.org/wiki/Folclore> Acesso em 24/07/2021.

Você sabe o que é Folclore? Vamos conhecer a letra de uma música que é uma Paródia da música Asa Branca – Luiz Gonzaga:

**Você sabe o que é folclore?**



Você sabe o que é folclore ?  
Vou lhe dar a explicação  
É tudo aquilo que vem do povo  
E nasce livre do coração.

Tem a lenda da Mãe d'Água,  
Tem a história do Saci,  
Do Curupira, Vitória-Régia,  
Do Caipora e Jurupari.



Tem cantigas de criança,  
Tem modinha, tem lundu,  
Tem muito frevo, baião e samba,  
Cateretê e maracatu.

Os ditados populares  
Mostram o que o povo sente:  
Quem não tem cão, caça com gato.  
Olho por olho, dente por dente.



Minha terra tem de tudo  
Tem angu, tem mungunzá,  
Tem carne seca, tem rapadura,  
Tem caruru e tem vatapá.



Isso tudo pode crer  
Foi do povo que saiu.  
É o folclore da minha gente,  
Da gente boa do meu Brasil.



Paródia de Asa Branca, de Luiz Gonzaga

Fonte: <https://br.pinterest.com/pin/323625923227575885/>

Agora que você já leu e já cantou, retire da letra da música:

1) O que é folclore: \_\_\_\_\_

2) Escreva aqui o nome das lendas citadas na música: \_\_\_\_\_

3) Escreva um ditado popular citado na música: \_\_\_\_\_

4) Escreva pelo menos cinco comidas populares encontradas na música: \_\_\_\_\_

5) Complete com informações do texto:

a) Tem cantigas de criança, Tem modinha, tem lundu, Tem muito \_\_\_\_\_, \_\_\_\_\_ e \_\_\_\_\_, \_\_\_\_\_, \_\_\_\_\_.

6) Observe a tirinha abaixo, faça a leitura e complete com a pontuação: (! / ? / . / ... / , / )

Fonte: <http://tirasemquadrinhos.com/2010/>

a) Agora você vai continuar contando essa história fora dos quadrinhos

**XAXADO** / Antonio Cedraz



em seu caderno, retirando as falas dos balões e acrescentando as informações necessárias para que o leitor possa entendê-la sem as imagens. Para isso, lembre-se de usar os sinais de pontuação adequados. (! / ? / . / ... / , / \_)

Eu já comecei, você continua...

Em uma tarde quente no Sertão Nordestino, Xaxado procurou seu amigo Saci para tirar uma dúvida:

**EDUCAÇÃO FÍSICA: ENTRE NO LINK ABAIXO E VEJA A ATIVIDADE PREPARADA ESPECIALMENTE PARA VOCÊ**

<https://portaleducacao.hortolandia.sp.gov.br/index.php/ed-fisica>

**TERÇA-FEIRA, 10 DE AGOSTO DE 2021.**

**LEITURA DIÁRIA:** O relógio que perdeu a hora- Flávio Colombini. Disponível em: <https://youtu.be/PdiKOs47xcq> Acesso em: 31/07/2021.

**ATIVIDADE DE HOJE:** Vamos aprender sobre medidas de tempo e resolver as situações problema. Em seguida, fazer as atividades do livro do Emai páginas 29, 30 e 31. A professora dará orientações no grupo de Whatsapp.

### Medidas de tempo

1 semana= 7 dias

1 quinzena= 15 dias

O mês pode ter, 28, 29,30 e 31 dias.

Um mês comercial possui 30 dias.

1 bimestre= 2 meses

1 semestre= 6 meses

1 trimestre= 3 meses

1 ano= 12 meses

O ano pode ter 365 dias. O ano que possui 366 dias é chamado de bissexto. Nos anos bissextos, o mês de fevereiro tem 29 dias.

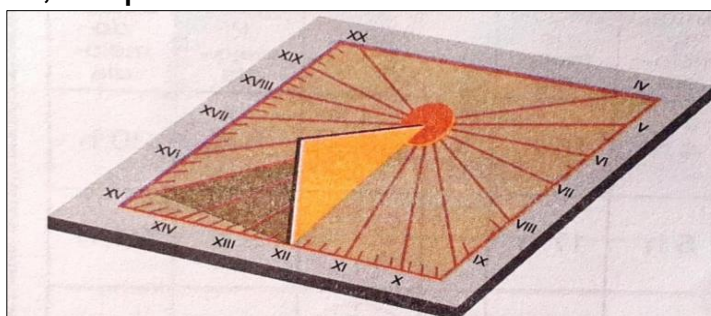
1 década= 10 anos

1 século = 100 anos

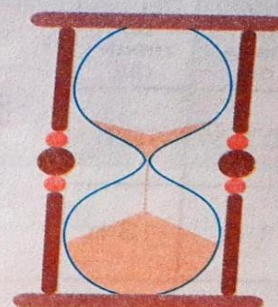
1 milênio= 1.000 anos

### Relógio

Antes dos relógios modernos, o homem usou relógios de sol, relógios de água, ampulhetas e outros instrumentos para marcar o tempo.



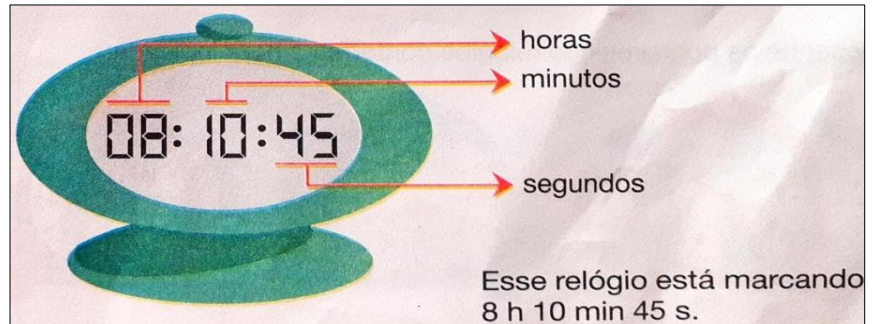
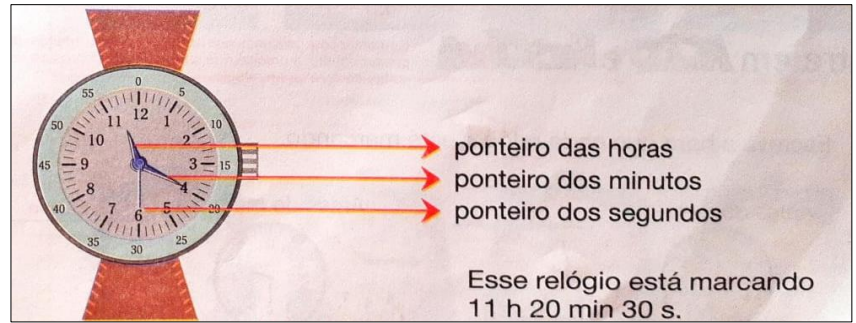
Relógio de sol



Ampulheta

A maioria dos relógios modernos marca as horas, os minutos e os segundos.

Observe os relógios:



Fonte: Passos, Angela. De Olho no Futuro, Matemática 3 - São Paulo: Quinteto Editorial, 1996.

## Situações problema

1) O Curupira saiu de sua casa 7h e 30 min e chegou ao seu destino a Floresta Amazônica às 16h. Quanto tempo ele passou viajando?



2) O relógio do Saci Pererê está marcando 8h e 35 min, mas ele está atrasado 6 minutos. Qual é a hora certa?

3) Da minha casa até a do Boto Cor De Rosa, gasto 23 minutos nadando. Que horas devo sair de casa para chegar a casa do Boto Cor De Rosa às 8:00 pontualmente?



Fazer as atividades do livro do Emai páginas 29, 30 e 31. A professora dará as orientações no grupo de WhatsApp.

ARTE: ENTRE NO LINK ABAIXO E VEJA A ATIVIDADE PREPARADA ESPECIALMENTE PARA VOCÊ <https://portaleducacao.hortolandia.sp.gov.br/index.php/artes>

**QUARTA-FEIRA, 11 DE AGOSTO DE 2021.**

**LEITURA DIÁRIA:** A lenda do Curupira – Disponível em <https://www.youtube.com/watch?v=gKpilzfNQA8> . Acesso em 30/07/2021.

**ATIVIDADE DE HOJE:** Vamos ler e aprender sobre a lenda do Curupira e responder as perguntas.

### O curupira

No fundo das matas, bem longe das cidades e das aldeias, quando soam gritos longos e estridentes, é o Curupira que se aproxima.

O melhor que se faz é sair dali correndo.

O Curupira é um anão de cabelos vermelhos, dentes verdes e com os pés virados para trás. Para os índios, ele é o demônio da floresta. Corre atrás deles, enfurecido, para bater e até mesmo matar. Para se protegerem, quando se afastam de suas aldeias, os índios deixam pelo caminho penas de aves, abanadores e flechas.



Fonte: <https://alunoon.com.br/infantil/atividades.php?c=782>

O Curupira é o protetor das árvores e dos animais. Batendo nos troncos das árvores como se fossem tambores, testa a resistência delas, quando ameaça cair uma tempestade.

Ele odeia os homens que caçam e destroem as matas. Por isso, gosta de deixar os caçadores perdidos dentro da floresta. Quem vê o Curupira perde totalmente o rumo, não sabe mais achar o caminho de volta.

Para atrair suas vítimas, o Curupira, às vezes, chama as pessoas com gritos que imitam a voz humana.

As histórias do Curupira são contadas em todo o Brasil. Em algumas regiões, ele tem o nome de Caipora ou Caapora, e aparece, frequentemente, montado em um porco-do-mato.

(Marcelo Xavier. Mitos, o folclore do Mestre André. Belo Horizonte: Formato, 1997)

1) Qual o título do texto? \_\_\_\_\_

2) Esse texto é uma:

( ) poesia      ( ) lenda      ( ) música      ( ) receita

3) Como o Curupira protege as árvores e os animais?

---

4) O que o Curupira mais odeia? O que ele faz com suas vítimas?

---

5) Faça uma lista no caderno das lendas que você já leu ou teve conhecimento.

6) Descreva no caderno com suas próprias palavras como é a personagem folclórica do texto.

7) Faça a ilustração no caderno da personagem folclórica do texto.

LÍNGUA INGLESA: ENTRE NO LINK ABAIXO E VEJA A ATIVIDADE PREPARADA PELA TEACHER ESPECIALMENTE PARA VOCÊ (TEMA: PLACES (Lugares) páginas 41 e 43) <https://portaleducacao.hortolandia.sp.gov.br/index.php/ingles>

**QUINTA-FEIRA, 12 DE AGOSTO DE 2021**

**LEITURA DIÁRIA:** Curiosidades Sobre a Floresta Amazônica. Disponível em [https://www.youtube.com/watch?v=Ruch\\_x4q418&t=193s](https://www.youtube.com/watch?v=Ruch_x4q418&t=193s) Acesso em 30/07/2021.

**ATIVIDADE DE HOJE:** Vamos ler o texto sobre a Floresta Amazônica e responder as perguntas. Em seguida, vamos observar o mapa do Folclore nas Regiões Brasileiras e completar o quadro escrevendo o nome das lendas por Regiões.

### **Floresta Amazônica ou Amazônia**

A **região Norte** ocupa quase metade do território brasileiro, sendo a região mais extensa. É nessa região que se situa grande parte da floresta amazônica.

Na Amazônia, vive mais de 1/3 das espécies animais e vegetais do planeta. Essas espécies fazem da região um local privilegiado.

A floresta ocupa grande parte do território brasileiro. Ela é escura e fechada. O clima, quente e úmido, com chuvas fartas e constantes, oferece a todos os seres vivos que ocupam esse espaço condições propícias para nascerem, desenvolverem-se e se reproduzirem, em seu tempo e espaço.



Fonte: <https://exercicios.mundoeducacao.uol.com.br/exercicios-geografia/exercicios-sobre-floresta-amazonica.htm>

Grande parte do solo da Floresta Amazônica possui nutrientes apenas na camada superficial, onde há muita matéria orgânica decomposta.

Após ler o texto, responda as perguntas:

1) Em qual região do Brasil está localizada a Floresta Amazônica? \_\_\_\_\_

2) Como é o clima na Floresta Amazônica? \_\_\_\_\_

3) Cite alguns animais que podemos encontrar na Floresta Amazônica.



Fonte: <https://pt.slideshare.net/Baestevam/folclore-das-regies-brasileiras>

4) Observe o mapa “Folclore das Regiões brasileiras” acima e complete o quadro abaixo escrevendo o nome das lendas por regiões.

Região Sul	Região Norte	Região Nordeste	Região Sudeste	Região Centro-Oeste

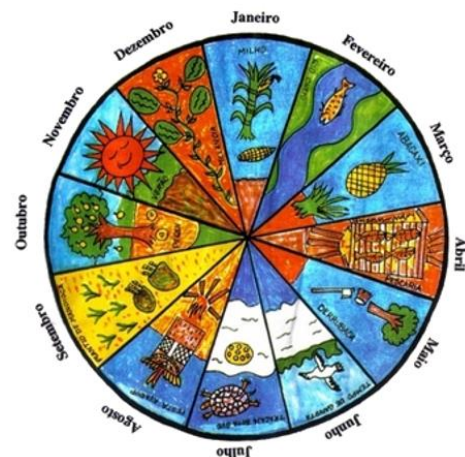
## SEXTA-FEIRA, 13 DE AGOSTO DE 2021

**LEITURA DIÁRIA:** Coletânea Turma do Folclore - Lendas Indígenas.  
Disponível em: <https://youtu.be/IRwOBqNXhsc> Acesso em: 31/07/2021

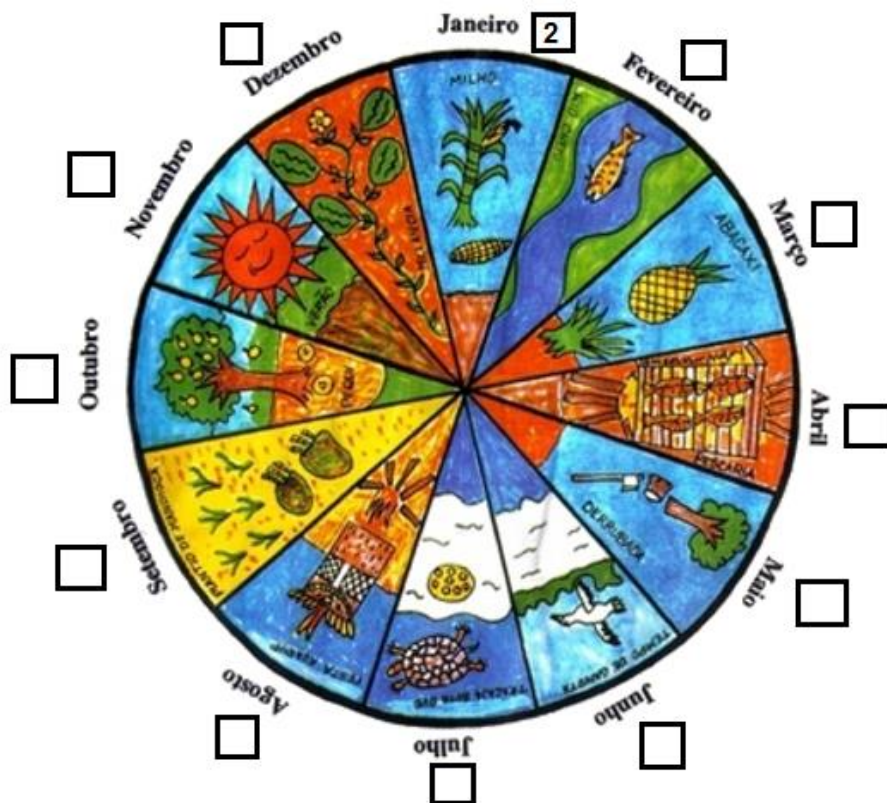
**ATIVIDADE DE HOJE:** Vamos ler o texto sobre o Calendário indígena e relacionar os números com cada acontecimento do calendário.

### Calendário indígena

Alguns povos indígenas utilizam diferentes elementos do céu e da terra para marcar a passagem do tempo. Alguns usam, por exemplo, o ciclo da Lua, outros utilizam a cheia dos rios, a mudança de estações do ano e as atividades agrícolas. Observe a seguir como é a representação do calendário dos povos indígenas brasileiros que vivem no Parque Indígena do Xingu.



1) Observe o calendário indígena abaixo. Agora, escreva ao lado de cada mês o número que descreve corretamente o que ele representa. O primeiro número já foi escrito.





### Acontecimento

- |   |  |
|---|--|
| 1- Mês de chuvas e época da cheia dos rios.   | 7- Chegada do verão                      |
| 2- Época de colher milho.                     | 8- Tempo de abacaxi.                     |
| 3- Festa do Kuarup.                           | 9- Época de melancia                     |
| 4- Época de derrubada da mata para o plantio. | 10- Mês em que as tartarugas botam ovos. |
| 5- Época de pescaria. amadurece o pequi       | 11- Época em que                         |
| 6- Tempo de gaivota.                          | 12 – Plantio de mandioca                 |

Fonte: Buriti Mais Ciências, Obra Coletiva, Ed. 1 São Paulo: Moderna, 2017.

Fazer a leitura da página 136 do livro Buriti Mais Ciências. A professora dará as orientações no grupo de WhatsApp.