

SEMANA DE 30 A 03 DE SETEMBRO DE 2021 - 4º ANO \_\_\_\_\_

ESCOLA: EMEF PROFª LÍLIAN C. M. DE ARAÚJO

PROFESSORAS: FÁTIMA, ROSEMAR, ROSILENE, VILANI

NOME: \_\_\_\_\_

## SEGUNDA-FEIRA, 30 DE AGOSTO DE 2021

**LEITURA DIÁRIA:** <https://youtu.be/2-3g-Xpf9gQ> - A VOVÓ E A NETINHA -  
ACESSO EM 30/07/2021

**ATIVIDADE DE HOJE:** TEXTO INFORMATIVO.

### **Por que suamos frio quando sentimos medo?**

[..] O suor frio é apenas uma das muitas reações de nosso organismo diante de uma situação de estresse ou ameaça.

Em consequência do medo, o nosso corpo sofre uma revolução. De maneira resumida, o cérebro sinaliza para o coração que é hora de acelerar, bombeando mais sangue — ah! e com muita adrenalina (substância que prepara o corpo para grandes esforços) — para os músculos, a fim de que eles funcionem melhor. Enquanto isso, por conta do excesso de sangue direcionado aos músculos, os órgãos do abdome e a pele passam a receber menos sangue, e é essa a razão pela qual a gente sente a sensação de frio na barriga, a pele gelada pelo suor e começa a tremer — brrrr!

[..]

Revista **Ciência Hoje das Crianças**. Disponível em: <<http://chc.org.br/por-que-suamos-frio-quando-sentimos-medo/>>. Acesso em: 3 nov. 2017.

ESTA É UMA EXPLICAÇÃO CIENTIFICA PARA O FATO DE SUAR FRIO.

VOCÊS SE LEMBRAM DE ALGUMA SITUAÇÃO QUE SENTIRAM FRIO NA BARRIGA, PELE GELADA E TREMORES DE MEDO? ESCREVA ABAIXO OS DETALHES E QUAL FOI ESSA SITUAÇÃO:

---

---

---

---

---

LEIA A HISTÓRIA EM QUADRINHOS NO LIVRO ÁPIS DE LÍNGUA PORTUGUESA, PÁGINAS 186 E 187. DEPOIS RESPONDA AS PÁGINAS 188, 189 E 190. A PROFESSORA DARÁ AS ORIENTAÇÕES NO GRUPO DE WHATSAPP.

**EDUCAÇÃO FÍSICA: ENTRE NO LINK ABAIXO E VEJA A ATIVIDADE PREPARADA ESPECIALMENTE PARA VOCÊ**

<https://portaleducacao.hortolandia.sp.gov.br/index.php/ed-fisica>































**TERÇA-FEIRA, 31 DE AGOSTO DE 2021**

**LEITURA DIÁRIA:** <https://youtu.be/fG5fmAHX-pw> - VACA BRANCA, MANCHA PRETA - ACESSO EM 30/07/2021

**ATIVIDADE DE HOJE:** PREENCHA AS TABUADAS DA PÁGINA 126 DO LIVRO ÁPIS DE MATEMÁTICA EM SEGUIDA FAÇA A ATIVIDADE ABAIXO

## Descobrimdo Fatos

♦ Complete a tabela, escrevendo o fato de multiplicação correspondente ao seu produto:

 x  6	 x  18	 x  36
 x  10	 x  24	 x  32
 x  15	 x  9	 x  12
 x  24	 x  12	 x  21
 x  8	 x  40	 x  5



AGORA FAÇA OS EXERCÍCIOS DAS PÁGINAS 127 E 128 DO LIVRO ÁPIS DE MATEMÁTICA. A PROFESSORA DARÁ AS ORIENTAÇÕES NO GRUPO DE WHATSAPP.

ARTE: ENTRE NO LINK ABAIXO E VEJA A ATIVIDADE PREPARADA ESPECIALMENTE PARA VOCÊ

<https://portaleducacao.hortolandia.sp.gov.br/index.php/artes>

**QUARTA-FEIRA, 01 DE OUTUBRO DE 2021**

**LEITURA DIÁRIA:** <https://www.youtube.com/watch?v=lo2yAjoTzEc> - O Nariz Do Elefantinho - - ACESSO EM 30/07/2021

**ATIVIDADE DE HOJE:** HOJE NÓS VAMOS FAZER UM JOGO COM AS INSTRUÇÕES ABAIXO:

VOCÊ VAI PRECISAR DE: UMA CARTOLINA, COLA, CANETAS COLORIDAS.

RECORTE A CARTOLINA EM 16 RETÂNGULOS DE 7 X 10 CM (APROXIMADAMENTE) E COPIE EM CADA UM A SENTENÇA COMO NO MODELO ABAIXO. AGORA, ESCOLHA UM PARTICIPANTE E VAMOS INICIAR O DESAFIO!



<https://teoriadeumaprofessora.blogspot.com>

AGORA VAMOS CONTINUAR A ATIVIDADE NO LIVRO ÁPIS DE LÍNGUA PORTUGUESA. LEIA A HISTÓRIA EM QUADRINHOS, PÁGINA 191. DEPOIS RESPONDA AS PÁGINAS 192, 193 E 194. A PROFESSORA DARÁ AS ORIENTAÇÕES NO GRUPO DE WHATSAPP.

LÍNGUA INGLESA: ENTRE NO LINK ABAIXO E VEJA A ATIVIDADE PREPARADA PELA TEACHER ESPECIALMENTE PARA VOCÊ

<https://portaleducacao.hortolandia.sp.gov.br/index.php/ingles>

**QUINTA-FEIRA, 02 DE OUTUBRO DE 2021**

**LEITURA DIÁRIA:** [https://youtu.be/V8S\\_o3ur5Ec](https://youtu.be/V8S_o3ur5Ec) RUMPELSTILTSKIN-  
ACESSO EM 30/07/2021

**ATIVIDADE DE HOJE:** PONTOS CARDIAIS E COLATERAIS.

O SOL SEMPRE NASCE NO MESMO LADO E SE PÕE NO LADO OPOSTO. ISSO SERVE PARA NOS ORIENTARMOS A RESPEITO DA NOSSA DIREÇÃO,

SE ABRIR OS BRAÇOS COM A MÃO DIREITA APONTANDO PARA O LADO ONDE NASCE O SOL, TEREMOS O LESTE (**L**) E O LADO ESQUERDO INDICARÁ A DIREÇÃO OESTE (**O**), A NOSSA FRENTE O NORTE (**N**) E ATRÁS O SUL (**S**).

ENTRE OS PONTOS CARDEAIS, HÁ OS PONTOS COLATERAIS: NORDESTE (**NE**), SUDESTE (**SE**), SUDOESTE (**SO**), NOROESTE (**NO**).



NASCER DO SOL NA PRAIA DE COPACABANA, MUNICÍPIO DO RIO DE JANEIRO, ESTADO DO RIO DE JANEIRO, EM 2015.

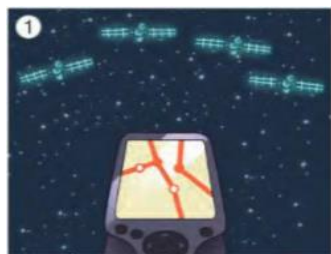
CONSULTE O SEU LIVRO DE GEOGRAFIA NAS PÁGINAS, 25, 26 ,27, LEIA OS TEXTOS COM ATENÇÃO, RESPONDA A QUESTÃO 9 E 11 E DESENHE A ROSA DOS VENTOS COM OS PONTOS CARDEAIS E COLATERAIS.

Buriti Mais Geografia,4º Ano,E.F. p.25 a 27. Editora Moderna:Responsável: Lina Youssef Jomma, 1ª Edição,São Paulo,2017.

**SEXTA-FEIRA, 03 DE OUTUBRO DE 2021**

**LEITURA DIÁRIA:** <https://youtu.be/PAGipxN5LV4> AS VIAGENS DE GULLIVER-ACESSO EM: 30/07/2021

**ATIVIDADE DE HOJE:** OUTROS INSTRUMENTOS DE ORIENTAÇÃO. OBSERVE AS IMAGENS ABAIXO:



1 O GPS se conecta por meio de uma antena a quatro satélites que estão em órbita ao redor da Terra.



2 O cálculo da distância desses quatro satélites em relação ao aparelho de GPS permite conhecer a localização exata do equipamento.



3 Essa informação, então, é recebida pelo aparelho receptor.



Os pontos cardeais, nas bússulas, são geralmente representados pela sigla em inglês: N, norte; S, sul; W, oeste; E, leste.



Astrolábio, instrumento de medição de distância de astros, desenvolvido por volta do ano 400.

NO SEU LIVRO DE CIÊNCIAS PÁGINAS 144 E 145, VAMOS LER COM ATENÇÃO O TEXTO QUE NOS MOSTRA OUTROS INSTRUMENTOS DE ORIENTAÇÃO: **GPS, BÚSSULA E ASTROLÁBIO**. DEPOIS RESPONDAAS QUESTÕES ABAIXO:

1) O QUE É UMA BÚSSULA?

---

---

2) ALÉM DA DIREÇÃO, O QUE UM ASTROLÁBIO PODE INDICAR?

---

3) CONSIDERANDO UMA VIAGEM DE NAVIO QUE ACONTECEU NO PERÍODO DE 1454 À 1512 QUAIS INSTRUMENTOS DE ORIENTAÇÃO ESTARIAM DISPONÍVEIS?

---

AGORA VOCÊS RESPONDERÃO COM BASTANTE ATENÇÃO CONSULTANDO OS TEXTOS DO LIVRO DE CIÊNCIAS, AS PÁGINAS 148 E 149.

BIBLIOGRAFIA: Buriti Mais Ciências, 4º Ano, p.144 - 149. Organizadora: Editora Moderna. Editora Responsável, Ana Carolina de Almeida Yamamoto. 1ª edição, São Paulo 2017