

SEMANA DE 20 A 24 DE SETEMBRO DE 2021 - 3º ANO _____

ESCOLA: EMEF PROFª LÍLIAN C. M. DE ARAÚJO

PROFESSORAS: LUCIANE, ANA PAULA, PATRÍCIA E PAULO

NOME: _____

SEGUNDA-FEIRA, 20 DE SETEMBRO DE 2021

LEITURA DIÁRIA: POEMA: VOA OU NÃO VOA

<https://youtu.be/MtSDFeNXuBE>

ATIVIDADE DE HOJE VAMOS OUVIR NA LEITURA DIÁRIA O POEMA: VOA OU NÃO VOA, PARA RESPONDER AS QUESTÕES ABAIXO.

1- ENCONTRE NO CAÇA PALAVRAS 10 SUBSTANTIVOS COMUNS, (AQUELES QUE DÃO NOMES AS COISAS) CUIDADO! APENAS OS QUE ESTÃO NO POEMA.

C	A	D	E	R	N	O	A	B	P
Q	S	W	R	H	T	Y	F	U	R
M	A	R	R	E	C	O	O	P	Í
A	S	D	F	P	I	N	G	O	N
G	H	J	G	A	V	I	Ã	O	C
P	I	P	A	T	K	L	O	Ç	I
Í	N	D	I	O	V	Z	X	C	P
C	O	R	A	Ç	Ã	O	V	B	E
C	A	V	A	L	O	J	D	I	H
T	R	G	J	C	O	R	U	J	A

2- SEPARE OS OBJETOS QUE VOAM DOS QUE NÃO VOAM.

VOAM	NÃO VOAM

EDUCAÇÃO FÍSICA: ENTRE NO LINK ABAIXO E VEJA A ATIVIDADE PREPARADA ESPECIALMENTE PARA VOCÊ

<https://portaleducacao.hortolandia.sp.gov.br/index.php/ed-fisica>

TERÇA-FEIRA, 21 DE SETEMBRO DE 2021

LEITURA DIÁRIA: PALAVRA CANTADA - VAI E VEM DAS ESTAÇÕES
<https://youtu.be/jlNoF8GEGWc>

ATIVIDADE DE HOJE VAMOS ESTUDAR AS ESTAÇÕES DO ANO.

1- ILUSTRE O TEXTO:

AS QUATRO ESTAÇÕES

ISABEL CRISTINA SILVEIRA SOARES

QUE CLIMA AMENO GOSTOSO É O SONO AS FOLHAS CAINDO CHEGOU O OUTONO!	
QUE FRIO DANADO SEREI BEM FRATERNAL DOAREI AGASALHO AGORA É INVERNO!	
TEM PERFUME NO AR NENHUMA SURPRESA É A ESTAÇÃO DAS FLORES CHEGOU PRIMAVERA!	
QUE CHUVA BENDITA QUE BELA ESTAÇÃO O CALOR É TAMANHO ENTÃO É VERÃO!	

2- CIRCULE NO TEXTO O NOME DAS QUATRO ESTAÇÕES DO ANO.

ARTE: ENTRE NO LINK ABAIXO E VEJA A ATIVIDADE PREPARADA ESPECIALMENTE PARA VOCÊ

<https://portaleducacao.hortolandia.sp.gov.br/index.php/artes>

QUARTA-FEIRA, 22 DE SETEMBRO DE 2021

LEITURA DIÁRIA: SENTIDO REAL E SENTIDO FIGURADO

<http://youtu.be/D9XgHCRv-to>

ATIVIDADE DE HOJE VAMOS DESCOBRIR O QUE É SENTIDO REAL E SENTIDO FIGURADO.

SENTIDO REAL OU LITERAL É AQUELE QUE PODE SER TOMADO COMO O SENTIDO “BÁSICO, USUAL” DA PALAVRA OU EXPRESSÃO, ESSE PODE SER COMPREENDIDO SEM AJUDA DO CONTEXTO. QUANDO UMA PALAVRA OU ENUNCIADO SE APRESENTA EM SEU SENTIDO USUAL, O SIGNIFICADO DO DICIONÁRIO.

SENTIDO FIGURADO É O QUE AS PALAVRAS OU EXPRESSÕES ADQUIREM EM SITUAÇÕES PARTICULARES DE USO. A PALAVRA TEM VALOR CONOTATIVO QUANDO SEU SIGNIFICADO É AMPLIADO OU ALTERADO NO CONTEXTO EM QUE É EMPREGADA, SUGERINDO IDÉIAS QUE VÃO ALÉM DE SEU SENTIDO MAIS USUAL.

ESCREVA (1) PARA SENTIDO REAL E (2) PARA SENTIDO FIGURADO:

- () MEU PAI É MEU ESPELHO. () QUEBREI O ESPELHO DO BOX.
() O ESCRAVO FUGIU. () NÃO SEJA ESCRAVO DA MODA.
() ELA É UM DOCE DE MENINA. () COMI UM DOCE GOSTOSO.
() QUEBREI O BRINQUEDO. () ELE QUEBROU MEU CORAÇÃO.
() TOMO SUCO COM GELO. () SEU CORAÇÃO É DE GELO.
() O CARRO VOOU NA CIDADE. () O CARRO CORREU MA CIDADE.
() VOCÊ É UMA JÓIA () ANA GANHOU UMA JÓIA.

LÍNGUA INGLESA: ENTRE NO LINK ABAIXO E VEJA A ATIVIDADE PREPARADA PELA TEACHER ESPECIALMENTE PARA VOCÊ





<https://portaleducacao.hortolandia.sp.gov.br/index.php/ingles>

QUINTA-FEIRA, 23 DE SETEMBRO DE 2021

LEITURA DIÁRIA: PAISAGEM NATURAL E PAISAGEM MODIFICADA
[HTTPS://youtu.be/QFJWYAApl7I](https://youtu.be/QFJWYAApl7I)

ATIVIDADE DE HOJE VAMOS IDENTIFICAR AS PAISAGENS, SE SÃO NATURAIS OU FORAM MODIFICADAS PELO HOMEM.

CLASSIFIQUE AS FIGURAS EM PAISAGEM NATURAL OU MODIFICADA:



SEXTA-FEIRA, 24 DE SETEMBRO DE 2021

LEITURA DIÁRIA: MEDIDAS DE TEMPO

[HTTPS://youtu.be/4dhd_1nbk3w](https://youtu.be/4dhd_1nbk3w)

ATIVIDADE DE HOJE VAMOS VER AS MEDIDAS DE TEMPO:

MEDIDAS DE TEMPO

A hora e o minuto


A hora e o minuto são unidades de medidas de tempo marcadas pelo relógio.

Por extenso	Abreviatura
hora minuto	h min

O dia se divide em 24 partes iguais.
Cada parte corresponde a 1 hora.

A hora se divide em 60 partes iguais.
Cada parte corresponde a 1 minuto.

O minuto se divide em 60 partes iguais.
Cada parte corresponde a 1 segundo.



Relógio de ponteiro



Relógio digital



• As Horas •

1. Faça o que se pede:

Roberto foi ao aniversário de Luciana. O relógio abaixo mostra a hora que Roberto chegou à casa dela.



Roberto saiu de lá, duas horas e meia depois.

Marque no relógio abaixo, a hora que Roberto saiu da casa de Luciana.



2. Observe o relógio e complete:



Que horas são? _____

O ponteiro **grande** aponta para o número _____ e o **pequeno** está entre os numerais _____ e _____.

Quando o ponteiro **grande** está no **6** ele marca _____. Quando o ponteiro **grande** está no **12** ele marca _____.

3. Descubra as horas e escreva:

