

SEMANA DE 27 DE SETEMBRO A 01 DE OUTUBRO DE 2021- **3º ANO**

E.M.E.F. PROFª LILIAN C. M. DE ARAÚJO.

PROFESSORAS: LUCIANE, ANA PAULA, PATRÍCIA E SARA

NOME: \_\_\_\_\_

**SEGUNDA-FEIRA, 27 DE SETEMBRO DE 2021.**

**LEITURA DIÁRIA:** A PRIMAVERA DA LAGARTA: DISPONÍVEL:  
<https://www.youtube.com/watch?v=jhVpsOX1wWI> Acesso em:  
12/09/2021.

### **PRIMAVERA DA LAGARTA**

A transformação acontece em quatro fases: o ovo, a larva, a pupa e o estágio adulto. O início do ciclo começa com os ovos, postos pelas borboletas geralmente em folhas de plantas. “Esse período dura d...


Leia mais em:

<https://super.abril.com.br/mundo-estranho/como-a-lagarta-se-transforma-em-borboleta/>




**AGORA, DESENHE A TRANSFORMAÇÃO DA LAGARTA EM BORBOLETA.**


**OVO**




**LAGARTA**



**CASULO**



**BORBOLETA**



## EDUCAÇÃO FÍSICA: ENTRE NO LINK ABAIXO E VEJA A ATIVIDADE PREPARADA ESPECIALMENTE PARA VOCÊ

<https://portaleducacao.hortolandia.sp.gov.br/index.php/ed-fisica>

**TERÇA-FEIRA, 28 DE SETEMBRO DE 2021.**

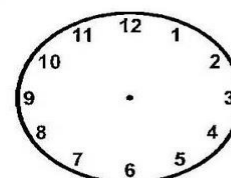
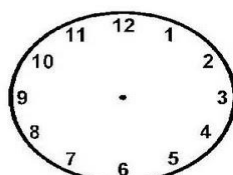
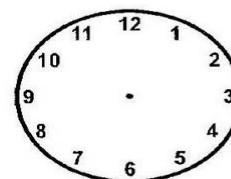
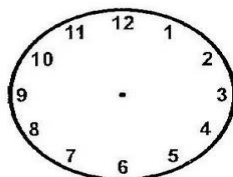
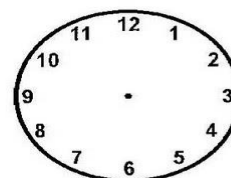

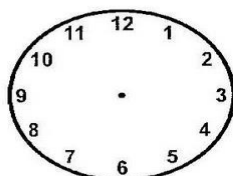
**LEITURA DIÁRIA:** MEDIDA DE TEMPO. DISPONÍVEL EM: <https://www.youtube.com/watch?v=B-l5HEXoGnM> Acesso em: 12/09/2021.

### MEDIDA DE TEMPO

#### Calculando as Horas



♦ Coloque os ponteiros e registre as horas marcadas nos relógios digitais:



#### ♦ DESAFIANDO VOCÊ!

• Paulo começou a nadar às 7 h 45m. Parou de nadar às 11h. Quanto tempo ficou na água, nadando?

Resposta: Paulo nadou \_\_\_\_\_

[https://br.pinterest.com/pin/821344050769197535/?amp\\_client\\_id=CLIENT\\_ID\( \)&mweb\\_unauth\\_id={{default.session}}&simplified=true](https://br.pinterest.com/pin/821344050769197535/?amp_client_id=CLIENT_ID( )&mweb_unauth_id={{default.session}}&simplified=true)

Acesso em:12/09/2021.

ASSISTA AO VÍDEO A SEGUIR: <https://www.youtube.com/watch?v=200ctSxVRjY>  
Acesso em: 12/09.

ESCREVA NO CADERNO O QUE VOCÊ ENTENDEU SOBRE O VÍDEO "O RELÓGIO" DE VINICIUS DE MORAES.

## ARTE: ENTRE NO LINK ABAIXO E VEJA A ATIVIDADE PREPARADA ESPECIALMENTE PARA VOCÊ

<https://portaleducacao.hortolandia.sp.gov.br/index.php/artes>

QUARTA-FEIRA, 29 DE SETEMBRO DE 2021.

LEITURA DIÁRIA: AS FLORES DA PRIMAVERA. DISPONÍVEL EM:  
<https://www.youtube.com/watch?v=-ATaWkCJwIE> Acesso em: 13/09/21.

OBSERVE A HISTÓRIA EM QUADRINHOS E RESPONDA AS QUESTÕES.



<http://gustavoinfof.blogspot.com/2017/09/quadrinhos-do-snoop-tempo-para-dormir.html>. Acesso Em: 14/09/2021.

- 1- QUANTAS HORAS DE SONO UMA CRIANÇA DE 6 A 10 ANOS DEVE DORMIR? \_\_\_\_\_
- 2- DESENHE NO CADERNO QUAL A SUA ROTINA DIÁRIA ANTES DE IR DORMIR.

LÍNGUA INGLESA: Entre no link abaixo e veja a atividade preparada pela teacher especialmente para você.

<https://portaleducacao.hortolandia.sp.gov.br/index.php/ingles>

QUINTA-FEIRA, 30 DE SETEMBRO DE 2021.

LEITURA DIÁRIA: CICLO DE VIDA DA BORBOLETA: **DISPONÍVEL EM:**  
<https://www.youtube.com/watch?v=oaJH-UGnlpc>. Acesso em:  
08/08/2021.

### CICLO DE VIDA BORBOLETA

A **BORBOLETA** É UM DOS BICHOS QUE SOFREM A METAMORFOSE MAIS COMPLETA. A TRANSFORMAÇÃO OCORRE EM QUATRO FASES: A DO OVO, DA LARVA, DA PUPA E O ESTÁGIO ADULTO. O **CICLO** COMEÇA COM OS OVOS, POSTOS PELA **BORBOLETA** GERALMENTE EM FOLHAS DE PLANTA. ESSE PERÍODO DURA DE ALGUNS DIAS ATÉ UM MÊS.

CICLO DE VIDA


BORBOLETAS

ESCREVA UMA FRASE PARA CADA ETAPA DO CICLO DE VIDA DA BORBOLETA.



---

---



---

---



---

---



---

---

**SEXTA-FEIRA, 01 DE OUTUBRO DE 2021.**

**LEITURA DIÁRIA: PAISAGENS - TRANSFORMAÇÕES AO LONGO DO TEMPO**

DISPONÍVEL EM: <https://www.youtube.com/watch?v=CBSxngHDkas>. Acesso em: 14/09/2021.

## **MUDANÇAS DAS PAISAGENS.**

AS **MUDANÇAS** QUE OCORREM NA **PAISAGEM**, ASSIM COMO OS IMPACTOS AMBIENTAIS, SÃO PROVOCADAS TANTO POR FATORES NATURAIS QUANTO SOCIAIS, ESTES COM RESULTADOS MAIS IMEDIATOS E AQUELES COM RESULTADOS A LONGO PRAZO – COM RARAS EXCEÇÕES, A EXEMPLO DOS DESLIZAMENTOS DE ENCOSTAS.



Natal, Rio Grande do Norte.

<http://www.tribunadonorte.com.br/noticia/natal-cidade-cada-vez-mais-vertical/315202>. Acesso em: 14/09/2021.

COMPARE AS FOTOS DE 1993 E 2015 E SUAS MUDANÇAS AO LONGO DO TEMPO E ESCREVA ABAIXO AS MUDANÇAS QUE VOCÊ OBSERVOU NA IMAGEM ACIMA.

---

---

---

---

---

---

---

---

---

---