

EMEF PROFª MARIA CÉLIA CABRAL AMARAL



Professor (a): RAIMUNDA, ANA CRISTINA, SHIRLEY E DANIELA.

Ano/turma: 2º ANO A, B, C e D.

Período: 28/06/2021 à 09/07/2021.

O TEMPO PASSA E A SAUDADE AUMENTA. AINDA DEVEMOS MANTER O DISTANCIAMENTO SOCIAL, PARA O BEM DE NOSSA SAÚDE.

NESTE QUADRO ESTÁ A SUA ROTINA SEMANAL, COM ATIVIDADES ELABORADAS COM CARINHO.

FIQUEM ATENTOS AS EXPLICAÇÕES DA PROFESSORA.

DIA DA SEMANA	ROTINA DIÁRIA: DESCRIÇÃO DAS ATIVIDADES
Segunda – feira DATA: 28/06/2021	<p>LEITURA DIÁRIA: SINGULAR E PLURAL – DISPONÍVEL EM: https://www.youtube.com/watch?v=JMLisNFCfzE&t=17s - ACESSO EM: 18/06/2021.</p> <p>PORTUGUÊS:</p> <p><u>- LIVRO ÁPIS PORTUGUÊS.</u></p> <p>HOJE VAMOS APRENDER SOBRE PLURAL E SINGULAR. APÓS A EXPLICAÇÃO DA PROFESSORA PELO WHATSAPP, REALIZE AS ATIVIDADES NAS PÁGINAS: 43, 44 E 45 DO SEU LIVRO DE PORTUGUÊS.</p> <p><u>-NO CADERNO:</u></p> <p>COPIE A LISTA DE PALAVRAS E PASSE-AS PARA O PLURAL:</p> <p>A) JANELA</p> <p>B) PORTA</p>

- C) TELHADO
- D) MESA
- E) CAMA
- F) SOFÁ
- G) PAREDE
- H) QUARTO
- I) TAPETE
- J) ARMÁRIO

Terça-feira
Data: 29/06/2021

LEITURA DIÁRIA: SUBTRAÇÃO – DISPONÍVEL EM:
<https://www.youtube.com/watch?v=TeiojCJtm04> – ACESSO EM: 10/06/2021.

MATEMÁTICA: HOJE IREMOS REALIZAR VÁRIAS OPERAÇÕES UTILIZANDO A IDÉIA DE TIRAR QUANTIDADES. APÓS ASSISTIR AO VÍDEO E PRESTAR ATENÇÃO NA ORIENTAÇÃO DA PROFESSORA PELO WHATSAPP, REALIZE AS ATIVIDADES ABAIXO:

- ATIVIDADE DISPONIBILIZADA PELA UNIDADE ESCOLAR.

29/06 – 3ª FEIRA

1- RESOLVA AS SUBTRAÇÕES:

SUBTRAÇÃO									
DEZENA	UNIDADE	DEZENA	UNIDADE	DEZENA	UNIDADE	DEZENA	UNIDADE	DEZENA	UNIDADE
6	5	8	3	7	9	1	4	9	0
-	2	-	7	-	6	-	0	-	5
5	7	6	6	4	8	3	3	8	7
-	4	-	4	-	2	-	2	-	6

2- COMPLETE COM:
- ANTECESSOR (VEM ANTES)
- SUCESSOR (VEM DEPOIS)

76	45
15	30
44	24
29	81
65	49



ARTES: HORA DE ATIVAR A CRIATIVIDADE DÊ UMA OLHADA EM NOSSO PORTAL DA EDUCAÇÃO E VEJA AS ATIVIDADES.

Quarta-feira

Data: 30/06/2021

LEITURA DIÁRIA: SEU JOAQUIM – DOMÍNIO PÚBLICO – FONTE: LIVRO ÁPIS PORTUGUÊS. PÁGINA: 48.

- LEITURA REALIZADA PELA PROFESSORA.

SEU JOAQUIM

SEU JOAQUIM, QUIM, QUIM
OLHOU PRA MIM, MIM, MIM
PEDIU UMA SOPA, PA, PA
E UM PUDIM, DIM, DIM.

DOMÍNIO PÚBLICO.




Ilustração: Regina Rios/Quixote Editora

PORTUGUÊS:

- **LIVRO ÁPIS PORTUGUÊS:**

ÁPOS A EXPLICAÇÃO DA PROFESSORA, REALIZE AS ATIVIDADES DAS PÁGINAS: 48, 49 E 245.

-**LEITURA:** LIVRO ÁPIS, PÁGINA: 49.

ENVIE UM VÍDEO PARA A PROFESSORA REALIZANDO A LEITURA DO TEXTO: TUBA.

TUBA

CABE TUDO,
NUMA TUBA,
CABE UM GATO.
CABE UM SINO,
UM SAPATO
E UM MENINO. [...]

LEO CUNHA. **CLAVE DE LUA.**
SÃO PAULO: PAULINAS, 2001. P. 20.

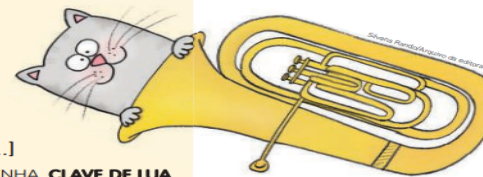


Ilustração: Regina Rios/Quixote Editora





EDUCAÇÃO FÍSICA: ESTÁ NA HORA DE SE EXERCITAR VAMOS DAR UMA OLHADINHA NO PORTAL DA EDUCAÇÃO E REALIZAR A ATIVIDADE PROPOSTA





Quinta-feira
Data: 01/07/2021





LEITURA DIÁRIA: VELHA A FIAR – DOMÍNIO PÚBLICO – FONTE: LIVRO ÁPIS PORTUGUÊS. PÁGINA: 273.











- LEITURA REALIZADA PELA PROFESSORA.





A VELHA A FIAR







ESTAVA A  NO SEU LUGAR, VEIO A  LHE INCOMODAR.
 1  2



A  NA  E A VELHA A FIAR.
 2  1





ESTAVA A  NO SEU LUGAR, VEIO A  LHE FAZER MAL.
 2  3









A  NA , A  NA  E A  A FIAR.
 3  2  2  1  1



ESTAVA A  NO SEU LUGAR, VEIO O  LHE FAZER MAL.
 3  4

O  NA , A ARANHA NA , A MOSCA NA VELHA
 4  3  2

E A  A FIAR.
 1

ESTAVA O  NO SEU LUGAR, VEIO O  LHE FAZER MAL.
 4  5


O  NO , O RATO NA , A ARANHA NA ,
 5  4  3  2

A MOSCA NA  E A VELHA A FIAR.
 1

MATEMÁTICA:

- ATIVIDADE DISPONIBILIZADA PELA UNIDADE ESCOLAR.

1- COMPLETE O CALENDÁRIO:



2- RESPONDA AS ALTERNATIVAS CORRETAS COM UM X:

A-UMA SEMANA TEM:

() 7 DIAS () 6 DIAS () 5 DIAS

B-O DIA 4 É O PRIMEIRO DOMINGO DO MÊS DE JULHO.

- O DIA ANTECESSOR (QUE VEM ANTES) É:

() DIA 3 () DIA 5 () DIA 4

- O DIA SUCESSOR (QUE VEM DEPOIS) É:

() DIA 5 () DIA 3 () DIA 6

C- O TOTAL DE DIAS DO MÊS DE JULHO É:

() 30 DIAS () 31 DIAS () 29 DIAS

3-RESOLVA AS SUBTRAÇÕES:

MATEMÁTICA SUBTRAÇÃO

$$\begin{array}{r} 75 \\ -43 \\ \hline \end{array} \quad \begin{array}{r} 51 \\ -23 \\ \hline \end{array} \quad \begin{array}{r} 84 \\ -17 \\ \hline \end{array} \quad \begin{array}{r} 62 \\ -23 \\ \hline \end{array}$$

$$\begin{array}{r} 63 \\ -29 \\ \hline \end{array} \quad \begin{array}{r} 90 \\ -35 \\ \hline \end{array} \quad \begin{array}{r} 82 \\ -16 \\ \hline \end{array} \quad \begin{array}{r} 23 \\ -19 \\ \hline \end{array}$$

$$\begin{array}{r} 83 \\ -25 \\ \hline \end{array} \quad \begin{array}{r} 42 \\ -39 \\ \hline \end{array}$$

$$\begin{array}{r} 52 \\ -15 \\ \hline \end{array} \quad \begin{array}{r} 73 \\ -27 \\ \hline \end{array}$$



INGLÊS: VAMOS APRENDER UMA NOVA LÍNGUA? DÊ UMA OLHADA NA AULA QUE A TEACHER PREPAROU NO PORTAL DA EDUCAÇÃO.

LEITURA DIÁRIA: REGRAS DE SEGURANÇA: CLUBE DO BEM-TE-VI NA TV - DETRAN S.P - DISPONÍVEL EM: <https://www.youtube.com/watch?v=MrAQPdaah7g> - ACESSO EM: 18/06/2021.

PORTUGUÊS: ATIVIDADE DIAGNÓSTICA DE PORTUGUÊS.

Sexta-feira


Data: 02/07/2021


- ATIVIDADE DISPONIBILIZADA PELA UNIDADE ESCOLAR.


EMEF. Prof.ª MARIA CÉLIA CABRAL AMARAL
HORTOLÂNDIA, ____ DE _____ DE 2021.
MEU NOME É: _____
2º ANO ____ PROFESSORA: _____


ATIVIDADE DIAGNÓSTICA DE PORTUGUÊS

1 - OBSERVE AS CENAS E PRODUZA UM TEXTO:

 _____

 _____

 _____

 _____


Segunda – feira

LEITURA DIÁRIA: CAMILÃO O COMILÃO-RUTH ROCHA – DISPONÍVEL EM:
<https://youtu.be/Px86tuvRnOs> - ACESSO EM: 28/06/2021.

Data: 05/07/2021

PORTUGUÊS: ATIVIDADE DIAGNÓSTICA DE PORTUGUÊS.

- ATIVIDADE DISPONIBILIZADA PELA UNIDADE ESCOLAR.



1- PINTO O DESENHO BEM COLORIDO.
2- ESCREVA UMA FRASE SOBRE A CENA ACIMA:

3- OBSERVE A CENA E FAÇA UMA LISTA COM O NOME DE TUDO O QUE VOCÊ VÊ NELA:

1- _____	9- _____
2- _____	10- _____
3- _____	11- _____
4- _____	12- _____
5- _____	13- _____
6- _____	14- _____
7- _____	15- _____
8- _____	16- _____

4- OBSERVE A CENA E NOS QUADROS COLOQUE:
V- PARA VERDADEIRO E F- PARA FALSO

<input type="checkbox"/>	NA CENA HÁ DOIS ANIMAIS.
<input type="checkbox"/>	O MACACO ESTÁ NA ÁRVORE.
<input type="checkbox"/>	A GIRAFÁ ESTÁ ESCORREGANDO.
<input type="checkbox"/>	O PASSARINHO BEIJA A FLOR.
<input type="checkbox"/>	NA CENA HÁ 3 BORBOLETAS.
<input type="checkbox"/>	OS ANIMAIS ESTÃO FELIZES.
<input type="checkbox"/>	O URSO REGA AS FLORES.
<input type="checkbox"/>	O LEÃO ACENA.
<input type="checkbox"/>	O SOL USA ÓCULOS.
<input type="checkbox"/>	A MINHOCÁ SOBE NA ÁRVORE.

Terça-feira

LEITURA DIÁRIA: SUBTRAÇÃO- DISPONÍVEL EM: – <https://youtu.be/TeiojCJtm04> - ACESSO EM 28/06.

Data: 06/07/2021

MATEMÁTICA: ATIVIDADE DIAGNÓSTICA DE MATEMÁTICA.

- ATIVIDADE DISPONIBILIZADA PELA UNIDADE ESCOLAR.

EMEF. Prof.ª MARIA CÉLIA CABRAL AMARAL
HORTOLÂNDIA, ____ DE _____ DE 2021.
MEU NOME É: _____
2º ANO ____ PROFESSORA: _____
ATIVIDADE DIAGNÓSTICA DE MATEMÁTICA

MAIO 2021

DOMINGO	SEGUNDA-FEIRA	TERÇA-FEIRA	QUARTA-FEIRA	QUINTA-FEIRA	SEXTA-FEIRA	SABADO
						1
2	3	4	5	6	7	8
9	10	11	12	13	14	15
16	17	18	19	20	21	22
23	24	25	26	27	28	29
30	31					

1- PINTE NO CALENDÁRIO, CADA SEMANA DE UMA COR.
2- OBSERVE O CALENDÁRIO E RESPONDA MARCANDO COM X:

A) UMA SEMANA TEM:
() 7 DIAS () 8 DIAS

B) O MÊS DE MAIO TEVE :
() 2 SEMANAS COMPLETAS
() 4 SEMANAS COMPLETAS


C) NO DIA 19 DE MAIO FOI COMEMORADO O ANIVERSÁRIO DE 30 ANOS DA CIDADE DE HORTOLÂNDIA.
- FAÇA UM X NO DIA 19.
- CIRCULE NO CALENDÁRIO O DIA QUE VEIO ANTES (ANTECESSOR) DESSA COMEMORAÇÃO.
- O ANTECESSOR DO DIA 19 É:
() DIA 20 () DIA 18
- O SUCESSOR DO DIA 19 É:
() DIA 20 () DIA 21

D- O MÊS DE MAIO TEM :
() 30 DIAS () 31 DIAS

2- COMPLETE O QUADRO NUMÉRICO:

1				6			10	
	12			15			18	
		23	24			27		30
	32		34					39
41				45		47		50
		53			56			59
	62		64			67		
71				75			78	80
	82		84				88	89
		93			96	97		100

3- RESOLVA AS ADIÇÕES E SUBTRAÇÕES COM ATENÇÃO:

$\begin{array}{r} 82 \\ + 11 \\ \hline \end{array}$	$\begin{array}{r} 16 \\ + 13 \\ \hline \end{array}$	$\begin{array}{r} 20 \\ + 29 \\ \hline \end{array}$	$\begin{array}{r} 53 \\ + 21 \\ \hline \end{array}$
$\begin{array}{r} 78 \\ + 21 \\ \hline \end{array}$	$\begin{array}{r} 32 \\ + 53 \\ \hline \end{array}$		
$\begin{array}{r} 45 \\ - 23 \\ \hline \end{array}$	$\begin{array}{r} 75 \\ - 21 \\ \hline \end{array}$	$\begin{array}{r} 55 \\ - 24 \\ \hline \end{array}$	$\begin{array}{r} 75 \\ - 12 \\ \hline \end{array}$
$\begin{array}{r} 61 \\ - 30 \\ \hline \end{array}$	$\begin{array}{r} 85 \\ - 14 \\ \hline \end{array}$	$\begin{array}{r} 45 \\ - 22 \\ \hline \end{array}$	$\begin{array}{r} 64 \\ - 33 \\ \hline \end{array}$

ARTES: HORA DE ATIVAR A CRIATIVIDADE DÊ UMA OLHADA EM NOSSO PORTAL DA EDUCAÇÃO E VEJA AS ATIVIDADES.

Quarta-feira

Data: 07/07/2021

LEITURA DIÁRIA: BOAS ATITUDES, TRÂNSITO MAIS SEGURO – FONTE: LIVRO MAIS BURITI GEOGRAFIA. PÁGINA: 68.

- LEITURA REALIZADA PELA PROFESSORA.



GEOGRAFIA: ATIVIDADE DIAGNÓSTICA DE GEOGRAFIA.

- ATIVIDADE DISPONIBILIZADA PELA UNIDADE ESCOLAR.




EMEF. Prof.ª MARIA CÉLIA CABRAL AMARAL
HORTOLÂNDIA, ____ DE ____ DE 2021.
MEU NOME É: _____
2º ANO _____ PROFESSORA: _____
ATIVIDADE DIAGNÓSTICA DE GEOGRAFIA

1-POR QUE MUITAS PESSOAS SOFREM OU CAUSAM ACIDENTES NO TRÂNSITO?


2-MARQUE AS ATITUDES QUE COLABORAM PARA MANTER A SEGURANÇA NO TRÂNSITO.

() OLHAR SÓ PARA UM LADO DA RUA AO ATRAVESSÁ-LA.
() ATRAVESSAR A RUA NA FAIXA DE PEDESTRES.
() USAR SEMPRE CINTO DE SEGURANÇA.
() RESPEITAR O LIMITE DE VELOCIDADE.

3-OBSERVE AS IMAGENS E ESCREVA UMA FRASE DIZENDO AO CONDUTOR E AO PEDESTRE COMO ELAS DEVEM SE COMPORTAR NO TRÂNSITO COM SEGURANÇA.

 _____
 _____
 _____

4- QUE MENSAGEM ESSE CARTAZ QUER TRANSMITIR PARA AS PESSOAS?

FIQUE VIVO!
 _____
UTILIZE A FAIXA DE PEDESTRES

EDUCAÇÃO FÍSICA: ESTÁ NA HORA DE SE EXERCITAR VAMOS DAR UMA OLHADINHA NO PORTAL DA EDUCAÇÃO E REALIZAR A ATIVIDADE PROPOSTA.

Quinta-feira

Data: 08/07/2021

LEITURA DIÁRIA: OS CINCO SENTIDOS – DISPONÍVEL EM: – <https://youtu.be/ezwz8TBcjYo>
ACESSO EM: 28/06/2021.

CIÊNCIAS: ATIVIDADE DIAGNÓSTICA DE CIÊNCIAS.

- ATIVIDADE DISPONIBILIZADA PELA UNIDADE ESCOLAR.

HORTOLÂNDIA, _____ DE _____ DE 2021.
MEU NOME É: _____
2º ANO _____ PROFESSORA: _____

ATIVIDADE DIAGNÓSTICA DE CIÊNCIAS

1- COM O AUXÍLIO DO BANCO DE PALAVRAS, COMPLETE AS FRASES:

BANCO DE PALAVRAS

VISÃO	OLEOS	ALUVIÃO	OURIVES	TETO
BISSO	QUEBES	ALBUOLA	SUVIDOS	SARU
VILÃO	GITOS	AUDIÇÃO	OUTUBRO	SARU
OLHADA	MARIZ	PALADAR	LIGIEN	PELE
OLVIDO	PAZEL	PALAVRA	LINGUA	PELO
OLFATO	ATRIZ	PALHAÇA	LISTRA	BRULE

1) PERCEBEMOS A LUZ E AS CORES ATRAVÉS DA _____
COM A AJUDA DOS NOSSOS _____

2) APRECIAMOS O BONITO CANTO DE UM PÁSSARO ATRAVÉS DA _____
COM A AJUDA DOS NOSSOS _____

3) DESCOBRIMOS QUE UM BOLO DELICIOSO ESTÁ ASSANDO ATRAVÉS DO _____
COM A AJUDA DO NOSSO _____

4) NOS DELICIAMOS COM O SABOR DO BRIGADEIRO ATRAVÉS DO _____
COM A AJUDA DA NOSSA _____

5) SENTIMOS DOR, CALOR, FRIO E PERCEBEMOS TEXTURAS E FORMAS ATRAVÉS DO _____
COM A AJUDA DA _____

2- COM AS MESMAS PALAVRAS USADAS NAS FRASES, COMPLETE A CRUZADINHA:

5 2 4 5 3 4 1 2

INGLÊS: VAMOS APRENDER UMA NOVA LÍNGUA? DÊ UMA OLHADA EM NOSSO PORTAL DA EDUCAÇÃO E VEJA AS ATIVIDADES.

Sexta-feira

Data: 09/07/2021

FERIADO