

## **ATENDIMENTO EDUCACIONAL ESPECIALIZADO**

### **1ª ATIVIDADE AVALIATIVA – PT – 2021**

**ESCOLA:** \_\_\_\_\_ **AEE:** \_\_\_\_\_

**NOME:** \_\_\_\_\_ **DATA:** \_\_\_\_ / \_\_\_\_ / \_\_\_\_

**DIA E MÊS DO SEU ANIVERSÁRIO:** \_\_\_\_\_ **IDADE:** \_\_\_\_\_



### **PRODUÇÃO DE TEXTO**

#### **COMO FAZER UM TEXTO:**

- **OBSERVE A IMAGEM E NÃO ESQUEÇA DE COLOCAR O TÍTULO (NOME DA HISTÓRIA).**
- **INICIE A ESCRITA DO TEXTO.**
- **PRESTE ATENÇÃO NA ESCRITA E PONTUAÇÕES.**
- **DE UM SENTIDO A HISTÓRIA COM INÍCIO, MEIO E FIM.**

**BOA PRODUÇÃO!!**



**LEIA COM ATENÇÃO:**



**CAIPIRINHA ELEGANTE**

MEU VESTIDO DE CHITÃO  
FOI PRESENTE DA VOVÓ  
RENDA, BABADO E FITA...  
VEJA SÓ! ESTOU BONITA?

SOU CAIPIRA ELEGANTE  
ANDO SEMPRE BEM TRAJADA.  
ATÉ LOGO, MINHA GENTE,  
QUE A FESTA ESTÁ ANIMADA!

*GILDA FIGUEIREDO PADILHA*



**RESPONDA:**

**1- COMO É O VESTIDO DA CAIPIRINHA?**

R:-

---

**2- QUEM DEU O VESTIDO PARA A CAIPIRINHA?**

R: \_\_\_\_\_

**3- PARA ONDE A CAIPIRINHA VAI TODA ARRUMADA?**

R: \_\_\_\_\_

**OBSERVE AS PALAVRAS E CIRCULE AQUELAS QUE FORAM  
ESCRITAS COM A LETRA MINÚSCULA.**

**FITA**

**céu**

**vovó**

**som**

**AGORA ESCREVA PALAVRAS QUE RIMAM:**

**FESTA**

**ELEGANTE**

**ANIMADA**

## OBSERVE O CALENDÁRIO ABAIXO

**MÊS: JUNHO**

**ANO: 2021**

DOMINGO	SEGUNDA	TERÇA	QUARTA	QUINTA	SEXTA	SÁBADO
		<b>1</b>	<b>2</b>	<b>3</b>	<b>4</b>	<b>5</b>
<b>6</b>	<b>7</b>	<b>8</b>	<b>9</b>	<b>10</b>	<b>11</b>	<b>12</b>
<b>13</b>	<b>14</b>	<b>15</b>	<b>16</b>	<b>17</b>	<b>18</b>	<b>19</b>
<b>20</b>	<b>21</b>	<b>22</b>	<b>23</b>	<b>24</b>	<b>25</b>	<b>26</b>
<b>27</b>	<b>28</b>	<b>29</b>	<b>30</b>			

1- NO MÊS DE JUNHO ACONTECEM NAS ESCOLAS MUITAS FESTAS JUNINAS. VAMOS IMAGINAR QUE NA NOSSA ESCOLA, A FESTA ACONTECERIA NO DIA 19. IDENTIFIQUE NO CALENDÁRIO EM QUE DIA DA SEMANA SERÁ E ESCREVA-O ABAIXO. PINTE ESTE DIA DE AMARELO NO CALENDÁRIO.

---

2 - SE ESSA FESTA FOSSE NO DIA 30 DE JUNHO, EM QUAL DIA DA SEMANA QUE CAIRIA? ESCREVA-O ABAIXO E O PINTE NO CALENDÁRIO DE VERMELHO.

---



## COMPLETE OS QUADROS COM OS NÚMEROS QUE FALTAM.



1		3	4	
6		8		

2	4		8	10
		16	18	




1		5		9
	13	15		





2	5		11	
17		23		


	10			25
30			45	


## VAMOS CALCULAR ?


  $17 - 2;$  =


  $5 \times 3;$  =


  $9 + 13;$  =

  $13 - 4;$  =

  $16 - 6;$  =

  $25 \div 5;$  =

  $9 + 10;$  =

  $4 + 17;$  =

## VAMOS RESOLVER AS SITUAÇÕES-PROBLEMAS

<b>TABELA DE PREÇOS</b>	
<b>TIRO AO ALVO</b>	<b>R\$2,00</b>
<b>JOGO DA ARGOLA</b>	<b>R\$3,00</b>
<b>PESCARIA</b>	<b>R\$2,00</b>
<b>BOCA DO PALHAÇO</b>	<b>R\$1,00</b>
<b>CORRIDA DO SACO</b>	<b>R\$3,00</b>
<b>CORREIO ELEGANTE</b>	<b>R\$2,00</b>
<b>CARTELA DE BINGO</b>	<b>R\$1,00</b>
<b>PULA -PULA</b>	<b>R\$3,00</b>

## SITUAÇÕES PROBLEMAS

1) JOSÉ TEM R\$ 10,00 PARA GASTAR NA FESTA JUNINA. ELE QUER GASTAR TUDO SE DIVERTINDO! ESCREVA 3 SUGESTÕES PARA JOSÉ GASTAR SEUS R\$10,00 REAIS EM BRINCADEIRAS.

**SUGESTÃO 1:** \_\_\_\_\_

**SUGESTÃO 2:** \_\_\_\_\_

**SUGESTÃO 3:** \_\_\_\_\_

2) JOANA IRÁ COMPRAR A QUANTIDADE DE INGRESSOS MENCIONADA ABAIXO, PARA AS SEGUINTE BRINCADEIRAS:

- 3 PULA-PULAS
- 2 JOGOS DA ARGOLA
- 3 CARTELAS DE BINGO

QUANTO ELA PAGARÁ POR ESTES INGRESSOS ?

**RESPOSTA:** \_\_\_\_\_