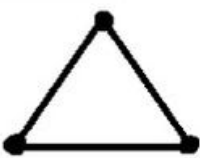
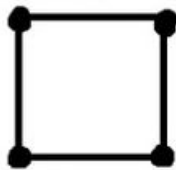


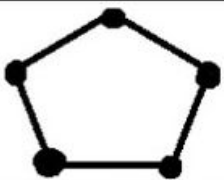
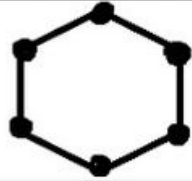


Nome: _____

Data: ___ / ___ / ___ 3º ano A,B e C

Prof.: Kelly, Marilande e Jusceley

1. Complete o quadro de acordo com o modelo.

Figura	Nome da forma	Número de lados
	Triângulo	3 Lados
		
		
		
		
		

FIQUE SABENDO!

Polígonos são linhas fechadas formadas apenas por segmentos de reta que não se cruzam. Em outras palavras, são figuras geométricas planas formadas por lados, que, por sua vez, são segmentos de reta.



O círculo não contém lados nem vértices, pois ele é redondo.

Vértice é um ponto em que duas ou mais curvas, retas ou arestas se encontram.


Wikipédia

2. Responda:

a) Nome de um polígono com 3 lados _____



b) Nome de um polígono com 4 lados _____

c) Nome de uma figura plana que não contém lados _____





3. Desenhe o pato na malha geométrica ao lado.

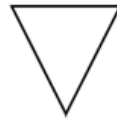


4. Complete as frases com as informações que se pede.

A) O quadrado possui _____ lados de tamanhos iguais e _____ vértices .



b) O triângulo possui _____ lados e _____ vértices.



c) O trapézio possui _____ lados e _____ vértices.



d) O paralelogramo possui _____ lados e _____ vértices.



e) O retângulo possui _____ lados e _____ vértices.



Acesse pela internet

5. Complete os desenhos de objetos que temos em casa com a forma do trapézio e do retângulo. E escreva os nomes.





Leituras da semana:


2ºf <https://youtu.be/YmZvP6cppOU>
Polígono

3ºf https://youtu.be/DtK_1LZmYqE
Geometria para crianças

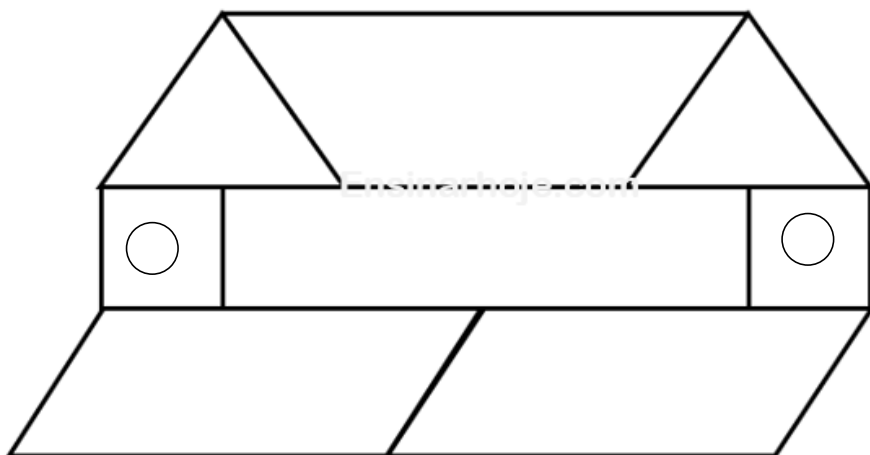
4ºf https://youtu.be/5NjG7gIgf_0
Música e canções para crianças

• 5ºf <https://youtu.be/TBnlizv7leo>
Figuras geométricas planas





6. Pinte as figuras geométricas iguais da mesma cor.



Quantas figuras geométricas aparecem na figura ao lado?

Quantos polígonos aparecem na figura ao lado?

7. Observe a imagem do Congresso Nacional em Brasília e responda.



a) Quais as figuras geométricas que aparecem na imagem do Congresso Nacional?

b) Qual nome do seu país?

c) Qual nome da capital do seu país?

d) Qual nome do Presidente da República?

e) Como o presidente da República é escolhido?

f) Pesquise e escreva os nomes de 2 outros ex- Presidentes da República do Brasil.

