

EMEF RENATO DA COSTA LIMA

Professoras: Cássia, Daniela, Lisete, Natália e Viviane
1º ANOS

AVALIAÇÃO DIAGNÓSTICA DE 05 A 08 DE JULHO DE 2021

ATENÇÃO: DEVOLVER NA ESCOLA PARA CORREÇÃO ATÉ: 12/07/2021.

OBSERVAÇÃO: A CRIANÇA DEVERÁ RESPONDER AS ATIVIDADES SOZINHA. O ADULTO APENAS IRÁ AUXILIÁ-LA NA LEITURA DOS ENUNCIADOS.

AS ORIENTAÇÕES SERÃO ENVIADAS VIA WHATSAPP PELA PROFESSORA DA TURMA.

NOME: _____ TURMA: 1º ANO _____

AVALIAÇÃO DE PORTUGUÊS


COM AJUDA DE UM ADULTO LEIA A PARLENDA:



JACARÉ FOI AO MERCADO

JACARÉ FOI AO MERCADO
NÃO SABIA O QUE COMPRAR
COMPROU UMA CADEIRINHA
PARA COMADRE SE SENTAR.
A COMADRE SE SENTOU
A CADEIRA ESBORRACHOU
JACARÉ CHOROU, CHOROU
O DINHEIRO QUE GASTOU

1. QUEM COMPROU A CADEIRINHA? ESCREVA O NOME ABAIXO DA FIGURINHA:



2. EM QUE LUGAR O JACARÉ COMPROU A CADEIRINHA?

() MERCADO () SHOPPING () AÇOUGUE


3. SEPRE POR SÍLABAS A PALAVRA JACARÉ

4. COMPLETE COM VOGAIS AS PALAVRAS ABAIXO QUE ESTÃO NA PARLENDAS:

C__DE__R__NH__

M__R C__D__

5. ESCREVA OS NOMES DAS FIGURAS DO JEITO QUE VOCÊ SABE, SEM AJUDA:



6. CITE DUAS PALAVRAS DA PARLENDAS QUE TERMINAM COM O MESMO SOM DA PALAVRA FALAR:

7. CITE DUAS PALAVRAS DA PARLENDAS QUE TERMINAM COM O MESMO SOM DA PALAVRA ACABOU:

8. COMPLETE O ALFABETO

A	B		D	E		G
H		J	K			
O		Q	R	S		U
	W		Y	Z		

9. APÓS COMPLETAR O ALFABETO, PINTE 10 LETRAS CONSOANTES DE AZUL.

10. DESCUBRA CADA PALAVRA PEGANDO CADA SÍLABA NO QUADRO ABAIXO:

1	LA	2	NA	3	VE	4	TA
5	PO	6	LO	7	DE	8	TE
9	BO	10	DA	11	CA	12	DO

1 + 4 = _____ 5 + 8 = _____

3 + 1 = _____ 9 + 11 = _____

2 + 10 = _____ 9 + 6 = _____

1 + 12 = _____ 7 + 12 = _____

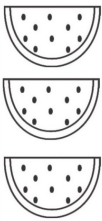
NOME: _____ TURMA: 1º ANO _____

AVALIAÇÃO MATEMÁTICA

1. DESENHE A QUANTIDADE DE CADA ELEMENTO PARA COMPLETAR CONFORME OS NUMERAIS AO LADO. EM SEGUIDA, COPIE OS NOMES ABAIXO DE CADA NUMERAL:

	11 ONZE
	<input type="text"/>

	15 QUINZE
	<input type="text"/>

	13 TREZE
	<input type="text"/>

2. CONTE QUANTAS FIGURAS TÊM EM CADA CONJUNTO E PINTE O NÚMERO CORRESPONDENTE DO QUADRADO:

	<table border="1"><tr><td>3</td><td>6</td></tr><tr><td>5</td><td>4</td></tr></table>	3	6	5	4
3	6				
5	4				

	<table border="1"><tr><td>5</td><td>4</td></tr><tr><td>3</td><td>6</td></tr></table>	5	4	3	6
5	4				
3	6				

	<table border="1"><tr><td>6</td><td>5</td></tr><tr><td>4</td><td>3</td></tr></table>	6	5	4	3
6	5				
4	3				

3. PREENCHER A TABELA ABAIXO COM OS NÚMEROS QUE ESTÃO FALTANDO:

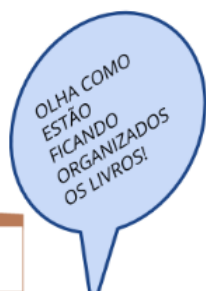
1		3		5
	7		9	
11		13		15
	17		19	
21		23		25
	27		29	

4. OBSERVE O CALENDÁRIO DO MÊS DE MAIO NA IMAGEM ABAIXO E RESPONDA AS PERGUNTAS A SEGUIR:

M A I O						
DOMINGO	SEGUNDA	TERÇA	QUARTA	QUINTA	SEXTA	SÁBADO
						1
2	3	4	5	6	7	8
9	10	11	12	13	14	15
16	17	18	19	20	21	22
23	24	25	26	27	28	29
30	31					

- A SEMANA INICIA NO DOMINGO, REPRESENTADO PELA LETRA **D** E FINALIZA NO SÁBADO, REPRESENTADO PELA LETRA **S**. OBSERVE E RESPONDA EM NUMERAL QUANTOS DIAS DA SEMANA TEM ENTRE O INÍCIO E O FINAL DA SEMANA?
- NO DIA **19 DE MAIO** FOI COMEMORADO O ANIVERSÁRIO DE 30 ANOS DA CIDADE DE HORTOLÂNDIA. PINTE O DIA QUE VEM ANTES DO DIA 19 (ANTECESSOR) E O DIA QUE VEM DEPOIS DO DIA 19 (SUCESSOR).
- RESPONDA EM NUMERAL QUANTOS DIAS TEM O MÊS DE MAIO: _____

5. ROSEANE ESTÁ ARRUMANDO UMA DAS ESTANTES DE LIVRO DA BIBLIOTECA DE SUA ESCOLA. OBSERVE O QUE ELA JÁ ARRUMOU.



- QUANTOS LIVROS ELA JÁ COLOCOU NA ESTANTE?
- QUANTOS LIVROS ELA PODE COLOCAR AINDA NA ESTANTE?
- DESENHE NA PRATELEIRA A QUANTIDADE DE LIVROS QUE FALTAM.

6. O NOSSO LADO DIREITO E ESQUERDO NÃO MUDA. O QUE MUDA É A POSIÇÃO DO NOSSO CORPO.

DICA: AMARRE UMA FITINHA NO SEU BRAÇO ESQUERDO PARA TE AJUDAR NAS ATIVIDADES.



A. COMPLETE AS FRASES ABAIXO USANDO AS PALAVRAS DE ORIENTAÇÃO DIREITO, FRENTE, DIREITA, ESQUERDA, FRENTE, ATRÁS. OBSERVANDO A POSIÇÃO DOS ALUNOS NA SALA.

DIREITO – FRENTE – DIREITA – ESQUERDA – FRENTE - ATRÁS

A) FABIO ESTÁ A _____ DA LAIS.
B) CAIO ESTÁ _____ DA LAIS.
C) FABIO ESTÁ NA _____ DA BIA.
D) CAIO ESTÁ A _____ DA BIA.
E) A PROFESSORA ESTÁ DO LADO _____ DA SALA.
F) A LOUSA ESTÁ NA _____ DAS CRIANÇAS.

Sexta-feira
Data: 09/07/2021

FERIADO - REVOLUÇÃO CONSTITUCIONALISTA DE 1932.