

**ATIVIDADES INTERDISCIPLINARES**

**ATIVIDADE IMPRESSA E DISPONIBILIZADA PELA ESCOLA**

**DEVOLVER A ATIVIDADE NA ESCOLA NO DIA 23/03/2021**

**TODOS OS LINKS SERÃO DISPONIBILIZADOS NO WHATSAPP.**

ESCOLA:

NOME COMPLETO:

TURMA:

PROFESSORA:

**SEGUNDA-FEIRA (15/03/2021) LEITURA DIÁRIA: A FOCA DE VINICIUS DE MORAES.**

**LINK DO VÍDEO: <https://www.youtube.com/watch?v=d5oPuLs-ylo>**

1- VOCÊ CONHECE O POEMA “A FOCA” DE VINICIUS DE MORAES? COM AJUDA DE UM ADULTO FAÇA A LEITURA:



2-POEMAS SÃO TEXTOS COM ESTROFES E VERSOS QUE GERALMENTE CONTÉM **RIMAS**. RIMAS SÃO PALAVRAS QUE TEM SONS IGUAIS , VEJA OS EXEMPLOS:

AM**OR** RIMA COM FL**OR**

M**ÃO** RIMA COM LIM**ÃO**

AGORA **CIRCULE** NO POEMA AS RIMAS QUE VOCÊ ENCONTRAR E **CIRCULE** O NOME DO AUTOR DO POEMA.

3- AGORA É SUA VEZ DE CRIAR RIMAS!

BIFÃO RIMA COM \_\_\_\_\_

CAFÉ RIMA COM \_\_\_\_\_

ESCOLA RIMA COM \_\_\_\_\_

SARDINHA RIMA COM \_\_\_\_\_

**TERÇA-FEIRA (16/03/2021)**

**LEITURA DIÁRIA: "A CASA" VINICIUS DE MORAES.**

**LINK DO VÍDEO: <https://www.youtube.com/watch?v=jb5z-TyJfw>**

4- OBSERVE A PALAVRA

F	O	C	A
---	---	---	---

A - PINTE AS VOGAIS DE AMARELO E AS CONSOANTES DE AZUL.

--	--

B - QUANTAS LETRAS TEM A PALAVRA? \_\_\_\_\_

C - VAMOS SEPARAR A PALAVRA "FOCA" EM SÍLABAS?

5- VOCÊ SABIA QUE A FOCA É UM ANIMAL AQUÁTICO, QUE VIVE PRINCIPALMENTE EM ÁGUAS GELADAS? ESCREVA O NOME DE OUTROS ANIMAIS AQUÁTICOS QUE VOCÊ CONHECE:

\_\_\_\_\_

**QUARTA-FEIRA (17/03/2021) LEITURA DIÁRIA: "O PATO" VINICIUS DE MORAES.**

**LINK DO VÍDEO: <https://www.youtube.com/watch?v=pHqa9KrkFU4>**

6- ASSISTA AO VÍDEO [https://www.youtube.com/watch?v=ALEe6\\_JXVTI](https://www.youtube.com/watch?v=ALEe6_JXVTI) PARA CONHECER AS NOÇÕES DE “ESQUERDA E DIREITA”


OBSERVE A IMAGEM E RESPONDA:



CIRCULE COM O LÁPIS DE COR VERMELHO AS FIGURAS QUE ESTÃO NA **PARTE DE CIMA** DA ÁGUA

CIRCULE COM O LÁPIS DE COR AMARELO AS FIGURAS QUE ESTÃO **DEBAIXO** DA ÁGUA  
FAÇA UM X NAS FIGURAS QUE ESTÃO DO **LADO ESQUERDO** DA IMAGEM.

CIRCULE COM O LÁPIS PRETO AS FIGURAS QUE ESTÃO DO **LADO DIREITO** DA IMAGEM.






7- OBSERVE OS CONJUNTOS DE FOCAS E RESPONDA:

CONJUNTO 1

CONJUNTO 2



A-QUAL DOS CONJUNTOS (1 OU 2) TEM MAIS FOCAS? \_\_\_\_\_

B-QUANTAS FOCAS ESSE CONJUNTO TEM A MAIS QUE O OUTRO? \_\_\_\_\_

C-SE JUNTARMOS OS DOIS CONJUNTOS, QUANTAS FOCAS TEREMOS? \_\_\_\_\_

**QUINTA-FEIRA (18/03/2021) LEITURA DIÁRIA: "O RELÓGIO" VINICIUS DE MORAES.**

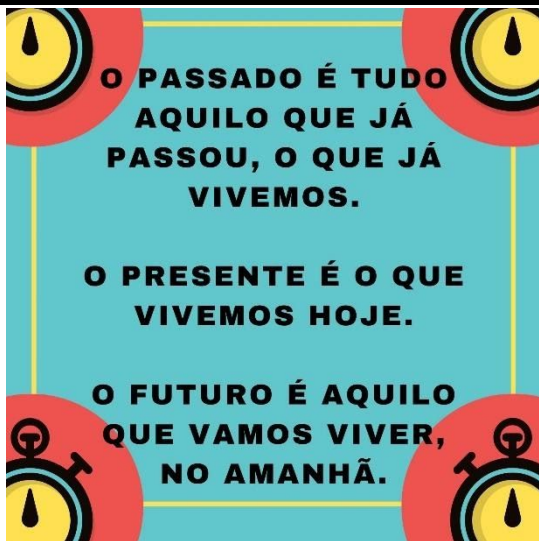
**LINK DO VÍDEO: <https://www.youtube.com/watch?v=4szJgFbLEnE>**

8- VOCÊ SABIA QUE O TEMPO SE DIVIDE EM **PASSADO, PRESENTE E FUTURO?**

**NO PASSADO** - EU GOSTAVA DE CHUPETA.

**NO PRESENTE** - EU GOSTO DE LER LIVROS.

**NO FUTURO** - EU GOSTARIA DE APRENDER A NADAR.



**AGORA É SUA VEZ!!!**

ESCREVA O QUE VOCÊ GOSTAVA DE FAZER NO PASSADO \_\_\_\_\_

O QUE VOCÊ GOSTA DE FAZER HOJE NO PRESENTE \_\_\_\_\_

O QUE VOCÊ GOSTARIA DE FAZER NO FUTURO \_\_\_\_\_

**SEXTA-FEIRA (19/03/2021) LEITURA DIÁRIA: "O PINGUIM" VINICIUS DE MORAES.**

**LINK DO YOUTUBE:** <https://www.youtube.com/watch?v=7-w3DIm5OUM&list=PLfSD4gsn-JEwp44eQIBTFFP-oHW07IjGX>

9- MARCIA GANHOU 6 FOCAS DE PELÚCIA DE MAMÃE E 3 PINGUINS DE PELÚCIA DA VOVÓ.  
QUANTOS BRINQUEDOS MARCIA GANHOU?



VAMOS APRENDER A ARMAR ESSA CONTA DE ADIÇÃO?

USE O EXEMPLO ABAIXO E FAÇA  $6 + 3$  NO QUADRO.

$$2 + 1 = 3$$



$$\begin{array}{r} 2 \\ +1 \\ \hline 3 \end{array}$$

A large, empty rectangular box with a black border, intended for the student to write and solve the addition problem  $6 + 3$ .