

Nome: _____

Data: _/ _/ _

Profª Kelly, Marilande e Jusceley

3º ano _____

1. Leia a tirinha a seguir e responda:



Copyright © 2001 Mauricio de Sousa Produções Ltda. Todos os direitos reservados.

5180

a) Quais personagens aparecem na tirinha?

b) O que aconteceu com a Mônica?

c) Escreva corretamente a palavra que o Cebolinha falou errado.

d) Por que o Cebolinha estava triste?

e) Quem viu a Mônica caindo?

f) Você concorda com a atitude do Cebolinha? Justifique sua resposta.

g) Quais sentimentos demonstrados pelos personagens da tirinha ?

Leituras da semana:



2º F https://youtu.be/M7wqIF3YM_g
Sentimentos e emoções.


3º F <https://youtu.be/dWNS207QkCs>
Alegria - História infantil

4º F <https://youtu.be/MZjxbbBqIOU>
Raiva - História infantil











5º F <https://youtu.be/Cm8j6JlgySY>
Quem tem medo

6º F <https://youtu.be/9djicXebUsU>
Inveja - História Infantil





2. Desenhe as emoções que faltam :

 Alegria	 Medo	1  Amor	 Raiva	5  Tristeza
 Alegria	 Medo	 Amor	 Raiva	 Tristeza
4	3		2	

3. Escreva uma frase exclamativa com cada uma das emoções desenhadas.

1 _____


2 _____

3 _____

4 _____

5 _____

4. Observe as emoções a seguir.
Resgate em sua memória uma emoção vivida e conte com detalhes tal acontecimento.

1 	2 
3 	4 

Faça um X na emoção escolhida:

1 2 3 4

5. Qual é o número?

a) Cento e quarenta e sete.

b) 1 centena, 2 dezenas e 3 unidades.

c) $70 + 9$.

d) Cento e nove.

e) 8 dezenas e 1 unidade.

f) $100 + 40 + 5$.

7. Organize os números em ordem crescente.

100 - 30 - 2021 - 84 - 144 - 201 - 12

Vídeo de adição com reserva.

[https://www.youtube.com/watch?](https://www.youtube.com/watch?v=IKknX2mYyJg)

[v=IKknX2mYyJg](https://www.youtube.com/watch?v=IKknX2mYyJg)



Acesse pelo computador,
tablete ou celular

6. Arme e efetue as adições.

$173 + 24 =$

$247 + 121 =$

$369 + 130 =$

$485 + 14 =$

$373 + 17 =$

$431 + 49 =$

$108 + 133 =$

$255 + 137 =$




8. Desenhe como podemos usar a água em diferentes lugares.

EM CASA	NA AGRICULTURA
---------	----------------


NAS INDÚSTRIAS	NAS EMBARCAÇÕES
----------------	-----------------

NA SAÚDE


9. Leia as trovinhas e complete rimando.



PAPAI DO MEU CORAÇÃO,
A TORNEIRA ESTÁ PINGANDO.
DEPOIS NÃO VENHA ME DIZER
QUE ESTAMOS _____

MANINHA, SAI DO BANHO!
VOCÊ DEMORA _____
DEPOIS VOCÊ JÁ SABE,
A CONTA É DE NOSSOS PAIS _____



PARA LIMPAR O PASSEIO
DEIXE DE LADO A _____
USE SÓ UMA VASSOURA.
GASTAR ÁGUA É BOBEIRA _____




11. Observe as imagens 1 e 2 e escreva as utilidades da água na zona rural e na zona urbana.

Zona rural

Zona urbana



Dica

	Pare, pense e respire antes de agir
	Atenção às emoções e pensamentos
	Pensamento positivo para seguir em frente

www.psicoadu.com.br

O Semáforo das Emoções ajuda você a ficar atento aos sinais do corpo e do ambiente! Quando alguma coisa te deixar com raiva, PARE e PENSE antes de agir. Assim você pode escolher o melhor caminho para seguir!

10. Pinte o semáforo das emoções.