

Prefeitura Municipal de
Hortolândia Secretaria de Educação,
Ciência e Tecnologia

Unidade Escolar: EMEF Salvador Zacharias Pereira Júnior
Professores: Rejane, Lindsey, Adriana, Elisangela, Sandra e Deyse.
Componente Curricular: Língua Portuguesa, Matemática, História, Geografia, Ciências.
Ano/Turmas: 2º anos A, B, C, D, E, F.
Data para realização das atividades: 10 a 14/05/21

Nome: _____ 2º ano _____

Professora: _____



ESTAMOS COMEÇANDO MAIS UMA SEMANA COM VÁRIAS ATIVIDADES QUE PREPARAMOS COM MUITO CARINHO PARA VOCÊS!

SE TIVEREM DÚVIDAS É SÓ ENVIAR UMA MENSAGEM NO WHATSAPP DA PROFESSORA.

Dia da Semana	Rotina Diária: Descrição das Atividades
Segunda-Feira 10/05/2021	Leitura diária: E o dente ainda doía – Ana Terra – História contada Game Toy Kids – Acesso em 28/04/21. Língua Portuguesa: Letra maiúscula e minúscula; alfabeto; cantiga Inglês: Weather (Clima) - página 15
Terça-feira 11/05/2021	Leitura diária: O pássaro e os medos - Autores: Luiz Norberto Pascoal e Isabela Pascoal Beker – História conta por Juliandra Alencar - Acesso em 28/04/21. Matemática: Ordem crescente e decrescente; situação problema de adição e subtração.
Quarta-feira 12/05/2021	Leitura diária: Cabe na mala - Autor: Ana Maria Machado e Claudius – História contada por Nobre Infância - Acesso em 28/04/21 História: Espaço público Arte: Dê uma olhadinha no Blog na atividade de Arte!
Quinta-feira 13/05/2021	Leitura diária: Cada um com seu jeito, cada jeito é de um! - Autora: Lucimar Rosa Dias – História contada por História da Carolinha - Acesso em 28/04/21. GEOGRAFIA: Migração e migração interna. Educação Física: Dê uma olhadinha no Blog na atividade que o professor preparou.
Sexta-feira 14/05/2021	Leitura diária: Ora, ora, desencana! Quem quer bolo de banana? – História contada por Acesso em 28/04/21. Autora: Ana Terra – Acesso em 28/04/21. Ciências: O habitat das plantas

ATENÇÃO

TODOS OS DIAS, ANTES DE COMEÇAR AS ATIVIDADES, VOCÊ DEVERÁ FAZER O CABEÇALHO EM SEU CADERNO, SEGUINDO ESSE MODELO E PREENCHENDO AS INFORMAÇÕES.

EMEF SALVADOR ZACHARIAS PEREIRA JUNIOR

HORTOLÂNDIA, ____ DE MAIO DE 2021

NOME COMPLETO: _____

PROFESSORA: _____

SEGUNDA-FEIRA – 10/05/21

LEITURA DIÁRIA: E O DENTE AINDA DOÍ DE ANA TERRA

CLIQUE NO LINK E ACESSE A LEITURA:


https://www.youtube.com/watch?v=rzj_dcYaosM

LÍNGUA PORTUGUESA

VOCÊ JÁ SABE QUANDO USAMOS LETRAS MAIÚSCULAS E MINÚSCULAS? OBSERVE O TEXTO ABAIXO:

Lara,
Vamos ao zoológico
amanhã à tarde? Meus pais vão
pegá-la. Lá, existem muitos
animais, alguns domésticos e
silvestres. Se você quiser, pode
convidar sua irmã Maria.

Beijos! Amanda



Fonte: <https://educacaoetransformacaooficial.blogspot.com/2020/06/portugues-letra-maiuscula-e-minuscula.html>

PARA ESCREVER PRECISAMOS SABER USAR A LETRA MAIÚSCULA. ELA DEVE SER USADA QUANDO INICIAMOS UMA FRASE E TAMBÉM QUANDO DAMOS NOMES AS PESSOAS, CIDADE, PAÍSES.

COPIE O BILHETE NO SEU CADERNO. ESCOLHA UMA COR E PINTE NO BILHETE OS NOMES DE PESSOAS, ESCOLHA OUTRA COR E PINTE A PALAVRA USADA NO INÍCIO DA FRASE.

ABAIXO ESTÃO AS LETRAS MAIÚSCULAS E MINÚSCULAS DO NOSSO ALFABETO

Aa	Bb	Cc	Dd	Ee	Ff	Gg	Hh	Ii
Jj	Kk	Ll	Mm	Nn	Oo	Pp	Qq	Rr
Ss	Tt	Uu	Vv	Ww	Xx	Yy	Zz	

Fonte: <https://educacaoetransformacaooficial.blogspot.com/2020/06/portugues-letra-maiuscula-e-minuscula.html>

COPIE O QUADRO ABAIXO NO SEU CADERNO E COMPLETE O QUADRO COM AS LETRAS MINÚSCULAS

A	Bb	C	D	E	F	G	H	Ii
Jj	K	L	Mm	N	O	P	Q	R
S	T	U	Vv	W	X	Yy	Z	

AGORA VAMOS CANTAR? VEJA O VIDEO DA CANTIGA SE ESSA RUA FOSSE MINHA : https://www.youtube.com/watch?v=luZf_xTt_JU

CANTIGAS SÃO MÚSICAS POPULARES QUE ESTÃO RELACIONADAS A BRINCADEIRAS DE RODA, CONHECIDAS TAMBÉM COMO CIRANDAS. ELAS POSSUEM MELODIA, RITMO E LETRA DE FÁCIL COMPREENSÃO PARA A CRIANÇA.

COPIE NO SEU CADERNO A CANTIGA ABAIXO E COMPLETE AS LACUNAS COM A LETRA DA CANTIGA.

“SE ESSA RUA FOSSE MINHA”

SE ESSA RUA, SE ESSA _____ FOSSE MINHA
EU MANDAVA, EU MANDAVA _____
COM PEDRINHAS, COM _____ DE _____
PARA O MEU, PARA O MEU _____ PASSAR
NESSA RUA, NESSA RUA TEM UM _____
QUE SE CHAMA, QUE SE CHAMA _____
DENTRO DELE, DENTRO DELE MORA UM _____
QUE ROUBOU, QUE _____ MEU _____
SE EU ROUBEI, SE EU ROUBEI TEU _____
É PORQUE, É PORQUE TE _____ BEM
SE EU ROUBEI, SE EU _____ TEU CORAÇÃO
É PORQUE _____ ROUBASTE O _____ TAMBÉM

TERÇA-FEIRA 11/05/21

LEITURA DIÁRIA: O PÁSSARO E OS MEDOS DE LUIZ NORBERTO PASCOAL E ISABELA PASCOAL BEKER

CLIQUE NO LINK E ACESSE A LEITURA:

<https://www.youtube.com/watch?v=tFLZqijYMwY>

MATEMÁTICA

HOJE VAMOS APRENDER MAIS SOBRE ORDEM CRESCENTE E DECRESCENTE. VOCÊ SABE O QUE É? ASSISTA ESSE VIDEO:
https://www.youtube.com/watch?v=oJFiB63N_yI

ORDEM CRESCENTE É QUANDO OS NÚMEROS VÃO DO MENOR PARA O MAIOR. EXEMPLO: 01 - 02 - 03 - 04 - 05.

ORDEM DECRESCENTE É QUANDO OS NÚMEROS VÃO DO MAIOR PARA O MENOR. EXEMPLO: 10 - 09 - 08 - 07 - 06.

AGORA É COM VOCÊ!

- **COPIE A ATIVIDADE E RESPONDA NO SEU CADERNO:**

COLOQUE OS NÚMEROS NA ORDEM QUE SE PEDE:

✓ ORDEM CRESCENTE 10 - 33 - 05 - 28 - 17 _____ QUAL É O MAIOR? 33 OU 28? _____ 18 OU 27? _____ 17 OU 13? _____ 22 OU 23? _____ 31 OU 30? _____ 11 OU 12? _____	✓ ORDEM DECRESCENTE 04 - 26 - 12 - 31 - 19 _____ QUAL É O MENOR? 03 OU 04? _____ 12 OU 08? _____ 31 OU 32? _____ 21 OU 19? _____ 10 OU 30? _____ 29 OU 26? _____
--	--




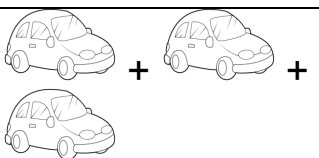
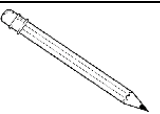
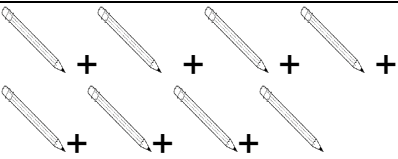
VAMOS RESOLVER OS DESAFIOS. FAÇA AS CONTAS NO SEU CADERNO.

1. MÁRIO FEZ 10 GOLS E JOÃO FEZ 6. QUANTOS GOLS ELES FIZERAM JUNTOS?



RESPOSTA: ELES FIZERAM JUNTOS _____ GOLS

2. JOANA FOI NA LOJA DE BRINQUEDOS E COMPROU VÁRIOS ITENS. AJUDE A JOANA NO VALOR TOTAL. RESPONDA NO SEU CADERNO.

VALOR UNITÁRIO	QUANTIDADE	TOTAL GASTO
 R\$ 5,00		$5 + 5 = \underline{\hspace{2cm}}$ R\$ _____
 R\$ 4,00		$4 + 4 + 4 = \underline{\hspace{2cm}}$ R\$ _____
 R\$ 2,00		$2 + 2 + 2 + 2 + 2 + 2 + 2$ $+ 2 = \underline{\hspace{2cm}}$ R\$ _____

3. MIRIAM FOI À FEIRA E COMPROU 12 MAÇAS. JÁ COMEU 2. QUANTAS MAÇAS SOBRARAM? FAÇA A OPERAÇÃO NO SEU CADERNO.

RESPOSTA: SOBRARAM _____ MAÇAS

4. CHICO FOI A FEIRA E TROUXE 20 LARANJAS MAS NO CAMINHO CAIRAM 8. QUANTAS LARANJAS CHICO LEVOU PARA CASA? FAÇA A CONTA NO CADERNO.



RESPOSTA: CHICO LEVOU PARA CASA APENAS _____ LARANJAS.

QUARTA-FEIRA – 12/05/21

LEITURA DIÁRIA: CABE NA MALA DE ANA MARIA MACHADO E CLAUDIUS.

CLIQUE NO LINK E ACESSE A LEITURA:

<https://www.youtube.com/watch?v=ScanqkTP138>

HISTÓRIA

O QUE É UM ESPAÇO PÚBLICO?

O ESPAÇO PÚBLICO É ENTENDIDO COMO AQUELE DE USO COMUM E QUE TODOS PODEM USAR LIVREMENTE E SEM CUSTO COMO AS RUAS, PRAÇAS, PARQUES, ETC. SEU USO DEVE SER RESPONSÁVEL E DEVE HAVER SEMPRE O RESPEITO AO PRÓXIMO. VEJA O VIDEO EXPLICATIVO: <https://www.youtube.com/watch?v=xgBGeJK0j4E>

JÁ OS ESPAÇOS PRIVADOS SÃO LOCAIS ONDE QUE OS PROPRIETÁRIOS PERMITEM OU NÃO A ENTRADA DE OUTRAS PESSOAS COMO PRÉDIOS, LOJAS, BANCOS, CINEMAS, ETC.

COPIE A ATIVIDADE NO SEU CADERNO E PINTE DE VERDE OS ESPAÇOS PÚBLICOS QUE TEM NO SEU BAIRRO.

ESCOLA PÚBLICA	RUAS
CONDOMÍNIO	CINEMA
PARQUE	HOSPITAL PÚBLICO
ESCOLA PARTICULAR	BANCO

FAÇA UM DESENHO NO SEU CADERNO DO SEU ESPAÇO PÚBLICO FAVORITO.

ESCREVA NO SEU CADERNO O NOME DESSE LOCAL:

QUINTA- FEIRA 13/05/21

LEITURA DIÁRIA: CADA UM COM SEU JEITO, CADA JEITO É DE UM! DE LUCIMAR ROSA DIAS

CLIQUE NO LINK E ACESSE A LEITURA:

<https://www.youtube.com/watch?v=cpAGEyaz424>

GEOGRAFIA

MIGRAÇÃO É QUANDO AS PESSOAS SE MUDAM DE UM LOCAL PARA OUTRO E A MIGRAÇÃO INTERNA CORRESPONDE A MUDANÇA DE PESSOAS DENTRO DE UM MESMO TERRITÓRIO, DESSA FORMA PODE SER ENTRE REGIÕES, ESTADOS E MUNICÍPIOS.

VOCÊ JÁ MUDOU DE CIDADE ALGUMA VEZ? SE LEMBRA COMO FOI DIFERENTE QUANDO MIGROU PARA OUTRO LOCAL? ASSISTA AO VIDEO: <https://www.youtube.com/watch?v=gID8PAJnpd0>

COPIE E COMPLETE A FRASE, NO SEU CADERNO, COM AS PALAVRAS ABAIXO:

CAMPO - CIDADE - MIGRANTES - PAIS

1 - AS PESSOAS QUE MUDAM DE CIDADE MAS CONTINUAM NO SEU PAIS SÃO CHAMADAS DE _____. ELAS PODEM MORAR NA _____ OU NO _____. ONDE MORO TEM PESSOAS DE VÁRIAS REGIÕES DO _____.

2 - COM A MIGRAÇÃO AS PESSOAS TRAZEM TAMBÉM SEUS COSTUMES, MODO DE FALAR, CULINÁRIA ENTRE OUTRAS CARACTERÍSTICAS. PESQUISE QUAIS COMIDAS SUA FAMÍLIA MAIS GOSTA DE FAZER E REGISTRE NO SEU CADERNO.

SEXTA-FEIRA – 14/05/21

LEITURA DIÁRIA: ORA, ORA, DESENCANA! QUEM QUER BOLO DE BANANA? DE ANA TERRA

CLIQUE NO LINK E ACESSE A LEITURA:


<http://www.educardpaschoal.org.br/web/files/files/Ora%20Ora%20Desencana%20Quem%20Quer%20Bolo%20de%20Banana.pdf>

CIÊNCIAS


AS PLANTAS VIVEM EM DIFERENTES AMBIENTES. AS **PLANTAS TERRESTRES** VIVEM NA TERRA. AS **PLANTAS AQUÁTICAS** VIVEM NA ÁGUA. AS **PLANTAS AÉREAS** SE PRENDEM AO TRONCO DAS ARVORES.

ASSISTA AO VIDEO: <https://www.youtube.com/watch?v=oOficvwHIBw>


TERRESTRE



AQUÁTICO



AÉREO




FONTE: <https://www.smartkids.com.br/atividade/ambiente-das-plantas-desenhe>

ATIVIDADES

- **RESPONDAS AS ATIVIDADES NO SEU CADERNO:**

1 - NOMEIE AS PARTES DA ÁRVORE COM OS NOMES ABAIXO E ESCREVA NO SEU CADERNO:

RAIZ - CAULE - FOLHAS - FRUTO - FLORES



<https://www.todamateria.com.br/partes-da-planta-kids/>

2 - ALÉM DAS PLANTAS OS ANIMAIS TAMBÉM POSSUEM SEU LAR. ESCREVA O NOME ONDE CADA ANIMAL MORA NO SEU CADERNO.

ÁRVORE - GALINHEIRO - TEIA - TOCA - COLMEIA - NINHO - MAR



PEIXE _____



PÁSSARO _____



ABELHA _____



TATU _____



ARANHA _____



MACACO _____



GALINHA _____

FONTE: <http://blogdatiaanne.blogspot.com/2018/09/os-animais-atividades.html>



Querido aluno, escreva para nós!

E-mail: segundoano.emefsalvador@gmail.com

(no campo "assunto" escreva o nome da sua professora)

REFERÊNCIAS BIBLIOGRÁFICAS

EDITORA MODERNA (ORG.); JOMAA, L. Y. (Editora responsável). **Buriti Mais: Geografia: manual do professor**. 1. ed. São Paulo: Moderna, 2017.

EDITORA MODERNA (ORG.); VASCONCELOS, L. R. de S. (Editora responsável). **Buriti Mais: História: manual do professor**. 1. ed. São Paulo: Moderna, 2017.

EDITORA MODERNA (ORG.); JOMAA, L. Y. (Editora responsável). **Buriti Mais: Ciências: manual do professor**. 1. ed. São Paulo: Moderna, 2017.