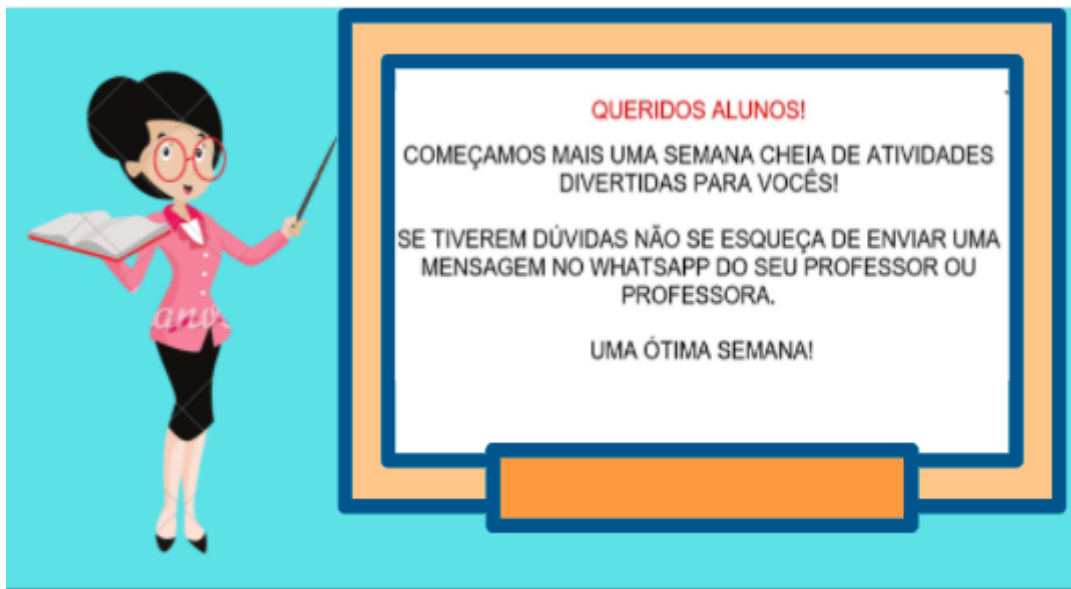


Prefeitura Municipal de Hortolândia
Secretaria de Educação, Ciência e Tecnologia

Unidade Escolar: EMEF Salvador Zacharias Pereira Júnior
Professores: Rejane, Lindsey, Adriana Paula, Elisangela, Sandra e Deyse.
Componente Curricular: Língua Portuguesa, Matemática, História, Geografia e Ciências.
Ano/Turmas: 2º anos A, B, C, D, E, F.
Data para realização das atividades: 14/06 a 18/06/2021



Dia da Semana	Rotina Diária: Descrição das Atividades
Segunda-Feira 14/06/2021	Leitura diária: A nuvem que gargalhava colorido - Autora Profª Dani Covedi – Acesso em 08/06/21 LÍNGUA PORTUGUESA: Ler e interpretar texto/rimas/aumentativo/diminutivo INGLÊS: PETS AND ZOO (Animais de estimação e zoológico) páginas 29 e 31
Terça-feira 15/06/2021	Leitura diária: A história do quadrado Autora: Alexandra Prasinos Bernal – Acesso em 08/06/21 MATEMÁTICA: Sequência numérica/ Noção de adição. EDUCAÇÃO FÍSICA: Dê uma olhadinha no Blog.
Quarta-feira 16/06/2020	Leitura diária: A hora do banho - Autora Maria Lucas – Acesso em 08/06/21 HISTÓRIA: Texto: Nossos documentos/ Atividades. ARTE: Dê uma olhadinha no Blog.
Quinta-feira 17/06/2020	Leitura diária: A casa sonolenta autor: Audrey Wood – Acesso em 08/06/21 GEOGRAFIA: Texto - Os meios de transportes: Leitura e interpretação.
Sexta-feira 18/06/2021	Leitura diária: Bom dia todas as cores - Autora: Ruth Rocha – Acesso em 08/06/21 CIÊNCIAS: “As plantas na alimentação”. Leitura e atividades.

ATENÇÃO

TODOS OS DIAS, ANTES DE COMEÇAR AS ATIVIDADES, VOCÊ DEVERÁ FAZER O CABEÇALHO EM SEU CADERNO, SEGUINDO ESSE MODELO E PREENCHENDO AS INFORMAÇÕES.

EMEF SALVADOR ZACHARIAS PEREIRA JUNIOR.

HORTOLÂNDIA, _____ DE JUNHO DE 2021.

NOME COMPLETO: _____

PROFESSORA: _____

SEGUNDA-FEIRA 14/06/21

LEITURA DIÁRIA: A NUVEM QUE GARGALHA COLORIDO - Autora: Profª Dani Covedi

CLIQUE NO LINK E ACESSE A LEITURA: https://5ca0e999-de9a-47e0-9b77-7e3eeab0592c.usrfiles.com/ugd/5ca0e9_af1a0621e3324245aeb878a8183d1e1c.pdf

LÍNGUA PORTUGUESA

1 – LEIA O TEXTO ABAIXO PARA RESPONDER ÀS QUESTÕES:

A CASINHA DA VOVÓ

A CASINHA DA VOVÓ
CERCADINHA DE CIPÓ
O CAFÉ TÁ DEMORANDO
COM CERTEZA
NÃO TEM PÓ



<http://atividades-imprimir.blogspot.com/2020/08/parlenda-casinha-da-vovo-sequencia.html>

2 – AGORA RESPONDA EM SEU CADERNO AS QUESTÕES A SEGUIR:

A) QUAL É O TÍTULO DO TEXTO?

B) DE QUEM É A CASINHA?

C) COMO É A CASINHA?

D) PORQUE O CAFÉ ESTÁ DEMORANDO?

E) LEIA NOVAMENTE O TEXTO E COPIE SOMENTE AS PALAVRAS QUE RIMAM EM SEU CADERNO:

RIMAS SÃO REPETIÇÕES DE SONS IGUAIS OU PARECIDOS EM UMA OU VÁRIAS SÍLABAS.

--	--	--

F) QUAL DAS PALAVRAS TERMINA COM O MESMO SOM DA SÍLABA FINAL DO DESENHO. COPIE A PALAVRA EM SEU CADERNO:



<http://atividades-imprimir.blogspot.com/2020/08/parlenda-casinha-da-vovo-sequencia.html>

BANANA	CAMINHÃO	GALINHA	MINHOCA
--------	----------	---------	---------

3 – LEIA UM TRECHO DO TEXTO “PALAVRA PUXA A PROSA”, DE TEOBALDO DÉCIO:

“SE A PALAVRA CASARÃO TE APAVORA

É SÓ SUBTRAIR,

CHAMÁ-LA DE CASINHA

QUE O PAVOR VAI EMBORA”

<https://www.slideshare.net/janainasantosazevedo/aumentativo-diminutivo1-1>



<https://drive.google.com/drive/folders/1laalwAojPWjhuAF0eWOiYWDq3DSOWi0C>

QUANDO A PALAVRA É MODIFICADA PARA INDICAR **TAMANHO GRANDE**, DIZEMOS QUE ESTÁ NO **AUMENTATIVO**.

QUANDO A PALAVRA É ALTERADA PARA INDICAR **TAMANHO PEQUENO**, DIZEMOS QUE ESTÁ NO **DIMINUTIVO**.

IMAGEM RETIRADA DO LIVRO APIS LINGUA PORTUGUESA, 2º ANO: ENSINO FUNDAMENTAL, ANOS INICIAIS/ ANA TRICONI, TEREZINHA BERTIN, VERA MARCHEZI- 3º ED. SÃO PAULO: ÁTICA, 2017. PÁGINA 236.

- USANDO AS PALAVRAS EM DESTAQUE, RESPONDA EM SEU CADERNO:

CASARÃO

CASINHA

A) QUANDO A CASA É GRANDE CHAMAMOS ELA DE:

B) QUANDO A CASA É PEQUENA CHAMAMOS ELA DE:


TERÇA-FEIRA 15/06/21

LEITURA DIÁRIA: A HISTÓRIA DO QUADRADINHO AUTORA: ALEXANDRA PRASINOS BERNAL.

CLIQUE NO LINK E ACESSE A LEITURA:
<https://drive.google.com/file/d/1CpFBJCwL9Bduqwudl5EsaQFPjwYKEZGh/view?usp=drivesdk>

MATEMÁTICA

- OBSERVE O EXEMPLO ABAIXO DA RETA NUMÉRICA, ELA ESTÁ AUMENTANDO DE 3 EM 3 OS NÚMEROS:



<https://brainly.com.br/tarefa/12235403>

1- A SEQUÊNCIA NUMÉRICA ABAIXO ESTÁ AUMENTANDO DE TRÊS EM TRÊS, ENTÃO COMPLETE OS NÚMEROS QUE FALTAM EM SEU CADERNO.

A-	3	6				18
B-	33	36				48

• OBSERVE O EXEMPLO ABAIXO DA RETA NUMÉRICA, ELA ESTÁ AUMENTANDO DE 5 EM 5 OS NÚMEROS:



<https://brainly.com.br/tarefa/12235403>







2- A SEQUÊNCIA NUMÉRICA ABAIXO ESTÁ AUMENTANDO DE CINCO EM CINCO, COMPLETE OS NÚMEROS QUE ESTÃO FALTANDO EM SEU CADERNO.

A-	5	10				
B-	40	45				

3- COMPLETE A SEQUÊNCIA NUMÉRICA ABAIXO EM ORDEM DECRESCENTE (DO MAIOR NÚMERO PARA O MENOR NÚMERO) EM SEU CADERNO:

A-	50	45			
B-	25	20			

4- OBSERVE AS FRUTAS DA BARRACA DO SEU JOÃO:

					
MAMÃO	MAÇÃ	ABACAXI	PÊSSEGO	MORANGO	ABACATE
3 REAIS	2 REAIS	4 REAIS	5 REAIS	6 REAIS	5 REAIS

IMAGENS TIRADA DO ÍCONES DO WORD

- AGORA EM SEU CADERNO REALIZE AS ADIÇÕES:

ADIÇÃO	RESULTADO
EXEMPLO: MAMÃO + MORANGO=	3 + 6 = 9 III + IIIII = 9
ABACAXI + MAÇÃ=	
ABACATE + PÊSSEGO=	
MORANGO + ABACATE=	
MAMÃO + ABACAXI=	
PÊSSEGO + MAÇÃ=	

DICA: OBSERVE OS VALORES EMBAIXO DOS DESENHOS DAS FRUTAS E SE PRECISAR FAÇA DESENHOS PARA SOMAR OS VALORES.

QUARTA-FEIRA – 16/06/21

LEITURA DIÁRIA: A HORA DO BANHO - AUTORA: MARIA LUCAS. Acesso em: 02/06/2021.

CLIQUE NO LINK E ACESSE A LEITURA:

<https://drive.google.com/file/d/1ybVYg7ajmUalHyoh8tXSy3YtUalfhfnD/view>

HISTÓRIA

NOSSOS DOCUMENTOS

A CERTIDÃO DE NASCIMENTO É O PRIMEIRO DOCUMENTO QUE DEVEMOS TER, E É UM DIREITO DE TODO CIDADÃO. ELA É IMPORTANTE

PORQUE É UMA FORMA DE COMPROVAR NOSSA EXISTÊNCIA.

OUTRO DOCUMENTO QUE UMA PESSOA DEVE TER É A CARTEIRA DE IDENTIDADE. ELA TEM UM NÚMERO CHAMADO REGISTRO GERAL (RG). CADA PESSOA TEM UM NÚMERO DIFERENTE DE RG.

OUTRAS INFORMAÇÕES IMPORTANTES CONSTAM NESSES DOCUMENTOS, COMO: SEU NOME, SEU SOBRENOME, O NOME DOS SEUS PAIS, O LOCAL E A DATA DO SEU NASCIMENTO.

NO FUTURO, VOCÊ VAI TER OUTROS DOCUMENTOS.

[...]

FONTE: NIGRO, R. G.; SIMIELLI, M. E.; CHARLIER, A. M. **Ápis Interdisciplinar: Ciências, Geografia e História, 2º ano: ensino fundamental, anos iniciais (manual do professor)**. 2. ed. São Paulo: Ática, 2017. p. 17;19.

· **COPIE AS ATIVIDADES EM SEU CADERNO PARA RESPONDER:**

- 1) A FIGURA ABAIXO REPRESENTA UMA CARTEIRA DE IDENTIDADE. COPIE EM SEU CADERNO E DEPOIS PREENCHA A CARTEIRA COM O SEU NOME, SUA FILIAÇÃO (O NOME DOS SEUS PAIS), SUA NATURALIDADE (A CIDADE E O ESTADO ONDE VOCÊ NASCEU) E A DATA DE SEU NASCIMENTO.

VÁLIDA EM TODO O TERRITÓRIO NACIONAL

REGISTRO GERAL XX.XXX.XXX-X DATA DE EXPEDIÇÃO XX.XX.XXXX

NOME _____

FILIAÇÃO _____

NATURALIDADE _____ DATA DE NASCIMENTO _____ / _____ / _____

DOC. ORIGEM XXXXX XXX/XXXX

CPF 000.000.000-00

LEI Nº 7.116 DE 29/08/88

IMAGEM CARTEIRA DE IDENTIDADE RETIRADA DO LIVRO BURITI MAIS HISTÓRIA, PÁGINA 77: EDITORA MODERNA (ORG.); VASCONCELOS, L. R. de S. (Editora responsável). **Buriti Mais: História: manual do professor**. 1. ed. São Paulo: Moderna, 2017.

As atividades 1 e 2 foram retiradas do Livro Buriti Mais História, página 77: EDITORA MODERNA (ORG.); VASCONCELOS, L. R. de S. (Editora responsável). **Buriti Mais: História: manual do professor**. 1. ed. São Paulo: Moderna, 2017.

- 3) DECIFRE O ENIGMA! NESTA ATIVIDADE VOCÊ IRÁ **TROCAR CADA LETRA PELA ANTERIOR**(A QUE VEM ANTES) **NO ALFABETO** E ASSIM DESCOBRIR QUE TODO BRASILEIRO TEM DIREITO A TER:

COPIE O QUADRO ABAIXO EM SEU CADERNO PARA FAZER A ATIVIDADE.

E	P	D	V	N	F	O	U	P	T
D					E				S

QUINTA- FEIRA - 17/06/21

LEITURA DIÁRIA: A casa sonolenta autor: Audrey Wood

CLIQUE NO LINK E ACESSE A LEITURA:

https://drive.google.com/file/d/1646SAc9FvRwg0BDi3uITLPo4Ez_pY-OB/view?usp=drivesdk

GEOGRAFIA

OS MEIOS DE TRANSPORTES

AS PESSOAS PRECISAM SE DESLOCAR DE UM LUGAR PARA OUTRO TODOS OS DIAS PARA TRABALHAR, ESTUDAR, PASSEAR... PARA ISSO UTILIZAM SE VÁRIOS MEIOS DE TRANSPORTES. ESTES LEVAM AS PESSOAS E TAMBÉM AS MERCADORIAS DE UM LUGAR PARA OUTRO.

OS MEIOS DE TRANSPORTES PODEM SER TERRESTRE, AQUÁTICOS OU AÉREOS E SERVEM PARA CARREGAR PESSOAS E MERCADORIAS DE UM LUGAR PARA OUTRO.



AÉREO



TERRESTRE



AQUÁTICO

<https://images.app.goo.gl/ydu7LcZxmXrdurNc9>

<https://images.app.goo.gl/JuydYyboXhSujW6x7>

<https://images.app.goo.gl/P5Vji2HkEmLTH4KC6>

OS MEIOS DE TRANSPORTES TERRESTRES SÃO OS QUE CIRCULAM PELAS RUAS, ESTRADAS E FERROVIAS. COMO EXEMPLOS SÃO OS TRENS, CAMINHÕES, ÔNIBUS, METRÔS, CARROS E BICICLETAS. **OS MEIOS DE TRANSPORTES AQUÁTICOS** SÃO AQUELES QUE TRAFEGAM NAS ÁGUAS DOS RIOS E MARES COMO BARCOS, BALSAS, NAVIOS E CANOAS. E **OS MEIOS DE TRANSPORTES AÉREOS** SÃO AQUELES QUE SE DESLOCAM PELO AR COMO AVIÕES E HELICÓPTERO. ACESSE O LINK ABAIXO E ASSISTA O VÍDEO QUE EXPLICA SOBRE OS MEIOS DE TRANSPORTES:

<https://youtu.be/oEi7COjBrTk>

COM O AUMENTO EXCESSIVO DOS MEIOS DE TRANSPORTE TERRESTRES TEMOS UM GRAVE PROBLEMA COM A POLUIÇÃO DO AR. A FUMAÇA QUE É LIBERADA DOS VEÍCULOS FAZ MAL À SAÚDE DOS SERES VIVOS. ESSA FUMAÇA TÊM VÁRIAS SUBSTÂNCIAS QUE PODEM CAUSAR TOSSE, ALERGIAS E PROBLEMAS DE RESPIRAÇÃO.



<https://images.app.goo.gl/p6DNKEKAxeaVeZap7>

1- ESCREVA ABAIXO NO SEU CADERNO A CARACTERÍSTICA DE CADA MEIO DE TRANSPORTE:

AÉREOS: _____

AQUÁTICOS: _____

TERRESTRES: _____

2) FAÇA O DESENHO DE CADA MEIO DE TRANSPORTE EM SEU CADERNO:

AÉREO	AQUÁTICO	TERRESTRE

3) O QUE A POLUIÇÃO DO AR CAUSADA PELOS VEÍCULOS PODE OCASIONAR NA SAÚDE DAS PESSOAS? RESPONDA EM SEU CADERNO.

SEXTA-FEIRA – 18/06/21

LEITURA DIÁRIA: Bom dia todas as cores AUTORA: Ruth Rocha
CLIQUE NO LINK E ACESSE A LEITURA: <https://www.youtube.com/watch?v=IzD3jfsfOQ4>

AS PLANTAS NA ALIMENTAÇÃO

NÓS UTILIZAMOS MUITAS PLANTAS NA ALIMENTAÇÃO. ELAS FORNECEM NUTRIENTES IMPORTANTES PARA O BOM FUNCIONAMENTO DO NOSSO CORPO.

PODEMOS CONSUMIR DIFERENTES PARTES DAS PLANTAS, COMO RAÍZES, CAULES, FOLHAS, FLORES, FRUTOS E SEMENTES. VEJA ALGUNS EXEMPLOS.



IMAGEM RETIRADA DO LIVRO DIDÁTICO BURITI MAIS CIÊNCIAS DO 2º ANO, PÁGINA 94. EDITORA MODERNA, YAMAMOTO, ANA CAROLINA DE ALMEIDA, 2017 ACESSO EM 01/06/2021

- COPIE AS FRASES NO SEU CADERNO, COMPLETANDO COM A PARTE DA PLANTA QUE É CONSUMIDA COMO ALIMENTO.

CAULE FLORES FOLHAS FRUTO RAÍZES SEMENTES

SWAPPA PHOTOGRAPHY/SHUTTERSTOCK



Do _____
da cana-de-açúcar pode
ser produzido o açúcar.

MONTEBELLO/SHUTTERSTOCK



As _____
da couve-flor são
comestíveis e nutritivas.

OROLIAN/SHUTTERSTOCK



As _____
da alface são usadas
em saladas.

SHUTTERSTOCK



O tomate é o

do tomateiro.

SHUTTERSTOCK



Comemos as

da batata-doce.

YUR SAMSONY/SHUTTERSTOCK



A castanha-do-pará é a

da castanheira.

IMAGEM RETIRADA DO LIVRO DIDÁTICO BURITI MAIS CIÊNCIAS DO 2º ANO, PÁGINA 94. EDITORA MODERNA, YAMAMOTO, ANA CAROLINA DE ALMEIDA, 2017 ACESSO EM 01/06/2021

Querido aluno, escreva para nós!

E mail **segundoano.emefsalvador@gmail.com**

:
(no campo "assunto" escreva o nome da sua professora

REFERÊNCIAS BIBLIOGRÁFICAS

LIVRO DIDÁTICO BURITI MAIS CIÊNCIAS DO 2º ANO, PÁGINA 94 E 95. EDITORA MODERNA, YAMAMOTO, ANA CAROLINA DE ALMEIDA, 2017 ACESSO EM 01/06/2021

EMAI & LER E. ESCREVER. Ensino Fundamental. VOLUME 1 – **2o ANO.** CADERNO DO ALUNO. Disponível em: https://efape.educacao.sp.gov.br/curriculopaulista/wp-content/uploads/sites/7/2020/02/Material-apoio_Aluno_CP_2020_1vol_2EF.pdf Acesso em: 02/06/2021.

MÁRCIO. MATEMÁTICA NA ESCOLA. Disponível em: <https://matematicanaescola.com/habilidade-de-matematica-2o-ano-ef/> Acesso em: 02/06/2021.

EDITORA MODERNA (ORG.); JOMAA, L. Y. (Editora responsável). **Buriti Mais Geografia, 2 ano ensino fundamental, anos iniciais (manual do professor).** 1 ed. São Paulo: Moderna, 2017.

NIGRO, R. G.; SIMIELLI, M. E.; CHARLIER, A. M. **Ápis Interdisciplinar: Ciências, Geografia e História, 2º ano: ensino fundamental, anos iniciais (manual do professor)**. 2. ed. São Paulo: Ática, 2017.

EDITORA MODERNA (ORG.); VASCONCELOS, L. R. de S. (Editora responsável). **Buriti Mais: História: manual do professor**. 1. ed. São Paulo: Moderna, 2017.

VASCONCELOS, A. **Atividades na sala de aula, 2º ano: ensino fundamental - História**. 1. ed. São Paulo: Rideel, 2011. (Coleção atividade na sala de aula).

.IMAGEM RETIRADA DO LIVRO APIS LINGUA PORTUGUESA, 2º ANO: ENSINO FUNDAMENTAL, ANOS INICIAIS/ ANA TRICONI, TEREZINHA BERTIN, VERA MARCHEZI- 3º ED. SÃO PAULO: ÁTICA, 2017. PÁGINA 236.

IMAGEM DA RETA NUMÉRICA, disponível em: <https://brainly.com.br/tarefa/12235403> acesso em : 08/06/21